



HAL
open science

Propulsion par cerf-volant : envol et pérégrinations

Emmanuel Du Pontavice

► **To cite this version:**

Emmanuel Du Pontavice. Propulsion par cerf-volant : envol et pérégrinations. Mécanique des fluides [physics.class-ph]. Université Paris Saclay (COMUE), 2016. Français. NNT : 2016SACLX015 . tel-01476873

HAL Id: tel-01476873

<https://pastel.hal.science/tel-01476873v1>

Submitted on 26 Feb 2017

HAL is a multi-disciplinary open access archive for the deposit and dissemination of scientific research documents, whether they are published or not. The documents may come from teaching and research institutions in France or abroad, or from public or private research centers.

L'archive ouverte pluridisciplinaire **HAL**, est destinée au dépôt et à la diffusion de documents scientifiques de niveau recherche, publiés ou non, émanant des établissements d'enseignement et de recherche français ou étrangers, des laboratoires publics ou privés.

NNT : 2016SACLX015

THESE DE DOCTORAT
DE
L'UNIVERSITE PARIS-SACLAY
PREPAREE A
"L'ECOLE POLYTECHNIQUE"

ECOLE DOCTORALE N° (579)
Sciences mécaniques et énergétiques, matériaux et géosciences

Mécanique des fluides

Par

M. du Pontavice Emmanuel

Propulsion par cerf-volant :
Envol et pérégrinations

Thèse présentée et soutenue à l'École Polytechnique, le 27 avril 2016 :

Composition du Jury :

| | | |
|------------------------|--|-----------------------|
| M. Marc Rabaud | Directeur de recherche à l'Université Paris-Saclay | Président |
| M. Benoit Roman | Directeur de recherche à l'ESPCI | Rapporteur |
| M. François Gallaire | Professeur associé à l'EPFL | Rapporteur |
| Mme. Anette Peko Hosoi | Professeur associé au MIT | Examinatrice |
| M. Christophe Clanet | Directeur de recherche à l'École Polytechnique | Directeur de thèse |
| M. David Quéré | Directeur de recherche à l'ESPCI | Co-directeur de thèse |
| M. Yves Parlier | CEO de Beyond the Sea | Invité |



« Je crois qu'il profita, pour son évasion, d'une migration d'oiseaux sauvages. »

Antoine de Saint-Exupéry

ECOLE POLYTECHNIQUE

Résumé

Doctorat

**Propulsion par cerf-volant:
envol et pérégrinations**

par Emmanuel DU PONTAVICE

Les cerf-volants existent depuis l'Antiquité, mais leur utilisation comme moyen de récupération de l'énergie éolienne est relativement récente. Pourtant, leur légèreté et leur capacité à aller chercher les vents forts et réguliers en altitude en font un dispositif compétitif pour produire de l'électricité ou pour tracter des navires commerciaux. En effet, un cerf-volant peut espérer produire plus de 10 kW.m^{-2} (soit environ 50 fois plus que des panneaux solaires). Cela implique qu'un cerf-volant de 1000 m^2 pourrait apporter une assistance substantielle (typiquement 20 %) à la propulsion des plus gros cargos actuels. Cette thèse s'intéresse à deux problèmes associés au développement de tels cerf-volants :

Comment les faire décoller et atterrir de manière autonome et sans risque de les perdre ? L'utilisation de cerf-volants à structure gonflable donne l'avantage d'avoir une aile rigide et légère en vol et compacte lors de son stockage. Pour aider au dimensionnement de ces cerf-volants, nous étudions dans la première partie de la thèse le comportement des structures gonflables soumis à des chargements statiques et dynamiques.

Comment s'assurer de son vol stable ? Une fois qu'il a décollé, un cerf-volant doit pouvoir rester en l'air. Il apparaît cependant que dans certaines conditions, les cerf-volants entrent dans des oscillations de grandes amplitudes avant de tomber au sol. Grâce à des expériences en soufflerie, nous étudions dans la seconde partie de la thèse l'origine de ces oscillations et les conditions à réunir pour les éviter.

ECOLE POLYTECHNIQUE

Abstract

Doctorat

Kite Propulsion: rise and wander

by Emmanuel DU PONTAVICE

Kites exist since ancient times, but their use as wind energy harvesting device is relatively recent. Still, their light weight and ability to catch strong and steady winds in altitude make them a competitive mean to generate electricity or to tow commercial ships. Indeed, a kite can typically produce 10 kW.m^{-2} (hence about 50 times more than solar pannels). This implies that a 1000 m^2 kite could provide substantial assistance (20 %) to the propulsion of the biggest current tankers. This thesis focuses on two issues associated with the development of such kites :

How can one perform autonomous take off and landing without the risk of losing them ? Kites with inflatable structures take advantage rigidity and lightness during flight and from high compactness during storage. It also allows them to float if they crash on the ocean. To design those kites, we study in the first part of the thesis the behavior of inflatable structures under static and dynamic loadings.

How can one achieve a stable flight ? Once it takes off, it appears that under certain conditions, kites undergo large amplitude oscillations that eventually lead to their fall onto the ground. Using wind tunnel experiments, we examine in the second part of the thesis the origin of these oscillations and the conditions which prevent them from occurring.

Remerciements

Christophe me l'a répété de nombreuses fois, faire une thèse, c'est avant tout apprendre à traverser des tunnels. Et ces tunnels, on ne les traverse pas tout seul, c'est pourquoi j'aimerais remercier tous ceux qui m'ont permis de réussir. J'aimerais, pour commencer, remercier tout le personnel administratif du laboratoire pour leur travail de l'ombre qui rend notre travail plus facile. En particulier, merci à Delphine que j'ai fait tourner en bourrique un certain nombre de fois.

Merci Benoît Roman et François Gallaire d'avoir accepté d'être mes rapporteurs. Vos commentaires sur mon travail m'ont beaucoup touché. Merci Anette Peko Hosoï et Marc Rabaud pour les discussions intéressantes qui ont émergé de la soutenance.

La thèse est un travail personnel qui se fait au sein d'une équipe. La qualité de l'environnement de travail au LadHyX est le résultat des nombreuses interactions entre les doctorants. Merci à tout ceux qui ont rendu cette ambiance possible, que ce soit pour les débats de la salle café, ou les matchs de foot labo. Merci en particulier, Gaetan, pour les nombreux coups de pieds que tu as pu donner dans mes certitudes. Grâce à toi, j'ai gagné un peu d'une humilité qui me manquait cruellement. Merci Eunok pour ta bonne humeur communicative. Tu m'as rappelé que même dans les pires situations, on a toujours intérêt à garder le sourire.

Le fonctionnement de l'équipe de la Compagnie des Interfaces est une des raisons majeures pour lesquelles j'ai choisi cette thèse. Chacun travaille sur son sujet mais suit suffisamment le travail des autres pour être de bon conseil dans les moments de doute. Merci à toute l'équipe pour l'enrichissement que cela apporte à chacun. Merci en particulier, Caro, de m'avoir guidé à mes débuts. Tu as été un modèle tout au long de ma thèse. Ta patience, ta compétence et ton investissement imposent le respect. Merci, Tim, pour les coups de motivex dans mes moments de doute. Merci, Romain, pour tes idées folles qui m'ont permis de décompresser pendant ma longue période de rédaction.

Merci à tout ceux avec qui j'ai fait du sport, mon ballon d'oxygène, donc merci aux grimpeurs : Jérôme, Nico, Gaetan, et aux cyclistes : Jose, Guillaume, Gifi, le raid 2010 et 2011. Merci aux équipiers réguliers de raid (Arnaud, Eric, Quentin) et moins réguliers (Arnaud). Merci à tous les héros du trail : Perrinhood, Fouch, Bobo, Bidz, Babanne...

Merci à ceux qui on donné beaucoup de leur temps pour m'aider dans ce travail. Hanneke, avec toi, mon travail est passé d'un amas informe de données en un travail scientifique abouti. Océane, Pendant près de six mois, tu as relu et corrigé mon manuscrit si souvent ! Ton aide a été déterminante dans cette aventure.

Cette thèse est partie d'une question relativement vague issue d'une discussion entre Yves Parlier et Christophe Clanet. Merci, Yves, de l'avoir posé et de nous avoir fait confiance pour y répondre.

Merci pour toutes les discussions intéressantes qui ont guidé le cheminement de cette thèse et m'ont permis de garder un pied dans la réalité.

Au début de ma troisième année à l'X, il était impensable pour moi de faire un thèse. C'est grâce (à cause ?) aux discussions que j'ai eu avec David et Christophe que j'ai découvert un autre aspect de la recherche, beaucoup moins austère et presque ludique. Cela m'a convaincu de m'orienter vers cette voie. Je vous remercie de m'avoir fait confiance et de m'avoir intégré dans l'équipe.

Christophe, ces années passées à faire de la recherche avec toi et les discussions (animées) m'ont fait mûrir et je t'en remercie.

Merci aux amis qui m'ont soutenu dans les moments difficiles. En particulier à Arnaud, Quentin et Maxime, avec qui j'ai pu partager les moments de doute qui jalonnent le travail de thèse.

Sam, tu as écrit tes remerciements avant moi, donc les miens vont être un peu redondants. On se connaît depuis 25 ans et pendant toutes ces années, on a partagé notre amour pour la science. À force de se poser des questions sur tout, on a fini par aller chercher les réponses nous-même. Ça nous a souvent mené loin et tard, mais ça nous a aidé à nous construire. Merci pour ton amitié.

Je ne pense pas qu'on puisse arriver jusque là sans le soutien de sa famille. Merci, Papa, de m'avoir poussé toutes ces années, d'avoir toujours cru en moi. Merci, Maman, de m'avoir soutenu et de m'avoir aidé devant les barrières qui me paraissaient insurmontables. Merci, Nico, Quentin, Hugues et Alix, notre proximité est une force énorme. J'ai beaucoup de chance d'avoir des frères et sœur comme vous.

Table des matières

| | |
|---|------------|
| Résumé | iii |
| Abstract | iv |
| Acknowledgements | v |
| Contents | vii |
| | |
| Préambule | 1 |
| Introduction | 3 |
| 0.1 La ressource : d'où vient le vent ? | 6 |
| 0.2 Comment récupérer l'énergie éolienne ? | 7 |
| 0.3 Énergie des cerf-volants | 8 |
| 0.4 Puissance d'un navire | 12 |
| 0.5 Comparaison des moyens de propulsion éoliens | 13 |
| 0.5.1 Navire à voile | 13 |
| 0.5.2 Navire à rotor de Flettner | 14 |
| 0.5.3 Navire propulsé par cerf-volant | 15 |
| 0.5.4 Autres moyens de propulsions éoliens | 16 |
| 0.5.5 Récapitulatif des avantages et inconvénients des moyens de propulsion éoliens | 17 |
| 0.6 Sujet de cette étude | 18 |
| 0.6.1 Déploiement d'un cerf-volant | 18 |
| 0.6.2 Vol d'un cerf-volant | 19 |
| | |
| 1 Déploiement d'un cerf-volant | 21 |
| 1.1 Introduction | 21 |
| 1.2 Quelques rappels sur la physique des poutres | 24 |
| 1.2.1 Déformation élastique de la poutre | 24 |
| 1.2.2 Limite de l'élasticité linéaire | 26 |
| 1.2.2.1 Comportement plastique | 26 |
| 1.2.2.2 Comportement fragile | 26 |
| 1.3 Caractérisation des boudins élastiques | 27 |
| 1.3.1 Système étudié | 27 |

| | | |
|-------------|---|-----------|
| 1.3.1.1 | Description des boudins utilisés dans les expériences de flexion | 27 |
| 1.3.1.2 | Dispositifs expérimentaux | 27 |
| 1.3.1.2.1 | Flexion trois points | 28 |
| 1.3.1.2.2 | Poutre encastrée | 28 |
| 1.3.1.2.3 | Protocole | 28 |
| 1.3.2 | Observations qualitatives | 29 |
| 1.3.3 | Étude de l'élasticité linéaire d'une poutre encastrée | 31 |
| 1.3.4 | Étude du seuil de "plasticité" d'une poutre gonflable | 33 |
| 1.3.4.1 | Résultats expérimentaux | 33 |
| 1.3.4.2 | Modélisation | 34 |
| 1.3.4.2.1 | Loi d'échelle | 34 |
| 1.3.4.2.2 | Détermination du coefficient directeur | 34 |
| 1.3.4.2.2.1 | Contraintes faibles | 35 |
| 1.3.4.2.2.2 | Contraintes fortes | 35 |
| 1.3.5 | Bilan sur l'élasticité d'un boudin pressurisé | 37 |
| 1.3.6 | Retour à la question posée | 37 |
| 1.3.6.1 | Condition sur le pli | 38 |
| 1.3.6.2 | Condition sur l'élasticité | 39 |
| 1.3.6.3 | Dimensionnement du boudin principal du cerf-volant | 39 |
| 1.4 | Dynamique du déploiement des boudins sans toile | 41 |
| 1.4.1 | Dispositifs expérimentaux | 41 |
| 1.4.2 | Dynamique d'ouverture d'un boudin dans l'air ($M_{FK} \ll 1$) | 42 |
| 1.4.2.1 | Étude de l'ouverture d'un pli unique | 42 |
| 1.4.2.1.1 | Résultats expérimentaux | 42 |
| 1.4.2.1.2 | Modélisation | 43 |
| 1.4.2.2 | Étude de l'ouverture d'un boudin à plusieurs plis | 44 |
| 1.4.2.2.1 | Résultats expérimentaux | 44 |
| 1.4.2.2.2 | Modélisation | 46 |
| 1.4.3 | Dynamique d'ouverture dans l'eau ($M_{FK} \gg 1$) | 46 |
| 1.4.3.1 | Étude de l'ouverture d'un boudin à pli unique | 47 |
| 1.4.3.1.1 | Résultats expérimentaux | 47 |
| 1.4.3.1.2 | Modélisation | 47 |
| 1.4.3.2 | Étude de l'ouverture d'un boudin à plusieurs plis | 51 |
| 1.4.3.2.1 | Résultats expérimentaux | 51 |
| 1.4.3.2.2 | Modélisation | 52 |
| 1.4.4 | Temps d'ouverture de cerf-volants réels | 53 |
| 1.5 | Déploiement des boudins avec toile | 55 |
| 1.5.1 | Dispositif expérimental | 55 |
| 1.5.2 | Résultats | 56 |
| 1.5.3 | Modélisation de l'effet de la vitesse | 58 |
| 1.5.4 | Dimensionnement | 59 |
| 1.6 | Conclusion sur l'ouverture de structures gonflables appliquée aux grands cerf-volants | 61 |
| 2 | Vol d'un cerf-volant | 63 |
| 2.1 | Introduction | 63 |
| 2.2 | Rappels sur le vol et la stabilité de corps profilés | 66 |
| 2.2.1 | Vol d'une aile | 66 |

| | | |
|---------|--|-----|
| 2.2.1.1 | Circulation | 66 |
| 2.2.1.2 | Relation entre portance et circulation | 66 |
| 2.2.1.3 | Origine de la traînée | 68 |
| 2.2.1.4 | Moment sur une aile et centre de poussée aérodynamique | 69 |
| 2.2.1.5 | Remarque sur les ailes tridimensionnelles | 70 |
| 2.2.2 | Bases d'aéro-élasticité : présentation de quelques instabilités de structures dans un écoulement | 71 |
| 2.2.2.1 | Instabilité statique | 71 |
| 2.2.2.2 | Effet de la vitesse induite : instabilité de galop | 72 |
| 2.2.2.3 | Couplage de modes : instabilité de flottement | 74 |
| 2.3 | Dispositif expérimental | 77 |
| 2.3.1 | Soufflerie | 77 |
| 2.3.1.1 | Ventilateur | 78 |
| 2.3.1.2 | Chambre de tranquillisation | 79 |
| 2.3.1.3 | Convergent | 79 |
| 2.3.1.4 | Calibration | 79 |
| 2.3.2 | Système de mesure | 82 |
| 2.3.2.1 | Capteur de force | 82 |
| 2.3.2.2 | Caméras | 82 |
| 2.3.3 | Cerf-volant | 83 |
| 2.3.3.1 | Aile | 83 |
| 2.3.3.2 | Fixation | 84 |
| 2.4 | Notations et conventions | 86 |
| 2.4.1 | Notations | 86 |
| 2.4.1.1 | Paramètres extérieurs | 86 |
| 2.4.1.2 | Caractéristiques du cerf-volant | 86 |
| 2.4.1.3 | Points particuliers | 86 |
| 2.4.1.4 | Paramètres de pilotage | 87 |
| 2.4.1.5 | Forces | 87 |
| 2.4.1.6 | Paramètres de position | 87 |
| 2.4.2 | Conventions | 87 |
| 2.4.3 | Mesure expérimentale des angles et des longueurs | 90 |
| 2.5 | Expériences préliminaires | 91 |
| 2.5.1 | Vers une définition adaptée de la stabilité | 91 |
| 2.5.1.1 | Incidence négative : $\tau_c \approx c/U_0$ | 91 |
| 2.5.1.2 | Instabilité géométrique : $\tau_c \approx L_a/U_0$ | 91 |
| 2.5.1.3 | Instabilité gravitaire : $\tau_c \approx \sqrt{L_a/g}$ | 92 |
| 2.5.1.4 | Instabilité aérodynamique : $\tau_c \gg L_a/U_0$ | 92 |
| 2.5.1.5 | Vol stable : $\tau_c \rightarrow \infty$ | 93 |
| 2.5.2 | Conditions nécessaires au vol | 94 |
| 2.5.3 | Considérations sur la stabilité du vol | 95 |
| 2.6 | Aérodynamique du cerf-volant | 98 |
| 2.6.1 | Mesure des forces sur le cerf-volant | 98 |
| 2.6.1.1 | Protocole de mesure des forces | 98 |
| 2.6.2 | Modélisation semi-empirique de la force aérodynamique | 100 |
| 2.6.2.1 | Coefficient de traînée | 100 |
| 2.6.2.2 | Coefficient de portance | 100 |

| | | |
|-----------|---|-----|
| 2.7 | Position d'équilibre du cerf-volant | 102 |
| 2.7.1 | Équilibre en grand tangage du cerf-volant | 102 |
| 2.7.1.1 | Étude qualitative de l'équilibre du cerf-volant en grand tangage | 102 |
| 2.7.1.2 | Étude quantitative de l'équilibre du cerf-volant en grand tangage | 103 |
| 2.7.1.2.1 | Notations spécifiques | 103 |
| 2.7.1.2.2 | Résultats expérimentaux | 103 |
| 2.7.1.3 | Modélisation de l'équilibre du cerf-volant en grand tangage . . . | 104 |
| 2.7.1.3.1 | Angle de grand tangage d'équilibre ϕ_{eq} | 104 |
| 2.7.1.3.2 | Position du centre aérodynamique | 107 |
| 2.7.2 | Remarque sur l'équilibre en grand roulis et en lacet du cerf-volant | 110 |
| 2.8 | Perturbation de l'équilibre, modes de vibration et d'amortissement | 111 |
| 2.8.1 | Stabilité du cerf-volant en grand tangage | 111 |
| 2.8.1.1 | Étude qualitative du cerf-volant en grand tangage | 111 |
| 2.8.1.2 | Étude quantitative de la stabilité du cerf-volant en grand tangage | 113 |
| 2.8.1.3 | Modélisation de la stabilité du cerf-volant en grand tangage . . . | 113 |
| 2.8.1.3.1 | Détermination de ω_ϕ | 115 |
| 2.8.1.3.2 | Suspentes parallèles $\Delta x = c$ | 118 |
| 2.8.1.3.3 | Suspentes fixées en un points $\Delta x = 0$ | 119 |
| 2.8.1.3.4 | Suspentes croisées $\Delta x < 0$ | 120 |
| 2.8.1.4 | Remarque sur les vibrations induites par détachement tourbillonnaire | 120 |
| 2.8.1.5 | Conclusion : retour sur le diagramme de stabilité | 121 |
| 2.8.2 | Stabilité en grand roulis | 122 |
| 2.8.2.1 | Observation qualitative des mouvements du cerf-volant en grand roulis | 122 |
| 2.8.2.1.1 | Régime non oscillant | 122 |
| 2.8.2.1.2 | Vol stable | 122 |
| 2.8.2.1.3 | Vol instable | 123 |
| 2.8.2.2 | Étude quantitative des mouvements du cerf-volant en grand roulis | 124 |
| 2.8.2.2.1 | Pas d'oscillation : régime gravitaire | 124 |
| 2.8.2.2.2 | Régime oscillant | 124 |
| 2.8.2.3 | Modélisation | 124 |
| 2.8.2.3.1 | Notations spécifiques | 124 |
| 2.8.2.3.2 | La stabilité via un argument géométrique | 126 |
| 2.8.2.3.3 | Suspentes croisées | 126 |
| 2.8.2.3.4 | $0 < \Delta y \ll s_c$ | 126 |
| 2.8.2.3.5 | $\Delta y \approx s_c$ | 126 |
| 2.8.2.3.6 | $\Delta y > s_c$ | 126 |
| 2.8.2.3.7 | Un peu de calcul | 128 |
| 2.8.2.4 | Conclusion | 130 |
| 2.8.3 | Stabilité en lacet | 130 |
| 2.8.3.1 | Observations qualitatives des oscillations en lacet | 130 |
| 2.8.3.2 | Observations quantitatives des oscillations en lacet | 131 |
| 2.8.3.3 | Modélisation | 131 |
| 2.8.3.4 | Conclusion | 136 |
| 2.9 | Couplage et instabilité | 137 |
| 2.9.1 | Mise en évidence du couplage | 137 |

| | | |
|---|---|------------|
| 2.9.2 | Dispositif expérimental | 137 |
| 2.9.2.1 | Observations qualitatives | 138 |
| 2.9.2.1.1 | $\Delta y \ll \Delta x$ | 138 |
| 2.9.2.1.2 | $\Delta y \approx \Delta x$ | 139 |
| 2.9.2.1.2.1 | Condition initiale -1 | 139 |
| 2.9.2.1.2.2 | Condition initiale 0 | 139 |
| 2.9.2.1.2.3 | Condition initiale 1 | 139 |
| 2.9.2.1.3 | $\Delta y \gg \Delta x$ | 139 |
| 2.9.2.2 | Accrochage de fréquence | 141 |
| 2.9.3 | Explication physique du couplage | 142 |
| 2.9.3.1 | Effet du lacet sur le grand roulis | 142 |
| 2.9.3.2 | Effet du grand roulis sur le lacet | 144 |
| 2.9.4 | Étude du système d'équations | 145 |
| 2.9.4.1 | Condition de stabilité (1) | 148 |
| 2.9.4.2 | Condition de stabilité (2) | 148 |
| 2.9.5 | Conclusion sur le couplage | 150 |
| 2.10 | Conclusion | 151 |
| Conclusion | | 153 |
| 3.1 | Contributions | 153 |
| 3.2 | Perspectives | 155 |
| 3.2.1 | Repliement | 155 |
| 3.2.2 | Vol des multi-kites | 156 |
| A Loi de Betz | | 159 |
| B Membranes fines | | 163 |
| C Justification du modèle à une ligne | | 165 |
| C.1 | Faible variation de l | 166 |
| D Sensibilité de ϕ_{eq} à l_{ar} | | 167 |
| E Remarque sur l'effet de la vitesse relative du cerf-volant | | 169 |
| F Correction de l'envergure | | 173 |
| G Algorithme d'obtention de ω_ψ, ω_χ, γ et δ | | 177 |
| G.1 | Paramètres d'entrée | 177 |
| G.2 | Initialisation | 177 |
| G.3 | Calcul de ω_ψ et δ | 178 |
| G.3.1 | Calcul de la configuration déformée | 178 |
| G.3.2 | Calcul du moment par rapport à Ox et par rapport à Oz | 178 |
| G.4 | Calcul de ω_χ et γ | 178 |
| G.4.1 | Calcul de la configuration déformée | 178 |
| G.4.2 | Calcul du moment par rapport à Ox et par rapport à Oz | 178 |

Bibliographie

181

À Coco...

Préambule

Les cerf-volants, en apparence si simples, nous fascinent par leur magie et leurs performances. Le simple bout de ficelle, tenu dans la main de l'enfant qui le relie à un morceau de tissu volant dans le vent le remplit d'une joie intense. En grandissant il se passionnera pour l'apprentissage du pilotage précis et de la capacité du cerf-volant à développer une force importante susceptible de le tracter ou de le faire décoller. Buggy, kitesurf, snowkite, les sports de glisse ont aujourd'hui apprivoisé ce moteur ultra léger avec grand bonheur, pourvu qu'il y ait un peu de vent. Beaucoup de passionnés géniaux ont développé des cerfs-volants pour ces nouveaux sports et ont mis au point l'équipement qui va autour. La compétition sportive, les compétiteurs et les marques sont aussi les moteurs de l'innovation, de la performance et de la connaissance.

Les cerfs-volants ouvrent, grâce à ces progrès, de nouveaux horizons pour les énergies renouvelables, la traction des navires et bien d'autres applications à découvrir. La recherche au niveau mondial se mobilise aujourd'hui pour mieux les comprendre.

Les cerfs-volants gardent, malgré tout, une grande soif de liberté, répondent aux caprices du vent. Leur structure et leur profil sont souvent déformables et ils alternent entre des phases de très forte traction et d'autres tout en finesse. Cela rend la recherche complexe et passionnante. Les expériences sont difficiles à mener car tributaires du vent qui est, par essence, variable et turbulent.

La démarche expérimentale d'Emmanuel au sein du LadHyX, la mise au point des expériences, l'observation, l'analyse des paramètres et de leur influence pour essayer d'en déduire des équations est passionnante. Pour nous, Beyond the Sea, arriver à reproduire les phénomènes observés sur nos cerfs-volants en soufflerie de laboratoire est important. Leur compréhension nous aide à résoudre les défis technologiques auxquels nous sommes confrontés. Pour tracter un navire avec un cerf-volant, il faut arriver à le déployer dans le vent et aussi à le ramener à bord et le ranger dans son sac. Vu les surfaces importantes et la prise au vent cela nous a amené à faire appel au LadHyX pour réfléchir à l'ouverture des cerf volants de grande taille. A l'inverse pour les petits cerf-volants, savoir auto-stabiliser leur vol est très important pour se dispenser d'un coûteux pilote automatique. Le travail de recherche et la thèse d'Emmanuel, nous apportent des réponses scientifiques à ces deux grandes questions.

Yves Parlier

1 Mars 2016,

Arcachon

Introduction

« L'aventure est dans chaque souffle de vent. »

Charles Lindbergh

C'est en Chine, au cours du 4^e siècle avant JC, que sont apparus les premiers cerf-volants. Certains avaient la forme de créatures effrayantes (figure 1a). On trouve ici l'étymologie du mot cerf-volant : en vieux français, serpent-volant, ou dragon-volant [1]. Leur potentiel de traction a rapidement fasciné les hommes. Avant le premier millénaire, certains cerf-volants étaient capables de soulever un homme [2]. Cette propriété a rapidement été exploitée à des fins militaires d'observation (figure 1b).



(a) Gravure de cerf-volants chinois 1843



(b) Cerf-volant militaire d'observation

FIGURE 1 – Utilisations historiques des cerf-volants

L'utilisation historique la plus célèbre des cerf-volants est sans aucun doute l'expérience de Benjamin Franklin : en 1752, il cherche à démontrer le caractère électrique des éclairs en guidant l'électricité à travers les fils humides d'un cerf-volant vers une bouteille de Leyde [3]. Bien que Franklin affirme avoir réalisé l'expérience, il est peu probable que cela fut réellement le cas [4].



(a) « Charvolants » tractés dans différentes directions par des cerf-volants pour une même direction de vent



(b) Gravure intitulée « A Boat Race » représentant une barque tractée par un train de cerf-volants en course avec un bateau à voile, un bateau à vapeur et un bateau à rames.

FIGURE 2 – Gravures issues du livre *The Aeropleustic Art or Navigation in the Air by the use of Kites, or Buoyant Sails* de Georges Pocock [5]

L'engouement pour les cerf-volants s'est intensifié à la fin du 19^e siècle et l'on peut dire que le cerf-volant est le précurseur du vol des objets plus lourds que l'air. En effet, les profils d'ailes des premiers avions ont d'abord été testés sur des cerf-volants. Par la suite, ils furent utilisés à des fins scientifiques (météorologie) ou à leur fin originelle, leur aspect ludique. Avec le premier choc pétrolier de 1973, le cerf-volant a de nouveau été à l'ordre du jour afin de développer l'énergie éolienne pour produire de l'électricité [6].

Cependant, dès le début du 19^e siècle que l'instituteur et inventeur anglais George Pocock a probablement eu l'utilisation la plus intéressante des cerf-volants. Dans son livre *The Aeropleustic Art or Navigation in the Air by the use of Kites, or Buoyant Sails* [5], il propose d'utiliser des cerf-volants pour tracter des véhicules sur terre (figure 2a) et sur mer (figure 2b). Selon Pocock son invention, le « Charvolant » (comme son nom l'indique un chariot tracté par un cerf-volant), lui aurait permis de parcourir plusieurs centaines de kilomètres à la vitesse phénoménale de 32 km.h⁻¹ (à comparer au cheval sans chariot dont le record du monde pour 160 km est de 5 h 45 min [7], soit une vitesse moyenne de 28 km.h⁻¹, ou à l'homme dont le record pour la même distance est de plus de 11 h 28 min soit une vitesse moyenne de 14 km.h⁻¹). Il est à noter que son invention permet de remonter au vent comme le présente la gravure 2a. Dans son étude, il

mentionne de nombreux problèmes encore d'actualité aujourd'hui : en particulier le stockage, la stabilité, les trains de cerf-volants (plusieurs cerf-volants sur une même ligne) et le contrôle du vol. Ce sont précisément ces problèmes que nous étudions dans cette thèse.

0.1 La ressource : d'où vient le vent ?

Le rayonnement solaire reçu par la terre n'est pas uniforme dans l'espace et dans le temps à cause de l'inclinaison de l'axe de rotation de la Terre et de son orbite autour du soleil. Cette différence de rayonnement se traduit par des différences de pression dues à un déficit de chaleur aux pôles et à un excès à l'équateur. Ce différentiel de pression induit la mise en mouvement des masses d'air afin d'uniformiser la chaleur à la surface du globe. La circulation atmosphérique à grande échelle est définie par 3 grandes cellules de convection par hémisphère. A l'intersection de ces cellules se trouvent des courants jets tels que les Alizées près de l'équateur ou encore le Jet Stream entre l'Amérique du nord et l'Europe [8]. La figure 3 montre une répartition mondiale instantanée des vents à une altitude d'une centaine de mètres. La force du vent varie entre 5 m.s^{-1} et 30 m.s^{-1} . Le vent est plus intense au dessus des océans où il dépasse régulièrement les 10 m.s^{-1} . L'énergie cinétique volumique du vent vaut :

$$e_c = \frac{1}{2} \rho U_0^2, \quad (1)$$

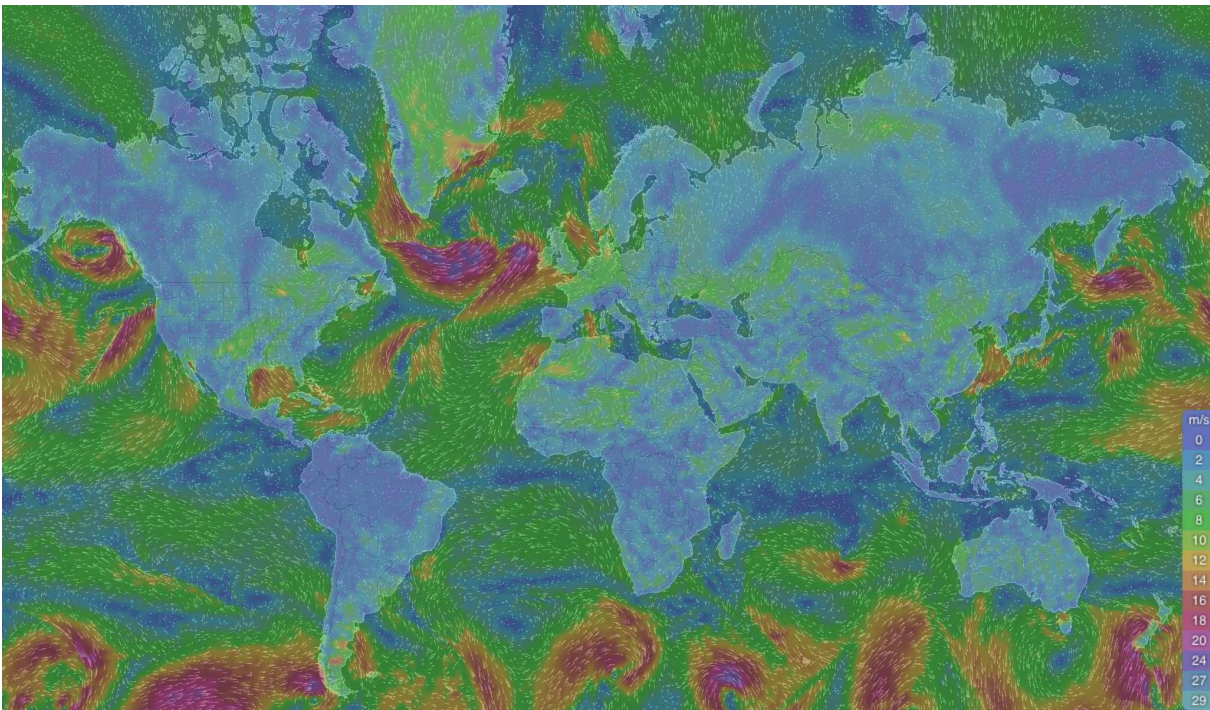


FIGURE 3 – Vent instantané le 04/03/2016 à une altitude approximative de 100 m. Les données sont issues du site collaboratif [9]

soit pour une vitesse de $U_0 = 10 \text{ m.s}^{-1}$, $e_c \approx 50 \text{ J.m}^{-3}$. Cela correspond à une quantité énorme d'énergie. Des études récentes (Archer [10] et [11]) évaluent le potentiel maximal de production d'énergie éolienne mondiale à 70 TW, soit 35 fois la consommation mondiale d'électricité actuelle...

0.2 Comment récupérer l'énergie éolienne ?

Un dispositif de récupération de l'énergie du vent est un appareil qui perturbe l'écoulement du vent sur une surface A . Le flux d'énergie P_A qui passe par cette surface est :

$$P_A = \frac{1}{2} \rho A U_0^3 \quad (2)$$

Il n'est pas possible de récupérer toute cette énergie. En effet, l'énergie est récupérée en ralentissant l'écoulement. Si l'écoulement est entièrement bloqué, le flux de matière devient nul et la puissance diminue. De même si le flux n'est pas assez ralenti, peu d'énergie est récupérée. La loi de Betz, détaillée dans l'annexe A, prédit que la puissance maximale récupérable sur ce flux d'énergie est :

$$P_{Betz} = \frac{16}{27} P_A \approx 0.6 P_A \quad (3)$$

L'efficacité de différents dispositifs est calculée par Gorban [12] et varie beaucoup en fonction de la technologie utilisée. Les éoliennes actuelles de très grande taille permettent de récupérer jusqu'à 80% de cette limite théorique [13].

Les caractéristiques importantes des dispositifs de récupération d'énergie éolienne sont donc leur taille, leur efficacité mais surtout la vitesse du vent qui les traverse, or la vitesse du vent dépend fortement de l'altitude. Une loi empirique est communément utilisée pour approximer la vitesse du vent à une altitude z en connaissant sa vitesse à une altitude z_0 [14] :

$$U(z) = U(z_0) \left(\frac{z}{z_0} \right)^p, \quad (4)$$

où p rend compte de la rugosité du sol et par conséquent de la taille de la couche limite atmosphérique. Il est de l'ordre de 0.1 au dessus de la mer et de 0.14 au dessus des terres [15]. Cette loi donne pour information que le vent augmente avec l'altitude. Donc, en théorie, plus un dispositif de récupération est haut, plus il peut récupérer d'énergie. C'est d'ailleurs un des avantages des cerf-volants qui ne sont limités en altitude que par la masse du câble qui les fixe au sol.

0.3 Énergie des cerf-volants

Plusieurs systèmes existent pour récupérer l'énergie du vent avec des cerf-volants. Le plus simple est d'utiliser, comme Pockock, le cerf-volant pour tracter un véhicule ou dérouler un câble en faisant tourner un générateur [16]. Il est aussi possible d'embarquer directement une turbine sur le cerf-volant qui récupérera l'énergie du vent apparent au cerf-volant [17]. Par souci de simplicité, nous utiliserons ce dernier cas pour illustrer la puissance maximale que l'on peut récupérer avec un cerf-volant.

Considérons un cerf-volant avec les caractéristiques suivantes :

- A_{kite} : Aire du cerf-volant
- c_L : Coefficient de portance du cerf-volant
- c_{D0} : Coefficient de traînée intrinsèque du cerf-volant
- c_{De} : Coefficient de traînée induit par la turbine
- $c_D = c_{D0} + c_{De}$: Coefficient de traînée total du cerf-volant
- $c_N = \sqrt{c_L^2 + (c_{D0} + c_{De})^2}$: Coefficient de force total du cerf-volant

L'écoulement que ressent le cerf-volant, appelé vent apparent et noté \mathbf{U}_a , est la somme du vent réel, noté \mathbf{U}_r , et du vent vitesse, noté \mathbf{U}_v opposé à la vitesse du cerf-volant, notée \mathbf{U}_k , soit $\mathbf{U}_v = -\mathbf{U}_k$ (voir schéma 4). Le cerf-volant est soumis à la force aérodynamique F qui est la somme de la force de traînée parallèle au vent apparent F_D et de la force de portance perpendiculaire au vent apparent F_L .

$$\begin{aligned}
 F_D &= \frac{1}{2} \rho c_D A_{kite} U_a^2 \\
 F_L &= \frac{1}{2} \rho c_L A_{kite} U_a^2 \\
 F &= \sqrt{F_L^2 + F_D^2} = \frac{1}{2} \rho c_N A_{kite} U_a^2
 \end{aligned} \tag{5}$$

Le cerf-volant est en rotation autour de son point d'attache. Lorsqu'il se déplace à une vitesse constante, la force aérodynamique est parallèle à la tension dans la suspente. La force aérodynamique est donc perpendiculaire au vent vitesse du cerf-volant soit :

$$\mathbf{F} \cdot \mathbf{U}_k = 0 \tag{6}$$

En développant la force et la vitesse on obtient :

$$(\mathbf{F}_L + \mathbf{F}_D) \cdot (\mathbf{U}_r - \mathbf{U}_a) = 0 \tag{7}$$

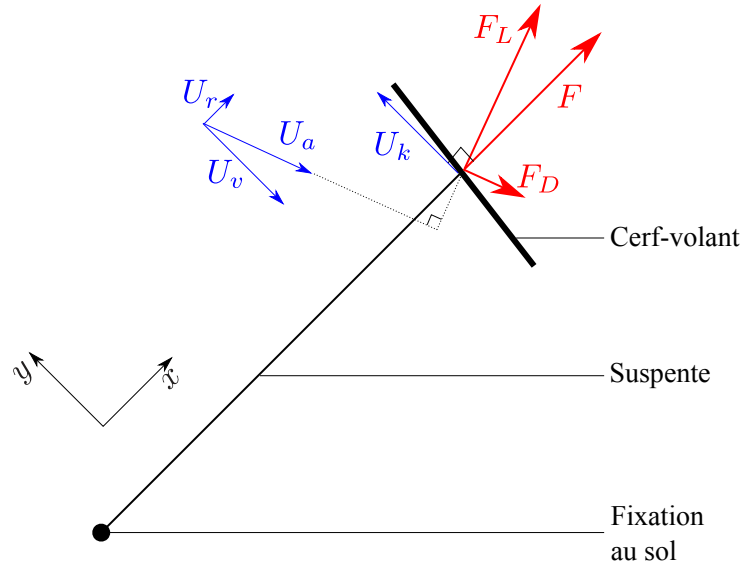


FIGURE 4 – Schéma présentant les forces aérodynamiques ressenties par le cerf-volant en vol parallèle au sol. Le cerf-volant vole à une vitesse $\mathbf{U}_k = -\mathbf{U}_v$ dans un vent \mathbf{U}_r et ressent un vent $\mathbf{U}_a = \mathbf{U}_r - \mathbf{U}_k$

puis :

$$\mathbf{F} \cdot \mathbf{U}_r - (\mathbf{F}_L + \mathbf{F}_D) \cdot \mathbf{U}_a = 0 \quad (8)$$

or la force de portance est perpendiculaire au vent apparent ($\mathbf{F}_L \cdot \mathbf{U}_a = 0$) donc :

$$\text{puissance fournie} = \mathbf{F} \cdot \mathbf{U}_r = \mathbf{F}_D \cdot \mathbf{U}_a = \text{puissance dissipée} \quad (9)$$

La puissance dissipée est maximale quand le produit $\mathbf{F} \cdot \mathbf{U}_r$ est maximal. Pour une vitesse de vent U_r donnée, ce produit est maximal quand \mathbf{F} et \mathbf{U}_r sont parallèles, soit quand \mathbf{U}_r est perpendiculaire au déplacement. Dans ce cas :

$$\frac{1}{2} \rho A_{kite} U_a^2 (c_D U_a - c_N U_r) = 0 \quad (10)$$

La vitesse relative du cerf-volant est donc :

$$U_a = \frac{c_N}{c_D} U_r \quad (11)$$

Cela veut dire qu'une aile rigide performante peut atteindre entre 20 et 40 fois la vitesse du vent. La puissance récupérée dans la turbine vaut :

$$P_u = \frac{1}{2} \rho A_{kite} U_a^3 c_{De} \quad (12)$$

Soit :

$$P_u = \frac{1}{2} \rho A_{kite} U_r^3 c_{De} \left(\frac{c_N}{c_D} \right)^3. \quad (13)$$

Si on note :

$$x = \frac{c_{De}}{c_{D0}}, \quad (14)$$

la puissance s'écrit :

$$P_u = \frac{1}{2} \rho A_{kite} c_{D0} U_r^3 x \left(\frac{\sqrt{\left(\frac{c_L}{c_{D0}} \right)^2 + (1+x)^2}}{1+x} \right)^3. \quad (15)$$

Si la portance est grande devant la traînée ($c_L \gg c_D$), cette expression se simplifie en :

$$P_u \approx \frac{1}{2} \rho A_{kite} U_r^3 c_L \left(\frac{c_L}{c_{D0}} \right)^2 \frac{x}{(1+x)^3}. \quad (16)$$

Cette valeur est maximale quand $x = 1/2$, soit quand l'énergie récupérée par la turbine vaut la moitié de l'énergie dissipée par la traînée intrinsèque du cerf-volant. Le rendement ζ vaut alors :

$$\zeta_{max} = \frac{P_u}{\frac{1}{2} \rho A_{kite} U_r^3} = \frac{4}{27} c_L \left(\frac{c_L}{c_{D0}} \right)^2. \quad (17)$$

Pour $c_L \approx 1$ et $c_D \approx 0.1$ on obtient :

$$\zeta_{max} \approx 15. \quad (18)$$

La meilleure efficacité obtenue expérimentalement est de $\zeta = 8$ par la start-up Makani-Power [17]. Ce rendement largement supérieur à 1 peut apparaître surprenant, mais il n'est pas en contradiction avec la limite de Betz. En effet, l'aire prise en compte dans le calcul de ce rendement est celle du cerf-volant. Pour la limite de Betz, l'aire prise en compte est l'aire balayée par le cerf-volant. Si le cerf-volant parcourt une trajectoire circulaire dont le rayon vaut une dizaine de

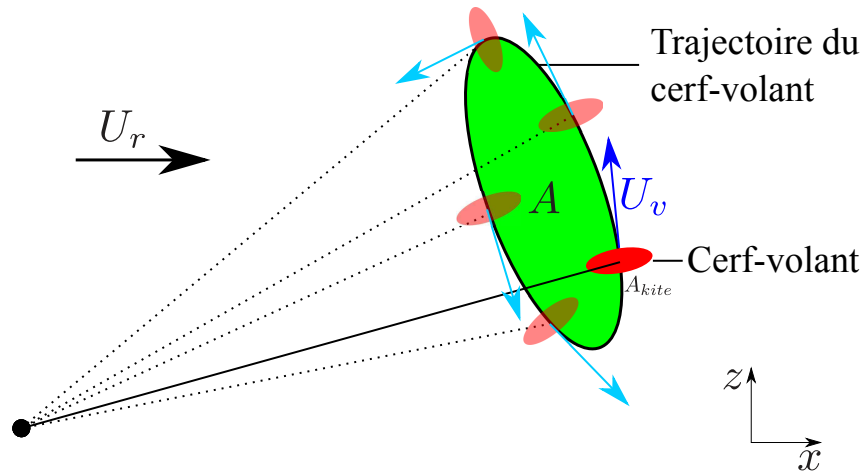


FIGURE 5 – Schéma de la trajectoire de vol du cerf-volant. L'aire du cerf-volant A_{kite} est beaucoup plus faible que l'aire couverte par la trajectoire A considérée dans la loi de Betz

fois son envergure (illustré figure 5), le rendement sera divisé par un facteur 1000 environ, soit une récupération de 1.5% de l'énergie de la zone balayée, bien en dessous de la limite de Betz... Cela pousse à une utilisation des cerf-volants dans un cadre où l'espace n'est pas un problème tel que l'océan.

0.4 Puissance d'un navire

Celui qui n'a pas d'objectif ne risque pas de les atteindre.

Sun Tzu

Notre objectif est d'utiliser le vent pour assister à la propulsion des navires. Il est donc important d'avoir un ordre de grandeur de la puissance des moteurs de différents types de navires. Dans le tableau 1, nous donnons les principales caractéristiques de différents navires. Le Emma Maersk est un des plus gros porte-containers du monde. Le Federal Hudson est un vraquier de taille moyenne et le Miraceti est un chalutier de taille moyenne.

| Navire | Emma Maersk [18] | Federal Hudson [19] | Miraceti [20] |
|---------------------------------------|------------------|---------------------|-----------------|
| Type | Porte-conteneurs | Vraquier | Chalutier |
| Longueur (m) | 400 | 200 | 25 |
| Puissance moteur (MW) | 80 | 8 | 0.5 |
| Trajet [21] | Europe-Chine | Canada-Europe | Atlantique nord |
| Vent moyen (m.s^{-1}) [22] | 5 | 10 | 10 |
| Vitesse (m.s^{-1}) [23] | 8 | 6 | 4 |

TABLE 1 – Caractéristiques de quelques navires.

La puissance moteur des navires de grande taille est de l'ordre 10 MW, c'est sur cette valeur que nous nous basons pour comparer les moyens de propulsion éoliens.

0.5 Comparaison des moyens de propulsion éoliens

Il existe plusieurs moyens pour propulser un navire à l'aide du vent qui ont chacun leurs avantages et leurs inconvénients. Nous allons en détailler trois : les voiles (figure 6a), les rotors de Flettner (figure 6b) et les cerf-volants (figure 6c).



(a) Peinture du clipper *Salamis* toutes voiles dehors par Allan C. Green (1927) (b) Photographie du navire E-ship 1 propulsé par des rotors de Flettner (c) Photographie d'un catamaran tracté par un cerf-volant

FIGURE 6 – Différents modes de propulsion éoliens

Pour chacun des systèmes, nous donnerons les dimensions d'un système capable de fournir 10 MW soit un peu plus de 10% de la puissance d'un gros porte-conteneur pour des conditions où le vent apparent est à la perpendiculaire du navire avec une vitesse $U_a = 10 \text{ m.s}^{-1}$. Le navire se déplace à une vitesse de $U_b = 10 \text{ m.s}^{-1}$.

0.5.1 Navire à voile

Le plus classique des moyens de propulsion éoliens est la voile. Il est utilisé depuis l'antiquité et est encore développé et amélioré aujourd'hui (Coupe de l'America, Sailrocket, etc... []). Le principe est d'installer une aile (souple ou rigide) à la verticale sur le bateau et d'utiliser la portance créée par le vent apparent pour se propulser (voir schéma 7a).

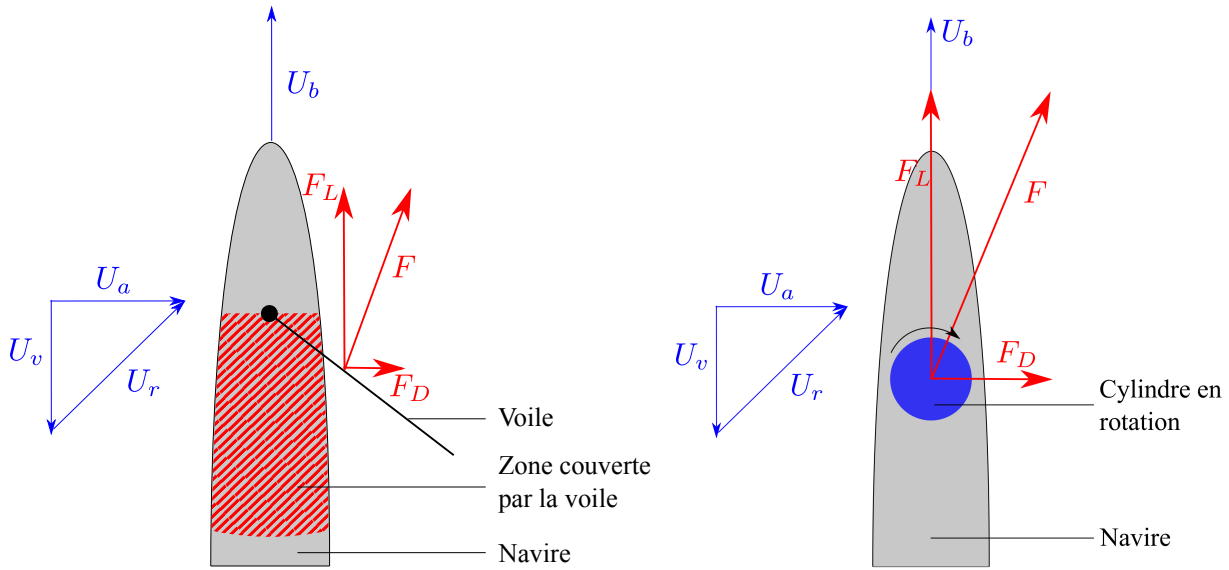
Le coefficient de portance d'une voile est de l'ordre de 1. La force de portance est dans l'axe du mouvement et la puissance fournie par la voile est :

$$P_{voile} = F_L \cdot U_v \quad (19)$$

La surface de voile A_{voile} nécessaire pour obtenir une puissance de 10 MW est :

$$A_{voile} = \frac{2P_{voile}}{\rho C_L U_a^2 U_v} \approx 2.10^4 \text{ m}^2 \quad (20)$$

Sur un bateau, la place réservée à la voile est d'autant plus grande que celle-ci doit pouvoir tourner autour du mât afin de s'adapter à la direction du vent (voir schéma 7a). Si on limite la



(a) Schéma du fonctionnement de la propulsion par une voile. La zone hachurée représente la partie du pont du navire inutilisable à cause du passage de la voile
 (b) Schéma du fonctionnement d'un bateau à rotor de Flettner

FIGURE 7 – Schémas de moyens de propulsion éoliens fixés sur le pont des navires.

taille des mâts à 100 m, il faudrait 5 voiles de 40 m de large. Cela veut dire 5 zones de 40 m de rayon inutilisables sur le pont du navire, soit l'intégralité du pont d'un pétrolier de 400 m de long. Cette application n'est donc pas envisageable pour des navires de type porte-conteneur. De plus, le cas étudié ici est proche d'une configuration optimale : la force aérodynamique est quasiment parallèle au déplacement. Dans le cas général, en particulier au près, la force aérodynamique peut avoir une composante perpendiculaire au déplacement importante, ce qui peut affecter la stabilité latérale du navire.

0.5.2 Navire à rotor de Flettner

La portance d'une voile est donnée comme pour une aile par la circulation créée par son profil élancé. En faisant tourner un cylindre, on crée aussi une circulation autour. Si ce cylindre tournant est placé dans un écoulement, cette circulation induit une portance dans la direction perpendiculaire au vent apparent. C'est ce qu'on appelle l'effet Magnus. La force de portance générée par un cylindre en rotation de hauteur L , de rayon R et de vitesse de rotation ω vaut [24] :

$$F_L = \rho(2\pi R^2\omega)LU_a \quad (21)$$

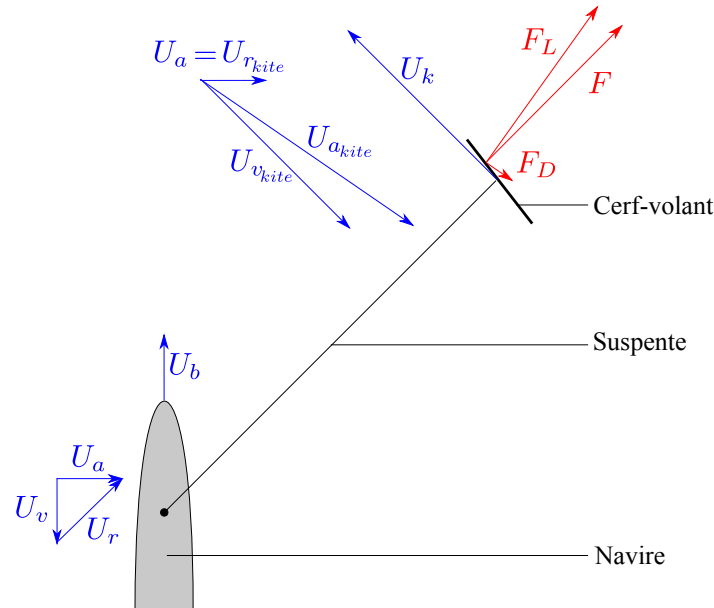


FIGURE 8 – Schéma du fonctionnement d'un bateau tracté par un cerf-volant. Le vent apparent ressenti par le cerf-volant $\mathbf{U}_{a_{kite}}$ est calculé à partir de son vent réel $\mathbf{U}_{r_{kite}}$ et de son vent vitesse $\mathbf{U}_{v_{kite}}$. Son vent réel est en fait le vent apparent pour le bateau $\mathbf{U}_{r_{kite}} = \mathbf{U}_a$.

Il est possible d'utiliser ce principe pour fabriquer un dispositif de propulsion navale [25] [26]. Ce système est appelé rotor de Flettner. Le schéma du fonctionnement du système est donné dans la figure 7b. La puissance récupérée est $P_{flettner} = F_L \cdot U_v$ soit :

$$P_{flettner} = \rho(2\pi R^2 \omega) L U_a \cdot U_v \quad (22)$$

Pour obtenir une puissance de 10 MW, il est possible de positionner 4 rotors de la même manière que sur le navire E-Ship 1 (figure 6b). Des rotors de 100 m de haut et de 5 m de rayon doivent tourner à une vitesse d'environ $2 \text{ rad} \cdot \text{s}^{-1}$. En se basant sur les données fournies par Enercon sur les performances d'E-Ship 1 [27], nous pouvons estimer la puissance nécessaire à faire tourner les rotors à 10% de la puissance produite, soit environ 1 MW. Un tel dispositif est moins encombrant qu'une voile sur le navire. Il nécessite par contre de mettre en place des moteurs supplémentaires. Comme pour le cas des voiles, la force aérodynamique n'est en général pas parallèle au déplacement, ce qui peut avoir un impact important sur la stabilité latérale du navire.

0.5.3 Navire propulsé par cerf-volant

Pour tracter un navire avec un cerf-volant, on utilise le principe du schéma 8.

Prenons l'exemple d'un cerf-volant dont l'efficacité est de l'ordre de $\zeta = 5$. Cette valeur est plus faible que l'efficacité de $\zeta = 8$ obtenue par Makani, mais pour l'utilisation sur des bateaux, nous nous orienterions vers des cerf-volants souples qui ont une finesse plus faible. Pour obtenir une puissance de 10 MW, la surface du cerf-volant doit être de l'ordre de :

$$A_{kite} = \frac{2P_{kite}}{\rho\zeta U_a^3} \approx 4.10^3 m^2 \quad (23)$$

Le cerf-volant nécessaire devrait faire entre 100 m et 200 m d'envergure (de l'ordre de deux Airbus A380). Un tel cerf-volant pèserait plusieurs tonnes! Son déploiement et son décollage sont un problème que nous allons traiter dans le deuxième chapitre de cette thèse. Les deux principaux avantages de ce système par rapport à des voiles ou des rotors de Flettner sont liés. Le cerf-volant est relié au pont du navire directement. Ainsi, il ne nécessite pas de structure de grande taille qui occuperait de l'espace de stockage. De plus, le fait que le point d'attache soit aussi bas fait que le couple exercé sur le bateau est relativement faible. Un cerf-volant aura beaucoup moins d'effet sur le roulis que les deux autres systèmes. Notons que pour atteindre 25% de la puissance d'un chalutier, une voile de 40 m² (soit environ deux fois la taille d'une grande voile de kitesurf) suffirait.

Il faut noter que ce calcul sous estime l'efficacité du cerf-volant. En effet, il peut voler largement au dessus de la hauteur des mâts d'un bateau. Le vent qu'il percevra sera donc plus fort d'environ 20% pour un vol à 300 m par rapport à un mât de 100 m, soit une puissance augmentée de 60%.

0.5.4 Autres moyens de propulsions éoliens

D'autres moyens de propulsion éoliens existent. Il s'agit en général de moyens indirects : le dispositif est une éolienne qui récupère de l'énergie et la transmet à une hélice dans l'eau ou, dans le cas d'un dispositif terrestre, directement aux roues. Ces moyens de propulsions ont comme avantage la capacité d'avancer face au vent. Certains peuvent même aller plus vite que le vent avec le vent dans le dos ([28], [29]).

0.5.5 Récapitulatif des avantages et inconvénients des moyens de propulsion éoliens

| | Avantages | Inconvénients |
|-------------------|---|--|
| Voile | <ul style="list-style-type: none"> — Ne risque pas de tomber à l'eau — Risque de cassure du mât | <ul style="list-style-type: none"> — Couple de retournement important — Encombrement important — Complexité de réglage — Fragilité |
| Rotor de Flettner | <ul style="list-style-type: none"> — Simplicité de réglage — Ne risque pas de tomber à l'eau | <ul style="list-style-type: none"> — Couple de retournement important — Encombrement important — Mécanique compliquée |
| Cerf-volant | <ul style="list-style-type: none"> — Couple de retournement faible — Encombrement faible | <ul style="list-style-type: none"> — Complexité de réglage — Complexité du décollage et du repliement — Complexité du pilotage automatique |


TABLE 2 – Avantages et inconvénients des dispositifs de propulsion éoliens

0.6 Sujet de cette étude


Les cerf-volants permettant de tracter des navires de très grande taille (typiquement 300 m) devront avoir une envergure de plus de 100 m. Cela pose plusieurs problèmes techniques importants : une structure de cette taille doit pouvoir se déployer de manière fiable et autonome. De plus, une chute à la mer d'un cerf-volant de cette taille rendrait sa récupération presque impossible, la question de la stabilité du vol est donc capitale. C'est sur ces deux points que nous avons concentré notre étude après plusieurs échanges avec Yves Parlier.

0.6.1 Déploiement d'un cerf-volant


La récupération d'énergie par cerf-volant peut se faire à partir de trois principaux types de cerf-volants : des ailes rigides comme le projet de cerf-volants sous marins Deep Green [30] (figure 9a), des ailes à caissons comme le projet de traction de cargos de Skysails [31] (figure 9b) et des ailes à structure gonflable comme la majorité des cerf-volants sportifs (figure 9c).



(a) Aile de cerf-volant sous-marine rigide utilisée pour le projet Deep Green.



(b) Aile de cerf-volant à caissons Skysails sur le cargo Beluga Skysails.



(c) Aile gonflable Beyond the Sea de 50 m² utilisée pour tracter un chalutier

FIGURE 9 – Trois types de structures de cerf-volants

Chacun de ces systèmes a ses avantages. Le système d'ailes rigides est le plus efficace car l'aile peut avoir une finesse très élevée et donc atteindre des vitesses très importantes (équation 11). Pour le projet Deep Green, l'aile se déplace jusqu'à dix fois plus vite que l'écoulement auquel elle est soumise malgré le système de récupération d'énergie embarqué. Ce dispositif n'est cependant pas compatible avec l'utilisation que nous voulons en faire car difficile à faire décoller et à stocker. Le système d'ailes à caissons utilisé par Skysails a comme avantage d'avoir lui aussi une bonne finesse mais il est compliqué à faire décoller car il n'a de rigidité que grâce à l'écoulement. De plus, il ne flotte pas et est donc très compliqué à récupérer en cas de chute à la mer. C'est principalement pour cette contrainte de flottabilité que nous nous orientons vers des cerf-volants à structure gonflable. Les boudins de la structure gonflable permettent au cerf-volant de flotter et surtout de se déployer sans l'aide du vent. Pour permettre le déploiement, on peut mettre en place le dispositif présenté dans la figure 10. Le cerf-volant est attaché à un mât en hauteur et

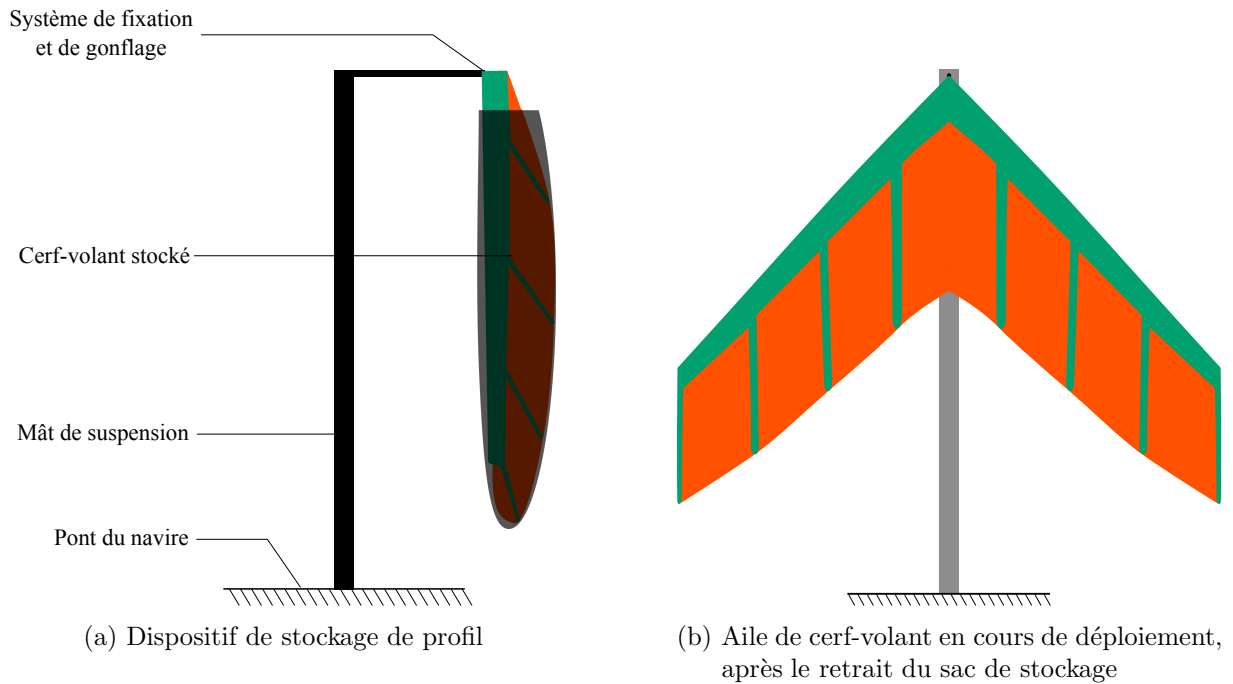


FIGURE 10 – Schéma du dispositif permettant le stockage et le décollage du cerf-volant sur le navire

maintenu dans son sac de stockage. Pour le déployer, on injecte de l'air sous pression dans la structure gonflable et l'on retire le sac de stockage. Le chapitre 2 présente l'étude de l'ouverture d'un cerf-volant muni d'une telle structure gonflable.

0.6.2 Vol d'un cerf-volant

Dans le cas d'un dispositif de récupération d'énergie à terre, la chute d'un cerf-volant de grande taille peut être dangereux. La question de la sécurité est une des principales raisons pour lesquelles les dispositifs de récupération d'énergie par cerf-volant ne se sont pas encore beaucoup développés [32]. De même, si un cerf-volant s'abîme en mer, il est quasiment impossible de le récupérer.

Ces grands cerf-volants sont bien sûr pilotés. Cependant, il est nécessaire de bien comprendre les éventuelles instabilités de vol dont ils font l'objet afin de bien dimensionner le pilote automatique. Pour des raisons de contrôle [33], il est aussi important que le pilote automatique ait un temps de réponse sensiblement plus court que le temps de développement des instabilités de vol.

Le domaine des grands cerf-volants de traction n'est pas le seul à être intéressé par la stabilité de traction. Le marché pour des cerf-volants de traction de sécurité pour la plaisance est aussi en développement. Il s'agit d'installer des cerf-volants performants, sans pilote automatique, comme moteur d'appoint en cas de panne d'un bateau à moteur (ou simplement pour économiser



(a) Chalutier tracté par une voile Omega Sails



(b) Cerf volant utilisé par Lalou Roucayrol et Yves Parlier pour tracter le Class 50 « Arkema Région Aquitaine » ayant dématé entre Madère et les Canaries en 2014



(c) Cerf-volant autostable en cours de développement par Beyond the Sea

FIGURE 11 – Exemples de cerf-volants autostables

le carburant). Aujourd'hui la marque Omega Sails [34] vend un dispositif proche du parachute (figure 11a) qui ne permet pas de remonter au vent. Nous envisageons d'utiliser des cerf-volants plus performants, proches de ceux utilisés en kitesurf. Les figures 11b et 11c montrent deux prototypes de ces cerf-volants autostables performants développés par Beyond the Sea. Ces cerf-volants oscillent naturellement plus que les formes de parachutes. Notre étude visera à a comprendre ces oscillations et à déterminer les situations dans lesquelles ces oscillations mènent à une chute du cerf-volant. Une bonne compréhension de ces oscillations nous permettra de mettre en place des cerf-volants plus performants qui gardent leur propriété d'autostabilité.

Chapitre 1

Déploiement d'un cerf-volant

« Seul l'arbre qui a subi les assauts du vent est vraiment vigoureux, car c'est dans cette lutte que ses racines, mises à l'épreuve, se fortifient. »

Sénèque

1.1 Introduction

Les structures gonflables sont utilisées dans des domaines variés en raison de leur très bon rapport rigidité/poids ainsi que de leur faible encombrement lorsqu'elles sont dégonflées. On les utilise lorsque des structures doivent être à la fois rigides et flottantes comme les canots de sauvetage (figure 1.1a). Elles sont aussi utilisées pour mettre en place rapidement des bâtiments temporaires et légers (figure 1.1b). Les nombreuses études portant sur les structures gonflables se sont majoritairement concentrées sur leur utilisation en aérospatiale. L'étude de W.B. Fitcher [35] est menée à la NASA dans le but d'utiliser ces structures gonflables pour déployer des satellites. Dans cette situation, la masse et l'encombrement de la structure sont des facteurs capitaux. Cette étude continue aujourd'hui avec le projet IAE [36] (Inflatable Antenna Experiment) qui vise à déployer dans l'espace de grandes antennes (24 m de long et 14 m de diamètre) légères, à faible encombrement initial (figure 1.1c). Dans ce contexte, R.L. Comer est le premier à étudier les poutres gonflables et à développer une théorie sur le comportement « plastique » des boudins [37].

L'utilisation de dispositifs gonflables pliés permet de minimiser l'encombrement pour leur stockage mais introduit le problème de leur déploiement. Dans certains cas, comme les airbags ou les parachutes, une ouverture rapide est nécessaire. De façon générale, l'ouverture de structures gonflables est contrôlée par un équilibre entre un mécanisme « moteur » et un « frein ». Le



(a) Bateau à structure gonflable (b) Batiment à structure gonflable (c) Antenne spatiale gonflable

FIGURE 1.1 – Différentes structures gonflables

moteur de l'ouverture est la réserve d'énergie qui permet d'ouvrir la structure et le frein est la forme d'énergie dans laquelle l'énergie du moteur est transférée. L'énergie « motrice » est soit interne (plis) soit externe (écoulement). L'importance relative de ces deux moteurs est donnée par un nombre de Cauchy $C_y = \frac{W_{\text{ecoulement}}}{\mathcal{E}_{\text{pli}}}$ qui est le rapport entre le travail des forces hydrodynamiques dues à l'écoulement ($W_{\text{ecoulement}}$) lors de l'ouverture de la structure et l'énergie motrice la structure pliée (\mathcal{E}_{pli}). Lors de l'ouverture, la structure acquiert une vitesse. Une partie de l'énergie stockée dans le pli est donc transférée sous forme d'énergie cinétique. Lorsque la structure s'ouvre dans un fluide, elle le perturbe et lui transmet aussi de l'énergie cinétique. La vitesse caractéristique de la structure et du fluide environnant étant liées, le rapport entre l'énergie cinétique donnée à la structure et l'énergie cinétique donnée au fluide est simplement le rapport entre la masse du fluide perturbé et la masse de la structure. Ce rapport est donné par le nombre $M_{FK} = \frac{m_{\text{fluide}}}{m_{\text{kite}}}$. Les deux nombres adimensionnés C_y et M_{FK} définissent l'espace des phases de l'ouverture présenté sur la figure 1.2. Différentes zones apparaissent. Nous allons les décrire et les étudier. Les photos sont des exemples de systèmes qui s'ouvrent dans différentes gammes de M_{FK} et C_y . L'antenne spatiale se déploie pour $M_{FK} \approx 0$ et $C_y \approx 0$. Un airbag se déploie avec $M_{FK} \approx 1$ et $C_y \approx 10^6$. Un parachute se déploie avec $M_{FK} \approx 10^2$ et $C_y \approx 10^7$

Dans cette partie, nous étudions la dynamique d'ouverture de structures gonflables avec ou sans écoulement de façon à placer les cerf-volants dans cet espace des phases. Dans un premier temps, nous caractérisons le comportement statique de boudins gonflables (section 1.3). Cette étude est nécessaire pour avoir accès à la quantité d'énergie stockée dans les plis de la structure gonflable. Cette quantité nous permettra de déterminer le nombre de Cauchy de l'ouverture d'un cerf-volant. Ensuite, afin de comprendre le mécanisme d'ouverture sans écoulement extérieur, nous nous plaçons dans le cas d'un nombre de Cauchy nul et nous faisons varier le nombre de masse en changeant le fluide dans lequel à lieu l'ouverture des boudins gonflables (section 1.4). Enfin, nous étudions l'ouverture de structures de différentes élasticités, à fort nombre de masse, dans un écoulement pour comprendre le mécanisme d'ouverture d'un cerf-volant dans des conditions proches de la réalité (section 1.5). Nous revenons enfin au diagramme de la figure 1.2 dans la section 1.6.

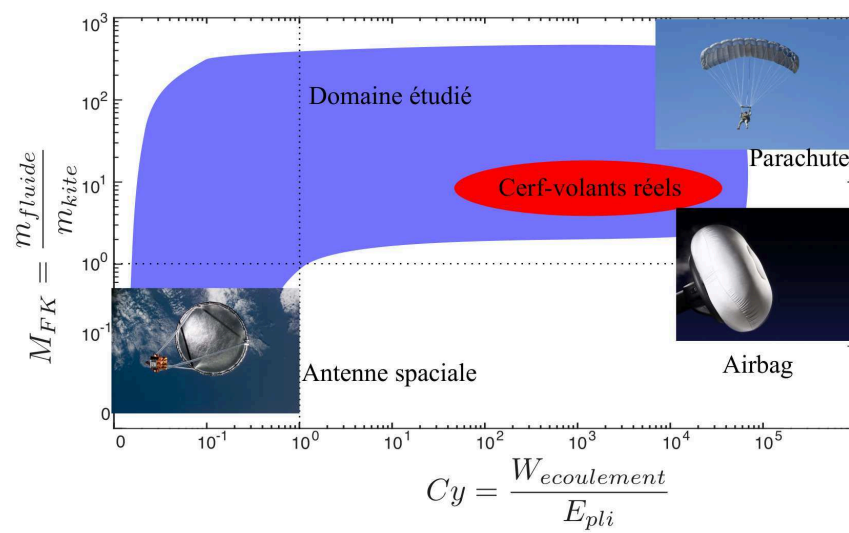


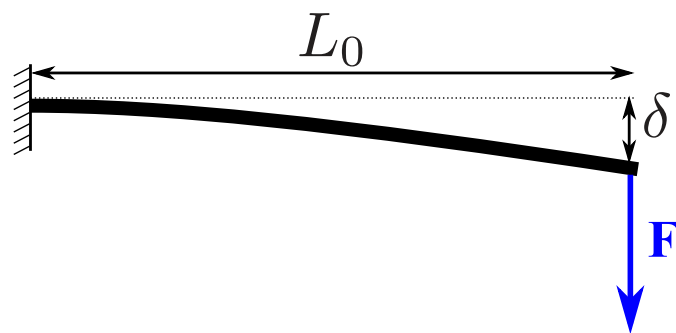
FIGURE 1.2 – Espace des phases pour l'ouverture des structures gonflables.

1.2 Quelques rappels sur la physique des poutres

Pour comprendre en quoi les boudins gonflables se distinguent des poutres classiques, nous exposons ici quelques rappels sur la physique des poutres. Pour cela, nous nous basons sur l'expérience simple de la poutre de Galilée [38] présentée dans la figure 1.3a. Nous considérons une poutre cylindrique de rayon R , de longueur L_0 . Cette poutre est encastrée à une extrémité et son autre extrémité est soumise à une force F perpendiculaire à son axe. Nous nous intéressons à la déflexion δ à l'extrémité de cette poutre. Cette expérience est présentée dans la figure 1.3b.



(a) Schéma historique de l'expérience de la poutre de Galilée [38]



(b) Schéma expérimental et conventions

FIGURE 1.3 – Dispositif expérimental de poutre encastrée de Galilée

1.2.1 Déformation élastique de la poutre

Si la force F est suffisamment faible, le matériaux de la poutre réagit de manière élastique. Les contraintes σ dans la poutre varient linéairement avec la déformation relative ϵ . Le module d'Young E caractérise le lien entre les contraintes et la déformation [39] :

$$\sigma = E\epsilon. \quad (1.1)$$

La théorie des poutres de Bernoulli [40] considère que la déformation varie linéairement par rapport à la ligne neutre de la poutre. Cette théorie est valable pour les poutres de grand rapport d'aspect ($R \ll L_0$). La répartition des contraintes dans cette limite est présentée dans la figure 1.4a.

L'énergie élastique $d\mathcal{E}_e$ stockée dans le volume $d\tau$ d'un matériau élastique de déformation caractéristique ϵ vaut [40] :

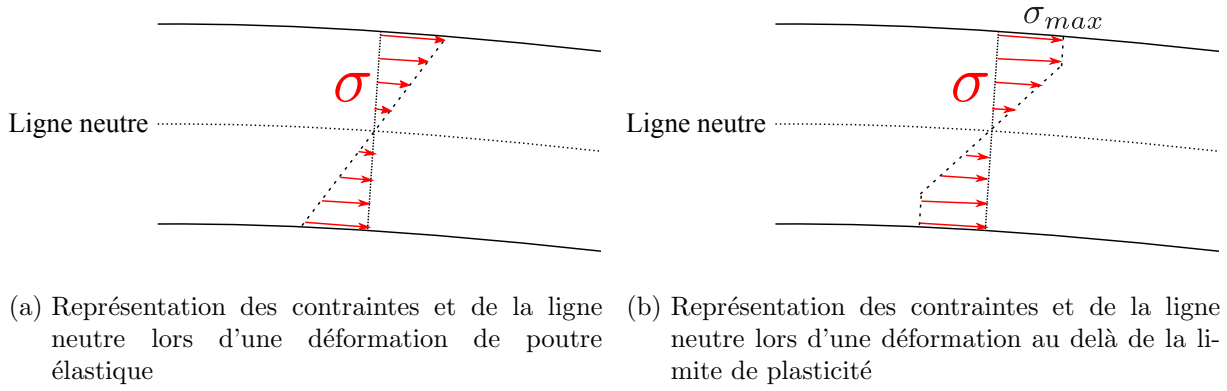


FIGURE 1.4 – Représentations schématiques des contraintes dans une poutre

$$d\mathcal{E}_e \approx E\epsilon^2 d\tau \quad (1.2)$$

La déformation caractéristique dans la poutre vaut :

$$\epsilon \approx \frac{\delta R}{L_0^2}. \quad (1.3)$$

L'énergie élastique stockée dans la poutre vaut alors :

$$\mathcal{E}_e \approx E \frac{R^4}{L_0^3} \delta^2 \approx \frac{EI}{L_0^3} \delta^2. \quad (1.4)$$

Le coefficient caractérisant la rigidité géométrique de la poutre est appelé second moment d'inertie et noté I . Il est proportionnel à R^4 dans le cas d'une poutre pleine cylindrique. L'énergie élastique stockée dans la poutre est égale au travail fourni par la force F qui vaut $F\delta$. Cela nous permet d'obtenir une loi d'échelle sur la déflexion :

$$\delta \approx \frac{L_0^3}{EI} F. \quad (1.5)$$

La déflexion augmente linéairement avec la force appliquée et nous pouvons aussi définir une raideur élastique équivalente k à la poutre qui vaut :

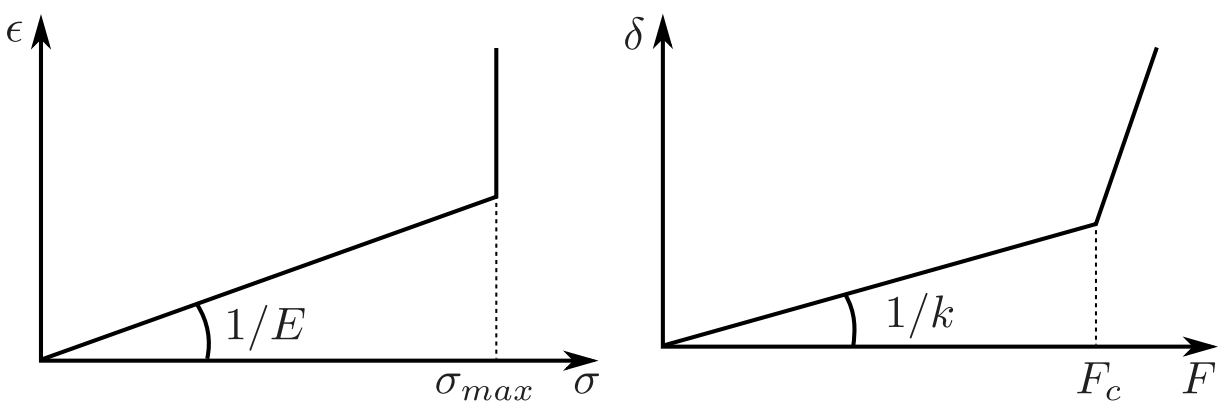
$$k \approx \frac{EI}{L_0^3}. \quad (1.6)$$

1.2.2 Limite de l'élasticité linéaire

Lorsqu'un matériau subit des déformations trop importantes, celles-ci ne sont plus réversibles [41]. La contrainte étant linéairement liée à la déformation, ce phénomène intervient quand la contrainte atteint une valeur critique σ_{max} . Quand cette valeur est atteinte dans certaines zones de la poutre, le modèle de l'élasticité linéaire n'est plus valable. Deux comportements dépendant du matériau et de sa microstructure sont possibles dans ce cas : le matériau peut se déformer de manière irréversible sans casser – comportement plastique (ou ductile) [42] – ou bien le matériau peut aussi casser – comportement fragile [43].

1.2.2.1 Comportement plastique

Un comportement plastique se caractérise par une contrainte qui ne dépend pas (ou peu) de la déformation. L'évolution du déplacement en fonction de la contrainte peut se schématiser comme dans la figure 1.5a. La répartition des contraintes dans la poutre au-delà de la limite de plasticité est présentée dans le schéma 1.4b. Ce comportement mène à une déflexion qui augmente plus vite avec le chargement appliqué que dans la situation élastique initiale. La déflexion typique en fonction du chargement est présentée dans la figure 1.5b.



(a) Déformation en fonction de la contrainte pour un matériau plastique classique. (b) Déflexion en fonction de la force appliquée pour un matériau plastique classique.

FIGURE 1.5 – Comportement classique d'une poutre plastique

1.2.2.2 Comportement fragile

Un comportement fragile se caractérise par une rupture violente quand la contrainte maximale est atteinte dans certaines zones de la poutre.


1.3 Caractérisation des boudins élastiques

Cette première partie vise à établir le comportement d'une structure gonflable en flexion et par là même évaluer l'énergie \mathcal{E}_{pli} stockée dans la structure lorsqu'elle est pliée. Pour cela, nous avons réalisé des expériences similaires à celle de la poutre de Galilée en remplaçant la poutre par un boudin gonflable.


1.3.1 Système étudié

1.3.1.1 Description des boudins utilisés dans les expériences de flexion

Les boudins sont caractérisés par leur longueur L_0 , leur rayon R , l'épaisseur de leur membrane e et leur module élastique E . Dans cette étude, trois types de boudins sont utilisés (figure 1.6) de façon à pouvoir changer leurs propriétés mécaniques et géométriques. Les propriétés des différents types de boudins sont listées dans le tableau 1.1. Nous resterons dans le cadre de boudins élancés ($L > 10R$) et à membrane fine ($R > 10e$). Une caractéristique des membranes fines qui nous intéressera particulièrement est le fait qu'elles flambent dès qu'elles sont soumises à des efforts de compression (voir annexe B).



(a) Détail des différents boudins utilisés dans les expériences de flexion. Le boudin de type 1 est en caoutchouc et le boudin de type 2 est en latex. Le boudin de type 3 est constitué d'une enveloppe en nylon tissé de fort module d'Young et d'une chambre à air (boudin de type 2) de faible module d'Young permettant d'étanchéifier le boudin. Le rayon considéré pour le boudin de type 3 est celui de l'enveloppe en nylon.



(b) Vue en coupe du boudin de type 1. e est l'épaisseur de la membrane du boudin. Pour les tubes de type 3 cette épaisseur est celle de l'enveloppe de nylon. R est le rayon extérieur du boudin.

FIGURE 1.6 – Caractéristiques des boudins utilisés.

1.3.1.2 Dispositifs expérimentaux

Deux dispositifs expérimentaux sont utilisés pour effectuer les expériences de flexion. La première expérience est une étude de la flexion trois points des boudins. La seconde est une expérience

| | Type 1 | Type 2 | Type 3 |
|--|-----------------------|-----------------------|---|
| Épaisseur e (m) | $6 \cdot 10^{-4}$ | $7 \cdot 10^{-4}$ | $2 \cdot 10^{-4}$ |
| Rayon R (m) | $5.9 \cdot 10^{-3}$ | $9.5 \cdot 10^{-3}$ | $1.4 \cdot 10^{-2} - 2.6 \cdot 10^{-2}$ |
| Longueur L_0 (m) | 0.1 – 0.2 | 0.1 – 0.2 | 0.2 – 0.5 |
| Masse M_s (g) | 2 – 4 | 40 – 80 | 5 – 14 |
| Moment d'inertie I (m ⁴) | $4.2 \cdot 10^{-10}$ | $1.6 \cdot 10^{-9}$ | $1.7 \cdot 10^{-9} - 1.1 \cdot 10^{-8}$ |
| Module d'Young E (Pa) | $8.7 \cdot 10^5$ | $1.3 \cdot 10^6$ | $4.0 \cdot 10^8$ |
| EI (Pa.m ⁴) | $3.6 \cdot 10^{-4}$ | $2.1 \cdot 10^{-2}$ | $6.9 \cdot 10^{-1} - 4.4$ |
| Pression dans le tube p (Pa) | $10^3 - 3 \cdot 10^4$ | $10^3 - 3 \cdot 10^4$ | $3 \cdot 10^4 - 3 \cdot 10^5$ |
| Chargement F (N) | 0.05 – 0.1 | 0.05 – 0.1 | 0.5 – 10 |

TABLE 1.1 – Caractéristiques et plages de variation des paramètres des boudins gonflables utilisés.

de poutre encastree. Ces expériences vont permettre de comprendre le comportement élastique des différents boudins.

1.3.1.2.1 Flexion trois points

Le dispositif de flexion trois points est présenté sur le schéma 1.7a. Le principe de cette expérience est de mesurer la déflexion de l'extrémité du boudin en fonction de la longueur du tube L_0 , du chargement appliqué $F = Mg$ et de la pression intérieure p .

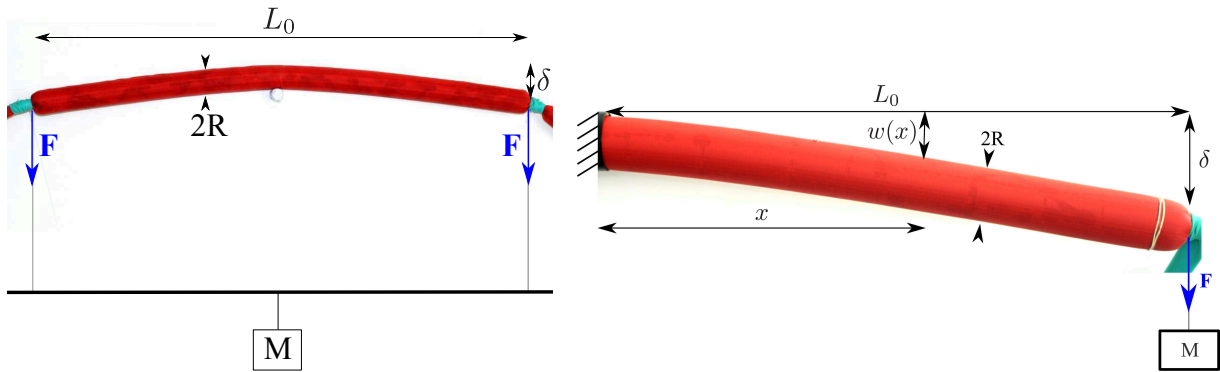
1.3.1.2.2 Poutre encastree

Le deuxième dispositif utilisé est une expérience de poutre encastree présenté sur la figure 1.7b. Le protocole de mesure est le même que celui utilisé pour la flexion trois points.

1.3.1.2.3 Protocole

Pour mesurer la déflexion des poutres gonflables, on suit le protocole suivant :

- Fixation de la longueur du boudin L_0 et de la pression interne p ;
- prise d'une photo de référence sans charge appliquée ($F = 0 \text{ N}$, $\delta = 0$) ;
- prise d'une photo pour différentes charges connues ;
- détermination de la déflexion par analyse d'images.



(a) Photo de l'expérience de flexion trois points utilisée pour le boudin de type 3. Le boudin est posé sur un support fixe. Une charge de masse M est attachée à une tige rigide permettant de maintenir les efforts verticaux. La force appliquée aux extrémités du boudin est $F = \frac{Mg}{2}$. On mesure le déplacement δ de l'extrémité du boudin par rapport à sa position à chargement nul.

(b) Photo de l'expérience de poutre encastrée pour le boudin de type 3. Le boudin est fixé dans un tube rigide de diamètre égal au diamètre du boudin ce qui permet de garantir la condition d'encastrement. Une charge de masse M est suspendue à l'extrémité du boudin. L'effort exercé est alors $F = Mg$. On mesure le déplacement δ de l'extrémité du boudin par rapport à sa position à chargement nul.

FIGURE 1.7 – Dispositifs expérimentaux utilisés pour l'étude de la poutre en flexion.

1.3.2 Observations qualitatives

La figure 1.8 montre l'évolution de la forme d'un boudin en flexion trois points lorsqu'on augmente le chargement.

Les photos 1.8a, 1.8b et 1.8c présentent un comportement « classique » de poutre en flexion élastique : la déflexion augmente linéairement avec le chargement appliqué (figure 1.8e). La photo 1.8d montre un comportement différent. On observe sur 1.8e que la déflexion a doublé entre 1.8c et 1.8d pour un chargement multiplié par 1.5. Au niveau du milieu de la poutre, un pli est apparu, comme on peut le voir sur l'agrandissement de la figure 1.8d. Ce pli correspond au flambage de la membrane du boudin. L'évolution de la déflexion δ en fonction du chargement F appliqué est présentée pour différentes valeurs de la pression interne p sur la figure 1.9. On observe que pour des chargements faibles, la déflexion suit une loi linéaire. Pour des chargements plus importants, le comportement s'écarte de la loi linéaire et se rapproche d'un comportement plastique 1.5b. Cela correspond à l'apparition du pli visible (figure 1.8d). Ce comportement n'est pas sans rappeler la rupture d'un matériau fragile ou la plastification en grandes déformations [44]. Deux paramètres caractérisent donc la déformation des « poutres gonflables » : leur rigidité linéaire effective k telle que $F = k\delta$ et leur seuil de plasticité F_c .

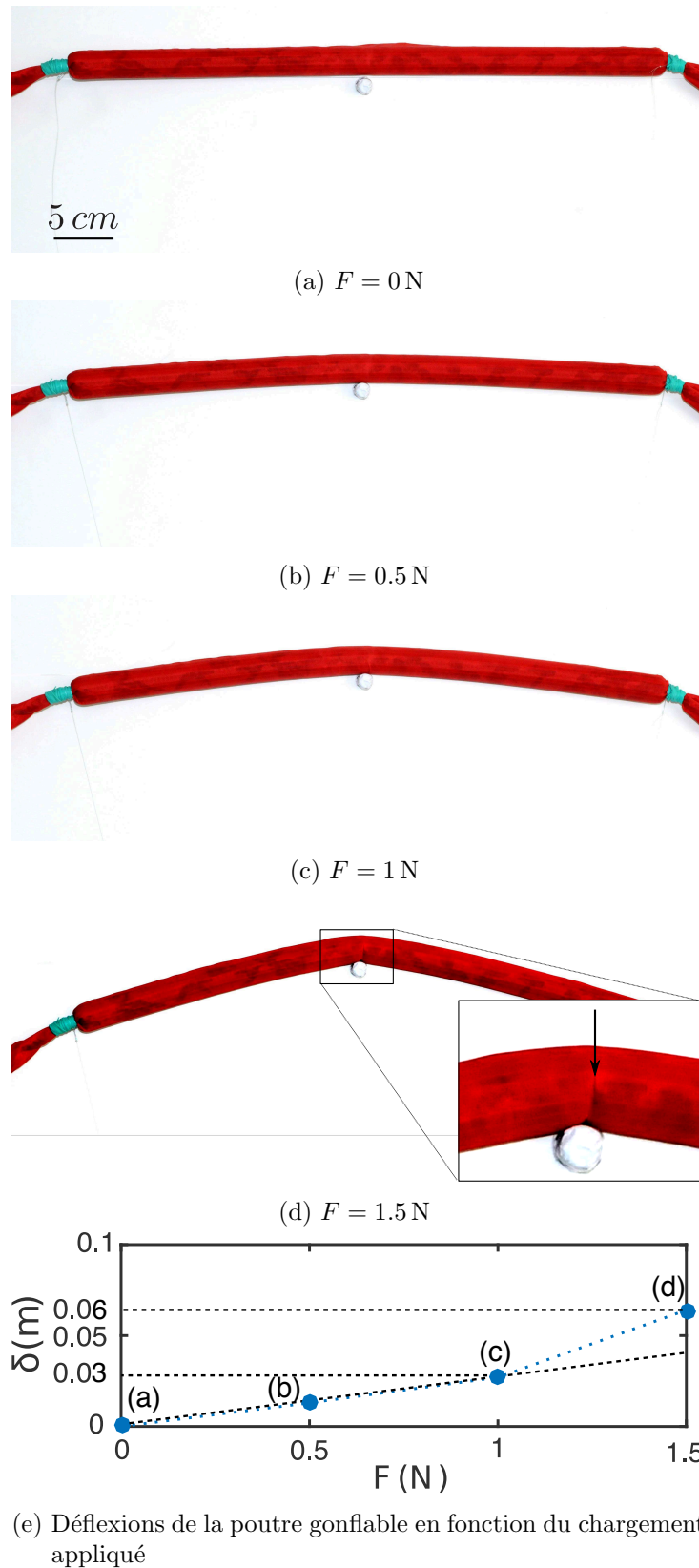


FIGURE 1.8 – Évolution de la forme du boudin avec l'augmentation de la charge pour un boudin de type 3 de longueur $L_0 = 55 \text{ cm}$. Les photos 1.8a, 1.8b et 1.8c montrent un comportement classique de poutre en flexion. La photo 1.8d montre le flambage de la membrane au milieu du boudin.

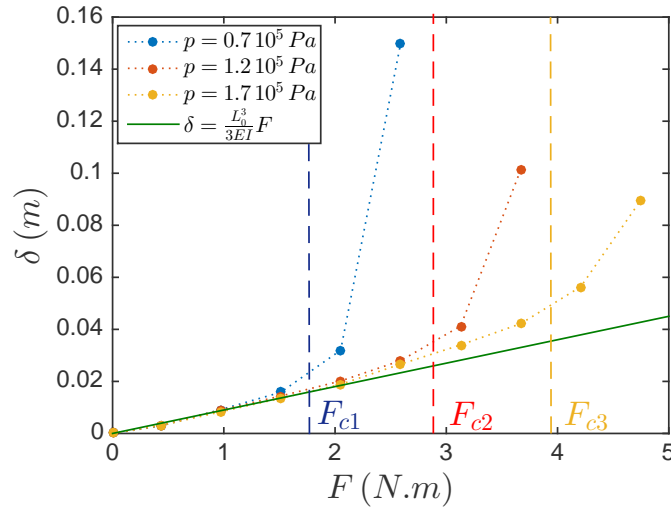


FIGURE 1.9 – Déflexion d'un boudin de type 3 de rayon $R = 14$ mm et de longueur $L = 0.27$ m en fonction du chargement F appliqué pour différentes pressions internes. Le chargement critique F_c d'apparition du pli est matérialisé par les droites verticales en pointillé. Le modèle d'élasticité linéaire ($\delta = \frac{FL_0^3}{3EI}$, équation 1.9) est représenté par la droite verte pleine.

1.3.3 Étude de l'élasticité linéaire d'une poutre encastrée

Pour comprendre ces comportements, on commencera par étudier le comportement élastique des boudins dans le cas de la poutre encastrée. Lorsque la membrane du boudin est en tension, celui-ci se comporte comme une poutre de section cylindrique. Le moment d'inertie associé est alors $I = \pi R^3 e$ [44]. En paramétrant l'abscisse curviligne du boudin par x (schéma 1.7b), on note $w(x)$ la déflexion à l'abscisse curviligne x du boudin. Le calcul de la déflexion en fonction de la charge appliquée, dans la limite des petites déformations ($R \frac{d^2 w}{dx^2} \ll 1$) et des petits déplacements ($\frac{\delta}{L_0} \ll 1$), revient à résoudre le système suivant :

$$\left\{ \begin{array}{l} \frac{d^2}{dx^2} \left(EI \frac{d^2 w}{dx^2} \right) = 0 \\ w(0) = 0 \\ w'(0) = 0 \end{array} \right\} \quad \text{extrémité encastrée} \quad (1.7)$$

$$\left\{ \begin{array}{l} w''(L_0) = 0 \\ w'''(L_0) = F \end{array} \right\} \quad \text{extrémité libre}$$

La solution de ce problème est :

$$w(x) = \frac{x^2(3L_0 - x)F}{6EI} \quad (1.8)$$

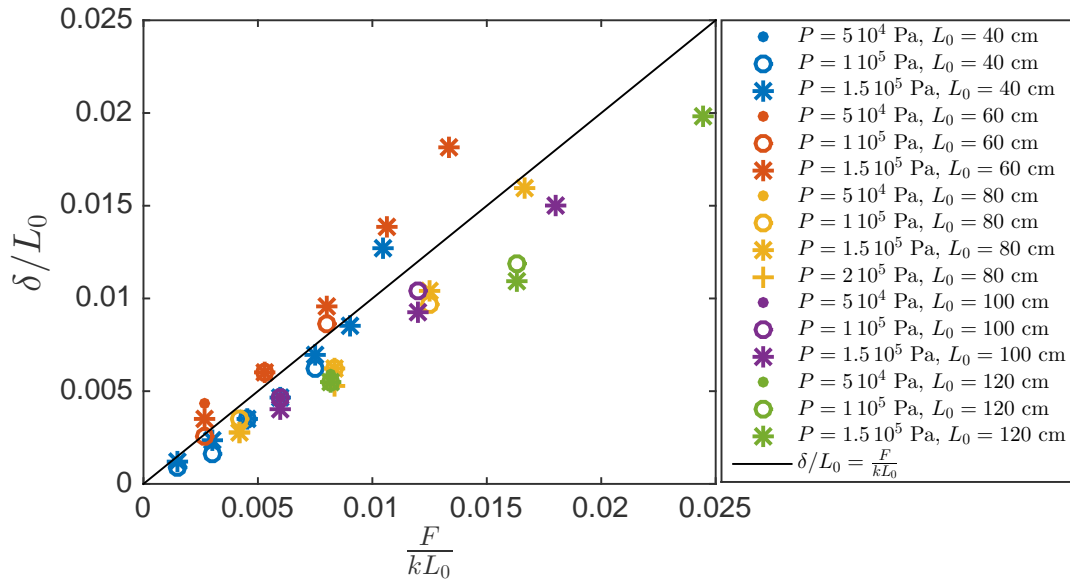


FIGURE 1.10 – Déflexion normalisée par la longueur du boudin δ/L_0 en fonction du chargement appliqué normalisé par la rigidité multipliée par la longueur du boudin $\frac{F}{kL_0}$ pour les boudins de type 3. Les différents symboles représentent les différentes pressions internes et les différentes couleurs représentent les différentes longueurs. La ligne noire est la droite de pente 1.

En particulier, la déflexion à l'extrémité vaut :

$$\delta = w(L_0) = \frac{FL_0^3}{3EI} \tag{1.9}$$

Cette relation permet de déterminer un coefficient de raideur élastique k tel que $F = k\delta$ avec

$$k = \frac{3EI}{L_0^3} \tag{1.10}$$

Ce modèle ainsi que les données expérimentales sont tracés dans la figure 1.10. Le modèle rend bien compte des données expérimentales. Nous pouvons aussi vérifier que la condition des petits déplacements $\frac{\delta}{L_0} \ll 1$ est respectée.

On remarque que la rigidité ne dépend que très peu de la pression dans le boudin. L'effet de la pression peut se ressentir légèrement dans la variation du moment d'inertie. En effet, celui-ci est proportionnel au cube du rayon. Une augmentation du rayon due à la pression augmente donc la rigidité du boudin. Dans notre étude, les augmentations de rayon ne dépassent pas quelques pourcents. L'effet de la pression sur la rigidité est alors peu visible. Il est aussi difficilement séparable des défauts de la réalisation de l'expérience comme par exemple l'encastrement qui est dépendant de la pression dans la poutre gonflable. Une étude détaillée de l'effet de la pression

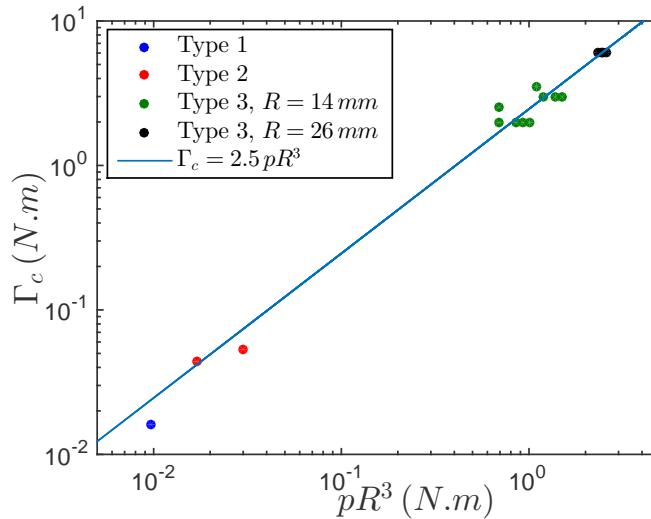


FIGURE 1.11 – Moment critique $\Gamma_c = F_c L_0$ en fonction de pR^3 pour les différentes expériences réalisées. La droite de régression linéaire (ligne continue) correspond à : $\Gamma_c = 2.5 pR^3$.

sur la rigidité est donnée dans l'article de Wielgosz [45]. L'effet de la pression est, en revanche, très important sur le chargement critique à partir duquel le comportement plastique réversible du boudin apparaît (figure 1.9).

1.3.4 Étude du seuil de "plasticité" d'une poutre gonflable

Nous nous concentrons ici sur la limite du domaine élastique, marquée expérimentalement par l'apparition d'un pli (figure 1.8d) et par la forte variation de la déflexion avec la charge (figure 1.8e).

1.3.4.1 Résultats expérimentaux

Dans les expériences consacrées à la formation du pli (seuil de plasticité), nous utilisons le dispositif de poutre encastree pour tous les boudins excepté celui de type 3 pour lequel on utilise le dispositif de flexion trois points. Dans tous les cas, le pli apparaît au niveau de la zone où le moment dû au chargement est maximal, c'est à dire au milieu de la poutre pour la flexion trois points (voir figure 1.8d) et au niveau de l'encastrement pour la poutre encastree. Les résultats expérimentaux sont présentés sur la figure 1.11. On note $\Gamma = FL_0$ le moment appliqué par la charge au point d'encastrement. Le moment critique $\Gamma_c = F_c L_0$ d'apparition du pli varie linéairement avec le couple exercé par la pression intérieure du boudin pR^3 et la loi mesurée est $\Gamma_c = 2.5 pR^3$.

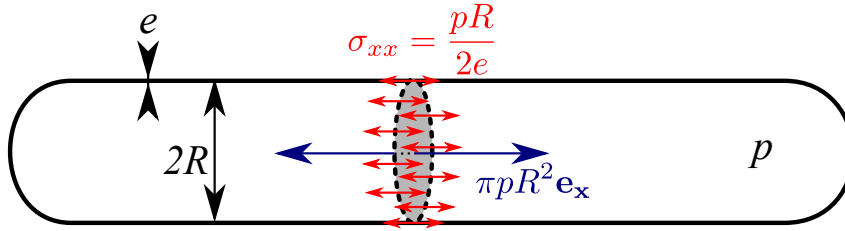


FIGURE 1.12 – Schéma des contraintes longitudinales dans le boudin. La contrainte longitudinale s'applique sur une surface $2\pi Re$ et compense la force de pression appliquée sur la section du boudin qui vaut $p\pi R^2$. La contrainte longitudinale moyennée sur l'épaisseur de la membrane du boudin est $\sigma_{xx} = \frac{pR}{2e}$.

1.3.4.2 Modélisation

1.3.4.2.1 Loi d'échelle

Pour obtenir les contraintes dans la membrane, on considère un équilibre entre les forces de pression et les forces élastiques comme présenté sur le schéma 1.12. La contrainte longitudinale s'applique sur une surface $2\pi Re$ et compense la force de pression appliquée sur la section du boudin qui vaut $p\pi R^2$. La précontrainte dans la membrane due à la pression dans le boudin est donc de l'ordre de :

$$\sigma_p \approx \frac{pR}{e} \quad (1.11)$$

Le chargement appliqué à l'extrémité du tube crée un moment Γ qui est compensé par les contraintes dans la membrane. Ces contraintes s'exercent sur une surface $2\pi Re$. La force caractéristique résultante s'applique avec un bras de levier R . Le moment résultant est donc $\sigma_F e R^2$. La contrainte dans la membrane du boudin due au chargement appliqué est donc :

$$\sigma_F \approx \frac{\Gamma}{eR^2} \quad (1.12)$$

Le pli apparaît quand ces deux contraintes sont du même ordre. Dans ce cas $\Gamma = \Gamma_c$ et $\sigma_p \approx \sigma_F$ donne :

$$\Gamma_c \approx pR^3 \quad (1.13)$$

Cette loi d'échelle est compatible avec les résultats expérimentaux (figure 1.11).

1.3.4.2.2 Détermination du coefficient directeur

Pour avoir accès à la valeur réelle du moment critique pour lequel le pli apparaît, il nous faut

entrer plus en détails dans l'expression des efforts en jeu. On considère que le pli apparaît quand une partie de la circonférence du boudin n'est plus en tension. On se propose donc de déterminer la contrainte longitudinale moyennée sur l'épaisseur notée σ_{zz} en tout point de la circonférence du boudin. On paramètre par l'angle θ la circonférence du boudin, $\theta = 0$ correspondant à la ligne neutre du boudin. Pour déterminer cette contrainte, on s'inspire d'une méthode utilisée pour calculer la résistance de bétons armés. Le béton est un matériau peu résistant en traction, c'est pourquoi pour calculer la résistance d'une poutre de béton armé, on considère que les contraintes dans les zones en traction non armées sont nulles [44]. Dans notre cas, la membrane du boudin est peu résistante en compression, on considèrera donc que les contraintes dans la membrane sont nulles quand celle-ci rentre en compression. Les hypothèses de la modélisation se résument comme il suit :

- la contrainte longitudinale est toujours positive
- quand la contrainte longitudinale est strictement positive, elle varie de manière affine avec l'écart au milieu du boudin
- la contrainte longitudinale est continue

Ces hypothèses nous mènent à une contrainte de la forme suivante (illustrée figure 1.13) où α et σ_0 sont des constantes à déterminer :

$$\sigma_{zz} = \max(\sigma_0 + \alpha \sin \theta, 0) \quad (1.14)$$

L'équilibre des forces sur le boudin nous donne :

$$\pi p R^2 = e R \int_0^{2\pi} \sigma_{zz} d\theta \quad (1.15)$$

L'équilibre des moments nous donne :

$$\Gamma = e R \int_0^{2\pi} \sigma_{zz} R \sin \theta d\theta \quad (1.16)$$

1.3.4.2.2.1 Contraintes faibles

Quand toutes les fibres sont en tension, les équations (1.15) et (1.16) nous donnent :

$$\begin{cases} \sigma_0 = \frac{pR}{2e} \\ \alpha = \frac{\Gamma}{\pi R^2 e} \end{cases} \quad (1.17)$$

1.3.4.2.2.2 Contraintes fortes

Lorsqu'une partie des fibres n'est plus en tension, on suppose que toute la partie du boudin

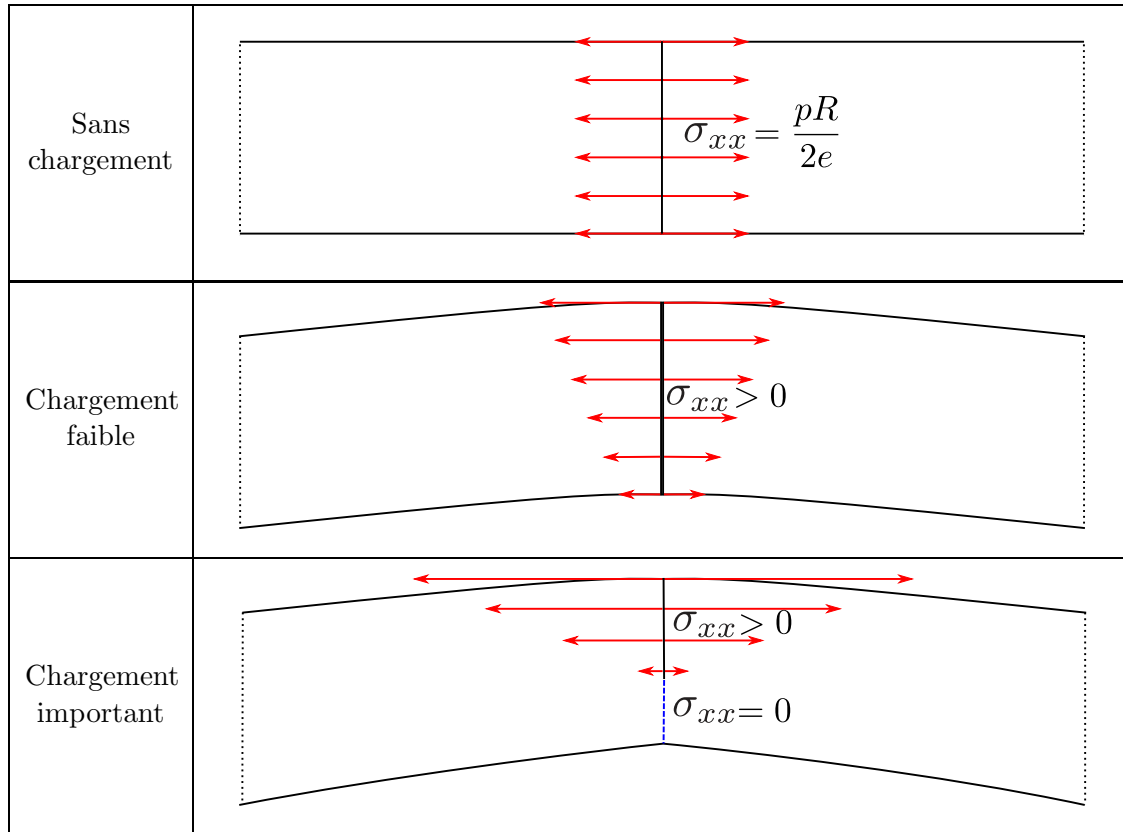


FIGURE 1.13 – Représentation des contraintes longitudinales du modèle au point d'apparition du pli pour différentes valeurs du chargement appliqué pour le dispositif de flexion trois points. Pour un boudin sans chargement, les contraintes longitudinales sont simplement dues à la pression et sont uniformes dans le boudin. Pour un chargement faible, on additionne les contraintes d'élasticité linéaires aux contraintes dues à la pression. Le matériau ne pouvant pas entrer en compression, pour un chargement fort, une partie de la poutre a des contraintes longitudinales nulles et sur le reste de la poutre les contraintes sont linéairement réparties.

en dessous d'un angle θ_0 a une contrainte longitudinale nulle. Dans ce cas, la continuité des contraintes donne la relation :

$$\sigma_0 = -\alpha \sin \theta_0 \quad (1.18)$$

L'équation d'équilibre des forces devient alors :

$$\pi p R^2 = 2eR \int_{\theta_0}^{\frac{\pi}{2}} \sigma_{zz} d\theta \quad (1.19)$$

Les équations 1.18 et 1.19 permettent de calculer :

$$\begin{cases} \sigma_0 = -\frac{\pi p R}{2e} \frac{\sin \theta_0}{\cos \theta_0 + \sin \theta_0 \left(\theta_0 - \frac{\pi}{2}\right)} \\ \alpha = \frac{\pi p R}{2e} \frac{1}{\cos \theta_0 + \sin \theta_0 \left(\theta_0 - \frac{\pi}{2}\right)} \end{cases} \quad (1.20)$$

Le moment critique dépendant de l'angle θ_0 vaut :

$$\Gamma_c = \pi p R^3 \frac{\frac{\pi}{2} - \theta_0 - \frac{1}{2} \sin 2\theta_0}{2 \cos \theta_0 + \left(\theta_0 - \frac{\pi}{2}\right) \sin \theta_0} \quad (1.21)$$

Il s'agit ici de déterminer pour quelle valeur de θ_0 le pli apparaît. Pour une valeur de $\theta_0 = -\frac{\pi}{2}$, c'est à dire dès qu'une fibre est en compression, $\Gamma_c = \frac{\pi}{2} p R^3$. Si $\theta_0 = \frac{\pi}{2}$, c'est à dire que le pli apparaît quand toutes les fibres sont en compression, $\Gamma_c = \pi p R^3$. Si le pli apparaît quand la moitié du boudin est en compression ($\theta_0 = 0$), on trouve $\Gamma_c = \frac{\pi^2}{4} p R^3 \approx 2.5 p R^3$. Cette valeur est en accord avec nos résultats expérimentaux (figure 1.11) et avec celle trouvée dans l'étude [46]. Un modèle plus avancé prenant en compte les contraintes radiales est présenté dans l'étude [47] et fournit des résultats très proches. Ce modèle ainsi que les données expérimentales sont rassemblés sur la figure 1.11.

1.3.5 Bilan sur l'élasticité d'un boudin pressurisé

Nous pouvons finalement caractériser le comportement d'un boudin gonflable par deux grandeurs : son élasticité $k = \frac{3EI}{L_0^3}$ qui régit le comportement élastique et le couple maximal $\Gamma_c = 2.5 p R^3$ au delà duquel le boudin présente un comportement plastique réversible. Il est intéressant de noter que la pression n'intervient quasiment que dans le seuil du comportement plastique. Ce comportement simplifié du boudin est synthétisé sur la figure 1.14.

1.3.6 Retour à la question posée

Le but de cette partie est de dimensionner le boudin principal du cerf-volant pour qu'il puisse supporter son propre poids et ainsi se déployer sans l'aide du vent. Deux conditions sont nécessaires pour cela. La première est qu'il ne doit pas apparaître de pli au milieu du boudin principal à cause du poids du cerf-volant. La deuxième est que la rigidité élastique doit être suffisante pour que la déflexion à l'extrémité du cerf-volant soit faible devant la longueur du boudin.

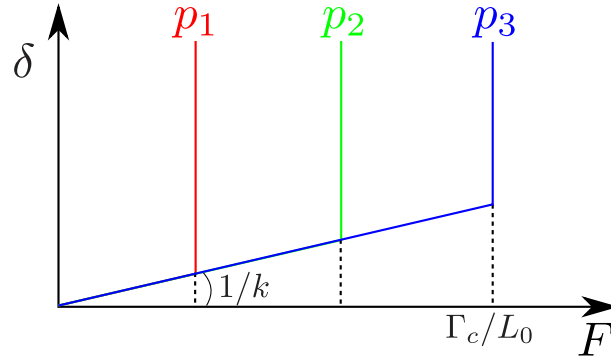


FIGURE 1.14 – Modèle simplifié de la déflexion δ en fonction du chargement appliqué F pour un même boudin et pour trois pressions internes différentes (p_1 , p_2 et p_3). La pente du comportement élastique vaut $\frac{1}{k} = \frac{L_0^3}{3EI}$ pour les trois pressions. La force critique de l'apparition du comportement plastique réversible dépend de la pression et vaut $\frac{\Gamma_c}{L_0} = 2.5 \frac{p_i R^3}{L_0}$ pour la pression interne p_i .

1.3.6.1 Condition sur le pli

Si le cerf-volant est maintenu uniquement en son milieu alors il peut supporter son poids seulement si le moment exercé par le poids est plus faible en ce point que la valeur du moment critique pour l'apparition du pli. Le moment exercé par le poids s'exprime ainsi :

$$\Gamma_{M_s g} = M_s g \frac{L_0}{4} \quad (1.22)$$

En faisant l'hypothèse que la masse du cerf-volant est concentrée dans les boudins, on obtient un couple maximal dû au poids qui vaut :

$$\Gamma_{M_s g} = \frac{\pi \rho_{kite} g e R}{2} L_0^2, \quad (1.23)$$

avec ρ_{kite} la masse volumique du matériau utilisé pour le boudin. On considère que l'épaisseur des parois du boudin est dictée par une contrainte due à une pression intérieure de l'ordre de quelques pour-cents de la contrainte à la rupture de l'enveloppe. On notera cette contrainte σ_{lim} . Pour du Dyneema® (tissus de grande résistance à la traction à la rupture) la contrainte de rupture vaut entre 1 GPa et 3 GPa [48], on prend donc $\sigma_{lim} = 10^7$ Pa. La relation entre épaisseur, pression et rayon est alors donnée par :

$$\sigma_{lim} \approx \frac{pR}{e} \quad (1.24)$$

La masse volumique du Dyneema est d'environ $\rho_s = 10^3$ kg.m⁻³. On obtient que le rayon minimal du boudin doit suivre la relation suivante pour que le cerf-volant supporte son propre poids :

$$R > \frac{\pi}{5} \frac{\rho_s g}{\sigma_{lim}} L^2 \quad (1.25)$$

Pour un cerf-volant de longueur $L_0 = 50$ m, cette condition sur la fracture donne un rayon minimal pour le boudin de $R = 1.5$ m.

1.3.6.2 Condition sur l'élasticité

Pour une poutre soumise uniquement à son propre poids, la loi de déflexion est légèrement différente de celle donnée dans la formule 1.9. Pour une masse uniformément répartie le long de la poutre, la loi de déflexion est la suivante :

$$\delta = \frac{M_s g L_0^3}{8EI} \quad (1.26)$$

Si l'on cherche à avoir une forme du cerf-volant qui ne dépend pas de sa taille, le rayon du boudin doit être suffisant pour maintenir le rapport $\frac{\delta}{L_0}$ constant. On prendra cette valeur de l'ordre de 0.1. Le rayon du boudin doit alors vérifier la loi suivante :

$$R > \left(\frac{\rho_s g}{3.2E} \right)^{\frac{1}{2}} L_0^{\frac{3}{2}} \quad (1.27)$$

Pour un cerf-volant de longueur $L_0 = 50$ m, cette condition sur l'élasticité donne un rayon minimal pour le boudin de $R = 15$ cm.

1.3.6.3 Dimensionnement du boudin principal du cerf-volant

Il est possible de rassembler les conditions 1.25 et 1.27 dans un graphique pour vérifier quelle contrainte est la plus restrictive en fonction de la taille du boudin (figure 1.15).

Pour des tailles utiles de cerf-volants (entre 1 et 100 m) la contrainte la plus restrictive est toujours l'apparition du pli. Cette relation donne des résultats peu restrictifs pour une aile de petite taille (10 cm de rayon pour une aile de 10 m d'envergure). Pour de grandes ailes dont l'envergure atteint 100 m, le rayon minimal pour que l'aile soutienne son poids est de l'ordre de plusieurs mètres. Pour des raisons aérodynamiques, il semble difficile de construire des ailes de plus grande taille sans complexifier la structure du boudin. Un moyen de retarder l'apparition du pli peut s'inspirer du béton armé. On peut ajouter des tiges de carbone dans le tissu pour lui donner une résistance au flambage et donc retarder l'apparition du pli.

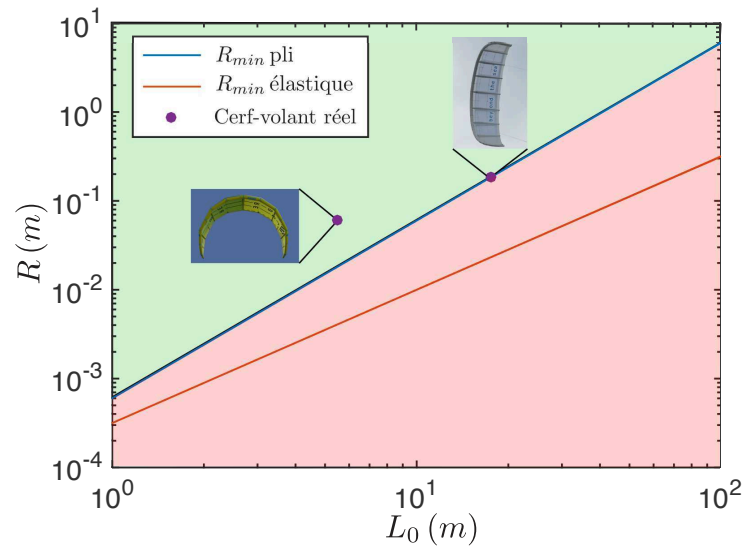


FIGURE 1.15 – Valeurs minimales du rayon du boudin principal en fonction de la taille du cerf-volant pour le pli (droite bleue) et l'élasticité (droite rouge). La zone verte correspond aux rayons où le cerf-volant peut soutenir son poids et la zone rouge les rayons où il ne peut pas soutenir son poids. Le cerf-volant montré en exemple à gauche est une aile de marque North de 9 m² et l'aile de droite est une aile de marque Beyond the Sea de 50 m².

Pour des cerf-volants de très grande taille, il apparaît que les dimensions des boudins du cerf-volant sont, avant tout, dictées par la nécessité de soutenir son propre poids. Dans le cas des cerf-volants de taille intermédiaire, nous allons déterminer s'il existe un dimensionnement optimal permettant de raccourcir significativement le temps de déploiement du cerf-volant.

1.4 Dynamique du déploiement des boudins sans toile

Pour faciliter son déploiement, le cerf-volant est fixé plié sur un mât (schémas 1.16). Cette partie vise à comprendre la dynamique d'ouverture des structures gonflables. Pour cela, nous commençons par l'ouverture du boudin seul. Dans un premier temps, nous étudierons la limite où le fluide environnant n'a pas d'effet ($M_{FK} \ll 1$) en effectuant les expériences dans l'air, puis nous nous placerons dans l'eau ($M_{FK} \gg 1$) pour quantifier l'effet de l'inertie du milieu ambiant.




FIGURE 1.16 – Dispositif d'ouverture, plié de différentes manières pour étudier la vitesse d'ouverture.

1.4.1 Dispositifs expérimentaux

L'ouverture d'un boudin plié est présentée sur la chronophotographie 1.17. L'expérience consiste à plier un boudin sous pression en deux (ou plus) et à un instant donné, couper le lien qui sert à le maintenir plié et mesurer l'angle $\theta(t)$ d'ouverture en fonction du temps. Sur cette chronophotographie, on observe l'ouverture du pli en fonction du temps. Le temps total d'ouverture est de l'ordre du dixième de seconde. La vitesse d'ouverture est de l'ordre du mètre par seconde. Les caractéristiques des boudins utilisés sont rassemblées dans le tableau 1.2.




FIGURE 1.17 – Chronophotographie de l'expérience d'ouverture d'un pli pour un boudin de type 4 gonflé avec une pression $p = 2 \cdot 10^4$ Pa.

| | Type 1 | Type 2 | Type 4 | Type 5 |
|-------------------------------|-------------------------------|-------------------------------|-------------------------------|-------------------------------|
| Épaisseur e (m) | $6 \cdot 10^{-4}$ | $7 \cdot 10^{-4}$ | $6 \cdot 10^{-4}$ | $5 \cdot 10^{-4}$ |
| Rayon R (m) | $5.9 \cdot 10^{-3}$ | $9.5 \cdot 10^{-3}$ | $1.0 \cdot 10^{-2}$ | $3.6 \cdot 10^{-2}$ |
| Longueur L_0 (m) | 0.25 | 0.55 | 0.8 | 1.8 |
| Module d'Young E (Pa) | $8.7 \cdot 10^5$ | $1.3 \cdot 10^6$ | $3.2 \cdot 10^7$ | $4.0 \cdot 10^8$ |
| Masse M_s (g) | 5 | 20 | 40 | 120 |
| Pression p (Pa) | $1 \cdot 10^4 - 3 \cdot 10^4$ | $5 \cdot 10^3 - 2 \cdot 10^4$ | $1 \cdot 10^4 - 4 \cdot 10^4$ | $2 \cdot 10^4 - 6 \cdot 10^4$ |

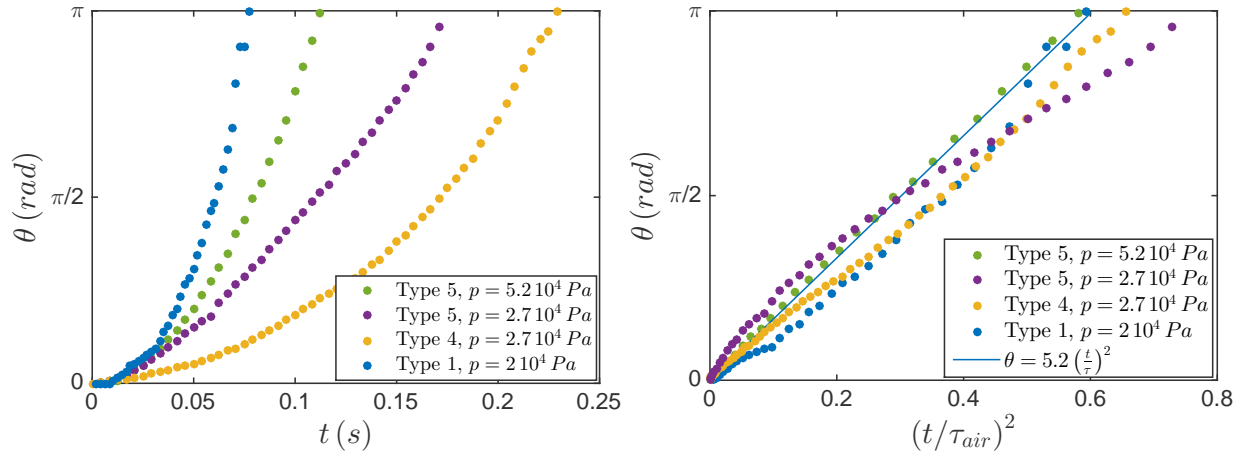
TABLE 1.2 – Propriétés des boudins utilisés pour les expériences d'ouverture dans l'air et gamme de pression utilisée

1.4.2 Dynamique d'ouverture d'un boudin dans l'air ($M_{FK} \ll 1$)

1.4.2.1 Étude de l'ouverture d'un pli unique

1.4.2.1.1 Résultats expérimentaux

La figure 1.18a présente l'évolution de l'angle du pli du boudin θ en fonction du temps. La vitesse d'ouverture est croissante avec le rayon des tubes (courbes jaune et violette) et la pression



(a) Évolution temporelle de l'angle d'ouverture pour différents boudins et différentes pressions. (b) Évolution de l'angle d'ouverture en fonction de $(t/\tau_{air})^2$ pour différents boudins et différentes pressions.

FIGURE 1.18 – Mesures de l'angle d'ouverture en fonction du temps et modélisation

(courbes verte et violette) et décroissante avec la longueur (courbes bleue et violette). Cette évolution temporelle est non linéaire en temps ($\theta \approx t^2$).

1.4.2.1.2 Modélisation

Lors de l'ouverture, le centre de gravité du boudin ne se déplace pas. Les centres de gravité de chaque moitié de boudin se déplacent donc en translation à une vitesse $\frac{L_0}{4} \frac{\dot{\theta}}{2} \cos \frac{\theta}{2}$. Les moitiés de boudins sont aussi en rotation autour de leur centre de gravité à une vitesse angulaire $\frac{\dot{\theta}}{2}$. L'énergie cinétique du boudin de masse M_s pendant son ouverture vaut donc :

$$\mathcal{E}_c = M_s \left(\frac{L_0^2}{64} \cos^2 \frac{\theta}{2} + \frac{L_0^2}{192} \right) \dot{\theta}^2 \quad (1.28)$$

Si l'on note Γ le moment exercé par le pli sur le boudin, l'énergie stockée dans le pli est :

$$\mathcal{E}_p = \int_{\theta}^{\pi} \Gamma(s) ds \quad (1.29)$$

Cela conduit à l'équation du mouvement linéarisée :

$$M_s \left(\frac{L_0^2}{32} \right) \ddot{\theta} = \Gamma(\theta) \quad (1.30)$$

Si l'on fait l'hypothèse d'un couple indépendant de θ de l'ordre du couple critique pour l'apparition du pli $\Gamma = pR^3$, on obtient :

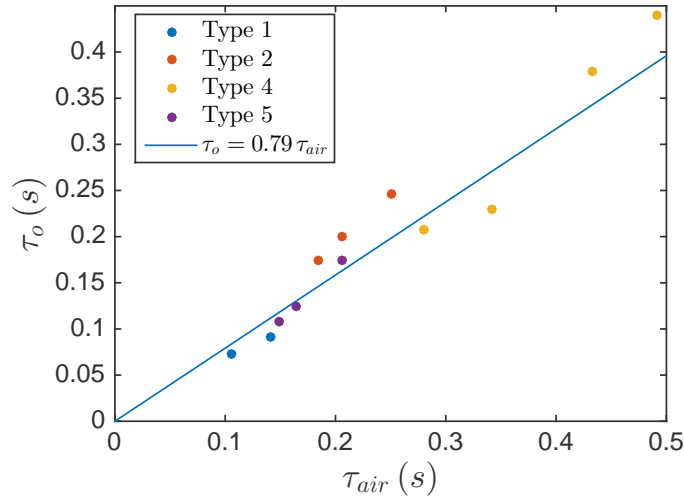


FIGURE 1.19 – Temps total d’ouverture en fonction de $\tau_{air} = \left(\frac{M_s L_0^2}{p R^3}\right)^{\frac{1}{2}}$ pour un seul pli. Le modèle présenté est la droite d’équation $t = 0.79 \tau_{air}$.

$$\theta(t) \approx \frac{p R^3}{M_s L_0^2} t^2 \quad (1.31)$$

Cette équation fait apparaître un temps caractéristique d’ouverture :

$$\tau_{air} = \left(\frac{M_s L_0^2}{p R^3}\right)^{\frac{1}{2}} \quad (1.32)$$

En adimensionnant le temps par cette valeur, on obtient une évolution linéaire de l’angle d’ouverture en fonction de $(t/\tau_{air})^2$ avec une pente de 5.2 (figure 1.18b).

Connaissant maintenant la forme de l’évolution temporelle de l’angle d’ouverture, nous pouvons nous concentrer sur le temps total d’ouverture. Si $\theta(t) = 5.2 (t/\tau_{air})^2$, le temps total d’ouverture tel que $\theta(\tau_o) = \pi$ devrait donc être $\tau_o = \sqrt{\pi/5.2} \tau_{air} \approx 0.79 \tau_{air}$. Les mesures de temps d’ouverture de différents boudins à différentes pressions ainsi que ce modèle sont représenté sur la figure 1.19.

1.4.2.2 Étude de l’ouverture d’un boudin à plusieurs plis

1.4.2.2.1 Résultats expérimentaux

Pour stocker le cerf-volant de manière plus compacte, on peut imaginer plier la structure plusieurs fois (schéma 1.16b). On effectue alors la même expérience avec le boudin plié plusieurs fois pour mesurer comment le nombre de plis influence la vitesse d’ouverture. Une expérience




FIGURE 1.20 – Chronophotographie de l'expérience d'ouverture de quatre plis ($N = 4$) pour un boudin de type 4 pour une pression $p = 2 \cdot 10^4$ Pa.

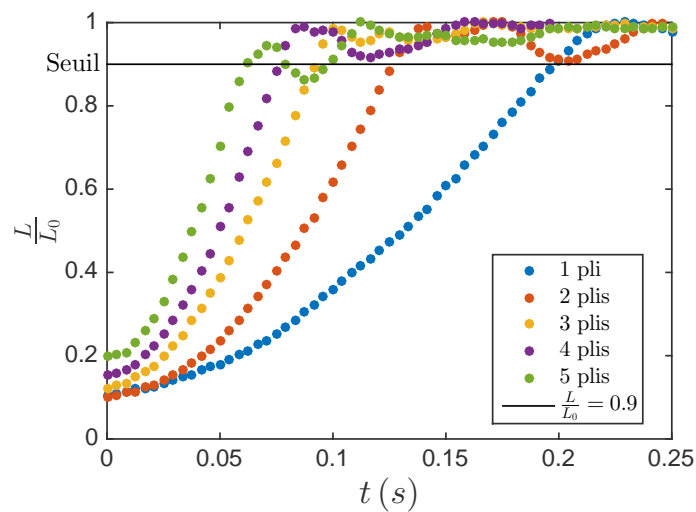


FIGURE 1.21 – Évolution de $\frac{L}{L_0}$ en fonction du temps pour un boudin de type 3 et une pression $p = 3 \cdot 10^4$ Pa pour 1, 2, 3, 4 et 5 plis. La ligne noire représente la valeur limite à laquelle on considère que le boudin est entièrement ouvert.

caractéristique d'ouverture d'une structure pour une structure à 4 plis est présentée sur la figure 1.20. Pour décrire la dynamique d'ouverture, on introduit la longueur L comme la distance entre les extrémités du boudin (figure 1.20).

La figure 1.21 montre l'évolution de L/L_0 en fonction du temps pour différents nombres de plis. Le temps d'ouverture τ_0 décroît avec le nombre de plis. Il passe de 0.2 s pour un seul pli à 0.06 s pour 5 plis.

1.4.2.2.2 Modélisation

Sur la figure 1.20 nous remarquons que lors de l'ouverture de la structure pliée plusieurs fois, tous les plis s'ouvrent en même temps. On peut donc voir ce système comme un enchainement de boudins pliés une fois dont on a réduit la longueur d'un facteur $N + 1$. Le temps d'ouverture d'un seul pli est proportionnel à τ_{air} . Si l'on note ρ_s la masse volumique de la membrane du boudin, on peut réécrire τ_{air} (1.32) :

$$\tau_{air} = \sqrt{\frac{2\pi\rho_s e}{pR^2}} L_0^{3/2} \quad (1.33)$$

On pose

$$L_N = \frac{2}{N+1} L_0 \quad (1.34)$$

de telle sorte que L_N/L_0 soit le rapport de longueur des segments d'une structure pliée N fois sur la longueur des segments d'une structure pliée une fois. Un pli seul d'une structure pliée N fois s'ouvre donc en un temps :

$$\tau_{Nair} = \sqrt{\frac{2\pi\rho_s e}{pR^2}} L_N^{3/2} \quad (1.35)$$

or, comme on peut le voir sur la chronophotographie 1.20, tous les plis s'ouvrent en même temps quand le boudin se déploie dans l'air. On peut donc en déduire que le temps d'ouverture est le même que pour l'ouverture d'un seul pli donc les segments sont de longueur L_N . Soit :

$$\tau_{Nair} = \sqrt{\frac{2\pi\rho_s e}{pR^2}} \left(\frac{2L_0}{N+1} \right)^{3/2} \quad (1.36)$$

Les résultats sont rassemblés sur la figure 1.22. Cette loi est compatible avec nos résultats. On obtient un temps d'ouverture qui vaut $\tau_o = 0.79\tau_{Nair}$.

1.4.3 Dynamique d'ouverture dans l'eau ($M_{FK} \gg 1$)

L'étude précédente ne prend pas en compte les forces de frottement fluide lors de l'ouverture du cerf-volant. En effet, les mesures précédentes ont été réalisées à des nombres de masse faibles ($M_{FK} < 0.3$). Pour augmenter M_{FK} , deux solutions sont possibles : augmenter la taille de la structure ou augmenter la masse volumique du fluide dans lequel sont réalisées les expériences. Nous avons choisi de réaliser la même expérience dans l'eau, ce qui nous permet d'atteindre un

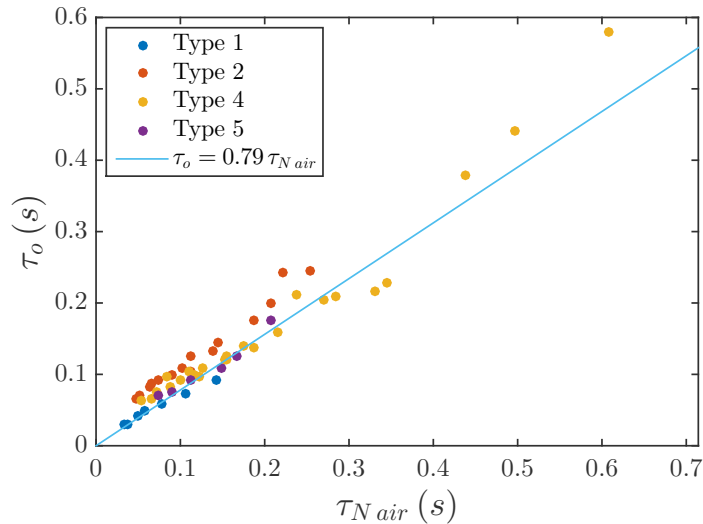


FIGURE 1.22 – Temps d’ouverture en fonction de $\tau_{N\ air} = \sqrt{\frac{16\pi\rho_s\epsilon L_0^3}{pR^2(N+1)^3}}$ ainsi que le modèle $t = 0.79\tau_{N\ air}$ déduit du cas du pli unique

nombre de masse de l’ordre de $M_{FK} = 10$.

Le dispositif expérimental est identique au précédent. Une chronophotographie de l’expérience est présentée sur la figure 1.23. Contrairement au cas du déploiement dans l’air (figure 1.20) où tous les plis s’ouvrent simultanément, on remarque sur la chronophotographie 1.23 que les plis s’ouvrent de façon séquentielle, celui du centre commence puis viennent les plis périphériques. Les propriétés des boudins utilisés sont données dans le tableau 1.3. La figure 1.24 compare les temps d’ouverture des expériences dans l’air et de celles dans l’eau. On voit que les temps d’ouverture dans l’eau sont entre quatre et six fois plus élevés que ce qui est prédit par le modèle des ouvertures dans l’air.

1.4.3.1 Étude de l’ouverture d’un boudin à pli unique

1.4.3.1.1 Résultats expérimentaux

De façon à comprendre ce nouveau régime, nous commençons par l’étude de la dynamique d’ouverture d’un pli unique. On mesure l’angle d’ouverture en fonction du temps pour différents boudins dans l’eau (figure 1.25). On peut observer deux régimes : aux temps courts l’angle d’ouverture semble évoluer non linéairement en temps puis évolue de manière linéaire.

1.4.3.1.2 Modélisation

Pour modéliser l’ouverture, on prend en compte le fluide au travers d’un terme de friction. La




FIGURE 1.23 – Chronophotographie de l'expérience d'ouverture de trois plis pour un boudin de type 1 dans l'eau.

| | Type 1 | Type 2 | Type 4 |
|-----------------------------|---------------------------------|---------------------|-------------------------------|
| Épaisseur e (m) | $6 \cdot 10^{-4}$ | $7 \cdot 10^{-4}$ | $6 \cdot 10^{-4}$ |
| Rayon R (m) | $5.9 \cdot 10^{-3}$ | $9.5 \cdot 10^{-3}$ | $1.0 \cdot 10^{-2}$ |
| Longueur L_0 (m) | 0.26 | 0.23 | 0.7 |
| Masse linéique M_s (g) | 40 | 90 | 270 |
| Pression p (Pa) | $2 \cdot 10^4 - 2.5 \cdot 10^4$ | $1.3 \cdot 10^4$ | $2 \cdot 10^4 - 3 \cdot 10^4$ |

TABLE 1.3 – Propriétés des boudins utilisés pour les expériences d'ouverture dans l'eau et gamme de pression utilisée. On utilise les mêmes boudins que pour les expériences dans l'air mais en les remplissant d'eau

figure 1.23 permet d'évaluer le nombre de Reynolds. Il est de l'ordre de $Re = \frac{RL\dot{\theta}}{\nu} \approx \frac{10^{-2}10^0}{10^{-6}} = 10^4$. On peut donc modéliser les forces de frottement par la traînée de forme d'un cylindre [49]. En ajoutant cette force de frottement à l'équation 1.30, on obtient :

$$M_s \left(\frac{L_0^2}{24} \right) \ddot{\theta} + \frac{1}{2} \rho_{eau} C_D R L_0^4 \dot{\theta}^2 = \Gamma \quad (1.37)$$

Calculons la forme exacte de la solution de cette équation. On pose :

$$\begin{cases} \tau_1^2 = \frac{mL_0^2}{24\Gamma} \\ \tau_2^2 = \frac{\rho_{eau} C_D R L_0^4}{2\Gamma} \end{cases} \quad (1.38)$$

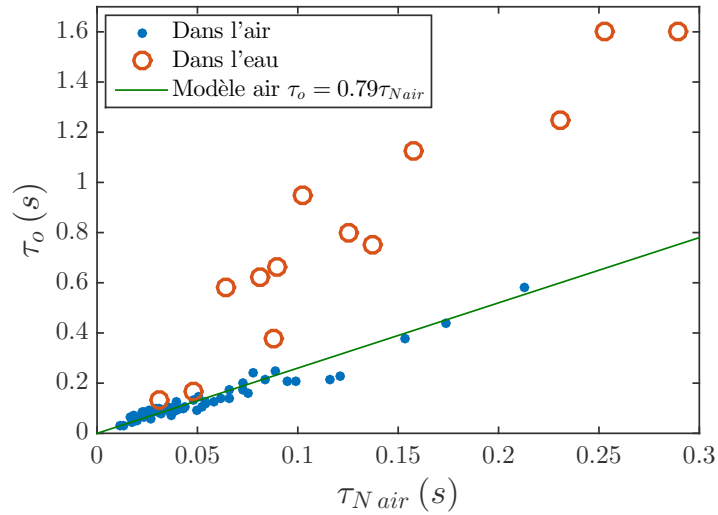


FIGURE 1.24 – Temps d'ouverture en fonction de $\tau_{N air}$ pour les expériences d'ouverture des boudins dans l'air et dans l'eau

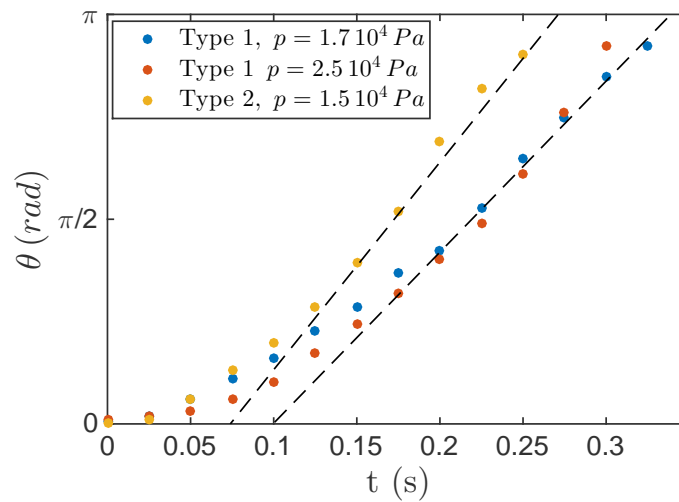


FIGURE 1.25 – Angle d'ouverture d'un pli unique en fonction du temps pour différents boudins et différentes pressions dans l'eau.

L'équation 1.37 devient :

$$\tau_1^2 \ddot{\theta} + \tau_2^2 \dot{\theta}^2 = 1 \quad (1.39)$$

On pose $u = \tau_2 \dot{\theta}$ et l'on sépare les variables pour obtenir :

$$\frac{du}{1-u^2} = \frac{\tau_2}{\tau_1^2} dt \quad (1.40)$$

Pour $t = 0$, $u = 0$. La solution est donc :

$$-\operatorname{th}^{-1}(u) = \frac{\tau_2}{\tau_1} t \quad (1.41)$$

On peut donc obtenir la forme de $\dot{\theta}$:

$$\dot{\theta} = \frac{1}{\tau_2} \operatorname{th} \left(\frac{\tau_2}{\tau_1} t \right) \quad (1.42)$$

En intégrant cette équation et en notant qu'à $t = 0$, $\theta = 0$, on obtient :

$$\theta(t) = \left(\frac{\tau_1}{\tau_2} \right)^2 \ln \left(\operatorname{ch} \left(\frac{\tau_2}{\tau_1} t \right) \right) \quad (1.43)$$

Une fois l'ouverture terminée, θ est d'ordre 1. Dans le cas où l'accélération domine la friction ($\tau_1 \gg \tau_2$), $\ln \left(\operatorname{ch} \left(\frac{\tau_2}{\tau_1} t \right) \right)$ doit tendre vers 0. Dans ce cas :

$$\theta(t) = \frac{1}{2} \left(\frac{t}{\tau_1} \right)^2 \quad (1.44)$$

Dans le cas où la friction domine l'accélération ($\tau_1 \ll \tau_2$), $\ln \left(\operatorname{ch} \left(\frac{\tau_2}{\tau_1} t \right) \right)$ doit tendre vers l'infini.

Dans ce cas :

$$\theta(t) = \frac{t}{\tau_2} \quad (1.45)$$

Dans les cas intermédiaires, l'accélération domine au temps courts et la friction domine au temps longs. On peut donc en déduire :

- Pour $\frac{\tau_2}{\tau_1} t < 1$, soit $t < \tau_1 \frac{\tau_1}{\tau_2}$, $\theta \approx \frac{t^2}{\tau_1^2}$. τ_1 est donc le temps caractéristique de l'accélération.
- Pour $\frac{\tau_2}{\tau_1} t > 1$, soit $t > \tau_1 \frac{\tau_1}{\tau_2}$, $\theta \approx \frac{t}{\tau_2}$. La vitesse d'ouverture est alors constante.

La transition entre ces deux régimes se produit pour $t = \tau_1 \frac{\tau_1}{\tau_2}$, soit $\theta_c = \left(\frac{\tau_1}{\tau_2} \right)^2$.

$$\theta_c = \frac{1}{M_{KL}} \frac{R}{L} \frac{1}{12c_D} \quad (1.46)$$

L'angle critique est donc inversement proportionnel au nombre de masse M_{KL} .

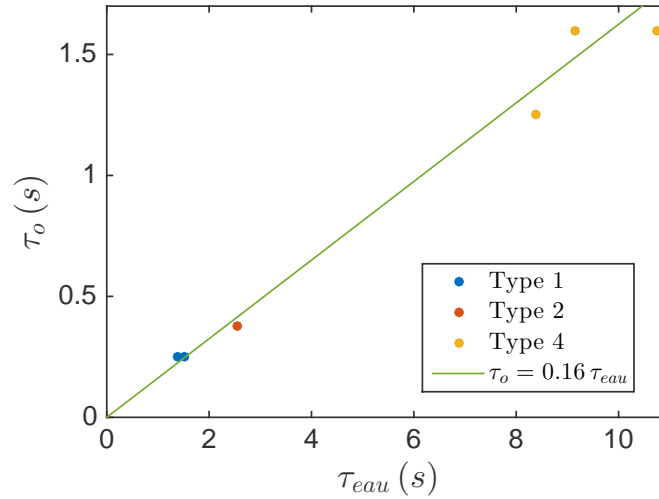


FIGURE 1.26 – Temps d'ouverture dans l'eau pour des boudins pliés une fois en fonction de

$$\tau_{eau} = \sqrt{\frac{\rho_{eau}}{p}} \frac{L_0^2}{R}.$$

- Si $M_{KL} \ll 1$, $\theta_c > \pi$ la vitesse limite n'est pas atteinte lors de l'ouverture : c'est le cas des expériences dans l'air.
- Si $M_{KL} \gg 1$, $\theta_c < \pi$ la vitesse limite est atteinte lors du mouvement. C'est le cas pour les expériences dans l'eau.

Dans notre cas, $\theta_c \approx 10^{-2}$. La loi d'ouverture est donc $\theta(t) = \frac{t}{\tau_2}$ et le temps caractéristique d'ouverture est τ_2 qu'on notera par la suite τ_{eau} . En prenant comme couple caractéristique $\Gamma = pR^3$, on obtient :

$$\tau_{eau} = \sqrt{\frac{\rho_{eau}}{p}} \frac{L_0^2}{R} \quad (1.47)$$

L'évolution du temps d'ouverture en fonction de ce temps caractéristique est présentée sur la figure 1.26. Le modèle semble fonctionner et le temps d'ouverture vaut environ $\tau_o = 0.16 \tau_{eau}$.

1.4.3.2 Étude de l'ouverture d'un boudin à plusieurs plis

1.4.3.2.1 Résultats expérimentaux

Nous étudions maintenant l'ouverture d'un boudin à plusieurs plis en le plaçant dans l'eau. Comme dans le cas des expériences dans l'air, nous considérons que le boudin est ouvert lorsque $L > 0.9 L_0$. L'évolution du paramètre L en fonction du temps est présentée sur la figure 1.27. Comme dans l'air, le temps d'ouverture diminue encore lorsque le nombre de plis augmente. Le temps d'ouverture est de l'ordre de $0.2 s$ pour $N = 1$ et diminue à $0.06 s$ pour $N = 3$.

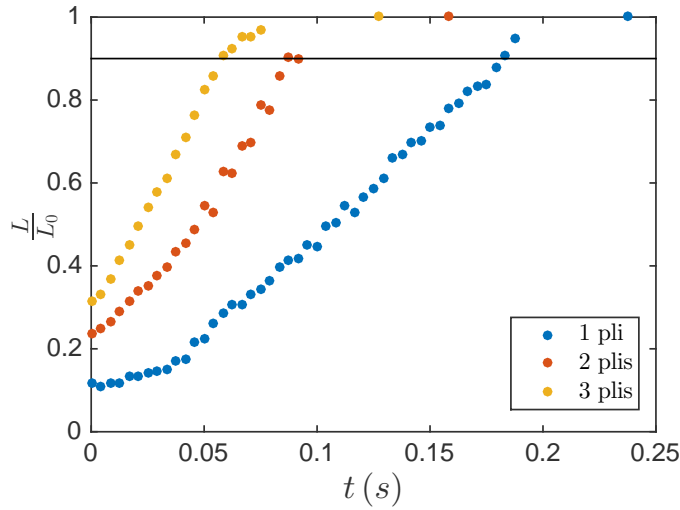


FIGURE 1.27 – Évolution du paramètre $\frac{L}{L_0}$ en fonction du temps pour 1, 2 et 3 plis pour un boudin de type 1 et une pression interne de $2.5 \cdot 10^4$ Pa.

Si la cinématique d'ouverture était la même que dans l'air, l'ouverture se passerait comme si tous les plis s'ouvraient indépendamment. Le temps d'ouverture d'un pli étant proportionnel à L_0^2 , on s'attend à ce que le temps d'ouverture diminue comme $\left(\frac{2}{N+1}\right)^2$. Or l'évolution du temps d'ouverture est plus proche de $\frac{2}{N+1}$.

1.4.3.2.2 Modélisation

Pour comprendre ce comportement, il est nécessaire de regarder plus précisément la dynamique d'ouverture d'une structure pliée plusieurs fois dans l'eau. La chronophotographie présentée sur la figure 1.23 nous montre que tous les segments du boudin ne s'ouvrent pas en même temps. On note τ_N le temps d'ouverture d'un pli dans cette configuration et $\tau_{N_{eau}}$ le temps caractéristique total d'ouverture de la structure. On a alors :

$$\tau_N = \left(\frac{2}{N+1}\right)^2 \tau_{eau} \quad (1.48)$$

Considérons que le pli central s'ouvre, puis que les $(N+1)/2 - 1$ suivants s'ouvrent les un après les autres symétriquement. La dépendance en le nombre de plis est alors :

$$\tau_{N_{eau}} = \left(\frac{\left(\frac{N+1}{2} - 1\right)}{2} + 1\right) \tau_N \quad (1.49)$$

Soit :

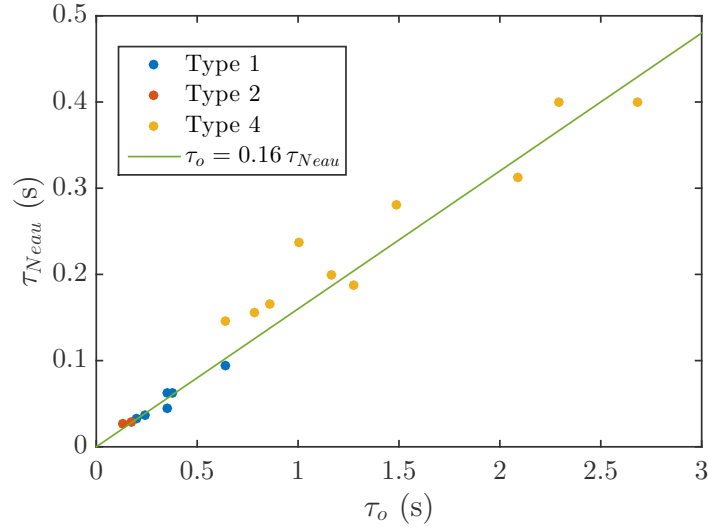


FIGURE 1.28 – Temps d'ouverture d'un boudin plié plusieurs fois dans l'eau en fonction du temps

caractéristique $\tau_{N\text{eau}} = \sqrt{\frac{\rho_{\text{eau}}}{p} \frac{L_0^2}{NR}}$.

$$\tau_{N\text{eau}} = \frac{N+3}{(N+1)^2} \tau_{\text{eau}} = \frac{N+3}{(N+1)^2} \sqrt{\frac{\rho_{\text{eau}}}{p} \frac{L_0^2}{R}} \quad (1.50)$$

On déduit du temps d'ouverture d'un pli que

$$\tau_o = 0.16 \tau_{N\text{eau}} \quad (1.51)$$

Ce temps caractéristique est testé sur la figure 1.28. Les données s'alignent sur une droite d'équation $\tau_o = 0.16 \tau_{N\text{eau}}$.

1.4.4 Temps d'ouverture de cerf-volants réels

Selon le diagramme des phases 1.2, les cerf-volants réels sont dans le domaine $M_{FK} \gg 1$. La loi d'ouverture pour un cerf-volant est différente de celle d'un boudin seul car la surface de friction est plus importante. On peut écrire :

$$\tau_{\text{o kite}} \approx \sqrt{\frac{\rho_{\text{air}}}{p} \frac{L_0^{\frac{5}{2}}}{NR^{\frac{3}{2}}}} \quad (1.52)$$

Pour un cerf-volant dont les dimensions varient de manière autosimilaire ($L_0 \approx R \approx e$), la condition $\sigma_{\text{lim}} = \frac{pR}{e}$ donne une pression dans le boudin qui ne dépend pas de la taille du

cerf-volant. Le temps d'ouverture du cerf-volant en fonction des paramètres de dimension et du nombre de plis devient alors :

$$\tau_{okite} \approx \left(\frac{\rho_{air} L_{0ref}^3}{p R_{ref}^3} \right)^{\frac{1}{2}} \frac{L_0}{N} \quad (1.53)$$

Le temps d'ouverture est donc de l'ordre de 0.3 s.m^{-1} pour une structure pliée une fois. La question est ensuite d'optimiser le nombre de plis en fonction du temps d'ouverture recherché mais aussi de la complexité entraînée par les plis supplémentaires. Nous allons maintenant comparer ce temps d'ouverture à celui obtenu quand l'ouverture est assistée par un écoulement.

1.5 Déploiement des boudins avec toile

Dans cette partie, nous allons étudier l'importance relative de l'écoulement et de l'élasticité dans l'ouverture d'une structure. Nous allons nous placer dans une situation avec un grand nombre de masse et explorer une large gamme de nombre de Cauchy.

1.5.1 Dispositif expérimental

L'expérience est présentée sur les figures 1.29 et 1.30. Elle consiste à tracter un cerf-volant dans un bassin d'eau et à mesurer son temps d'ouverture en fonction des différents paramètres du système. Le cerf-volant est constitué d'un triangle rigide articulé de taille caractéristique $L_0 = 40$ cm. L'articulation est un cylindre élastique qui maintient la structure ouverte. Les propriétés des cylindres utilisés sont résumées dans le tableau 1.4. Il est plié avec un rayon de courbure $r_c \approx 1$ cm. L'énergie élastique stockée dans le pli est de l'ordre de EI/r_c . Pour se ramener à un boudin gonflable, on peut substituer à cette valeur l'énergie pR^3 .

| | Nylon | Polyvinylesiloxane 1 | Polyvinylesiloxane 2 |
|------------------------------------|---------------------|----------------------|----------------------|
| Rayon R (m) | $4 \cdot 10^{-4}$ | $1.0 \cdot 10^{-2}$ | $1.0 \cdot 10^{-2}$ |
| Rayon de courbure r_c (m) | $2.0 \cdot 10^{-2}$ | $2.0 \cdot 10^{-2}$ | $2.0 \cdot 10^{-2}$ |
| Rigidité EI (Pa.m ⁴) | $8.2 \cdot 10^{-5}$ | $1.0 \cdot 10^{-3}$ | $5.7 \cdot 10^{-3}$ |

TABLE 1.4 – Propriétés de l'articulation élastique du cerf-volant tracté

Le schéma du cerf-volant est donné sur la figure 1.29. Ce cerf-volant est attaché à une tige verticale tractée sur une distance de 2 m à une vitesse constante allant de 0.01 m.s^{-1} à 0.7 m.s^{-1} dans un bassin d'eau. Il est maintenu fermé par un élastique. À un instant fixé, l'élastique est retiré. Le cerf-volant s'ouvre alors sous l'effet combiné de l'élasticité et des forces hydrodynamiques. On définit le temps d'ouverture τ_o comme le temps pour lequel $L/L_0 = 0.9$. Pour marquer cet instant avec plus de netteté dans l'analyse d'image, on fixe aux extrémités du cerf-volant un fil qui bloque l'ouverture à cette valeur de L . L'expérience est filmée à 240 images par secondes du bord de la cuve pour voir précisément le temps de début et de fin d'ouverture. Une séquence de l'expérience est montrée sur la figure 1.31.

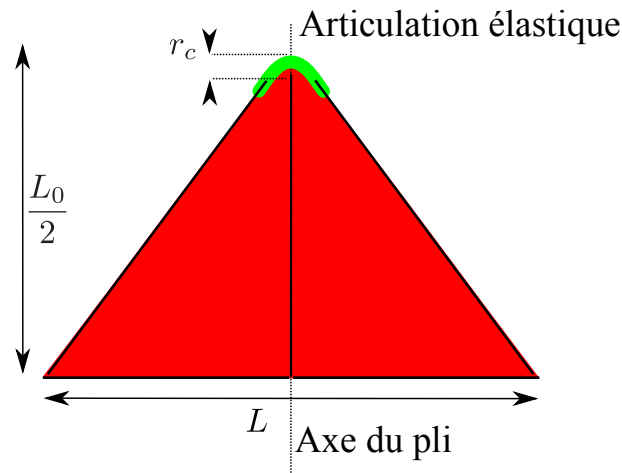


FIGURE 1.29 – cerf-volant utilisé pour les ouvertures tractées. Il s'agit d'un triangle de tissu tendu sur un cadre en bois (représenté par les traits noirs). Le cylindre vert donne son élasticité à la structure. Il relie les deux tiges de bois de structure du cerf-volant.

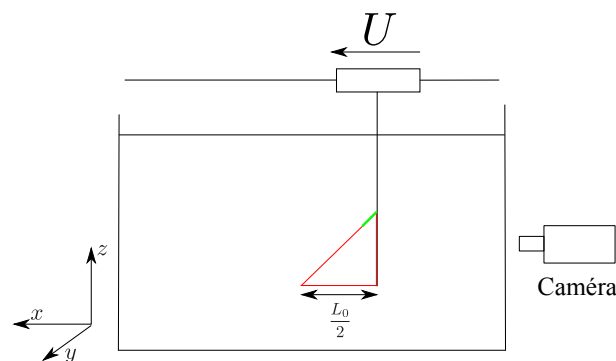


FIGURE 1.30 – Dispositif expérimental pour les ouvertures tractées. La cuve mesure 3 m de long et un chariot motorisé permet de tracter des objets dans l'eau à des vitesses allant de 0.01 m.s^{-1} à 1 m.s^{-1} sur une distance de 2 m.

1.5.2 Résultats

Des résultats présentant l'évolution de la distance entre les bras du cerf-volant L en fonction du temps sont présentés sur la figure 1.32. Pour les faibles vitesses, 0.01 m.s^{-1} et 0.1 m.s^{-1} , le temps d'ouverture varie peu et passe de 1.4 s à 1.2 s. Quand on augmente encore la vitesse à 0.4 m.s^{-1} , le temps d'ouverture est divisé par 3 et passe à 0.4 s. Les résultats présentant le temps d'ouverture des différents cerf-volants en fonction de la vitesse de traction sont donnés sur la figure 1.33.

On observe deux régimes distincts : pour des vitesses faibles, le temps d'ouverture dépend peu de la vitesse de l'écoulement et est essentiellement fixé par l'élasticité de la structure. Plus la structure est rigide, plus elle s'ouvre vite : le temps d'ouverture est multiplié par 10 (τ_o passe de 0.6 s à 6 s) quand l'élasticité est divisée par 100 (EI passe de $8.2 \cdot 10^{-5} \text{ Pa.s}^4$ à $5.7 \cdot 10^{-3} \text{ Pa.s}^4$).




FIGURE 1.31 – Chronophotographie de l'expérience d'ouverture dans le plan yOz pour une vitesse d'écoulement $U = 0.15 \text{ m.s}^{-1}$ et une rigidité $EI = 5.6 \cdot 10^{-3} \text{ Pa.m}^4$. Sur ces images, le cerf-volant s'éloigne de la caméra ($U_x > 0$).

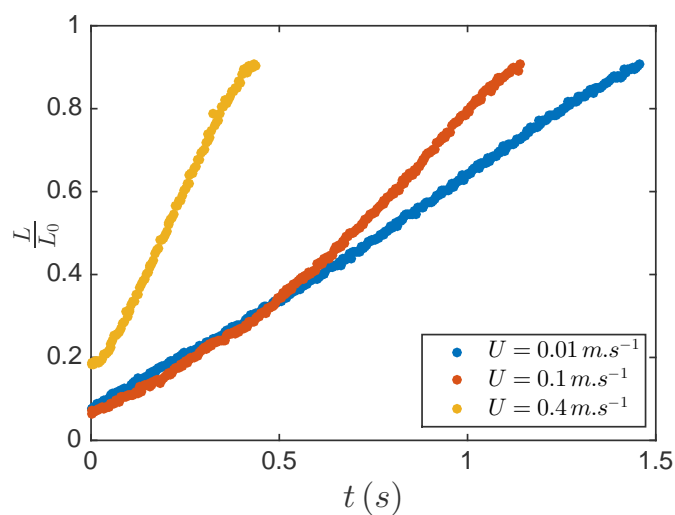


FIGURE 1.32 – Évolution du paramètre $\frac{L}{L_0}$ en fonction du temps pour différentes vitesses de traction pour une rigidité de l'articulation $EI = 10^{-5} \text{ Pa.m}^4$.

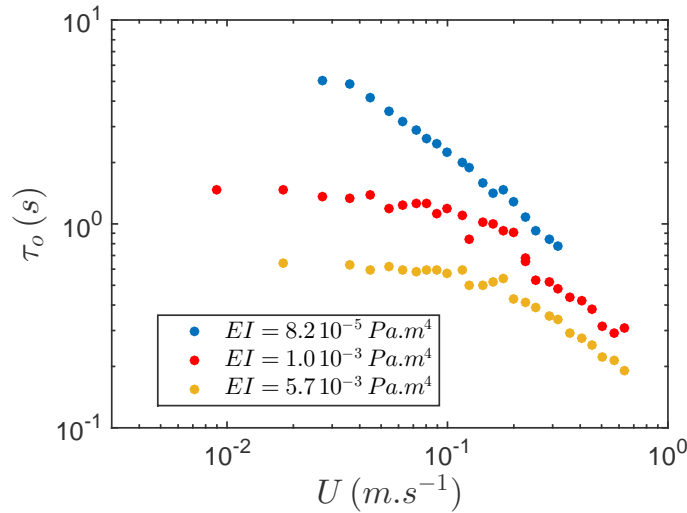


FIGURE 1.33 – Évolution du temps d'ouverture τ_o en fonction de la vitesse de traction U pour des vitesses allant de 0.01 m.s^{-1} à 0.7 m.s^{-1} . Les différentes courbes donnent les résultats expérimentaux pour différentes rigidités : $EI = 8.2 \cdot 10^{-5}$, $1.0 \cdot 10^{-3}$ et $5.6 \cdot 10^{-3} \text{ Pa.m}^4$.

Cette observation est compatible avec un temps d'ouverture sans écoulement qui évolue comme $(EI)^{-1/2}$. Pour des vitesses élevées, le temps d'ouverture décroît quand la vitesse de traction augmente.

1.5.3 Modélisation de l'effet de la vitesse

Quand la vitesse est élevée, les efforts fluides sont grands devant les efforts dus à la rigidité de l'articulation. De plus, le nombre de masse vaut $M_{KL} \approx 10^3$. L'énergie cinétique du cerf-volant sera donc toujours négligeable devant l'énergie cinétique du fluide environnant. Cette énergie sera fournie par l'énergie élastique stockée dans l'articulation et par l'écoulement extérieur. Cela se traduit par l'équilibre :

$$\rho_{eau} \frac{L_0^5}{\tau_o^2} = \rho_{eau} U_0^2 L_0^3 + \frac{EI}{r_c} \quad (1.54)$$

Dans le cas où l'écoulement est lent, le cerf-volant s'ouvre comme dans un fluide au repos. L'énergie élastique est dissipée sous forme d'énergie cinétique du fluide. La loi d'échelle gouvernant l'ouverture est donc :

$$\rho_{eau} L_0^2 \left(\frac{L_0}{\tau_o} \right)^2 L_0 \approx \frac{EI}{r_c} \quad (1.55)$$

On peut alors définir un temps hydro-élastique $\tau_{elastique}$ comme il suit :

$$\tau_{elastique} \approx \sqrt{\frac{\rho_{eau} L_0^5 r_c}{EI}} \quad (1.56)$$

Lorsque la vitesse de l'écoulement est importante, l'effet de l'élasticité est négligeable. Le cerf-volant est alors emporté par le fluide. Comme sa masse est négligeable devant celle du fluide environnant, il s'ouvre à la vitesse de l'écoulement. Le temps caractéristique d'ouverture est donc de l'ordre de :

$$\tau_{ecoulement} = \frac{L_0}{U_0} \quad (1.57)$$

La transition se produit quand l'énergie due à l'écoulement et celle due à l'élasticité sont du même ordre, soit quand l'écoulement a une vitesse critique :

$$U^* = \sqrt{\frac{EI}{\rho_{eau} L_0^3 r_c}} \quad (1.58)$$

Sur la figure 1.34, on trace le temps d'ouverture τ_o adimensionné par le temps élastique $\tau_{elastique}$ en fonction de la vitesse de l'écoulement U_0 adimensionnée par la vitesse critique U^* . Pour des vitesses faibles devant la vitesse critique, le temps d'ouverture τ_o ne dépend pas de la vitesse de l'écoulement. Pour des vitesses élevées, le temps d'ouverture est inversement proportionnel à la vitesse de l'écoulement. La loi gouvernant le temps d'ouverture peut donc s'écrire :

$$\begin{cases} \tau_o = 0.4 \tau_{elastique} = 0.4 \sqrt{\frac{\rho_{eau} L_0^5 r_c}{EI}} & \text{pour } U \ll U^* \\ \tau_o = 0.15 \frac{L_0}{U_0} & \text{pour } U \gg U^* \end{cases} \quad (1.59)$$

Cette expérience montre qu'en dimensionnant convenablement une structure élastique qui se déploie dans un écoulement, il est possible de réduire significativement son temps d'ouverture.

1.5.4 Dimensionnement

La relation $\tau_{ecoulement} > 2 \tau_{elastique}$ permet de dimensionner les boudins du cerf-volant pour que leur rigidité ait un impact non négligeable sur le temps d'ouverture. On peut réécrire $\tau_{elastique}$ en substituant l'énergie du pli d'un boudin à l'énergie élastique. On obtient alors :

$$\tau_{elastique} = \sqrt{\frac{\rho_{fluide} L_0^5}{p R^3}} \quad (1.60)$$

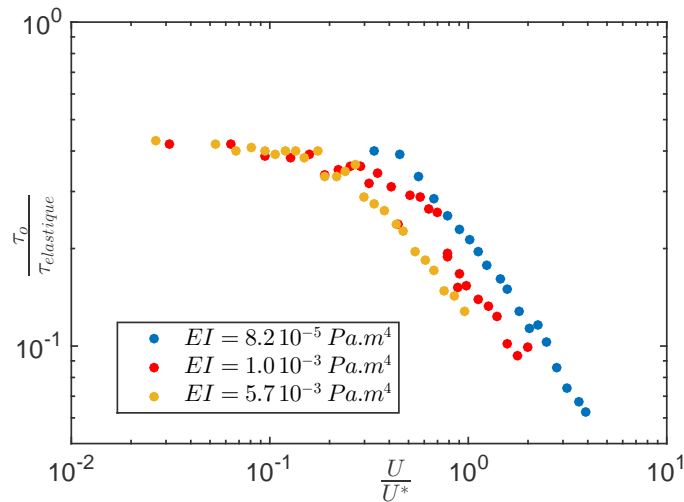


FIGURE 1.34 – Temps d'ouverture adimensionné par $\tau_{elastique}$ en fonction de la vitesse de l'écoulement adimensionnée par U^* pour $EI = 8.2 \cdot 10^{-5}$, $1.0 \cdot 10^{-3}$ et $5.6 \cdot 10^{-3} \text{ Pa.m}^4$.

Cela donne un rapport d'aspect minimal entre le rayon du boudin et l'envergure du cerf-volant valant :

$$\frac{R}{L} \approx \left(\frac{\rho_{air} U^2}{p} \right)^{\frac{1}{3}} \quad (1.61)$$

Ce rapport vaut environ 0.05 pour les vents les plus faibles auxquels le cerf-volant peut voler ($U \approx 3 \text{ m.s}^{-1}$). Pour une aile dont l'envergure vaut 5 fois sa corde, le diamètre du boudin principal vaudrait la moitié de la corde de l'aile. Ce rapport d'aspect paraît trop important pour que le cerf-volant ait de bonnes performances. Nous en concluons que si le vent est suffisant pour faire voler le cerf-volant, il est aussi le principal moteur de son ouverture. La rigidité apportée par la structure élastique n'a que peu d'impact sur le temps d'ouverture du cerf-volant. Son principal intérêt est donc de pouvoir maintenir le cerf-volant ouvert malgré son poids. Le facteur le plus important à prendre en compte dans le dimensionnement des boudins du cerf-volant est sa capacité à porter son propre poids (voir précédemment la partie 1.3.6).

1.6 Conclusion sur l'ouverture de structures gonflables appliquée aux grands cerf-volants

Dans ce chapitre, nous avons vu l'impact de deux nombres adimensionnés sur l'ouverture de structures gonflables dans un écoulement. Les temps caractéristiques d'ouverture en fonction du nombre de masse et du nombre de Cauchy sont rassemblés sur la figure 1.35. Il apparaît que les cerf-volants réels se situent dans la configuration où le temps d'ouverture est dominé par l'effet de l'écoulement extérieur ($\tau_o \approx \frac{L_0}{U}$). L'élasticité aura peu d'impact sur le temps d'ouverture, mais reste importante pour que le cerf-volant puisse soutenir son poids et donc décoller plus facilement. La structure gonflable lui permettra aussi de flotter.

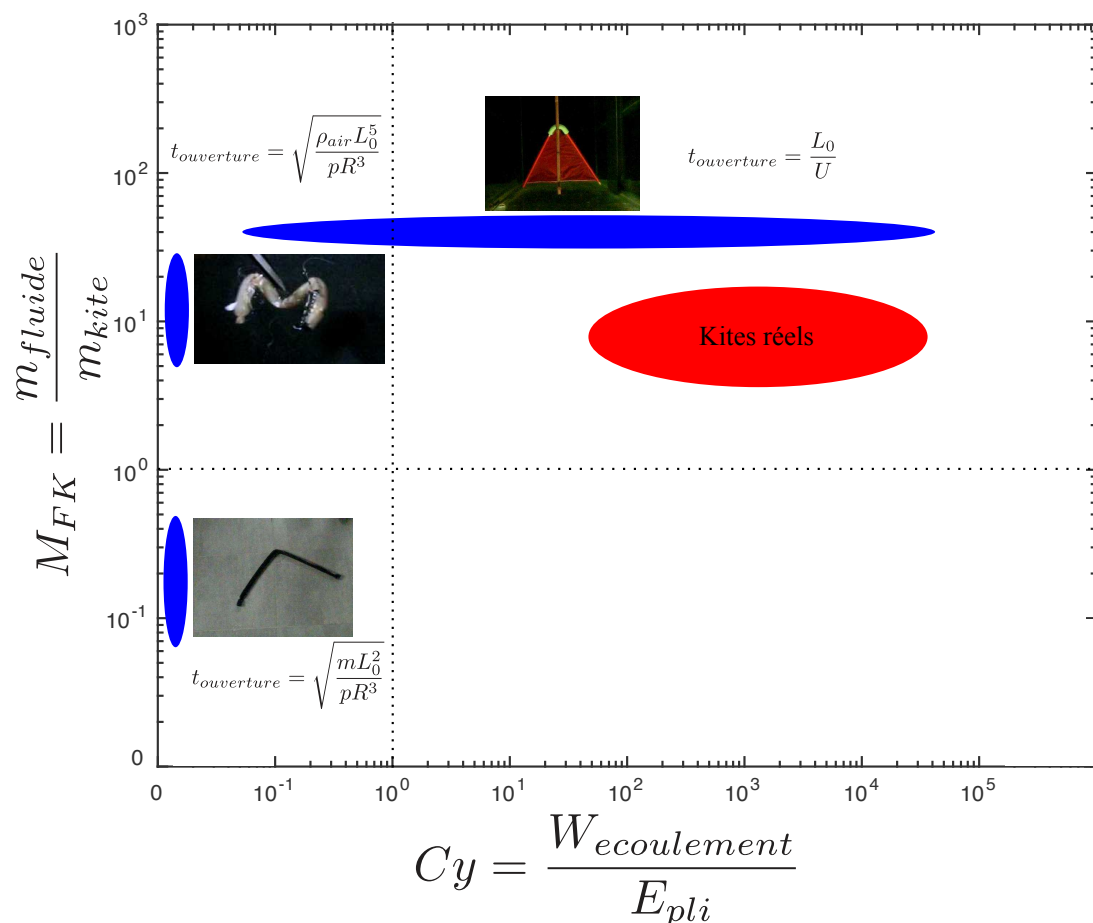


FIGURE 1.35 – Diagramme du nombre de masse en fonction du nombre de Cauchy présentant les expériences étudiées dans ce chapitre.

Notre cerf-volant peut maintenant décoller, essayons de le faire rester en l'air...

Chapitre 2

Vol d'un cerf-volant

« Kites rise highest against the wind, not with it. »

Winston Churchill

2.1 Introduction

L'étude de la position d'équilibre et de la stabilité des cerf-volants est ancienne. Albert Euler (le fils du célèbre Leonhard Euler) en fait une première étude en 1758 [50]. L'étude est ensuite poursuivie par Jorge Juan y Santacilia en 1783 [51]. Ce dernier étudie la position d'équilibre d'un cerf-volant maintenu par une seule suspente comme présenté sur le schéma 2.1. Dans l'introduction de son étude, il fait une remarque sur la stabilité en critiquant l'étude d'Euler :

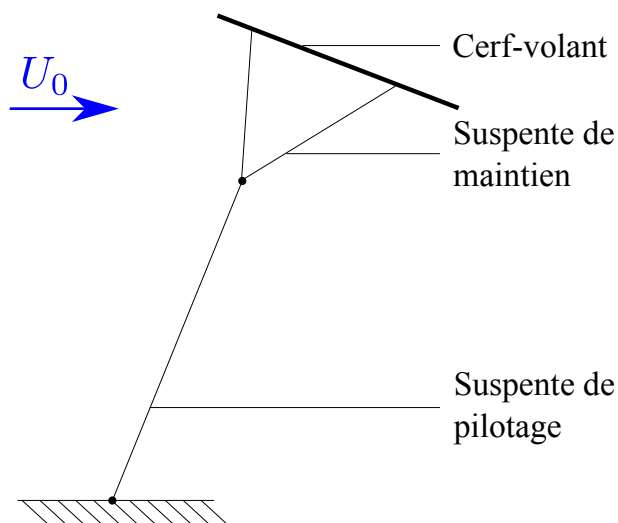


FIGURE 2.1 – Schéma du cerf-volant monofil étudié par J. Santacilia [51]

« Cet auteur s'est assujéti, dans cette théorie, à attacher la ficelle seulement dans un point déterminé du cerf-volant, ce qui, dans la pratique, ne produiroit jamais aucun bon effet. L'usage ordinaire est d'attacher au cerf-volant deux, trois ou quatre ficelles qui se réunissent à une petite distance, pour n'en former ensuite qu'une seule. Par cette disposition, le cerf-volant se maintient dans sa position, sans pouvoir se mouvoir, ou tourner sur aucun de ses diamètres ; au lieu dit que si l'on néglige cette précaution, il se dérange facilement au moindre accident et se précipite vers la terre. »

Deux remarques importantes sont faites ici : la première est qu'il est impossible de faire voler un cerf-volant en ne l'attachant qu'à une seule suspente. La deuxième est que si l'on ne respecte pas certaines précautions, le cerf-volant est facilement instable. On peut distinguer le nombre de suspentes quittant le cerf-volant (suspentes de maintien) et le nombre de suspentes effectivement réglables par le pilote (suspente de pilotage). Si l'on trouve des cerf-volants souples ayant des dizaines de suspentes de maintien de l'aile, le nombre de suspentes de pilotage varie toujours entre 1 et 4. Ces cerf-volants donnent différents niveaux de contrôle sur l'aile et ont des usages différents résumés dans le tableau 2.1 et illustrés dans la figure 2.2. Dans cette étude, nous nous concentrons sur des cerf-volants avec trois suspentes de contrôle qui assurent un dispositif isostatique.

| Nombre de suspentes de pilotage | Paramètres généralement réglables | Principaux usages |
|---------------------------------|--|--------------------------------------|
| 1 | Longueur de la suspente | Loisir, météo, observation... |
| 2 | Direction de vol | Loisir, pilotage de précision... |
| 3 | Direction de vol et force de traction | Génération d'électricité, propulsion |
| 4 | Direction et sens de vol, force de traction, forme | Pilotage de précision |

TABLE 2.1 – Résumé des caractéristiques et des usages des cerf-volants en fonction du nombre de suspentes de pilotage.




FIGURE 2.2 – a) Cerf-volant à une suspenste de pilotage. b) Cerf-volant à deux suspenstes de pilotage. c1) Cerf-volant à trois suspenstes de pilotage et c2) système de pilotage avec une ligne centrale fixée sur le bord d'attaque du cerf-volant et deux lignes de pilotages fixées sur le bord de fuite. d) Cerf-volant à quatre suspenstes de pilotage.

2.2 Rappels sur le vol et la stabilité de corps profilés

2.2.1 Vol d'une aile

Les cerf-volants que nous utilisons sont des corps profilés. Du fait des applications aéronautiques, ce domaine est largement étudié. Nous rappelons ici les éléments de base concernant les efforts qui s'appliquent quand un corps profilé est placé dans un écoulement [24].

2.2.1.1 Circulation

La circulation Γ d'un écoulement de vitesse \mathbf{u} autour d'un contour fermé \mathcal{C} tel qu'une aile est par définition :

$$\Gamma = \oint_{\mathcal{C}} \mathbf{u} \cdot d\mathbf{l} \quad (2.1)$$

Dans un écoulement de fluide parfait incompressible, la circulation se conserve (théorème de Kelvin [24]) .

2.2.1.2 Relation entre portance et circulation

Dans le régime des grands Reynolds, un objet d'envergure infinie placé dans un écoulement de vitesse U_0 est soumis à une force de portance par unité de longueur F_L , perpendiculaire à l'écoulement, qui dépend de la circulation Γ autour de cet objet selon la relation de Blasius[52] :


$$F_L = \rho U_0 \Gamma \quad (2.2)$$

Pour un cylindre de rayon R en rotation à une vitesse angulaire ω , la circulation vaut :

$$\Gamma = 2\pi R^2 \omega \quad (2.3)$$

Ces deux équations permettent de retrouver la portance d'un rotor de Flettner donnée dans l'introduction (équation 0.5.2 page 14).

Pour une plaque mince d'envergure infinie et de corde c placée avec un angle d'incidence α dans un écoulement de vitesse U_0 , une circulation autour de l'aile apparaît lors de la formation du tourbillon de démarrage [53]. Pour les petits angles, cette circulation vaut [24] :



- (a) Plaque mince placée avec un angle d'incidence $\alpha = 2.5^\circ$ avec l'écoulement à un nombre de Reynolds $Re = U_0 c / \nu = 10000$. L'écoulement est attaché à l'extrados de la plaque sur la majorité de sa longueur.
- (b) Plaque mince placée avec un angle d'incidence $\alpha = 20^\circ$ avec l'écoulement à un nombre de Reynolds $Re = 10000$. L'écoulement est entièrement détaché sur l'extrados de la plaque.

FIGURE 2.3 – Visualisation des lignes de courant autour d'une plaque mince pour deux angles d'incidence différents. Photographie ONERA, Werlé 1974 [54].

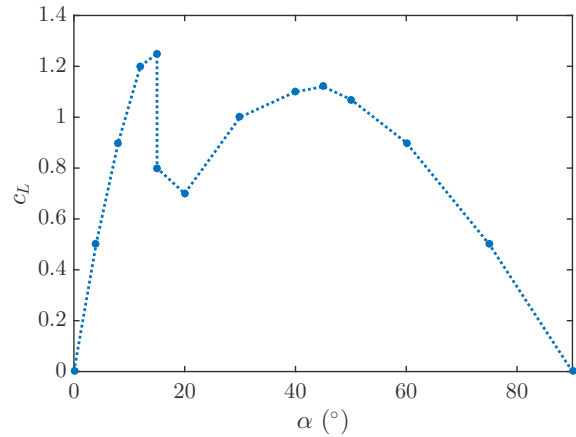
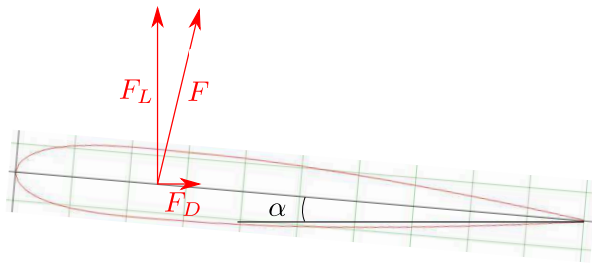
$$\Gamma = 2\pi U c \sin \alpha \quad (2.4)$$

Cette formule est valable pour les profils d'ailes fins sans courbure dont le bord de fuite est anguleux. La limite de validité de cette formule en angle d'incidence dépend du profil d'aile et varie entre $\alpha = 10^\circ$ et $\alpha = 20^\circ$. Au delà de cet angle limite, l'écoulement change de morphologie. Sur la figure 2.3a, nous pouvons voir que pour un angle d'incidence faible ($\alpha = 2.5^\circ$), les lignes de courant suivent le profil de l'aile. Sur la figure 2.3b, l'angle d'incidence est plus fort ($\alpha = 20^\circ$) et la couche limite s'est décrochée de l'extrados de l'aile. Une bulle de recirculation est apparue.

Le décrochage de la couche limite fait chuter violemment la portance (en aviation, on d'ailleurs appelle ce phénomène le décrochage). Pour des angles d'incidence plus importants, la portance ré-augmente pour atteindre un maximum local autour de $\alpha \approx 45^\circ$ puis décroît jusqu'à 0 pour $\alpha = 90^\circ$ [55]. On définit le coefficient de portance c_L comme il suit :

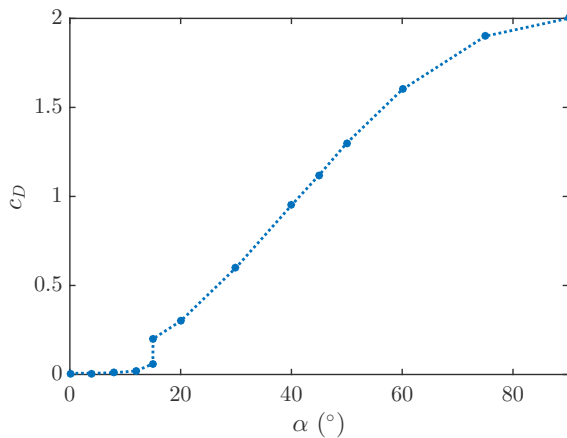
$$c_L = \frac{F_L}{\frac{1}{2} \rho c U_0^2} \quad (2.5)$$

Le comportement du coefficient de portance en fonction de l'angle d'incidence pour un profil NACA 0012 (forme donnée sur la figure 2.4a) est donné sur la figure 2.4b.

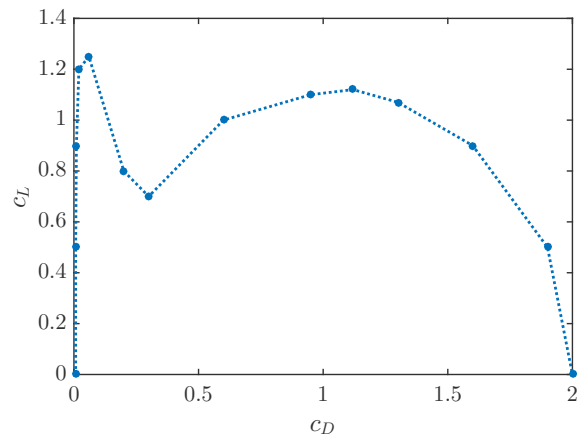


(a) Profil d'une aile NACA 0012 (aile symétrique sans cambrure dont l'épaisseur mesure 12% de la corde [56]).

(b) Coefficient de portance



(c) Coefficient de traînée



(d) Polaire

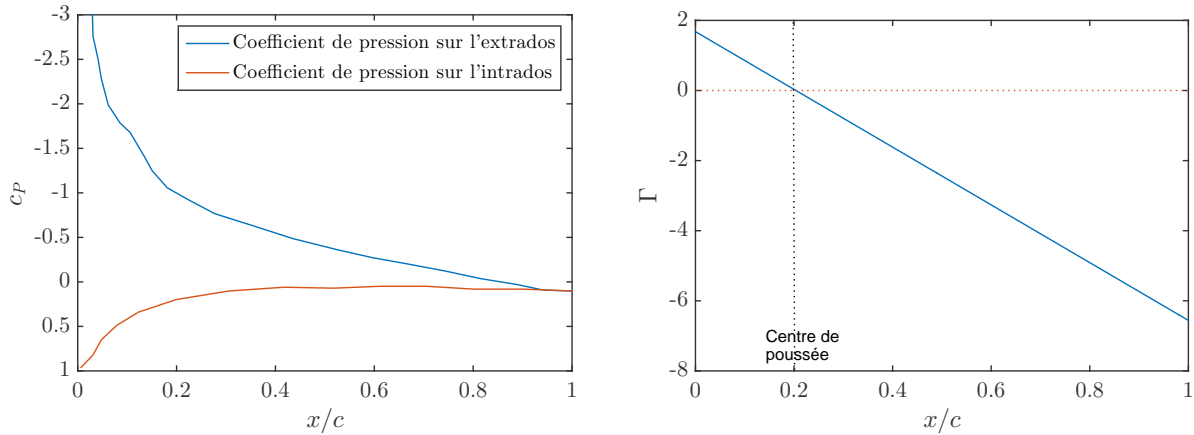
FIGURE 2.4 – Coefficients de portance et de traînée en fonction de l'angle d'incidence pour un profil NACA 0012 pour des nombres de Reynolds de 10^6 [55]. La polaire est tracée sur la figure d)

2.2.1.3 Origine de la traînée

Une aile dans un écoulement subit aussi une force parallèle à cet écoulement appelée force de traînée F_D . Cette force dépend fortement de l'angle d'incidence de l'aile. On définit le coefficient de traînée comme il suit :

$$c_D = \frac{F_D}{\frac{1}{2}\rho c U_0^2} \quad (2.6)$$

Pour un angle d'incidence nul, la traînée est due à la friction de couche limite qui, selon la nature laminaire ($Re < 5 \cdot 10^5$) ou turbulente ($Re > 5 \cdot 10^5$) de l'écoulement, vaut [57] :



(a) Coefficient de pression $c_P = 2P/(\rho U_0^2)$ à la surface d'une aile en fonction de la fraction la distance au bord d'attaque. (b) Moment Γ exercé par les efforts de pression en fonction du point d'application sur la corde de l'aile. Le centre de poussée est le point où le moment est nul.

FIGURE 2.5 – Efforts de pression et moment appliqués sur une aile NACA 0012 pour un angle d'incidence de 8° (données issues de [55]).

$$\begin{cases} c_{D \text{ laminaire}} = \frac{1.3}{\sqrt{Re}} \\ c_{D \text{ turbulent}} = \frac{0.0031}{Re^{1/7}} \end{cases} \quad (2.7)$$

Pour des angles d'incidence non nuls, le coefficient de traînée augmente légèrement avec l'angle d'incidence avant le décrochage qui survient pour $\alpha \approx 15^\circ$. Au décrochage, il augmente violemment. Il croit ensuite jusqu'à atteindre son maximum pour $\alpha = 90^\circ$. Le comportement du coefficient de traînée d'un profil NACA 0012 est présenté sur la figure 2.4c. La polaire présente le coefficient de portance en fonction du coefficient de traînée. Pour le profil NACA 0012, elle est tracée sur la figure 2.4d.

2.2.1.4 Moment sur une aile et centre de poussée aérodynamique

La pression n'est pas uniforme à la surface d'une aile. Les forces de pression exercent donc un moment sur celle-ci. La répartition des efforts de pression à la surface d'une aile est présentée sur la figure 2.5a. Les efforts de pression sont importants près du bord d'attaque et faibles au niveau du bord de fuite.

Il existe un point G_A par rapport auquel le moment dû aux efforts de pression est nul (figure 2.5b). On appelle ce point le centre de poussée aérodynamique. L'aile se comporte comme si la force aérodynamique s'exerçait en ce point. La théorie des ailes minces aux petits angles donne la position de ce point au quart de la corde de l'aile en partant du bord d'attaque [58]. La

théorie de Rayleigh-Kirshhoff [59] prédit une variation la distance d du centre de pression au bord d'attaque au delà du décrochage selon la formule :

$$d = \left(0.5 - 0.75 \frac{\cos \alpha}{4 + \pi \sin \alpha} \right) c. \quad (2.8)$$

2.2.1.5 Remarque sur les ailes tridimensionnelles

Une aile d'envergure finie génère des tourbillons au bout de ses ailes. Ces tourbillons ont pour circulation la circulation qui s'est établie autour de l'aile. Plus l'aile est portante, plus ces tourbillons sont intenses. Or ces tourbillons interagissent avec l'aile et créent une traînée supplémentaire appelée traînée induite. Le coefficient de traînée induite c_{D_i} , pour une aile rectangulaire d'envergure b et de corde c [53] vaut :

$$c_{D_i} = c_L^2 \frac{c}{\pi b} (= 4\pi\alpha^2 \frac{c}{b}). \quad (2.9)$$

Le coefficient de traînée induite est donc croissant avec l'angle d'incidence et devient dominant sur le coefficient de traînée de peau pour des angles d'incidence relativement faibles ($cd_{laminaire} < c_{D_i}$ pour $Re = 10^5$ et $b/c = 10$ et $\alpha > 5^\circ$). Pour les angles d'incidence supérieurs à cette valeur, la traînée d'une aile est principalement due à la traînée induite et varie donc avec le carré de l'angle d'incidence. La traînée induite est proportionnelle au rapport d'aspect de celle-ci. Plus une aile est élancée, moins sa traînée induite sera importante. Les oiseaux qui volent principalement en planant [60] (albatros, fous de Bassan, etc (figures 2.6)) ont des ailes dont le rapport d'aspect est très important ($b/c > 10$) [61]. Cela leur permet d'avoir une très faible traînée et de ne quasiment jamais avoir à battre des ailes [62].

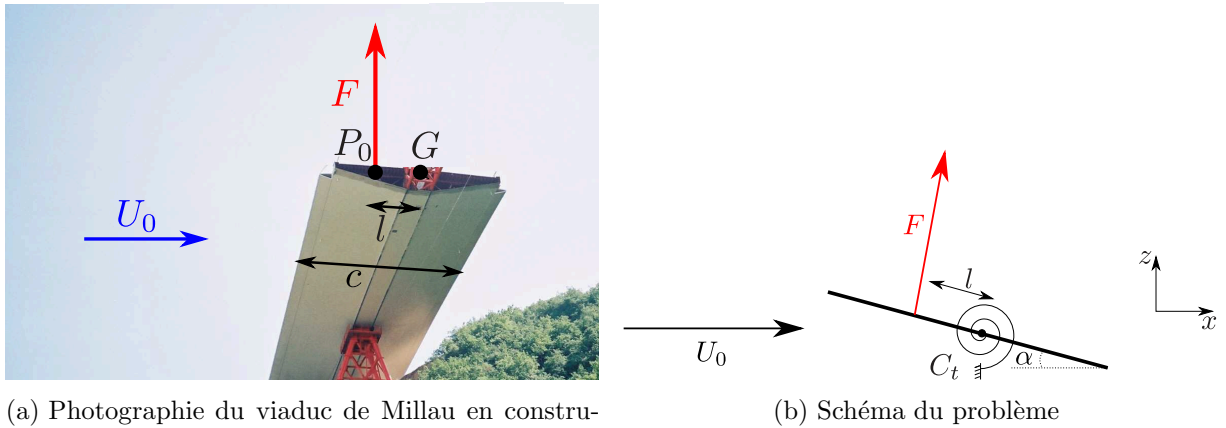


(a) Albatros



(b) Fou de Bassan

FIGURE 2.6 – Oiseaux dont les ailes ont un grand rapport d'aspect



(a) Photographie du viaduc de Millau en construction. Visualisation du couple que peut exercer le vent sur le tablier du pont.

(b) Schéma du problème

FIGURE 2.7 – Exemple de structure sujette à l'instabilité statique et représentation schématique.

2.2.2 Bases d'aéro-élasticité : présentation de quelques instabilités de structures dans un écoulement

Nous allons ici considérer plusieurs cas « classiques » de structures placées dans un écoulement et qui peuvent être sujettes à un comportement instable [63].

2.2.2.1 Instabilité statique

Prenons l'exemple d'un pont soumis à un vent latéral de vitesse U_0 (figure 2.7a). Ce dispositif a été étudié dans le cas d'un pont à section rectangulaire par Nakamura et Mizota en 1975 [64]. Nous pouvons modéliser une section du pont comme une plaque déformable en torsion. Cette configuration est schématisée sur la figure 2.7b. Le pont a une largeur c , la distance entre le centre des efforts aérodynamiques et l'axe du pont est notée l . La rigidité en torsion du pont est notée C_t et le moment d'inertie par unité de longueur est noté J_t en torsion. L'équation d'évolution de l'angle de rotation α du pont est :

$$J_t \ddot{\alpha} + C_t \alpha = \frac{1}{2} \rho c_L c U_0^2 l. \quad (2.10)$$

Si le pont est assimilé à une aile, pour des angles d'incidence faibles, le coefficient de portance suit la loi $c_L = 2\pi\alpha$. L'équation devient donc :

$$J_t \ddot{\alpha} + (C_t - \pi \rho c U_0^2 l) \alpha = 0 \quad (2.11)$$

Le pont oscille donc en torsion avec une pulsation propre :

$$\omega^2 = \frac{C_t - \pi \rho c U_0^2 l}{J_t} \quad (2.12)$$

Si l est positif, il existe une vitesse d'écoulement critique U^* au delà de laquelle la pulsation devient imaginaire et la position $\alpha = 0$ est instable :

$$U^* = \sqrt{\frac{C_t}{\pi \rho c l}} \quad (2.13)$$

Si cette vitesse limite est dépassée, le pont se comporte comme un pendule inversé. L'angle α augmente exponentiellement avec un temps caractéristique :

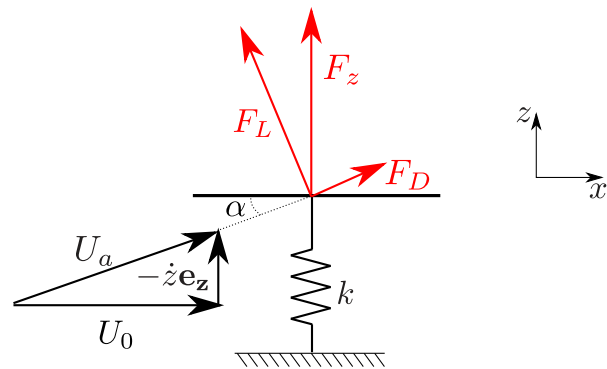
$$\tau = \sqrt{\frac{J}{\pi \rho c U_0^2 l - C_t}} \quad (2.14)$$

2.2.2.2 Effet de la vitesse induite : instabilité de galop

Considérons maintenant un planeur (figure 2.8a). Son poids est principalement concentré dans son fuselage et ses ailes supportent ce poids grâce à la force aérodynamique F exercée sur chaque aile. Le chargement aérodynamique fait plier les ailes et est compensé par une rigidité structurale notée k . Le mouvement de l'aile selon la verticale peut se modéliser comme dans la figure 2.8b. La vitesse induite par les oscillations en flexion de l'aile change la direction du vent apparent de l'aile et donc des forces de portance et de traînée. L'équation du mouvement s'écrit :



(a) Planeur en vol et représentations des forces exercées sur les ailes



(b) Schéma du problème

FIGURE 2.8 – Exemple de structure sujette à l'instabilité de galop et représentation schématique.

$$M\ddot{z} + kz = F_z \quad (2.15)$$

La force verticale F_z dépend de la direction de l'écoulement ressenti par la structure. Cette vitesse vaut :

$$\mathbf{U} = U_0 \mathbf{e}_x - \dot{z} \mathbf{e}_z \quad (2.16)$$

L'angle d'incidence vaut :

$$\alpha = -\arctan \frac{\dot{z}}{U_0} \quad (2.17)$$

La force verticale devient donc :

$$F_z = -F_L \cos \alpha + F_D \sin \alpha = \frac{1}{2} \rho U_0^2 c c_z \quad (2.18)$$

Avec c_z :

$$c_z = -\frac{U_a^2}{U_0^2} (c_L \cos \alpha - c_D \sin \alpha) \quad (2.19)$$

Dans la limite des faibles vitesses relatives $\dot{z} \ll U_0$:

$$\begin{cases} \alpha = \frac{\dot{z}}{U_0} \\ U_a = U_0 \\ c_z = -c_L|_{\alpha=\alpha_0} - \left[\frac{\partial c_L}{\partial \alpha} - c_D \right]_{\alpha=\alpha_0} \alpha \end{cases} \quad (2.20)$$

L'équation du mouvement est donc :

$$M\ddot{z} - \frac{1}{2} \rho c U_0 \left. \frac{\partial c_z}{\partial \alpha} \right|_{\alpha_0} \dot{z} + k(z - z_0) = 0 \quad (2.21)$$

Les forces pour l'angle d'attaque α_0 à l'équilibre sont comprises dans la position d'équilibre $z_0 = \rho c_L c U_0^2 / 2k$. Pour un profil d'aile dans la limite des faibles incidences, la traînée est négligeable et $\partial c_z / \partial \alpha \approx -2\pi$. Les oscillations de l'aile sont alors amorties. En revanche, légèrement au delà de l'angle de décrochage, $\partial c_z / \partial \alpha < 0$ (voir figure 2.4) le terme en \dot{z} change de signe. Dans ce cas, les oscillations des ailes de pulsation propre $\omega = \sqrt{k/m}$ sont amplifiées exponentiellement avec un temps caractéristique d'amplification :

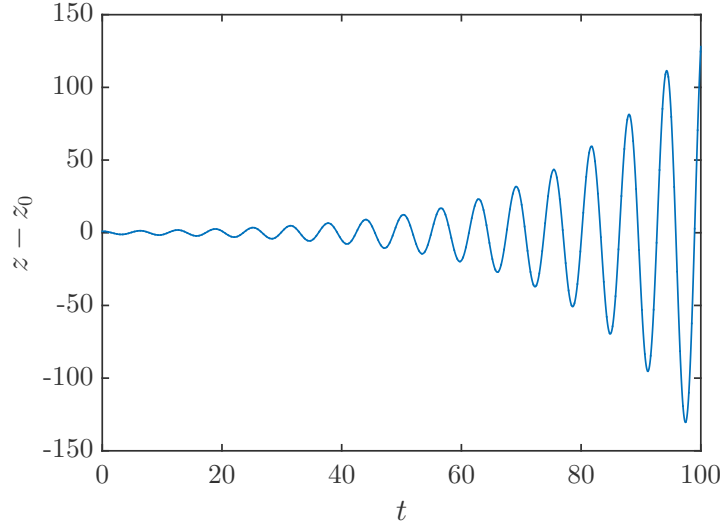


FIGURE 2.9 – Amplitude adimensionnée par l'amplitude initiale des oscillations en fonction du temps par pour $\omega = 1 \text{ rad.s}^{-1}$ et $\tau = 10 \text{ s}$.

$$\tau_i = \frac{2M}{\rho c U_0 \left. \frac{\partial c_z}{\partial \alpha} \right|_{\alpha_0}} \quad (2.22)$$

La figure 2.9 montre le comportement de cette oscillation instable.

2.2.2.3 Couplage de modes : instabilité de flottement

Considérons maintenant que l'aile puisse se déformer selon les deux directions précédentes. Cette situation est présentée sur le schéma 2.10c. Les notations sont les mêmes que dans la section précédente. La distance entre le centre de gravité G_m et le centre élastique est notée p . Le système régissant le mouvement de ce système sans écoulement est :


$$\begin{cases} M(\ddot{z} - p\ddot{\alpha}) = -kz \\ J\ddot{\alpha} = -C_t\alpha - (kz)p \end{cases} \quad (2.23)$$

Dans le cas d'un pont profilé, la force de portance par unité de longueur peut s'écrire :

$$F_L = \frac{1}{2}\rho c U_0^2 (2\pi\alpha) \quad (2.24)$$

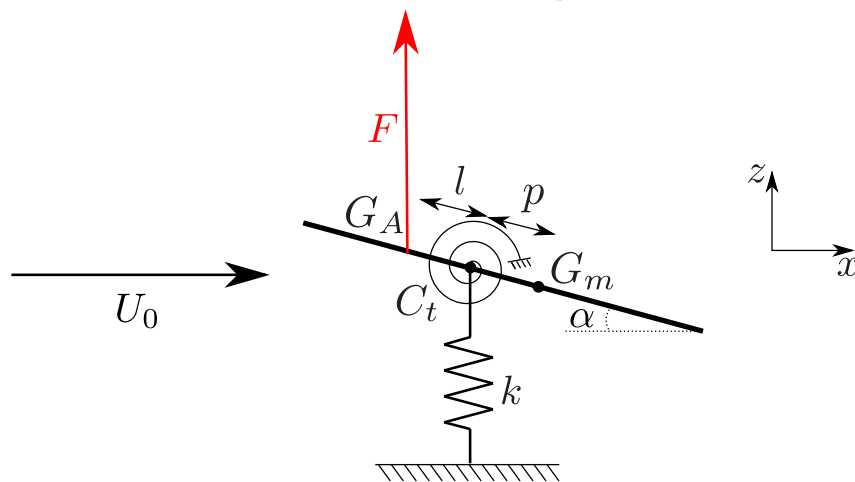
Le système couplé devient alors :

$$\begin{cases} M(\ddot{z} - p\ddot{\alpha}) + kz = \frac{1}{2}\rho c U_0^2 2\pi\alpha \\ J\ddot{\alpha} + \left(C_t - \frac{1}{2}\rho c U_0^2 2\pi(p+l) \right) \alpha = -kpz \end{cases} \quad (2.25)$$



(a) Planeur sujet à une instabilité de flottement.

(b) Instabilité de flottement sur le pont de Tacoma et responsable de sa destruction.



(c) Schéma d'un dispositif sujet à l'instabilité de flottement

FIGURE 2.10 – Systèmes pouvant rentrer en instabilité de flottement et schéma de ces dispositifs.

En posant :

$$\left\{ \begin{array}{l} C_Y = \frac{\rho U_0^2 c^2}{2C_t} \\ k = \frac{kc^2}{C_t} \\ Z = \frac{z}{c} \\ T = \sqrt{\frac{C_t}{J}} \\ \Omega = \sqrt{\frac{kJ}{C_t M}} \end{array} \right. \quad (2.26)$$

le système se réécrit :

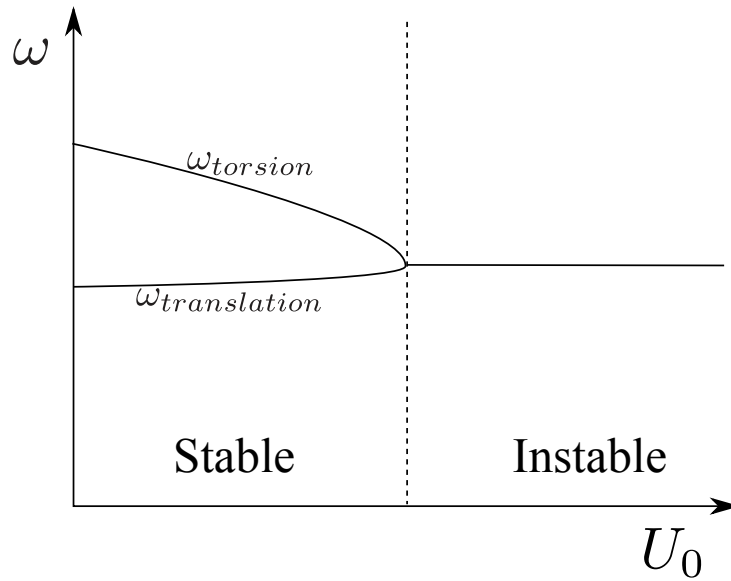


FIGURE 2.11 – Comportement schématique des pulsations des mouvements de translation et torsion en fonction de la vitesse.

$$\begin{cases} (\ddot{Z} - \frac{p}{c}\ddot{\alpha}) + \Omega^2 Z = \left(2\pi \frac{\Omega^2}{K} C_Y\right) \alpha \\ \ddot{\alpha} + \left(1 - 2\pi C_Y \frac{p+l}{c}\right) \alpha = -K \frac{p}{c} Z \end{cases} \quad (2.27)$$

La pulsation du mode de translation n'est pas modifiée par l'écoulement. Par contre, si le centre de masse de la section de l'aile est placée en aval du centre de poussée aérodynamique ($p+l > 0$), la pulsation du mode de torsion décroît quand la vitesse de l'écoulement augmente. Si le centre de masse est placé en aval du centre de torsion [65] ($p > 0$), un comportement instable peut apparaître lorsque les fréquences du mode de torsion et du mode de flexion sont proches. Dans ce cas, les deux modes oscillent à la même fréquence. Ce comportement est explicité sur la figure 2.11. Les modes propres du systèmes dans cette situation sont schématisés sur la figure 2.12.

Le mode présenté dans la figure 2.12a est instable car la vitesse du mode de translation est dans le même sens que la force aérodynamique. Dans ce cas, la puissance de la force aérodynamique reçue par l'aile est positive ($\mathbf{F}_L \cdot \dot{z}\mathbf{e}_z = P > 0$) et le mouvement gagne en amplitude à chaque cycle jusqu'à causer des dommages irréversibles à la structure (figure 2.13). L'autre mode propre (figure 2.12b) est lui aussi intéressant : le déplacement de l'aile est dans le sens opposé à la force aérodynamique. Cela veut dire que l'aile donne de l'énergie à l'écoulement ; c'est la méthode utilisée par certains animaux marins (thons, baleines...) pour se déplacer [66], [67].

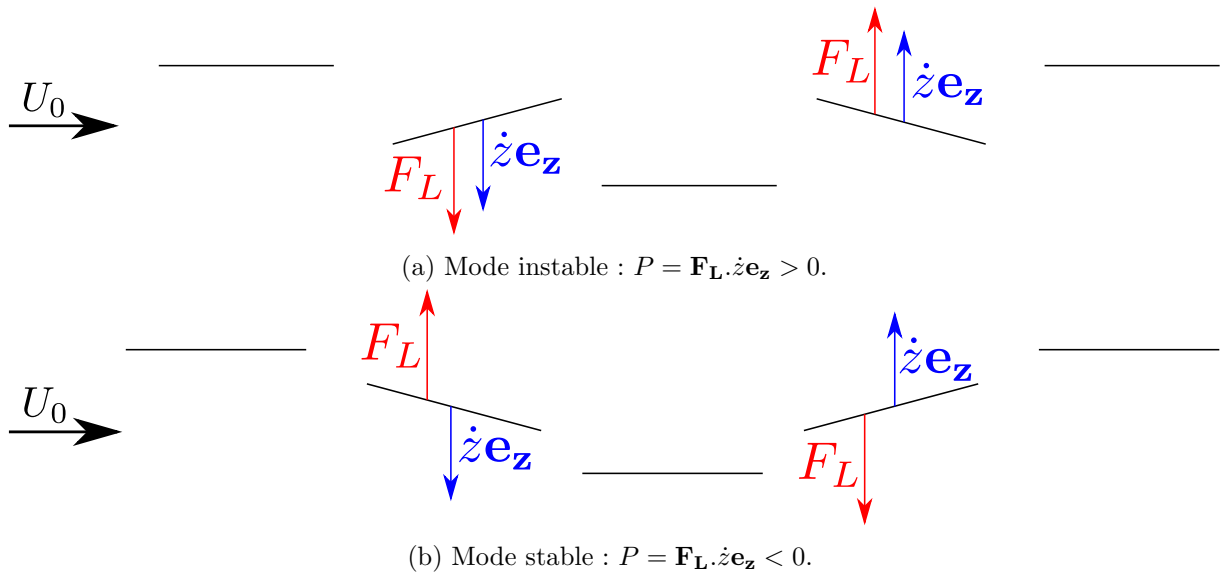


FIGURE 2.12 – Représentation des deux modes propres de l'aile.

FIGURE 2.13 – Exemples d'instabilité de flottement.

2.3 Dispositif expérimental

2.3.1 Soufflerie

Pour étudier le vol des cerf-volants, deux options sont possibles : l'étude du vol d'un système de taille réelle, ou celle d'un modèle réduit en soufflerie. Une étude à taille réelle permet de se placer directement en conditions réalistes mais impose l'utilisation d'un cerf-volant de plusieurs mètres carrés [68], [69], [70]. De plus, à cause des dimensions du cerf-volant, l'étude de son vol doit se faire dans une très grande soufflerie ou en extérieur, où le vent et de nombreux autres paramètres ne sont pas contrôlables. De plus, l'étude paramétrique de la forme des cerf-volants devient rapidement coûteuse. C'est pourquoi nous nous orientons vers la seconde solution : l'étude du vol de modèles réduits en soufflerie. Les contraintes liées à l'étude en modèle réduit sont aussi multiples. Premièrement, l'intégralité du dispositif (cerf-volant+suspentes) doit être dans la veine de la soufflerie. Deuxièmement, la soufflerie doit pouvoir fonctionner dans les locaux du LadHyX. La contrainte la plus importante réside dans le fait que le cerf-volant doit pouvoir être manipulé en vol. À partir de ces contraintes, nous avons construit une soufflerie de type souffleur plutôt qu'une soufflerie classique. En effet, un souffleur demande une zone d'installation beaucoup moins longue et la sortie de la veine est accessible. Ce type de soufflerie a pour inconvénient de créer un flux d'air moins uniforme et plus turbulent. Cependant, le but de notre étude n'est pas de tester précisément un profil de cerf-volant mais d'avoir accès au comportement général du vol ainsi qu'à sa stabilité.




FIGURE 2.14 – Vue d'ensemble de la soufflerie de type « souffleur ».

Nous avons ainsi construit une soufflerie de trois mètres de long qui nous permet de travailler avec des cerf-volants mesurant quelques centimètres avec des suspentes de quelques dizaines de centimètres. Cette soufflerie est présentée sur la figure 2.14.

Un souffleur se compose de trois parties : un ventilateur, une chambre de tranquillisation et un convergent (figure 2.14) dont je détaille les caractéristiques.

2.3.1.1 Ventilateur

Pour déterminer la plage de vitesses nécessaire, nous considérons qu'à faible vitesse, la force aérodynamique doit être de l'ordre du poids du cerf-volant (typiquement de masse $M_k \approx 0.3$ g, d'envergure $s \approx 10$ cm, de surface $A \approx 20$ cm² et de rigidité $EI \approx 10^{-3}$ Pa.m⁴) soit :

$$U_{min} = \sqrt{\frac{2M_k g}{\rho_{air} A}} \approx 1 \text{ m.s}^{-1} \quad (2.28)$$

La vitesse maximale de la soufflerie doit être suffisante pour que la force aérodynamique soit grande devant la rigidité du cerf-volant car nous voulons nous placer dans une situation réaliste :

$$U_{max} = \sqrt{\frac{EIs^2}{\rho_{air} A^2}} \approx 20 \text{ m.s}^{-1} \quad (2.29)$$

La plage de vitesses choisie pour la soufflerie est ainsi de 1 m.s^{-1} à 25 m.s^{-1} .

Pour avoir accès à cette plage de vitesses, nous avons choisi un ventilateur axial de marque Axalu de diamètre 0.55 m et de puissance 4.5 kW. Son débit maximal est de $5 \text{ m}^3 \cdot \text{s}^{-1}$ et la pression statique maximale est de 700 Pa.

2.3.1.2 Chambre de tranquillisation

La chambre de tranquillisation a pour rôle de limiter la turbulence présente en sortie de ventilateur et d'uniformiser la pression avant l'entrée dans le convergent. Plus ses dimensions sont importantes, plus elle est efficace. La chambre de tranquillisation mesure ici 1 m de longueur et possède une section transverse de dimensions 0.85 m \times 1.20 m. En sortie de la chambre de tranquillisation, on place un nid d'abeille en aluminium de 50 mm d'épaisseur avec des alvéoles de 6 mm pour éliminer la vorticit  induite par le ventilateur. Sur le nid d'abeille, on positionne aussi du grillage m tallique fin qui permet d'uniformiser le flux d'air.

2.3.1.3 Convergent

Le convergent a pour r le d'acc l rer l'air et de diminuer l' paisseur des couches limites. Le profil du convergent est un polyn me de degr  5 garantissant des conditions de d riv e premi re et seconde nulles   l'entr e et   la sortie. Ces conditions permettent d'am liorer l'uniformit  de l' coulement et d' viter le d tachement des couches limites [71], [72], [73]. Le convergent mesure ici 1 m de long et la sortie est de section carr e 0.4 m \times 0.4 m.

2.3.1.4 Calibration

Apr s la pose du nid d'abeille, il est n cessaire d'y placer du grillage « strat giquement » pour uniformiser la vitesse du flux d'air. C'est d'autant plus important sur cette soufflerie que la chambre de tranquillisation n'est pas carr e alors que la veine l'est. Un exemple de profil de vitesse est donn  sur la figure 2.15. Les  carts relatifs de vitesse dans la veine restent inf rieurs   3% dans la plage de vitesse utilis e exp rimentalement (2 – 10 m \cdot s⁻¹). La couche limite mesure environ 3 cm d' paisseur   10 cm de la sortie de la veine.

Un deuxi me point   caract riser est le taux de turbulence de la soufflerie. Pour cela on utilise un fil chaud simple. Le fil chaud est calibr    partir des donn es r cup r es par un tube de pitot. Pour relier la tension renvoy e par le fil chaud et la vitesse de l' coulement, on utilise la loi empirique $E^2 - A = BU^n$ o  A , B , et n sont d termin s exp rimentalement [74]. Les r sultats sont donn s dans la figure 2.16. Les mesures exp rimentales donnent comme constantes pour le mod le :

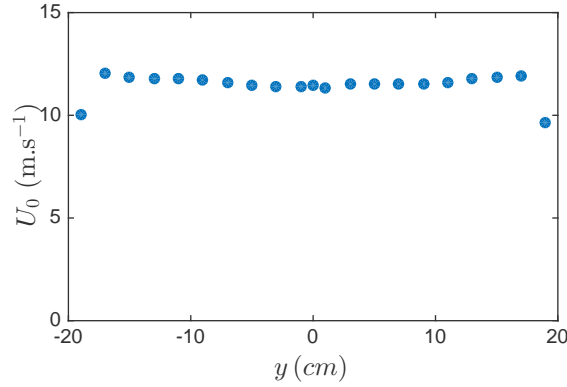


FIGURE 2.15 – Profil de vitesse à mi-hauteur de la veine ($z = 20$ cm) pour une fréquence moteur de 20 Hz et une distance $x = 10$ cm de la sortie de la veine.

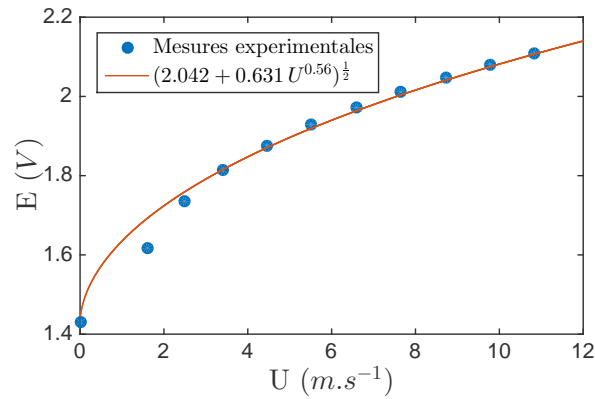


FIGURE 2.16 – Calibration du fil chaud : correspondance entre la tension aux bornes du fil chaud et la vitesse de l'écoulement. La ligne pleine est le modèle qui sera utilisé pour mesurer le taux de turbulence.

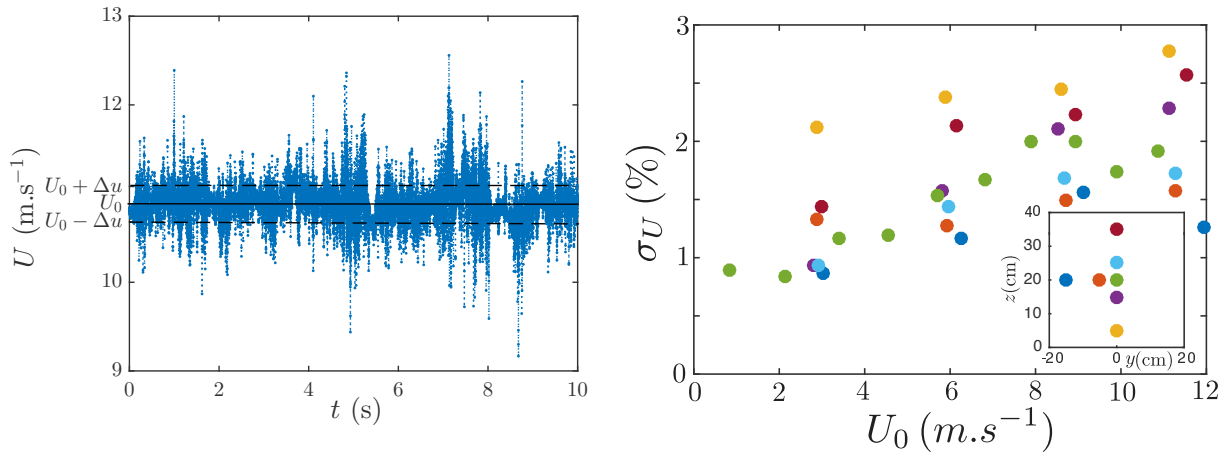
$$\begin{cases} A = 2.042 V^2 \\ B = 0.631 V^2 \cdot m^{-n} \cdot s^n \\ n = 0.56 \end{cases} \quad (2.30)$$

Une fois le fil chaud calibré, on mesure le taux de turbulence en différents points de la soufflerie pour différentes vitesses. Le taux de turbulence σ_U est le rapport entre l'écart type de la fluctuation de la vitesse Δu et la vitesse moyenne U_0 . Il s'écrit :

$$\sigma_U = \frac{\sqrt{\langle U^2 \rangle_t - U_0^2}}{U_0} \quad (2.31)$$

avec $\langle U^2 \rangle_t$ la moyenne temporelle de U^2 .

Une mesure de la vitesse en fonction du temps est présentée sur la figure 2.17a. Les résultats des mesures de taux de turbulence à différentes vitesses et en différents points de la soufflerie sont



(a) Vitesse mesurée par le fil chaud en fonction du temps. La vitesse moyenne vaut $U_0 = 10.88 \text{ m.s}^{-1}$, l'écart type de la vitesse vaut $\Delta u = 0.2 \text{ m.s}^{-1}$. Cela correspond à un taux de turbulence de 1.9%. (b) Taux de turbulence en fonction de la vitesse en différents points de la veine à $x = 10 \text{ cm}$ de la sortie de la veine. L'insert représente la position des points de mesure dans le plan yOz .

FIGURE 2.17 – Caractérisation du profil de vitesse en sortie de soufflerie.

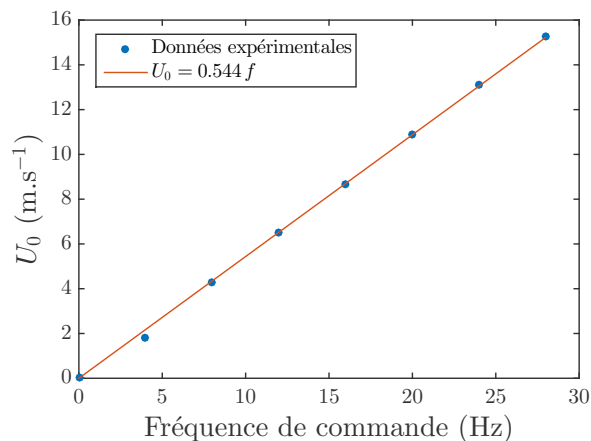


FIGURE 2.18 – Vitesse de l'écoulement à $x = 10 \text{ cm}$ en sortie de la veine et en son centre ($y = 0 \text{ cm}$, $z = 20 \text{ cm}$) en fonction de la fréquence de commande de la soufflerie.

donnés figure 2.17b. Le taux de turbulence augmente légèrement avec la vitesse et est légèrement plus élevé sur le haut et le bas de la soufflerie. Il reste cependant toujours inférieur à 3%.

La vitesse de l'écoulement U_0 n'est pas un paramètre directement réglable sur le moteur de la soufflerie dont on fixe la fréquence de rotation f . Comme le montre la figure 2.18, Ces deux paramètres sont cependant liés par la relation linéaire $U_0 (\text{m.s}^{-1}) = 0.544 f (\text{Hz}) \pm 0.2 \text{ m.s}^{-1}$.

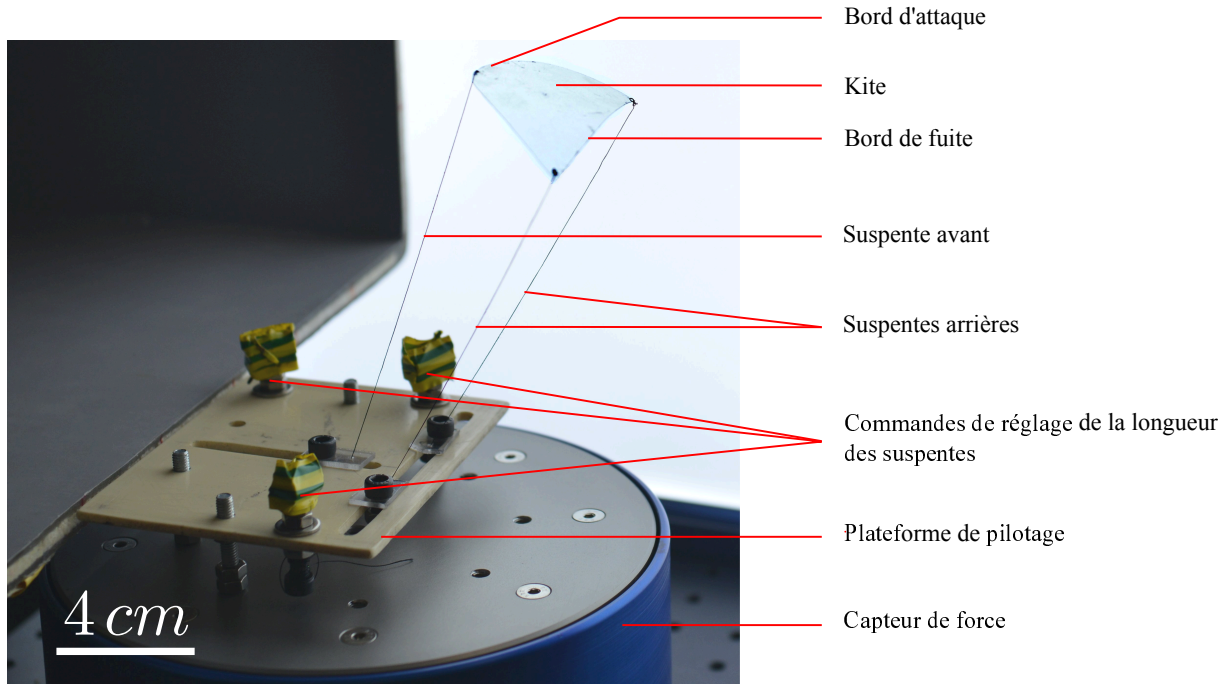


FIGURE 2.19 – Vue du cerf-volant de type 2 (tableau 2.2) en vol sur sa plateforme de pilotage. Celle-ci est fixée par trois vis au capteur de forces. La longueur de chaque suspente peut être réglée indépendamment. Les écartements entre les suspentes sont réglables précisément en déplaçant les points de sorties des suspentes sur la plateforme.


2.3.2 Système de mesure

2.3.2.1 Capteur de force

Les mesures d'efforts se font avec une balance six axes (trois axes de force et trois axes de moment) de marque Sixaxes. La pleine échelle est 5 N pour les forces et $0.5\text{ N}\cdot\text{m}^{-1}$ pour les moments. La plateforme de réglage, montée sur la balance est présentée sur la figure 2.19. Elle permet de régler l'écartement et la longueur des suspentes.

2.3.2.2 Caméras

Les expériences sont toutes filmées avec une caméra rapide modèle Photron SA3. Les fréquences d'acquisition utilisées varient entre 50 et 500 images/seconde suivant les vitesses de l'écoulement et la taille des cerf-volants.



- (a) Cerf-volant réel fabriqué dans le but d'être stable dans des conditions variées. La structure est maintenue par une tige en carbone. Le profil tridimensionnel est maintenu par des coutures et est gonflé par l'écoulement.
- (b) Modèle réduit du cerf-volant réel. Le profil tridimensionnel est créé en coupant et en recollant le cerf-volant sur lui même.

FIGURE 2.20 – Comparaison entre le cerf-volant réel et le modèle

2.3.3 Cerf-volant

2.3.3.1 Aile

Les premiers essais ont été faits avec un cerf-volant de 8 cm d'envergure (figure 2.20b) reproduisant fidèlement un des cerf-volants utilisés par Beyond the Sea (figure 2.20a). La courbure imposée le long de la corde lui donne des propriétés intéressantes, proches d'un cerf-volant réel, mais sa réalisation est trop compliquée pour envisager des changements d'échelle. Nous orientons donc la forme des cerf-volants vers des profils plats le long de la corde.

Les deux contraintes principales dans le choix de notre cerf-volant expérimental sont de posséder trois points de fixation simples et un profil qui reste plat dans l'axe de la corde. Ce paramètre est capital car une aile qui se courbe le long de sa corde aura un profil variable et donc une polaire qui dépendra beaucoup de la vitesse de l'écoulement. Une courbure sur l'axe du bord de fuite est moins gênante car elle n'affecte pas le profil et donc a peu d'impact sur la polaire de vol du cerf-volant. Cette condition exclut directement les ailes triangulaires dont la rigidité à l'avant est trop faible et qui se courbent selon leur corde pour des vitesses de vent très faibles (typiquement 3 m.s^{-1}). Un cerf-volant parabolique, en revanche, maintient un profil plat pour une plage de vitesse relativement large (jusqu'à 10 m.s^{-1}). Cette forme étant très simple et respectant notre cahier des charges, nous l'utilisons pour la majorité de nos expériences. La forme des cerf-volants utilisés est présentée sur la figure 2.21. Le bord d'attaque suit l'équation :

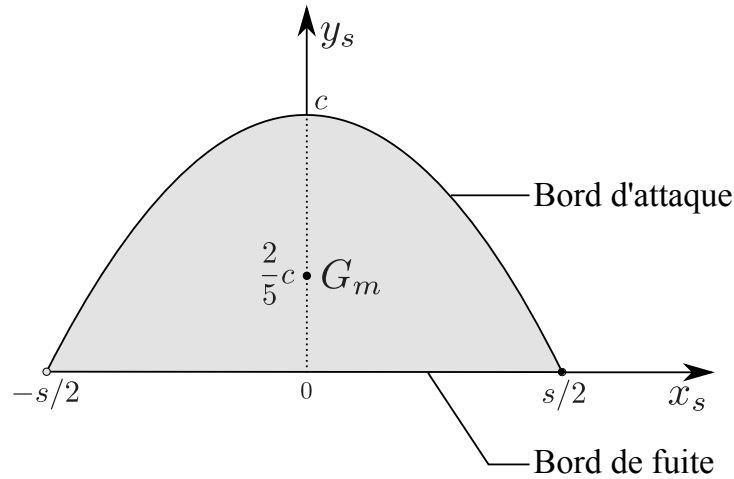


FIGURE 2.21 – Forme du kite utilisé dans les expériences.

$$y_s(x_s) = c \left(1 - \left(\frac{2x_s}{s} \right)^2 \right) \quad (2.32)$$

Le centre de masse G_m de ces cerf-volants est situé aux $2/5$ de la corde en partant du bord de fuite.

Les caractéristiques des différents cerf-volants utilisés sont présentées dans le tableau 2.2. Les trois cerf-volants ont la même forme (parabolique avec $s = 2c$). Le cerf-volant de type 3 est chronologiquement le premier à avoir été utilisé. Il est en papier et a donc pour avantage d'être facilement reproductible et facilement visible à la caméra. Cependant, sa rigidité n'est pas suffisante pour des vents forts. En effet, pour des vents de plus de 10 m.s^{-1} , il se courbe le long de sa corde et change donc de propriété aérodynamiques. De plus, il s'use beaucoup plus vite (les crashes répétés marquent des plis qui affectent beaucoup son vol). Pour des mesures plus facilement répétables nous avons utilisés des cerf-volants en film transparent (polyester), plus rigides et avec des propriétés plus durables. Le cerf-volant de type 2 a une aire deux fois plus importante que le cerf-volant de type 1. Cela a permis de faire varier le rapport entre la rigidité du cerf-volant et les forces aérodynamiques.

2.3.3.2 Fixation

Par choix, les cerf-volants utilisés dans les expériences ont un système d'attache proche des cerf-volants faits pour la pratique sportive. Ils possèdent un système relativement rigide fixé au sol par trois suspentes : une suspente centrale fixée à l'avant du cerf-volant qui récupère la majorité de la traction et deux suspentes fixées à l'arrière qui permettent de contrôler l'incidence et la position en l'air du cerf-volant.

| | Cerf-volant 1 | Cerf-volant 2 | Cerf-volant 3 |
|--------------------------------|---------------|---------------|---------------|
| Forme | Parabolique | Parabolique | Parabolique |
| Matériaux | Polyester | Polyester | Papier |
| Corde c (mm) | 40 | 56 | 40 |
| Envergure s (mm) | 80 | 112 | 80 |
| Épaisseur e (mm) | 0.11 | 0.11 | 0.1 |
| Masse M_K (g) | 0.35 | 0.7 | 0.25 |
| Module d'Young E (GPa) | 5 | 5 | 2 |
| Surface A (cm ²) | 21 | 42 | 21 |

TABLE 2.2 – Caractéristiques des cerf-volants utilisés

Mon expérience des cerf-volants réels ainsi que les discussions avec Yves Parler montre que la position des fixations du cerf-volant au sol est un paramètre crucial dans le comportement de l'aile en vol. C'est pourquoi on utilise une plateforme de pilotage (figure 2.19) avec un système de fixation réglable dont la configuration peut être modifiée facilement lorsque le cerf-volant est en vol

2.4 Notations et conventions

2.4.1 Notations

Les notations utilisées dans ce chapitre sont présentées ci-dessous et explicitées dans les schémas de la figure 2.22.

2.4.1.1 Paramètres extérieurs

Les paramètres extérieurs sont présentés dans la figure 2.22a

- \mathbf{U}_0 vitesse de l'écoulement
- Ox axe parallèle au vent, dirigé dans le sens du vent
- Oy axe horizontal perpendiculaire au vent, dirigé tel que $\widehat{xOy} > 0$
- Oz axe vertical dirigé vers le haut

2.4.1.2 Caractéristiques du cerf-volant

Le schéma explicatif du cerf-volant est donné dans la figure 2.22b.

- s envergure du cerf-volant
- c corde du cerf-volant
- M_K masse du cerf-volant
- J_x, J_y, J_z moments d'inertie du cerf-volant pour des rotations autour des axes Ox, Oy et Oz
- K_a, K_g et K_d points d'attache des suspentes avant, arrière gauche et arrière droite sur le cerf-volant.

2.4.1.3 Points particuliers

Les points particuliers sont donnés dans la figure 2.22c.

- O_a, O_g et O_d points d'attache des suspentes avant, arrière gauche et arrière droite sur la plateforme de pilotage
- O origine des coordonnées, défini comme le milieu du segment reliant O_a et le milieu de O_gO_d .
- G milieu du segment reliant K_a au milieu de K_gK_d . Point approximatif d'application des forces aérodynamiques.

2.4.1.4 Paramètres de pilotage

Les paramètres de pilotage sont explicités dans la figure 2.22c.

- Δx écart entre la fixation de la suspenste avant au sol et la ligne formée par les points de fixations des suspentes arrières mesuré au niveau du sol
- Δy écart entre les suspentes arrières mesuré au niveau du sol
- L_a, L_g, L_d longueurs respectives des suspentes avant, arrière gauche et arrière droite

2.4.1.5 Forces

Les points d'applications des forces et leur direction sont explicités sur la figure 2.22c.

- \mathbf{F} force aérodynamique
- \mathbf{F}_L force de portance, composante de la force aérodynamique perpendiculaire au vent
- \mathbf{F}_D force de traînée, composante parallèle au vent de la force aérodynamique
- $\mathbf{T}_a, \mathbf{T}_g, \mathbf{T}_d$ tensions dans les suspentes avant, arrière gauche et arrière droite

2.4.1.6 Paramètres de position

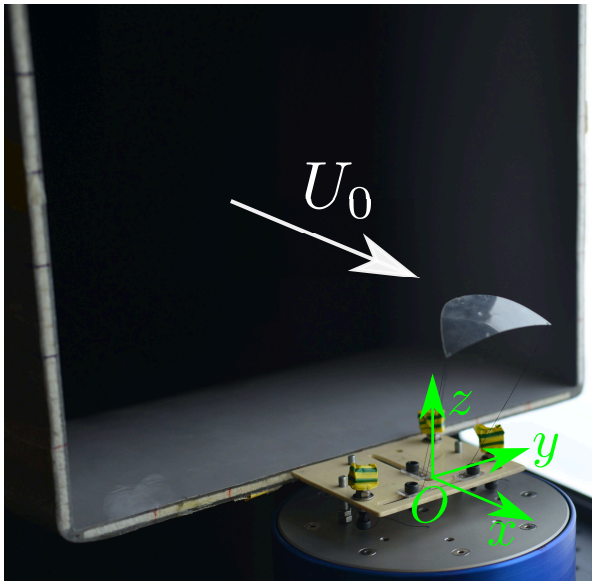
Les paramètres de position sont explicités sur la figure 2.23a et détaillées pour chaque plan de projection sur la figure 2.23.

- L, ϕ, ψ position du point G en coordonnées sphériques dans le repère $Oxyz$ d'axe de révolution Ox . L est la distance OG . ϕ est la latitude ou grand tangage. ψ est l'angle de grand roulis défini comme $\psi = longitude - \frac{\pi}{2}$
- ϕ_i, ψ_i angles de la suspenste i définis de la même manière que ϕ et ψ avec pour origine le point O_i
- χ, α, β angles de lacet, tangage et roulis du cerf-volant. α est assimilé à l'angle d'incidence du cerf-volant

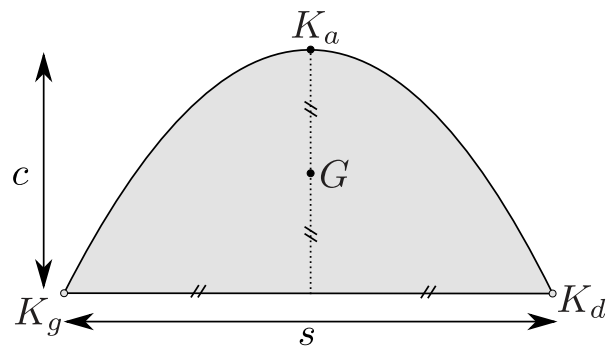
Remarque : il est très important de bien différencier le roulis du grand roulis et le tangage du grand tangage. Le grand roulis et le grand tangage désignent la position du centre de masse du cerf-volant. Le roulis et le tangage désignent l'inclinaison du cerf-volant autour de son centre de masse.

2.4.2 Conventions

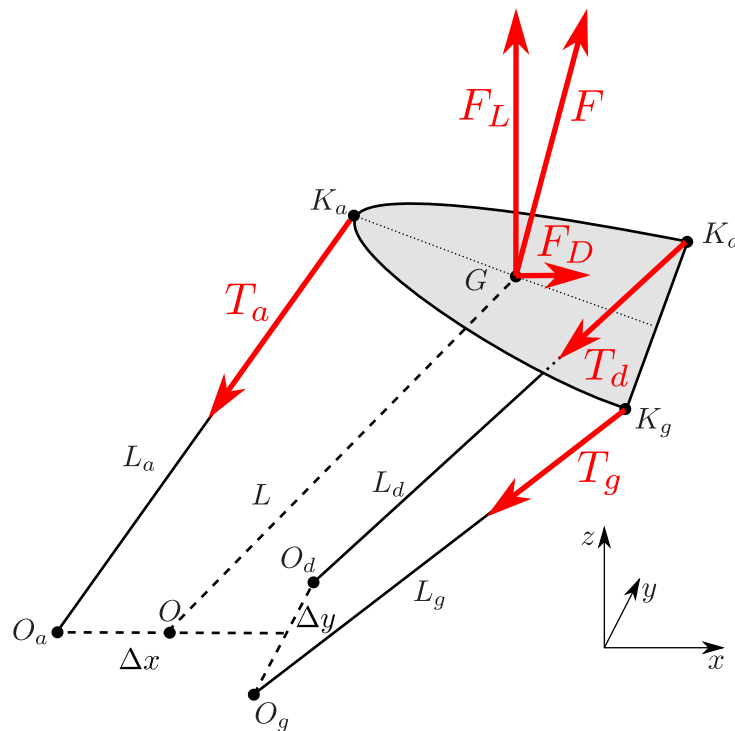
Pour des raisons de simplicité et de lisibilité des schémas et des photos, nous adopterons toujours la même convention pour la direction du vent :



(a) Vue globale de l'expérience.



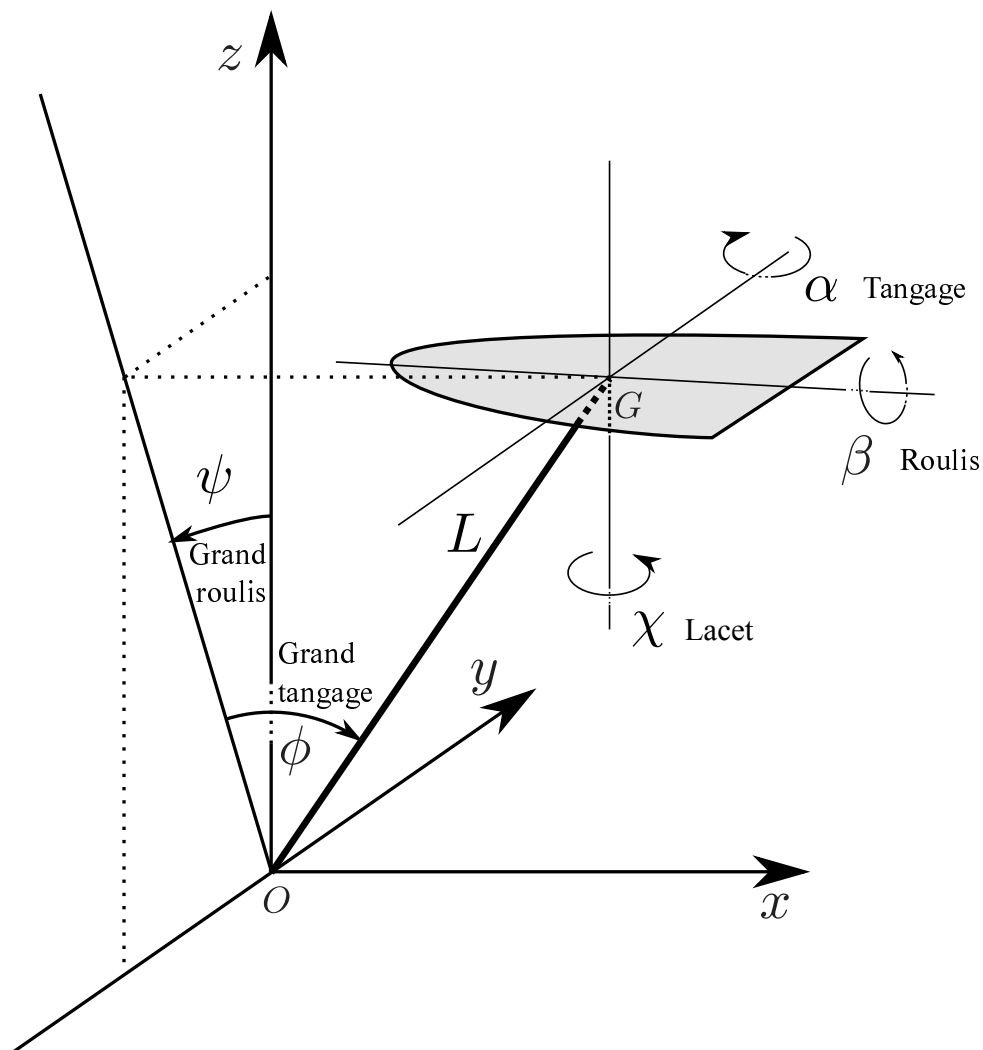
(b) Schéma et paramètres du cerf-volant.



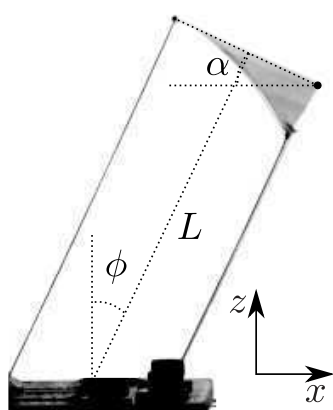
(c) Schéma du cerf-volant présentant les points particuliers, longueurs des différents éléments et les forces.

FIGURE 2.22 – Schémas explicatifs des différents paramètres et notations utilisés.

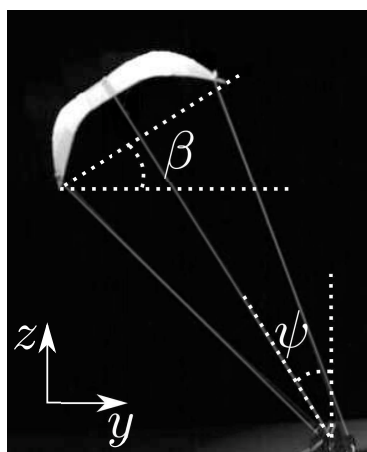
- Quand le cerf-volant est vu de profil (plan xOz), le vent va toujours de la gauche vers la droite, dans le sens des x positifs.
- Quand le cerf-volant est vu de dos (plan yOz), le vent vient toujours vers l'observateur, dans le sens des x positifs.



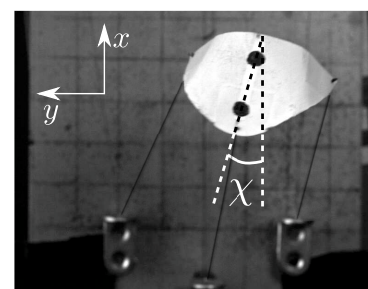
(a) Schéma simplifié du cerf-volant (sans les suspentes) présentant les angles considérés dans l'étude.



(b) Vue de coté.



(c) Vue de derrière.



(d) Vue du dessus.

FIGURE 2.23 – Présentation des paramètres de position du cerf-volant.

- Quand le cerf-volant est vu du dessus (plan xOy), le vent va du bas vers le haut, dans le sens des x positifs.

Sauf mention contraire, les suspentes arrières seront toujours fixées de même longueur notée L_g . Quand L_g et L_d ne sont pas de la même longueur, le cerf-volant penche du côté de la suspente la plus courte. Pour s'assurer que les suspentes ont la même longueur, on vérifie que le dispositif est bien symétrique par rapport au plan xOz .

2.4.3 Mesure expérimentale des angles et des longueurs

Certains paramètres de l'expérience ne sont pas mesurables in situ. Il faut souvent passer par la vidéo pour y avoir accès. Les paramètres mesurés directement sont les écartements des suspentes au sol (Δx et Δy) ainsi que la longueur de la suspente avant L_a .

La longueur des suspentes arrières L_g est mesurable directement sur l'expérience, mais c'est un paramètre de réglage fin qui doit souvent être ajusté au cours de l'expérience. Il est donc toujours mesuré à la vidéo en complément de la mesure initiale.

Tous les angles sont mesurés à partir d'images vidéos de la caméra rapide. Pour mesurer un angle d'équilibre, nous déterminons la position moyenne du cerf-volant sur un temps long devant la période de ses oscillations et nous considérons cette position moyenne comme la position d'équilibre.

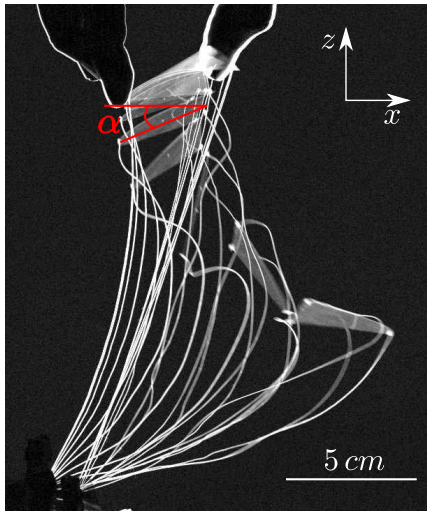
2.5 Expériences préliminaires

2.5.1 Vers une définition adaptée de la stabilité

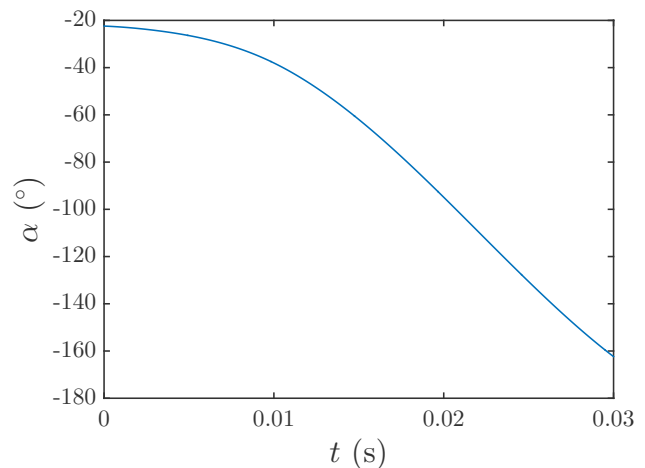
L'expérience la plus simple consiste à fixer une configuration (L_a , $L_g = L_d$, Δx , Δy et U_0) et de tester si le cerf-volant vole. Nous considérons que le cerf-volant vole lorsque toutes les suspentes sont tendues et que le cerf-volant effectue plus d'une oscillation avant de tomber. Nous constatons rapidement que dans la majorité des cas, le cerf-volant ne vole pas ou vole pendant un temps très court. Dans ce cas, la physionomie du crash peut varier énormément. Nous allons distinguer ces différents cas par le temps caractéristique τ_c que le cerf-volant passe en vol avec ses suspentes tendues.

2.5.1.1 Incidence négative : $\tau_c \approx c/U_0$

Lorsque le cerf-volant est positionné en vol avec une incidence négative ($\alpha < 0$), la suspente avant se détend instantanément et le cerf-volant se retourne. C'est ce qui se produit sur la figure 2.24 où la suspente avant est trop courte, et ne permet pas au système de trouver une position stable. Le retournement du cerf-volant a lieu sur un temps de l'ordre du temps de passage de l'écoulement sur la corde du cerf-volant ($\tau_c \approx c/U_0 \approx 20$ ms figure 2.24).



(a) Chronophotographie du vol

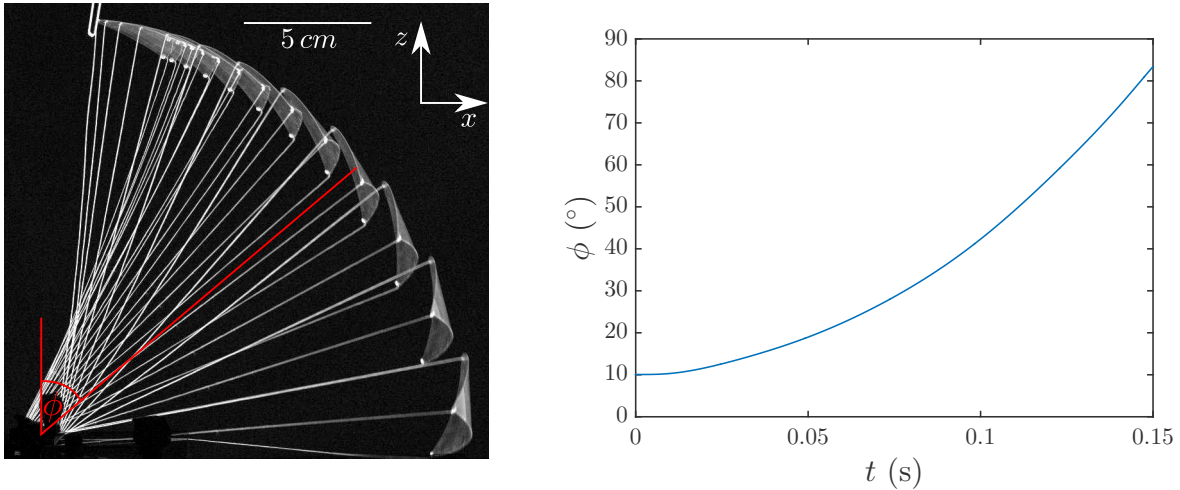


(b) Évolution temporelle de l'angle d'incidence

FIGURE 2.24 – Chronophotographie du crash du cerf-volant de type 1 (tableau 2.2) quand il atteint une incidence négative pour un vent de 5 m.s^{-1} .

2.5.1.2 Instabilité géométrique : $\tau_c \approx L_a/U_0$

Dans certains cas, comme par exemple si l'on choisit $\Delta x < 0$, c'est à dire lorsque la suspente avant du cerf-volant est fixée au sol en aval des suspentes arrières, le cerf-volant peut rapidement



(a) Chronophotographie du vol

(b) Évolution temporelle de l'angle de grand tangage

FIGURE 2.25 – Chronophotographie du crash du cerf-volant de type 1 (tableau 2.2) quand il est dans une configuration géométrique défavorable (ici $\Delta x < 0$) pour une vitesse de vent de 5 m.s^{-1} .

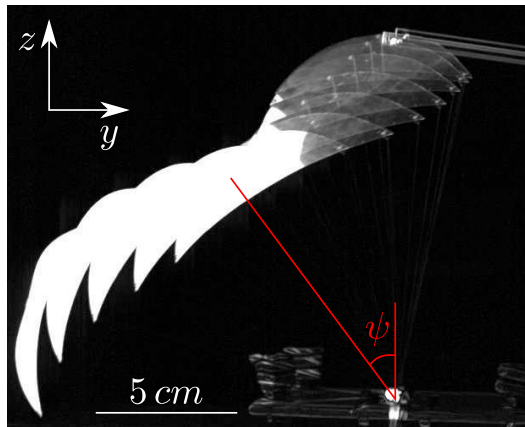
tomber au sol. Nous pouvons observer ce crash sur la figure 2.25. Les suspentes restent tendues et le cerf-volant est emporté par l'écoulement jusqu'à tomber au sol. Le temps de crash est de l'ordre du temps que l'écoulement met à emporter le cerf-volant sur la longueur de ses suspentes, soit : $\tau_c \approx L_a/U_0 \approx 0.15 \text{ s}$.

2.5.1.3 Instabilité gravitaire : $\tau_c \approx \sqrt{L_a/g}$

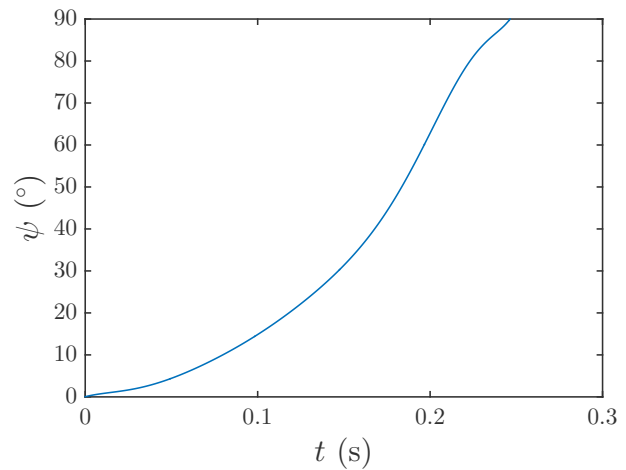
Il arrive que le cerf-volant tombe alors que le vent est suffisant pour emporter une feuille de papier de taille équivalente. Dans ce cas, le cerf-volant tombe sur le coté sans osciller comme sur la figure 2.26. Ce comportement arrive quand les suspentes arrières sont attachées très proches l'une de l'autre ($\Delta y \ll s$). Ce temps de chute du cerf-volant est comparable au temps de chute libre $\tau_c \approx \sqrt{L_a/g} \approx 0.25 \text{ s}$.

2.5.1.4 Instabilité aérodynamique : $\tau_c \gg L_a/U_0$

Dans de nombreux cas, le cerf-volant, placé dans une position où il semble à l'équilibre, oscille avec une amplitude croissante jusqu'à tomber au sol. Les temps en jeu varient ici entre quelques dixièmes de seconde et plusieurs secondes. Une chronophotographie d'un de ces vols instables ainsi que l'évolution temporelle de l'angle de grand roulis associé est présenté sur la figure 2.27. La durée du vol est de plus de $\tau_c \approx 1 \text{ s} \gg L_a/U_0$.

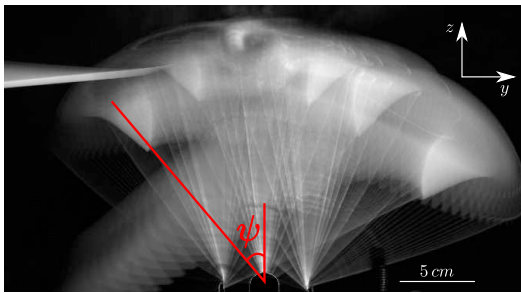


(a) Chronophotographie du vol

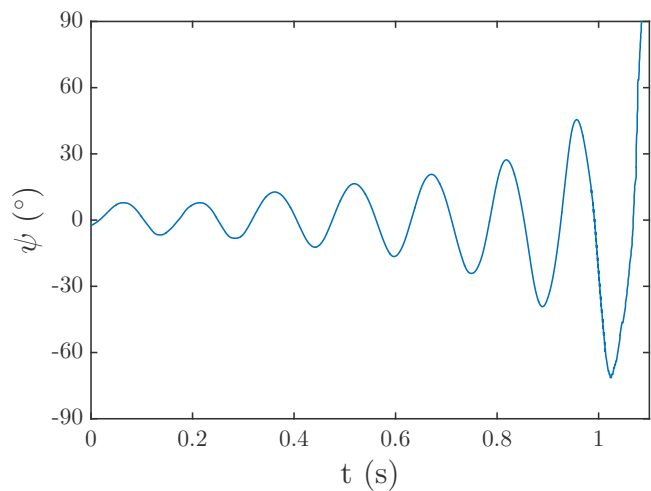


(b) Évolution temporelle de l'angle de grand roulis

FIGURE 2.26 – Chronophotographie du crash du cerf-volant quand il tombe sous l'effet de la gravité (ici $\Delta y = 0$, $\Delta x = 1.5$ cm et $L_a = 15$ cm) pour une vitesse de vent de 5 m.s^{-1} .



(a) Chronophotographie du vol

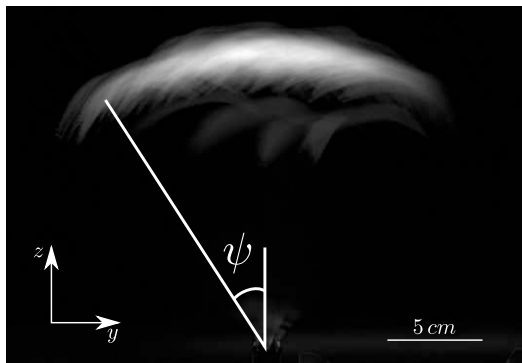


(b) Évolution temporelle de l'angle de grand roulis

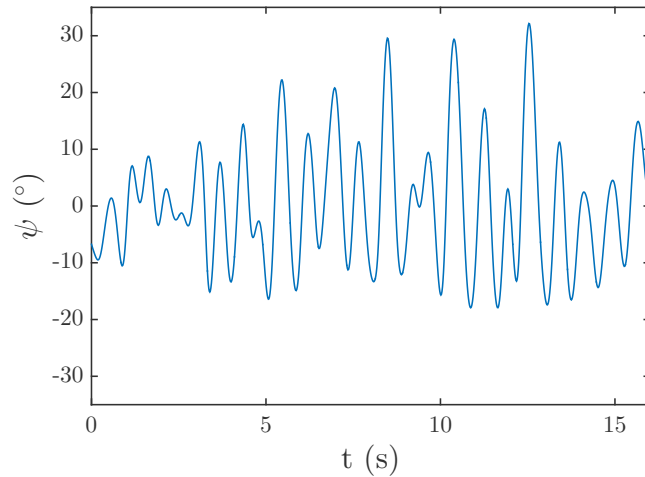
FIGURE 2.27 – Vol et crash d'un cerf-volant après des oscillations de grande amplitude (ici $\Delta y = 4.5$ cm, $\Delta x = 1.5$ cm et $L_a = 15$ cm) pour une vitesse de vent de 8 m.s^{-1} .

2.5.1.5 Vol stable : $\tau_c \rightarrow \infty$

Avec un peu de chance (et de pratique), il est possible de trouver une configuration où le cerf-volant reste en l'air pendant plusieurs minutes sans tomber au sol. Nous considérerons ces situations comme stables même s'il arrive que le cerf-volant soit sujet à des oscillations de grande amplitude. Un exemple de vol stable est présenté sur la figure 2.28. Le vol stable complètement immobile n'est jamais observé.



(a) Chronophotographie du vol



(b) Évolution temporelle de l'angle de grand roulis

FIGURE 2.28 – Vol du cerf-volant dans une configuration stable (ici $\Delta y = 1$ cm, $\Delta x = 1.5$ cm et $L_a = 20$ cm) pour une vitesse de vent de 8 m.s^{-1} .

2.5.2 Conditions nécessaires au vol

Deux paramètres sont essentiels pour qu'un cerf-volant puisse voler :

- Le vent doit être suffisamment fort pour soulever la structure. Il existe ainsi une vitesse minimale de vent pour laquelle la force aérodynamique compense le poids du cerf-volant et à partir de laquelle celui-ci peut commencer à voler. La valeur de cette vitesse minimale U_0^* de vent dépend directement de la masse et de la forme du cerf-volant.
- Le deuxième facteur est plus compliqué à mettre en évidence car il correspond à la combinaison de différents paramètres géométriques (longueur des suspentes L_a , $L_g = L_d$, et points de fixation au sol des suspentes (Δx et Δy)). Afin de déterminer quelles combinaisons sont favorables au vol, nous fixons une vitesse de vent suffisante pour faire voler le cerf-volant ($U_0 > U_0^*$) ainsi que trois des quatre paramètres de contrôle (L_a , Δx et Δy). Nous faisons ensuite varier la longueur des suspentes arrières L_g .

Le graphe 2.29 montre, pour une vitesse de vent, une longueur de suspente L_a et un écart Δy donné, la plage de L_g telle que le cerf-volant vole ou ne vole pas à Δx fixé. Dans ce graphe, les lignes en pointillé noirs délimitent la zone géométriquement accessible (marquée en rouge et vert). Ces positions ne permettent en général pas au cerf-volant de voler (zone rouge). La ligne reliant " + " correspond à un angle d'incidence proche de 90° et celle reliant les " × " à un angle d'incidence proche de zéro degré. Ces lignes délimitent la zone de vol possible (zone verte). Ces positions extrêmes (angle d'incidence proche de 0° ou de 90°) ne permettent en général pas au cerf-volant de rester « longtemps » en l'air. Par longtemps, on entend le temps de plusieurs dizaines d'oscillations avant de tomber. Il est à noter que l'angle d'incidence d'équilibre du cerf-volant varie de 90° alors que L_g varie de 10% pour $\Delta x = 0$ à 50% pour $\Delta x = 10$ cm. Dans

nos expériences, nous tentons de rester dans la zone où le cerf-volant n'a pas décroché, soit un angle d'incidence inférieur à 20° . La gamme de L_g pour laquelle le cerf-volant respecte cette condition est en général faible devant L_g . Cela signifie qu'une mesure de ce paramètre devra être très précise pour avoir une valeur prédictive sur la position d'équilibre du cerf-volant qu'elle entraîne.

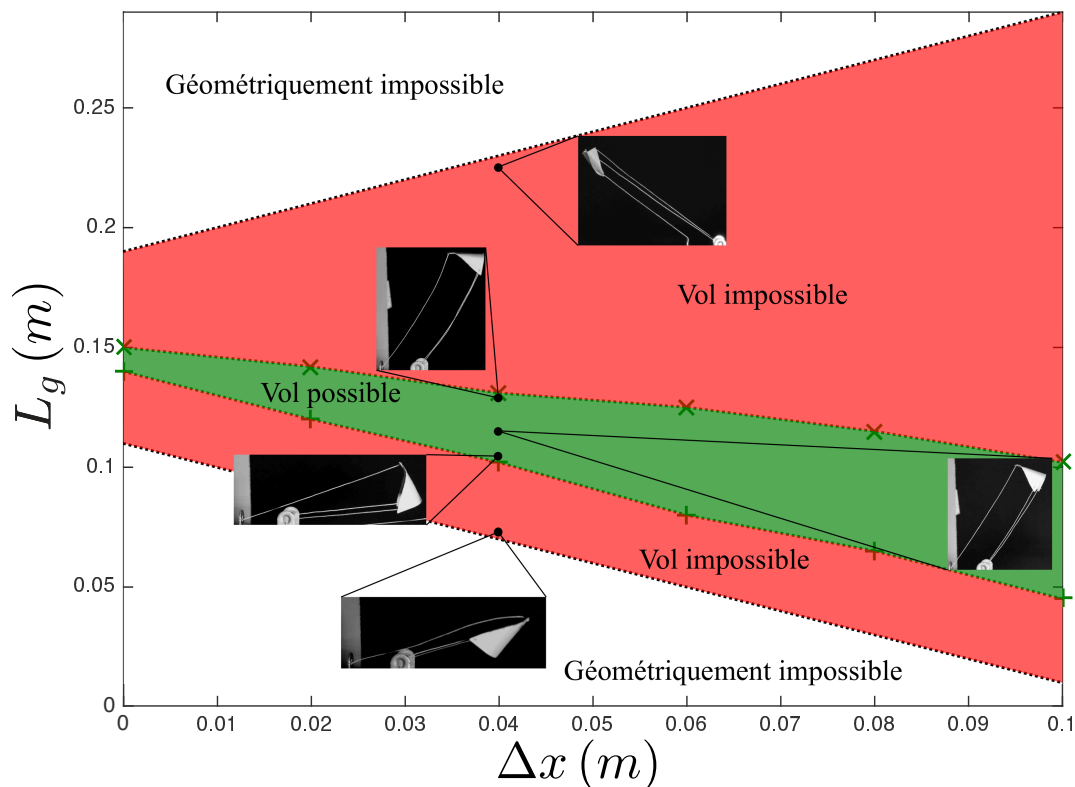


FIGURE 2.29 – Diagramme de stabilité du cerf-volant de type 3 présentant les limites de L_g permettant le vol en fonction de Δx , pour $U = 5 \text{ m.s}^{-1}$, $L_a = 0.15 \text{ m}$ et $\Delta y = 20 \text{ mm}$. La zone indiquée en vert est celle où le vol du cerf-volant est possible ($\tau_c \geq L_a/U_0$). Les zones indiquées en rouge sont celles où le cerf-volant ne peut pas voler ($\tau_c \leq L_a/U_0$). Les photos du cerf-volant de type 3 sont prises dans le plan xOz et présentent la position de vol du cerf-volant dans la configuration $(L_g, \Delta x)$ correspondante. La position est fixée manuellement dans les cas où le cerf-volant ne peut pas voler pour illustrer une configuration maintenant toutes les suspentes tendues

2.5.3 Considérations sur la stabilité du vol

Comme nous l'avons vu dans la partie 2.5.1.5, nous considérons comme stable un cerf-volant dont le temps de vol tend vers l'infini. Le paramètre L_g est un réglage fin et fortement couplé aux autres paramètres. Pour chercher les configurations stables, nous commençons donc par fixer la vitesse du vent U_0 , puis la longueur de la suspente avant L_a . Ensuite pour chaque combinaison

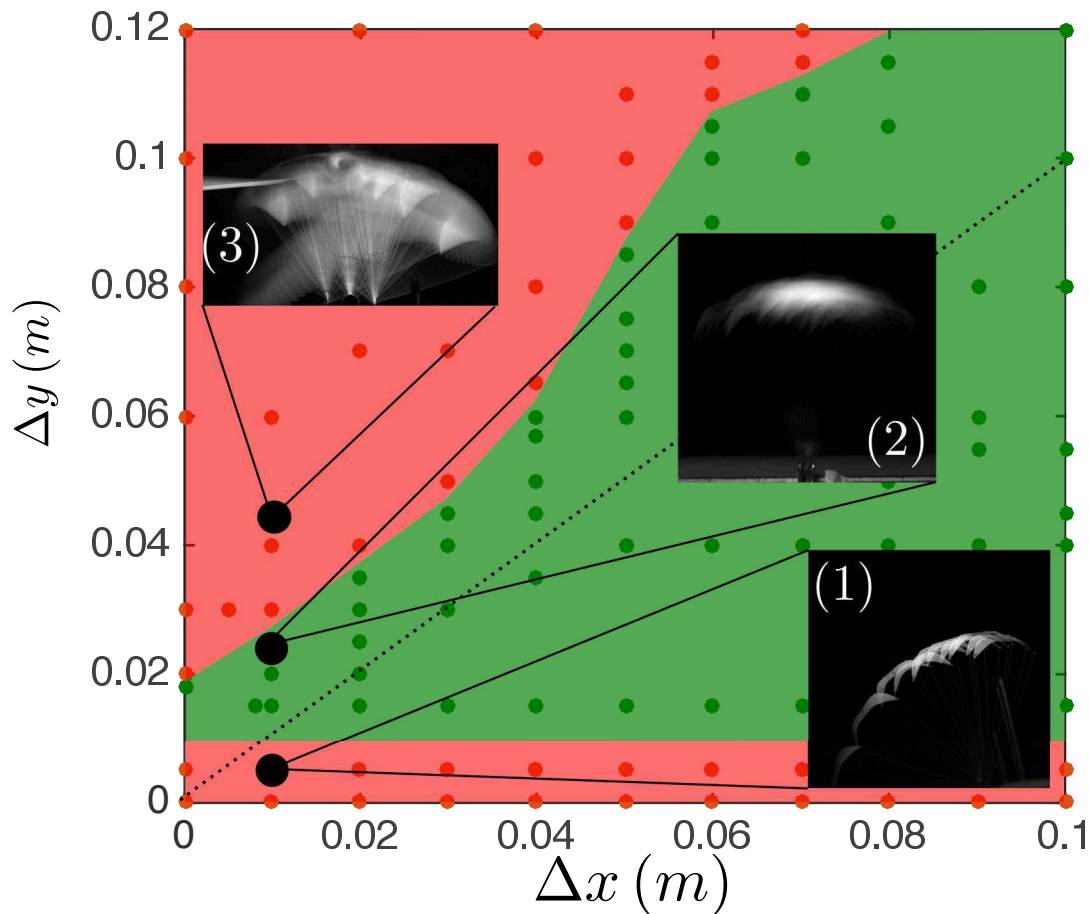


FIGURE 2.30 – Diagramme de stabilité du cerf-volant de type 3 (tableau 2.2) pour $L_a = 0.15\text{ m}$ et $U_0 = 7.5\text{ m.s}^{-1}$. La zone verte montre les configurations de Δx et Δy qui permettent un vol stable et les zones rouges les configurations où le vol stable n'est pas possible. Les photos sont des chronophotographies montrant une trajectoire caractéristique pour chaque zone dans le plan xOy . La ligne en pointillé correspond à $\Delta x = \Delta y$.

$\{\Delta x, \Delta y\}$, nous cherchons une longueur L_g telle que le cerf-volant soit stable. Les résultats sont rassemblés sur la figure 2.30 sur laquelle on observe trois zones distinctes.

- Une première zone instable apparaît pour Δy faible. Elle se caractérise par un cerf-volant qui tombe sans osciller. (chronophotographie (1) et figure 2.26)
- Pour des valeurs de Δy plus importantes et telles que $\Delta y < \Delta x$, le cerf-volant est stable et les amplitudes d'oscillation sont faibles. (chronophotographie (2) et figure 2.28)
- Une deuxième zone instable apparaît pour $\Delta y > \Delta x$ et se caractérise par des oscillations de grande amplitude qui résultent en un crash du cerf-volant au bout de plusieurs oscillations. (chronophotographie (3) et figure 2.27)

La compréhension de ces zones instables est capitale pour la fabrication d'un dispositif de

récupération d'énergie fiable. En effet, si les systèmes de contrôle du cerf-volant ont un temps de réaction mal calibré devant les temps caractéristiques de développement d'une instabilité, cela peut mener au crash du cerf-volant. Dans l'optique de comprendre le comportement stable ou instable du cerf-volant, nous allons donc faire une étude systématique des mouvements du cerf-volant selon les différentes directions : grand tangage, grand roulis et lacet.

2.6 Aérodynamique du cerf-volant

Dans cette partie, nous nous intéressons uniquement aux forces qui s'exercent sur le système cerf-volant+suspentes. Ces forces sont mesurées avec la balance 6 axes.

2.6.1 Mesure des forces sur le cerf-volant

2.6.1.1 Protocole de mesure des forces

Chaque mesure de force se fait selon le protocole suivant :

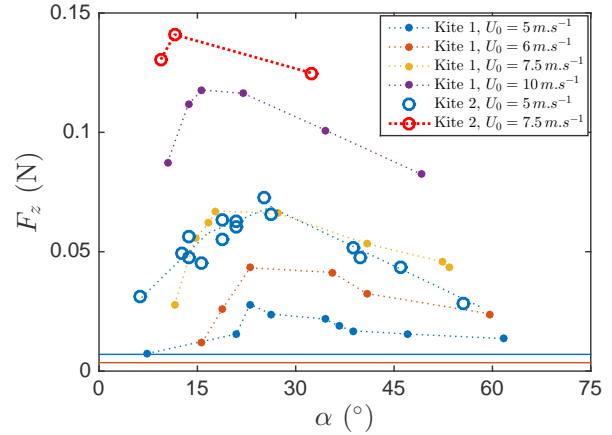
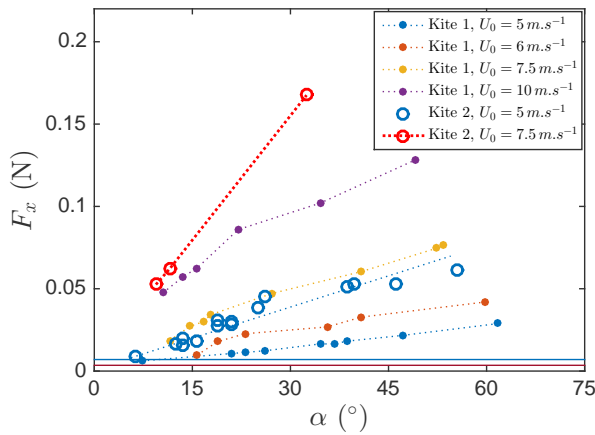
- Réglage de l'écartement (Δx et Δy) et de la longueur des suspentes (L_a et L_g).
- Mesure du zéro de la balance en moyennant le signal pendant 30 s avec la soufflerie en fonctionnement et le cerf-volant posé sur la plate forme de mesure.
- Mesure de la moyenne temporelle des forces selon les axes Ox et Oz pendant 30 s. En parallèle nous effectuons une acquisition avec une caméra pour avoir accès à l'angle d'incidence du cerf-volant.

Les figures 2.31a et 2.31b montrent respectivement l'évolution des forces horizontale (F_x) et verticale (F_z) en fonction de l'angle d'incidence pour différentes vitesses d'écoulement et pour des cerf-volants de type 1 et 2 (tableau 2.2). La force horizontale correspond à la force de traînée aérodynamique et la force verticale est la différence entre la force aérodynamique et le poids du cerf-volant. La force horizontale et la force verticale augmentent avec la vitesse de l'écoulement. La force horizontale F_x croît de façon monotone avec l'angle d'incidence tandis que la force verticale F_z croît jusqu'à un angle d'incidence d'environ 25° puis décroît.

Le nombre de Reynolds de nos expériences ($Re = \frac{cU_0}{\nu_{air}}$) varie entre 10^4 et 10^5 , ce qui implique que les forces de portance et de traînée doivent être proportionnelles à la pression dynamique $\frac{1}{2}\rho U_0^2$ [58]. On définit les coefficients de portance et de traînée comme il suit :

$$\begin{cases} c_L = \frac{F_z + gM_K}{\frac{1}{2}\rho AU_0^2} \\ c_D = \frac{F_x}{\frac{1}{2}\rho AU_0^2} \end{cases} \quad (2.33)$$

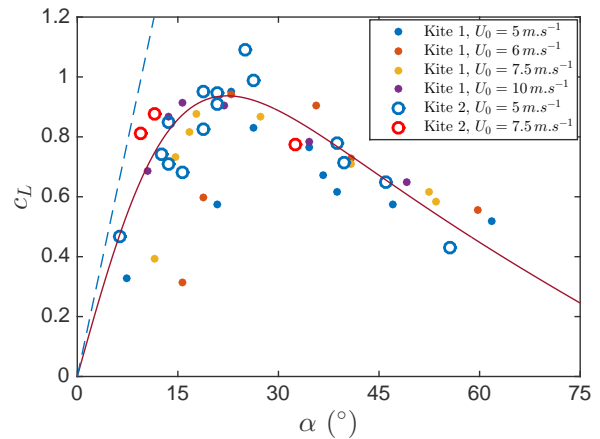
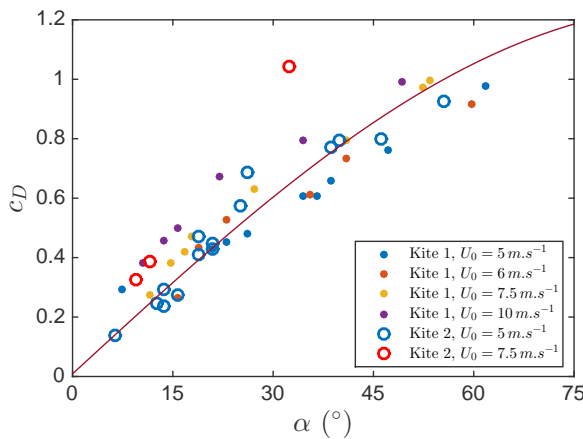
Les coefficients c_D et c_L sont présentés respectivement sur les figures 2.32a et 2.32b. les courbes pour les différentes vitesses et les différentes surfaces se superposent raisonnablement. Nous en concluons que ces coefficients sont essentiellement des fonctions de l'angle d'incidence α .



(a) Évolution de la force horizontale F_x en fonction de l'angle d'incidence

(b) Évolution de la force verticale F_z en fonction de l'angle d'incidence

FIGURE 2.31 – Forces s'exerçant sur les cerf-volants de type 1 et 2 (tableau 2.2) en fonction de l'angle d'incidence pour différentes vitesses d'écoulement. Dans les deux figures, la ligne continue rouge est le poids du cerf-volant de type 1 et la ligne continue bleue est le poids du cerf-volant de type 2



(a) Coefficient de traînée en fonction de l'angle d'incidence du cerf-volant.

(b) Coefficient de portance en fonction de l'angle d'incidence du cerf-volant.

FIGURE 2.32 – Coefficients de traînée et de portance des cerf-volants de type 1 et 2 (tableau 2.2) en fonction de l'angle d'incidence α du cerf-volant. Les lignes continues correspondent aux modèles empiriques utilisés et détaillés dans la section 2.6.2. La ligne en pointillé correspond au modèle de portance pour une aile fine infinie $c_L = 2\pi\alpha$.

2.6.2 Modélisation semi-empirique de la force aérodynamique

2.6.2.1 Coefficient de traînée

Pour modéliser la traînée, nous considérons que la traînée du cerf-volant est la somme de deux contributions : une traînée de forme et une traînée de peau. La traînée de forme varie comme $1/2\rho AU_0^2 \sin \alpha$. Pour un angle d'incidence nul, cette composante est nulle. La traînée du cerf-volant se réduit alors à une traînée de peau. Pour un écoulement laminaire, cette dernière est donnée par la loi de friction de Blasius [58].

$$c_{Dskin} = \frac{1.3}{\sqrt{Re}} \quad (2.34)$$

Pour la gamme de Reynolds utilisée, c_{Dskin} varie entre 0.003 et 0.01. Ces valeurs sont trop faibles pour que nous puissions les mesurer correctement. Nous fixerons une valeur dans cette gamme qui ne dépendra pas de la vitesse mais rendra compte du fait que la traînée est non nulle pour un angle d'incidence nul. La forme choisie pour représenter le coefficient de traînée est donc de la forme $c_D = c_{Dskin} + c_{D1} \sin \alpha$. Les valeurs que nous avons choisies pour c_{Dskin} et c_{D1} sont :

$$c_{Dskin} = 0.009 \quad \text{et} \quad c_{D1} = 1.24 \quad (2.35)$$

Soit :

$$c_D = 0.009 + 1.24 \|\sin \alpha\| \quad (2.36)$$

Ce modèle est tracé en trait plein rouge sur la figure 2.32a et semble rendre compte correctement du coefficient de traînée du cerf-volant.

Remarque : le modèle simplifié que nous utilisons pour la traînée ne rend pas compte de la dépendance quadratique en angle d'incidence aux petits angles due à la traînée induite et prédite dans la section 2.2.1.5. Nous avons peu de points de mesure pour les angles très faibles et les données expérimentales ne montrent pas clairement cette tendance.

2.6.2.2 Coefficient de portance

Pour des angles d'incidence faibles ($\alpha < 15^\circ$), la théorie des ailes minces bidimensionnelles prédit une portance variant linéairement avec l'angle d'incidence selon la loi [58] :

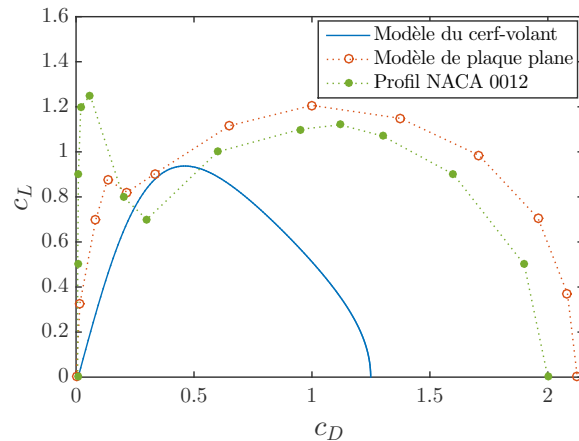


FIGURE 2.33 – Modèle de polaire utilisé pour notre cerf-volant en bleu et polaire d'une plaque plane en rouge tirée de [59]. La polaire d'un profil NACA 0012 est tracée en vert [75]

$$c_L = 2\pi\alpha \quad (2.37)$$

Dans le cas de notre cerf-volant (figure 2.32b), le coefficient de portance semble aussi varier linéairement avec l'angle d'incidence, mais avec un coefficient plus faible que 2π (tracé en pointillé bleu), de l'ordre de 5 qui rend compte du caractère fini de l'aile [24].

Pour des angles d'incidence importants ($\alpha > 15^\circ$), la couche limite est détachée et la portance diminue jusqu'à s'annuler pour un angle d'incidence de $\pi/2$.

Nous avons choisi d'utiliser un modèle simple à deux paramètres afin de rendre compte de ces conditions :

$$c_L = \frac{1}{\frac{1}{a\alpha} + b \tan \alpha} \quad \text{avec } a = 4.8 \text{ et } b = 1.3 \quad (2.38)$$

Ce modèle est tracé en trait plein rouge sur la figure 2.33 et donne une bonne approximation du coefficient de portance du cerf-volant.

Cette partie nous a permis de déterminer la polaire de vol du cerf-volant. sur la figure 2.33, nous la comparons à la polaire d'une plaque plane [59] et à celle d'un profil NACA 0012 [55]. La portance et la traînée maximale est plus faible pour le cerf-volant. Le décrochage est aussi beaucoup moins violent, probablement grâce à la flexibilité de l'aile [75].

2.7 Position d'équilibre du cerf-volant

2.7.1 Équilibre en grand tangage du cerf-volant

La première étude que nous allons mener concerne le comportement du cerf-volant en grand tangage. Le grand tangage correspond à l'oscillation d'avant en arrière de tout le système cerf-volant+suspentes (schéma 2.23a). On s'attachera en particulier à caractériser l'angle d'équilibre ϕ_{eq} dans la rotation du cerf-volant autour de Oy .

2.7.1.1 Étude qualitative de l'équilibre du cerf-volant en grand tangage

La première expérience consiste à se placer dans une configuration possible de vol selon les critères donnés dans les figures 2.29 et 2.30 puis à faire varier la vitesse. En dessous d'une certaine vitesse notée U^* , le cerf-volant ne peut pas voler car les forces aérodynamiques ne compensent pas les effets du poids. Cette vitesse est différente de la valeur U_0^* définie précédemment. En effet, U_0^* est la vitesse pour laquelle la portance est égale au poids; elle ne dépend pas de la géométrie. Cette distinction est discutée plus en détails dans la partie 2.8.2 page 122. Sur la série de photos de la figure 2.34, nous pouvons voir que quand la vitesse augmente, le cerf-volant monte et l'angle de grand tangage ϕ_{eq} et l'angle d'incidence α_{eq} diminuent.

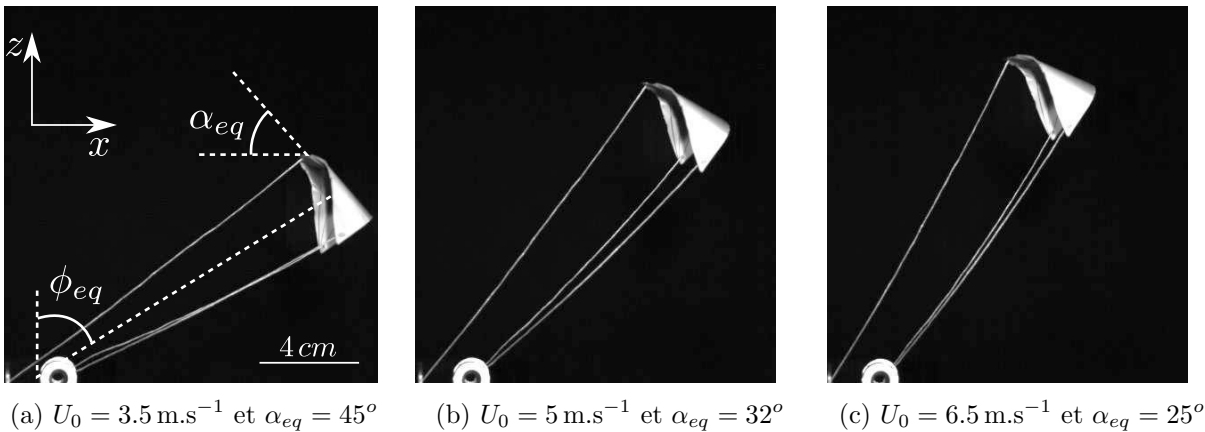


FIGURE 2.34 – Positions d'équilibre du cerf-volant de type 3 (tableau 2.2) pour $\Delta x = 20 \text{ mm}$, $\Delta y = 20 \text{ mm}$, $L_a = 150 \text{ mm}$, $L_g = 125 \text{ mm}$ à différentes vitesses d'écoulement.

On peut ensuite s'intéresser à l'effet de la longueur des suspentes arrières L_g . L'ajustement de ce paramètre change la géométrie du système et a donc un fort effet sur l'angle d'incidence du cerf-volant et donc sur sa position d'équilibre. Dans l'exemple de la figure 2.35, L_g varie d'environ 5% et l'angle d'incidence est multiplié par quatre. Cela confirme ce que nous avons remarqué dans la partie 2.5.2 page 94 : L_g est un paramètre d'ajustement très sensible et le fixer à l'avance pour obtenir une certaine configuration est illusoire. Dans la plupart de nos expériences, nous



(a) $L_g = 0.121 \text{ mm}$ et $\alpha_{eq} = 7^\circ$ (b) $L_g = 0.118 \text{ mm}$ et $\alpha_{eq} = 13^\circ$ (c) $L_g = 0.115 \text{ mm}$ et $\alpha_{eq} = 25^\circ$

FIGURE 2.35 – Positions d'équilibre du cerf-volant de type 3 (tableau 2.2) pour $U_0 = 7.5 \text{ m.s}^{-1}$, $\Delta x = 20 \text{ mm}$, $\Delta y = 20 \text{ mm}$, $L_a = 140 \text{ mm}$ et pour différentes longueurs de suspentes arrières L_g .

allons donc l'ajuster pendant le vol pour obtenir l'angle ϕ_{eq} ou α_{eq} voulu et les mesurer sur les vidéos.

2.7.1.2 Étude quantitative de l'équilibre du cerf-volant en grand tangage

2.7.1.2.1 Notations spécifiques

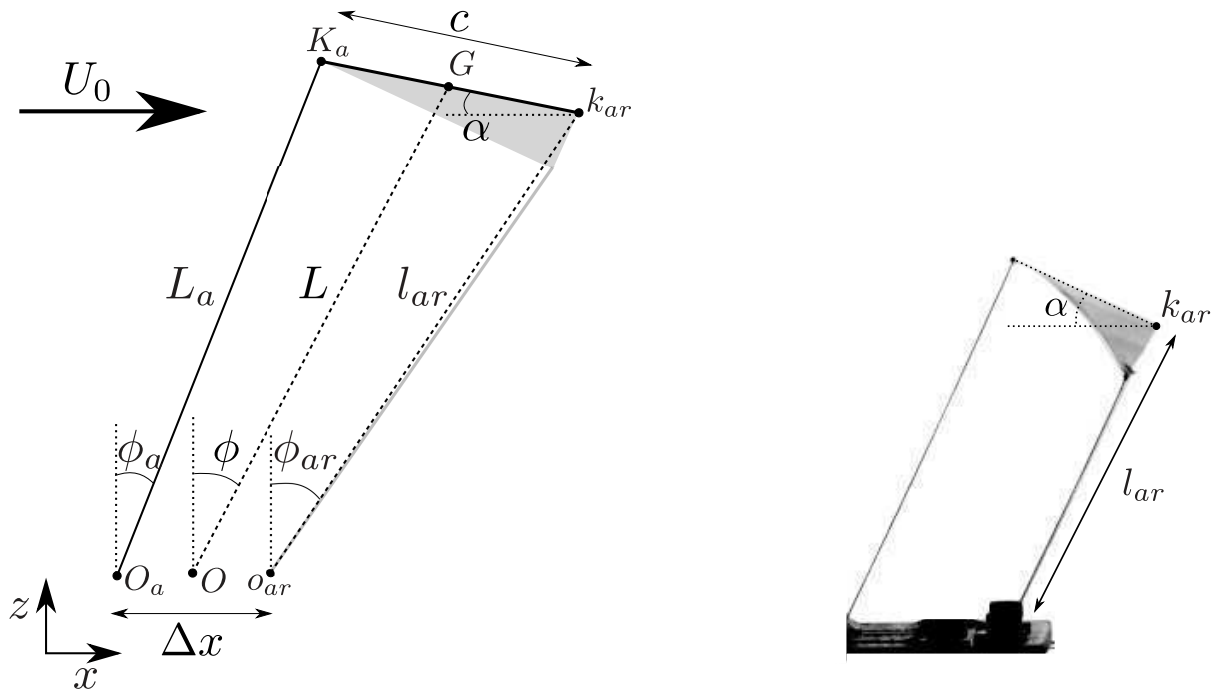
Dans cette partie, nous nous intéressons à la projection du système sur le plan xOz . Nous allons utiliser des notations spécifiques à cette partie et qui sont détaillées sur la figure 2.36a.

- o_{ar} milieu du segment $[O_g O_d]$ (O_g et O_d sont définis sur la figure 2.22c à la page 88)
- k_{ar} milieu du bord de fuite
- l_{ar} longueur du segment $[o_{ar} k_{ar}]$
- ϕ_{ar} angle entre la verticale et $\mathbf{o}_{ar} \mathbf{k}_{ar}$

La figure 2.36b montre un détail qui sera important dans les mesures faites dans le plan xOz . On fait l'approximation que le cerf-volant est plan dans la majorité de cette étude alors qu'il est en réalité courbé. Il nous faut donc faire un choix pour mesurer l'angle α . Nous avons choisi de prendre la valeur de α à l'endroit où la surface portante est la plus importante et donc au milieu du cerf-volant. Pour garder la cohérence géométrique, nous devons prendre la longueur l_{ar} comme la longueur projetée des suspentes sur le plan xOz entre le sol et le milieu du bord de fuite et non entre le sol et leur point d'attache sur le cerf-volant.

2.7.1.2.2 Résultats expérimentaux

Comme on a pu le voir sur les photos de la figure 2.34, la vitesse de l'écoulement a un impact important sur la position d'équilibre du cerf-volant. La figure 2.37a montre l'évolution de l'angle



(a) Notations spécifiques à la projection du problème sur le plan xOz

(b) Détail de la convention de mesure de l'angle α et la longueur l_{ar} . L'arrière du cerf-volant k_{ar} est pris au milieu du bord de fuite et non au niveau du point de fixation des suspentes.

FIGURE 2.36 – Notations utilisées pour l'étude du grand tangage.

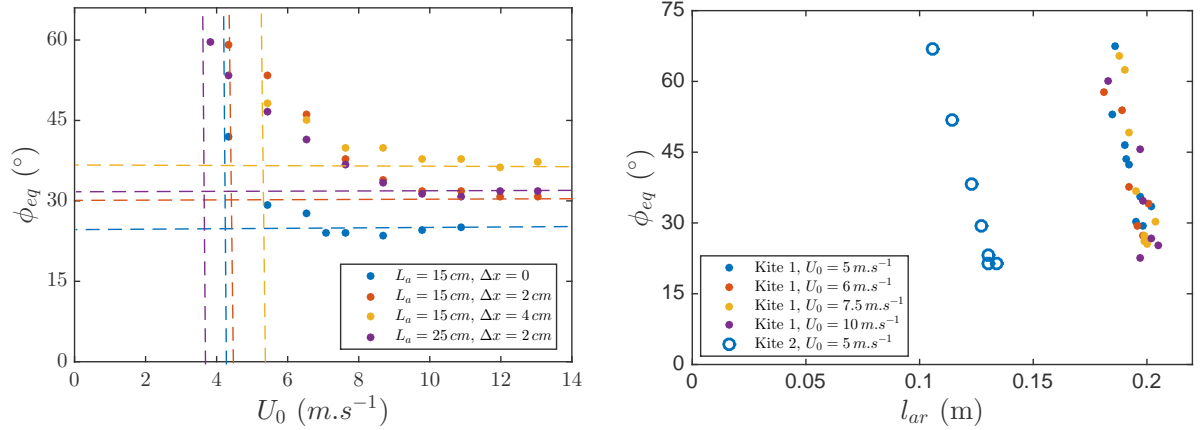
de grand tangage d'équilibre ϕ_{eq} en fonction de la vitesse du vent pour différentes configurations des suspentes et de Δx . L'angle ϕ_{eq} diminue quand la vitesse de l'écoulement augmente puis atteint un plateau pour des vitesses supérieures à 8 m.s^{-1} .

La figure 2.37b illustre la sensibilité de la position d'équilibre à la longueur des suspentes arrière. L'angle d'équilibre peut varier de 60° pour une variation de l_{ar} de moins de 10%. L'angle d'incidence α étant plus facile à contrôler, on l'utilisera en priorité pour choisir les positions du cerf-volant. Une étude plus détaillée de cette sensibilité est proposée dans l'annexe D.1.

2.7.1.3 Modélisation de l'équilibre du cerf-volant en grand tangage

2.7.1.3.1 Angle de grand tangage d'équilibre ϕ_{eq}

Dans le cas où le vent est suffisant pour faire voler le cerf-volant ($U_0 > U^*$), la position d'équilibre est celle où les sommes des forces et des moments qui s'exercent sur le système cerf-volant+suspentes sont nulles. Le cerf-volant est soumis à son poids ($M_K \mathbf{g}$), à la force aérodynamique (\mathbf{F}) ainsi qu'aux forces de tension des suspentes (\mathbf{T}_a , \mathbf{T}_g et \mathbf{T}_d). L'équilibre



- (a) Evolution de l'angle ϕ_{eq} en fonction de la vitesse U_0 de l'écoulement pour $\Delta y = 2 cm$ et différentes configurations de longueurs de suspentes et de Δx . Les lignes en pointillés horizontales représentent l'angle de grand tangage d'équilibre ϕ_{eq} limite pour les grandes vitesses. Les lignes en pointillé verticale représentent la vitesse minimale (U^*) nécessaire pour faire voler le cerf-volant
- (b) Évolution de l'angle ϕ_{eq} en fonction de la longueur projetée des suspentes arrières l_{ar} . Pour le cerf-volant 1, $L_a = 20 cm$, $\Delta x = 2 cm$, $\Delta y = 2 cm$. Pour le cerf-volant 2, $L_a = 14 cm$, $\Delta x = 5.6 cm$, $\Delta y = 5.6 cm$

FIGURE 2.37 – Évolution de l'angle ϕ_{eq} en fonction de la vitesse de l'écoulement (a) et de la longueur des suspentes arrières (b) pour le cerf-volant de type 3 (tableau 2.2)

n'est possible que si les suspentes sont en tension ce qui implique que la projection des forces selon la verticale doit être positive. Cela donne comme condition que $F_L - M_K g > 0$.

De façon à simplifier le calcul, il est intéressant d'étudier le moment des forces qui s'exercent sur le cerf-volant à l'équilibre par rapport au centre instantané de rotation du cerf-volant (noté I_ϕ). Comme nous pouvons le voir sur le schéma 2.38a, l'avant du cerf-volant K_a est en rotation autour du point de fixation de la suspenste avant O_a et l'arrière du cerf-volant k_{ar} est en rotation autour du milieu des points de fixation des suspentes arrières o_{ar} . Le centre instantané de rotation est donc situé à l'intersection de la suspenste avant et des suspentes arrières. Les droites d'action des tensions dans les suspentes passent donc par le centre instantané de rotation et leur moment est nul. On peut donc ne s'intéresser qu'au moment du poids et à celui de la force aérodynamique par rapport à I_ϕ .

On pose ϕ_a l'angle entre la verticale et la droite reliant I_ϕ et le point d'application de la force aérodynamique et ϕ_g l'angle entre la verticale et la droite reliant I_ϕ et le centre de gravité du cerf-volant. À l'équilibre, on a alors :

$$M_K g \sin \phi_g - F_L \sin \phi_a + F_D \cos \phi_a = 0 \quad (2.39)$$

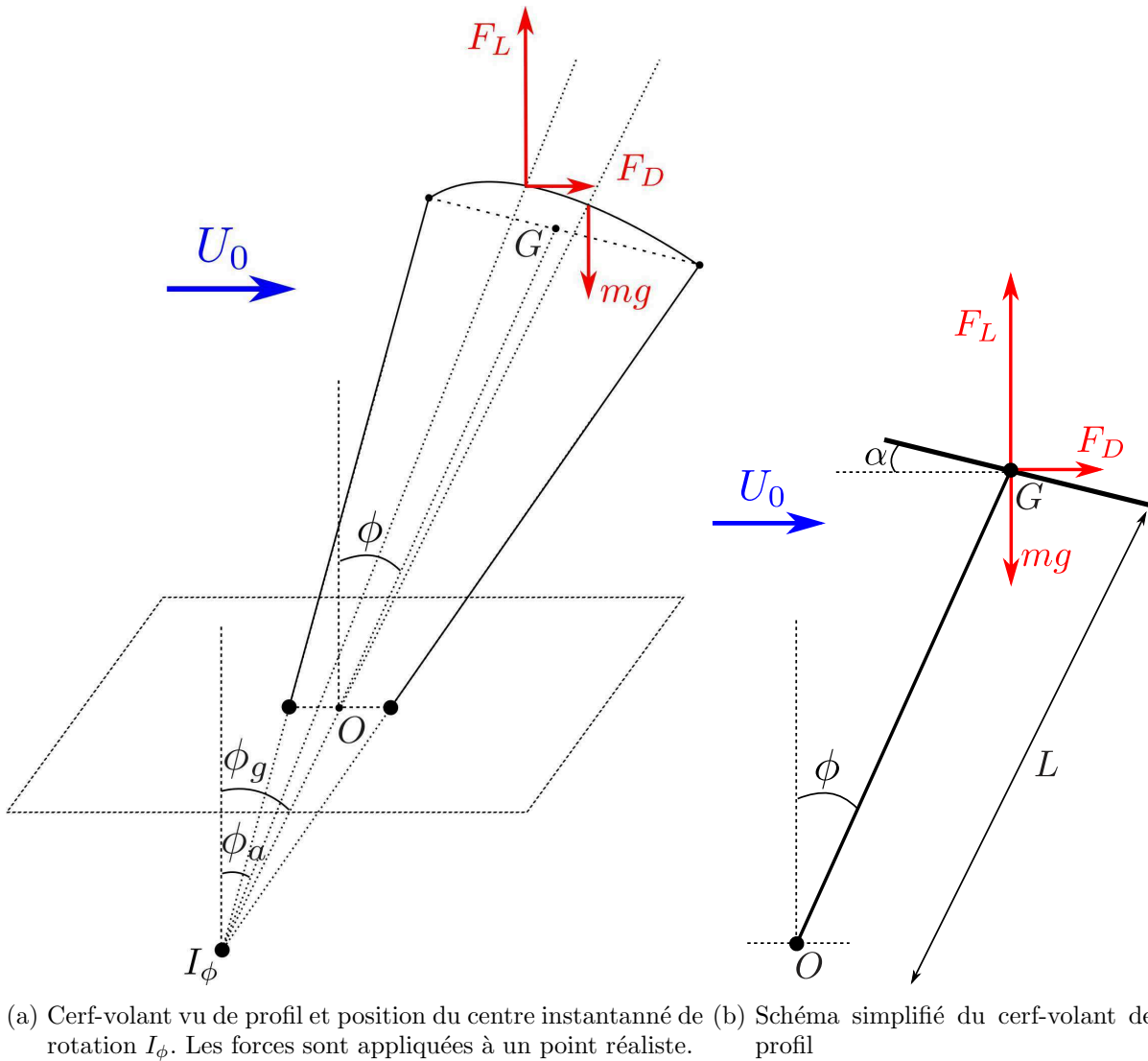


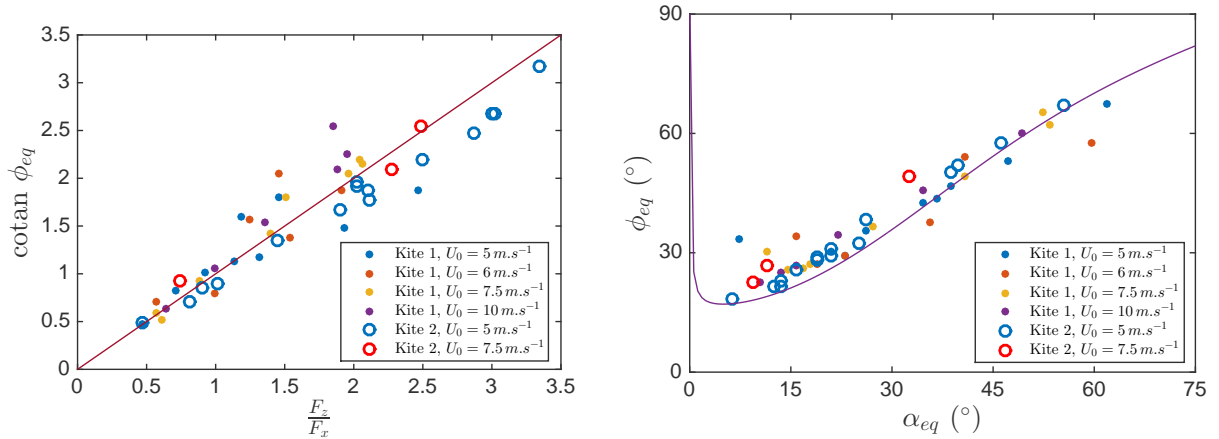
FIGURE 2.38 – Schémas réaliste (a) et simplifié (b) du cerf-volant de profil. Pour le cerf-volant simplifié, on assimile ϕ_a et ϕ_g à ϕ . Toutes les forces sont appliquées au point G

Dans le cas où $|\phi_a - \phi_g| \ll 1$ et $|\phi_a - \phi| \ll 1$, on peut faire l'approximation $\phi_g = \phi_a = \phi$. L'équilibre est alors donné par :

$$\frac{1}{\tan \phi_{eq}} = \frac{F_L - M_K g}{F_D} = \frac{F_z}{F_x} \tag{2.40}$$

Nous vérifions cette relation sur la figure 2.39a. Les points s'alignent sur une droite de pente 1 (courbe rouge), ce qui valide le modèle.

Dans la limite des vents forts, c'est à dire quand les forces aérodynamiques sont grandes devant le poids du cerf-volant ($\frac{1}{2} \rho_{air} A U_0^2 \gg M_K g$), la relation précédente est indépendante de la vitesse et se réduit à :



(a) $\cotan \phi_{eq}$ en fonction du rapport $\frac{F_z}{F_x}$. La courbe pleine est une droite de pente 1. (b) Angle d'équilibre ϕ_{eq} en fonction de l'angle d'incidence à l'équilibre α_{eq} . La courbe pleine représente $\phi_{eq} = \arctan \frac{c_D}{c_L}$ en utilisant les modèles 2.35 et 2.38 pour c_L et c_D .

FIGURE 2.39 – Deux représentations de la position d'équilibre des cerf-volants de type 1 et 2 (tableau 2.2)

$$\frac{1}{\tan \phi_{eq}} = \frac{c_L}{c_D} \quad (2.41)$$

Cette relation est testée par la courbe pleine mauve sur la figure 2.39b. Les points expérimentaux ne sont pas très éloignés de la courbe $\phi = \arctan \frac{c_D}{c_L}$. Ce modèle simplifié, ne prenant pas en compte la gravité, semble être une bonne approximation pour l'angle d'équilibre du cerf-volant. Il est intéressant de noter que cette relation est très robuste même pour les faibles vitesses. En effet, si la figure 2.37a montre une dépendance importante de l'angle d'équilibre ϕ_{eq} à la vitesse jusqu'à une vitesse d'environ $U_0 = 8 \text{ m.s}^{-1}$, les mesures faites à une vitesse de 5 m.s^{-1} sont proches du modèle sur la figure 2.39b. Cela peut s'expliquer par le fait que lorsque l'angle d'équilibre ϕ_{eq} diminue quand on augmente la vitesse, l'angle d'incidence α_{eq} diminue aussi.

2.7.1.3.2 Position du centre aérodynamique

Dans la partie précédente, nous avons fait l'hypothèse que $\phi \approx \phi_a$. Cela est équivalent à dire que la force aérodynamique s'applique au milieu de la corde du cerf-volant. Pour valider cette approximation, nous allons mesurer indirectement la tension dans les suspentes du cerf-volant. Lorsque le cerf-volant est dans sa position d'équilibre, la somme des moments qui s'exercent sur lui est nulle. Pour une vitesse de vent suffisante, nous pouvons négliger le poids du cerf-volant et considérer qu'il n'est soumis qu'à la force aérodynamique et à la tension des suspentes. Pour tout point P du cerf-volant, si l'on note G_A le point d'application des forces aérodynamiques, nous pouvons écrire :

$$\mathbf{P}\mathbf{G}_A \wedge \mathbf{F}_A + \mathbf{P}\mathbf{K}_a \wedge \mathbf{T}_a + \mathbf{P}\mathbf{K}_g \wedge \mathbf{T}_g + \mathbf{P}\mathbf{K}_d \wedge \mathbf{T}_d = \mathbf{0} \quad (2.42)$$

En projetant selon \mathbf{e}_y , on a par symétrie : $(\mathbf{P}\mathbf{K}_g \wedge \mathbf{T}_g) \cdot \mathbf{e}_y = (\mathbf{P}\mathbf{K}_d \wedge \mathbf{T}_d) \cdot \mathbf{e}_y$. On peut donc écrire :

$$(\mathbf{P}\mathbf{G}_A \wedge \mathbf{F}_A) \cdot \mathbf{e}_y = -(\mathbf{P}\mathbf{K}_a \wedge \mathbf{T}_a + 2\mathbf{P}\mathbf{K}_g \wedge \mathbf{T}_g) \cdot \mathbf{e}_y \quad (2.43)$$

En prenant P tel que $\mathbf{P}\mathbf{G}_A$ soit le long de la corde du cerf-volant, $\mathbf{P}\mathbf{G}_A$ et \mathbf{F}_A ne sont pas colinéaires et sont dans le plan xOz donc :

$$(\mathbf{P}\mathbf{G}_A \wedge \mathbf{F}_A) \cdot \mathbf{e}_y = 0 \Leftrightarrow \mathbf{P}\mathbf{G}_A = \mathbf{0} \text{ ou } \mathbf{F}_A = \mathbf{0} \quad (2.44)$$

La force aérodynamique étant non nulle, le seul point du cerf-volant par rapport auquel son moment suivant \mathbf{e}_y est nul est le centre des forces aérodynamiques. La relation 2.43 nous dit que le moment de la force aérodynamique est nul quand le moment des tensions dans les suspentes est lui aussi nul. Nous allons donc calculer la position du point P tel que le moment des tensions dans les suspentes est nul. Soit :

$$(\mathbf{P}\mathbf{K}_a \wedge \mathbf{T}_a + 2\mathbf{P}\mathbf{K}_g \wedge \mathbf{T}_g) \cdot \mathbf{e}_y = 0 \quad (2.45)$$

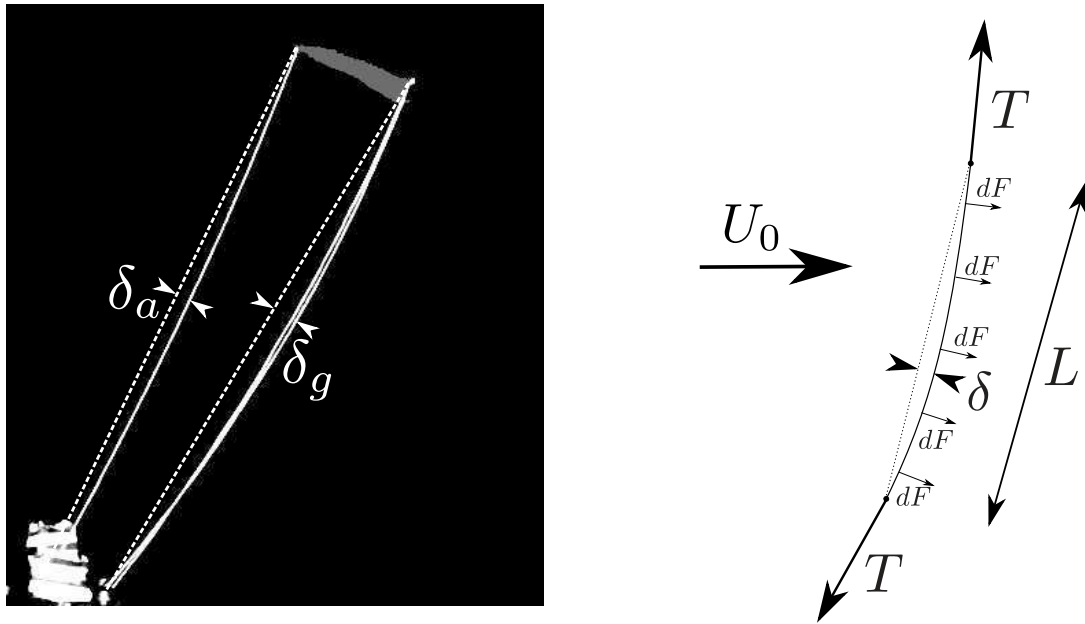
Si l'on note $x = \frac{\|\mathbf{P}\mathbf{k}_{ar}\|}{c}$, la distance du point P au bord de fuite, cette relation peut s'écrire :

$$\left((1-x) \frac{\mathbf{k}_{ar}\mathbf{K}_a}{c} \wedge \frac{\mathbf{T}_a}{T_a} - 2x \frac{\mathbf{k}_{ar}\mathbf{K}_a}{c} \wedge \frac{\mathbf{T}_g}{T_g} \frac{T_g}{T_a} \right) \cdot \mathbf{e}_y = 0 \quad (2.46)$$

En ayant accès au rapport entre la valeur des tensions dans les lignes $\frac{T_g}{T_a}$ et la direction des différents vecteurs en jeu, nous pouvons donc calculer x et connaître le point d'application des forces aérodynamiques. Pour mesurer le rapport de tension entre la suspente avant et les suspentes arrières, nous pouvons mesurer leur déformation relative. On peut voir sur la figure 2.40a que les suspentes ne sont pas droites. En effet, elles sont courbées par leur traînée $F_D = \sum \delta F$. La rigidité des suspentes est négligeable, elles se comportent donc comme des chainettes. On peut donc se ramener au problème présenté sur le schéma 2.40b.

Dans ce cas, on a :

$$\frac{T}{F_D} \approx \frac{L}{\delta} \quad (2.47)$$



(a) Photo d'un cerf-volant de type 1 (tableau 2.2) présentant la déflexion des suspentes avant et arrière (b) Schéma de la déformation des suspentes par l'écoulement

FIGURE 2.40 – Déformation des suspentes

Les longueurs des suspentes avant et arrière sont peu différentes et nous choisissons une configuration où elles sont quasiment parallèles. Dans ce cas, on a :

$$\frac{T_a}{T_g} \approx \frac{\delta_g}{\delta_a} \quad (2.48)$$

La différence de déflexion des suspentes nous donne donc accès directement à la différence de tension dans les lignes. Si l'on trace maintenant la position relative x du point d'application des forces aérodynamiques sur la corde du cerf-volant en fonction de l'angle d'incidence, on obtient la figure 2.41. Les données sont relativement bruitées car la déflexion oscille pendant le vol à cause du détachement tourbillonnaire et des mouvements du cerf-volant. Cependant, on peut voir que l'approximation de placer le point d'application des forces aérodynamiques au milieu du cerf-volant est raisonnable. On peut aussi voir une tendance attendue qui est que ce point recule quand l'angle d'incidence augmente. On peut comparer cette mesure à ce qui est connu pour une plaque plane où le point d'application des forces aérodynamiques est donné par [59] :

$$x^* = 0.5 + 0.75 \frac{\cos \alpha}{4 + \pi \sin \alpha} \quad (2.49)$$

Pour adapter cette formule à notre cerf-volant dont la corde est variable, nous devons intégrer sur la largeur du cerf-volant :

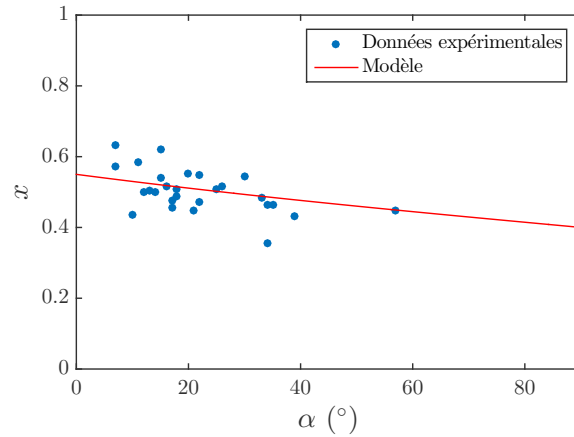


FIGURE 2.41 – Position du point d'application de la force aérodynamique sur le cerf-volant de type 1 (tableau 2.2) à partir du bord de fuite en fonction de l'angle d'incidence. Les points bleus représentent les données expérimentales. La ligne rouge montre le modèle présenté dans l'équation 2.51.

$$x = \frac{1}{cA} \int_{-\frac{s}{2}}^{\frac{s}{2}} (x^* c(u)) c(u) du \quad \text{avec} \quad c(u) = c - 4 \frac{c}{s^2} u^2 \quad (2.50)$$

Le modèle donne donc une position des forces aérodynamiques en :

$$x = \frac{4}{5} \left(0.5 + 0.75 \frac{\cos \alpha}{4 + \pi \sin \alpha} \right) \quad (2.51)$$

Ce modèle donne une position du centre des forces aérodynamiques proche de nos résultats expérimentaux (figure 2.41).

2.7.2 Remarque sur l'équilibre en grand roulis et en lacet du cerf-volant

Pour des raisons de symétrie, la position d'équilibre en grand roulis (schéma 2.23a) est $\psi_{eq} = 0$ quand les suspentes arrières sont de même longueur. Il est cependant possible de modifier cette position d'équilibre en prenant des longueurs différentes pour les suspentes arrières.

Le même argument de symétrie permet de justifier que l'angle d'équilibre en lacet (schéma 2.23a) du cerf-volant est $\chi_{eq} = 0$. Cependant, dans ce cas, la variation de la longueur des suspentes arrières a peu d'impact sur l'angle d'équilibre qui reste très proche de zéro.

2.8 Perturbation de l'équilibre, modes de vibration et d'amortissement

Lors de son vol, le cerf-volant oscille spontanément autour de sa position d'équilibre en grand tangage, grand roulis et lacet. Selon la configuration choisie pour le vol, l'amplitude de ces oscillations varie. Cette amplitude peut aller d'oscillations de l'ordre du degré à des oscillations qui entraînent la chute au sol du cerf-volant. Dans cette partie, on s'intéresse à ces oscillations observées autour des positions d'équilibre étudiées précédemment, ainsi qu'à leur stabilité.

2.8.1 Stabilité du cerf-volant en grand tangage

Nous mesurons les fréquences d'oscillation en grand tangage du cerf-volant (schéma 2.23a). Pour avoir accès aux vitesses d'écoulement faibles, nous effectuons aussi des mesures sur des cerf-volants suspendus (figure 2.42).

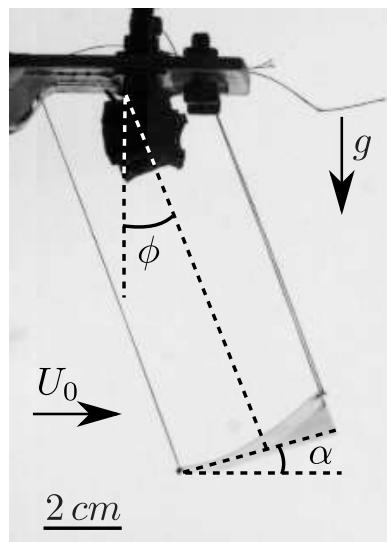
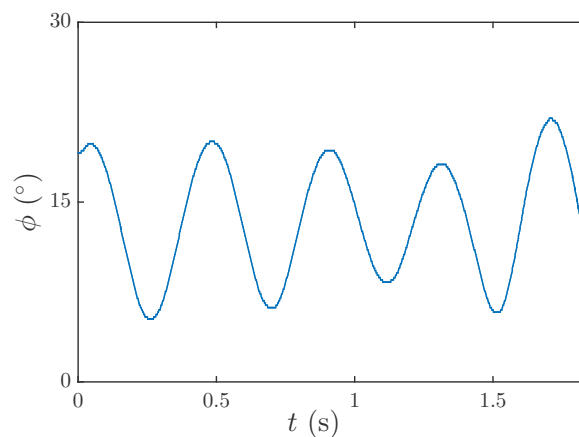
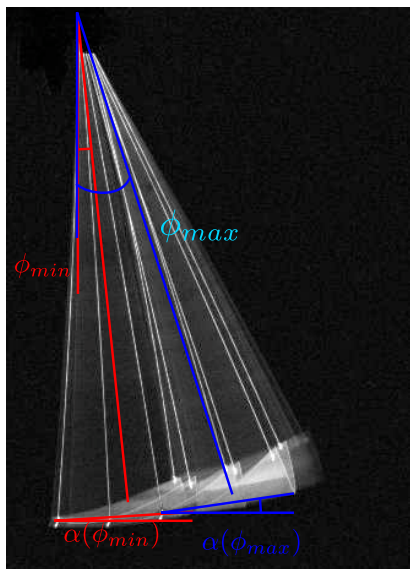


FIGURE 2.42 – Photo du dispositif de cerf-volant de type 1 (tableau 2.2) suspendu pour : $\Delta x = 4$ cm, $\Delta y = 3$ cm, $L_a = 10$ cm, $U_0 = 5$ m.s⁻¹

2.8.1.1 Étude qualitative du cerf-volant en grand tangage

Pour observer les oscillations en grand tangage, nous filmons le vol du cerf-volant sur la durée de quelques oscillations.

En observant les chronophotographies plus précisément, nous pouvons remarquer que la cinématique de l'aile change quand nous changeons la valeur de Δx (figures 2.43a ($\Delta x = 0$), 2.44a ($\Delta x = c$) et 2.45a ($\Delta x > c$)). Nous pouvons également voir que l'angle d'incidence de l'aile change au cours d'une oscillation.



(a) Chronophotographie pour $\Delta x = 0$. L'angle d'incidence varie de $\alpha = 4^\circ$ pour $\phi = 5^\circ$ (en rouge) à $\alpha = 11^\circ$ pour $\phi = 19^\circ$ (en bleu) pendant l'oscillation. Cette chronophotographie est la somme d'une chronophotographie de l'intégralité du mouvement et de trois positions du cerf-volant (ϕ maximal, minimal et moyen).

(b) Evolution temporelle de l'angle ϕ pour $\Delta x = 0$

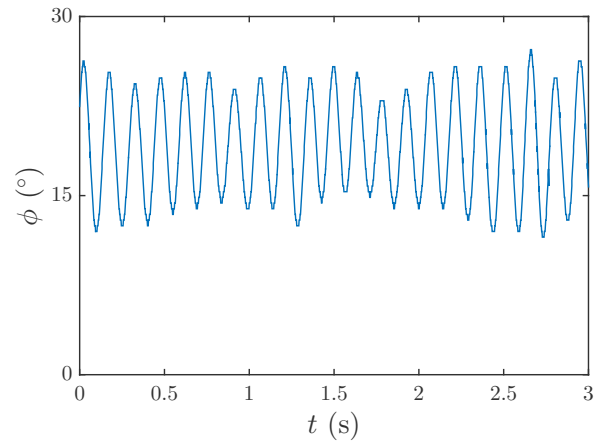

FIGURE 2.43 – Oscillations en grand tangage pour le cerf-volant de type 2 (tableau 2.2) avec $\Delta x = 0$, $L_a = 20\text{ cm}$, $\Delta y = 4\text{ cm}$ et $U_0 = 5\text{ m}\cdot\text{s}^{-1}$.

- Pour une valeur de Δx faible, α augmente quand ϕ augmente (pour $\Delta x = 0$, α augmente de 4° à 10° quand ϕ augmente de 5° à 20°)
- Pour des grandes valeurs de Δx , α diminue quand ϕ augmente (pour $\Delta x = 60\text{ mm}$, α diminue de 16° à 13° quand ϕ augmente de 9° à 24°)
- Pour des valeurs de Δx proches de la corde c du cerf-volant, α semble quasiment constant pendant l'oscillation ($\Delta x = 40\text{ mm}$, α passe de 16° à 15° quand ϕ augmente de 10° à 26°)

L'effet du paramètre Δx se ressent aussi sur la stabilité du vol du cerf-volant. Pour $\Delta x < 0$ (suspentes arrières attachées en amont de la suspente avant), il est presque impossible de faire voler le cerf-volant.

Pour $0 \leq \Delta x \ll c$, le cerf-volant reste quasiment immobile pour des angles d'incidence faibles. Lorsqu'on force l'oscillation, elle s'amortit rapidement mais peut se déstabiliser rapidement si une oscillation en grand roulis est initiée. La figure 2.43 montre des oscillations en grand tangage pour $\Delta x = 0$. La fréquence observée est environ 3 Hz.

Pour $\Delta x \approx c$ les oscillations sont peu amorties (figure 2.44), voire auto-entretenues. La fréquence observée est environ 7 Hz.



- (a) Chronophotographie pour $\Delta x = c = 4 \text{ cm}$. L'angle d'incidence varie de $\alpha = 16^\circ$ pour $\phi = 10^\circ$ (en rouge) à $\alpha = 17^\circ$ pour $\phi = 26^\circ$ (en bleu) pendant l'oscillation. Cette chronophotographie est la somme d'une chronophotographie de l'intégralité du mouvement et de trois positions du cerf-volant (ϕ maximal, minimal et moyen).
- (b) Evolution temporelle de l'angle ϕ pour $\Delta x = 4 \text{ cm}$

FIGURE 2.44 – Oscillations en grand tangage pour le cerf-volant de type 1 (tableau 2.2) avec $\Delta x = c = 4 \text{ cm}$, $L_a = 10 \text{ cm}$, $\Delta y = 4 \text{ cm}$ et $U_0 = 5 \text{ m.s}^{-1}$

Pour $\Delta x > c$, les oscillations sont amplifiées jusqu'à atteindre une amplitude maximale (figure 2.45). La fréquence observée est environ 5 Hz.

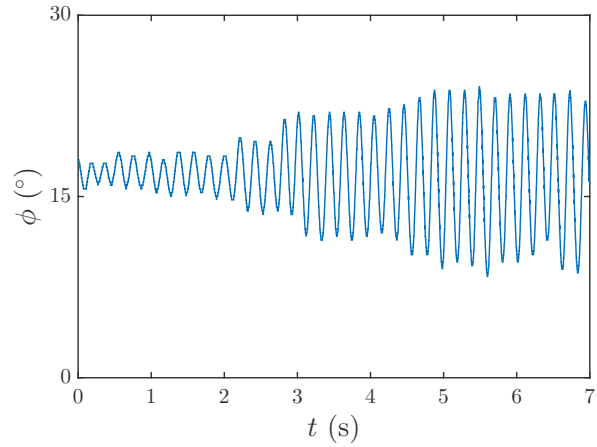
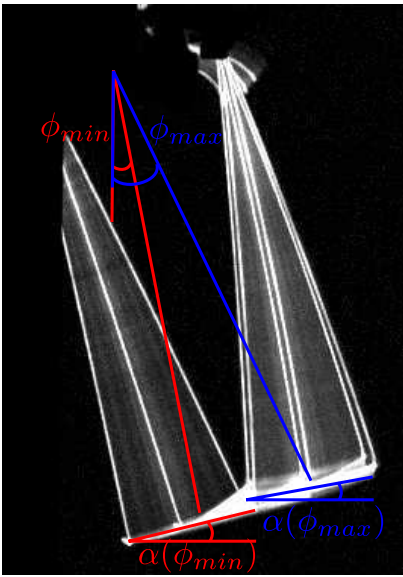
2.8.1.2 Étude quantitative de la stabilité du cerf-volant en grand tangage

La figure 2.46 montre la dépendance de la fréquence d'oscillation ω_ϕ avec la vitesse de l'écoulement U_0 . Deux régimes distincts sont visibles : à faible vitesse d'écoulement ($U_0 < 2 \text{ m.s}^{-1}$), la fréquence d'oscillation est constante ($\omega_\phi \approx 10 \text{ rad.s}^{-1}$). Pour des valeurs plus importantes de la vitesse d'écoulement ($U_0 > 2 \text{ m.s}^{-1}$), la fréquence semble varier linéairement avec la vitesse.

2.8.1.3 Modélisation de la stabilité du cerf-volant en grand tangage

Pour comprendre la stabilité du cerf-volant, nous étudions la dynamique d'un modèle simple représenté par le schéma 2.38b page 106.

Les seuls paramètres retenus sont L , ϕ et α . Pour faire ces simplifications, nous faisons plusieurs hypothèses justifiées en annexe C :



(a) Chronophotographie pour $\Delta x = 6 \text{ cm}$. L'angle d'incidence varie de $\alpha = 16^\circ$ pour $\phi = 9^\circ$ (en rouge) à $\alpha = 13^\circ$ pour $\phi = 24^\circ$ (en bleu) pendant l'oscillation. Cette chronophotographie est la somme d'une chronophotographie de l'intégralité du mouvement et de trois positions du cerf-volant (ϕ maximal, minimal et moyen).
 (b) Evolution temporelle de l'angle ϕ pour $\Delta x = 6 \text{ cm}$

FIGURE 2.45 – Oscillations en grand tangage pour le cerf-volant de type 1 (tableau 2.2) avec $\Delta x = 6 \text{ cm}$, $L_a = 15 \text{ cm}$, $\Delta y = 4 \text{ cm}$ et $U_0 = 5 \text{ m.s}^{-1}$

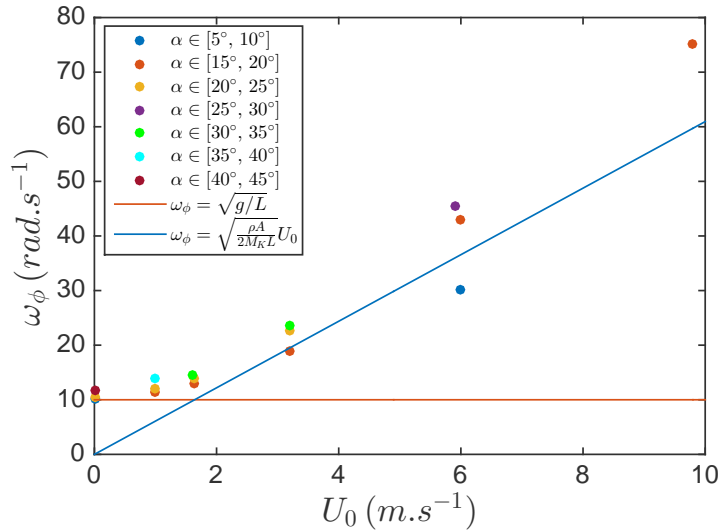


FIGURE 2.46 – Fréquence d'oscillation du cerf-volant de type 1 (tableau 2.2) en fonction de la vitesse de l'écoulement pour $\Delta x = c$ et $L = 10 \text{ cm}$. La ligne rouge est la pulsation du pendule simple $\omega_\phi = \sqrt{g/L}$ et la ligne bleue a pour équation $\omega_\phi = \omega_0 = \sqrt{\frac{\rho A}{2M_K L}}$ qui représente la pulsation d'un pendule en remplaçant la gravité par la force aérodynamique caractéristique $\frac{1}{2}\rho AU_0^2$

- La longueur L varie peu. Le cerf-volant est donc en quasi-rotation autour du point O
- Le moment lié à la tension dans les lignes est faible
- Le moment cinétique du cerf-volant par rapport au point G est négligeable

On note Γ le moment qui s'exerce sur le cerf-volant par rapport à l'axe Oy . Le théorème du moment cinétique appliqué au cerf-volant par rapport à l'axe Oy nous donne :

$$\ddot{\phi} - \frac{\Gamma}{M_K L^2} = 0 \quad (2.52)$$

Les trois forces qui s'exercent sur le cerf-volant sont le poids, la force aérodynamique et la tension des suspentes. Dans la limite où le moment des lignes est faible, on a :

$$\Gamma = L((M_K g - F_L) \sin \phi + F_D \cos \phi) \quad (2.53)$$

En développant ce moment autour de l'équilibre on obtient :

$$\Gamma = \Gamma_{eq} + \left. \frac{\partial \Gamma}{\partial \phi} \right|_{\phi_{eq}} d\phi + \left. \frac{\partial \Gamma}{\partial \dot{\phi}} \right|_0 d\dot{\phi} \quad (2.54)$$

Par définition, le moment est nul à l'équilibre 2.39 ($\Gamma_{eq} = 0$), ce qui induit :

$$\ddot{\phi} + \lambda_\phi \dot{\phi} + \omega_\phi^2 \phi = 0 \quad (2.55)$$

Avec λ_ϕ le coefficient de friction et ω_ϕ la pulsation propre de l'oscillateur qui ont pour expression :

$$\begin{cases} \lambda_\phi = -\frac{1}{M_K L^2} \left. \frac{\partial \Gamma}{\partial \dot{\phi}} \right|_0 \\ \omega_\phi^2 = -\frac{1}{M_K L^2} \left. \frac{\partial \Gamma}{\partial \phi} \right|_{\phi_{eq}} \end{cases} \quad (2.56)$$

2.8.1.3.1 Détermination de ω_ϕ

Pour déterminer la fréquence d'oscillation, nous devons développer la dérivée du couple autour de l'angle d'équilibre ϕ_{eq} .

$$\begin{aligned} \left. \frac{\partial \Gamma}{\partial \phi} \right|_{\phi_{eq}} = & L \left((M_{Kg} - F_L) \cos \phi - F_D \sin \phi \right. \\ & \left. - \left. \frac{\partial F_L}{\partial \phi} \right|_{\phi_{eq}} \sin \phi + \left. \frac{\partial F_D}{\partial \phi} \right|_{\phi_{eq}} \cos \phi \right) \end{aligned} \quad (2.57)$$

En utilisant la valeur des forces de portance et de traînée

$$\begin{cases} F_L = \frac{1}{2} \rho A c_L U_0^2 \\ F_D = \frac{1}{2} \rho A c_D U_0^2 \end{cases}, \quad (2.58)$$

nous obtenons :

$$\begin{aligned} \left. \frac{\partial \Gamma}{\partial \phi} \right|_{\phi_{eq}} = & \frac{1}{2} \rho A U_0^2 L \left(\left(c_L - \frac{M_{Kg}}{\frac{1}{2} \rho A U_0^2} \right) \cos \phi + c_D \sin \phi \right. \\ & \left. + \left. \frac{\partial c_L}{\partial \phi} \right|_{\phi_{eq}} \sin \phi - \left. \frac{\partial c_D}{\partial \phi} \right|_{\phi_{eq}} \cos \phi \right) \end{aligned} \quad (2.59)$$

Le terme surligné en bleu correspond au fait que les forces aérodynamiques ne changent pas de direction mais acquièrent un couple de rappel lorsqu'on s'éloigne de l'angle d'équilibre. Le terme surligné en rouge est dû au fait que lorsque l'angle ϕ change, l'angle d'incidence α change aussi. La force aérodynamique varie et influe donc sur le couple de rappel.

Pour avoir accès aux dérivées des coefficients de portance et de traînée, il faut les écrire d'une manière différente :

$$\begin{cases} \frac{\partial c_L}{\partial \phi} = \frac{\partial c_L}{\partial \alpha} \frac{\partial \alpha}{\partial \phi} \\ \frac{\partial c_D}{\partial \phi} = \frac{\partial c_D}{\partial \alpha} \frac{\partial \alpha}{\partial \phi} \end{cases} \quad (2.60)$$

Pour obtenir l'effet de la variation de l'angle d'incidence du cerf-volant sur les oscillations, il nous faut donc connaître plus précisément la cinématique du mouvement du cerf-volant. En particulier comment l'angle d'incidence α varie avec l'angle de grand tangage ϕ . Ces deux angles sont liés par la contrainte de garder les suspentes du cerf-volant tendues. La formulation implicite de ce lien est la suivante :

$$\begin{cases} \Delta x = L_a \sin \phi_a + c \cos \alpha - l_{ar} \sin \phi_g \\ 0 = L_a \cos \phi_a - c \sin \alpha - l_{ar} \cos \phi_g \end{cases} \quad (2.61)$$

En combinant ces deux équations, on obtient :

$$\tan \alpha = \frac{L_a \cos \phi_a - l_{ar} \cos \phi_g}{\Delta x - L_a \sin \phi_a + l_{ar} \sin \phi_g} \quad (2.62)$$

En utilisant les relation suivantes :

$$\begin{cases} \phi \approx \frac{\phi_a + \phi_g}{2} \\ \phi_g - \phi_a \approx \frac{c \cos \alpha - \Delta x}{L} \ll 1 \\ L_a \approx l_{ar} \approx L \end{cases} \quad (2.63)$$

On obtient :

$$\tan \alpha \approx \frac{L_a \cos \phi - l_{ar} \cos \phi + L_a \sin \phi (\phi - \phi_a) - l_{ar} \sin \phi (\phi - \phi_g)}{\Delta x + l_{ar} \sin \phi - L_a \sin \phi - l_{ar} \cos \phi (\phi - \phi_g) - L_a \cos \phi (\phi - \phi_a)} \quad (2.64)$$

$$\tan \alpha \approx \frac{(L_a - l_{ar}) \cos \phi + \sin \phi (c \cos \alpha - \Delta x)}{\Delta x - (L_a - l_{ar}) \sin \phi + \cos \phi (c \cos \alpha - \Delta x)} \quad (2.65)$$

Pour des angles α et ϕ faibles, nous avons la relation suivante :

$$\alpha \approx \left(1 - \frac{\Delta x}{c}\right) \phi + \frac{L_a - l_{ar}}{c} \quad (2.66)$$

Soit :

$$\frac{\partial \alpha}{\partial \phi} \approx 1 - \frac{\Delta x}{c} \quad (2.67)$$

Cette approximation est comparée avec les valeurs calculées de manière implicite sur la figure 2.47. Dans la gamme de valeur $\alpha \in [0, 40^\circ]$, cette approximation est satisfaisante.

La fréquence d'oscillation en grand tangage s'écrit donc :

$$\omega_\phi^2 = \omega_0^2 \left(\left(c_L - \frac{MKg}{\frac{1}{2}\rho AU_0^2} \right) \cos \phi_{eq} + c_D \sin \phi_{eq} + \frac{\partial \alpha}{\partial \phi} \Big|_{\phi_{eq}} \left(\frac{\partial c_L}{\partial \phi} \Big|_{\phi_{eq}} \sin \phi - \frac{\partial c_D}{\partial \phi} \Big|_{\phi_{eq}} \cos \phi \right) \right) \quad (2.68)$$

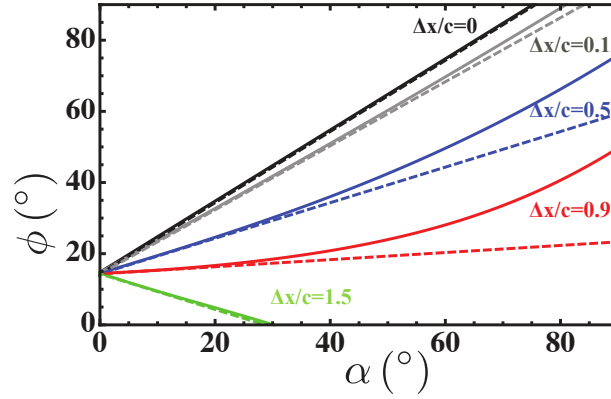


FIGURE 2.47 – Angle de grand tangage ϕ en fonction de l'angle d'incidence α pour différentes valeurs du rapport $\frac{\Delta x}{c}$ pour $L_a = 10 \text{ cm}$, $l_{ar} = 9 \text{ cm}$ et $c = 4 \text{ cm}$. Les lignes continues représentent le calcul implicite effectué à partir de l'équation 2.61. Les lignes en pointillé représentent l'approximation $\frac{\partial \alpha}{\partial \phi} = 1 - \frac{\Delta x}{c}$

où :

$$\omega_0^2 = \frac{\frac{1}{2}\rho AU_0^2}{M_K L}. \quad (2.69)$$

2.8.1.3.2 Suspentes parallèles $\Delta x = c$

Commençons par nous intéresser au cas où $\frac{\Delta x}{c} = 1$. C'est à dire le cas où les suspentes sont quasiment parallèles. Dans ce cas, $\partial\phi/\partial\alpha = 0$. Cette indépendance est confirmée par la chronophotographie 2.44a où l'angle d'incidence ne varie presque pas pendant les oscillations. Dans ce cas, la fréquence d'oscillation du cerf-volant se réduit à :

$$\omega_\phi^2 = \omega_0^2 \left(\left(c_L + \frac{M_K g}{\frac{1}{2}\rho AU_0^2} \right) \cos \phi_{eq} + c_D \sin \phi_{eq} \right) \quad (2.70)$$

Cette prédiction est testée sur la figure 2.48 pour différentes vitesses. La correspondance entre la théorie et l'expérience est bonne.

On peut simplifier cette formule quand la vitesse de l'écoulement est très faible ($\rho AU_0^2 \ll M_K g$) et très grande ($\rho AU_0^2 \gg M_K g$) :

$$\begin{cases} \omega_\phi^2 = \frac{g}{L} & \text{pour } \rho AU_0^2 \ll M_K g \\ \omega_\phi^2 = \omega_0^2 (c_L \cos \phi_{eq} + c_D \sin \phi_{eq}) & \text{pour } \rho AU_0^2 \gg M_K g \end{cases} \quad (2.71)$$

Ces formules est testée dans la figure 2.46 et donne des résultats satisfaisants.

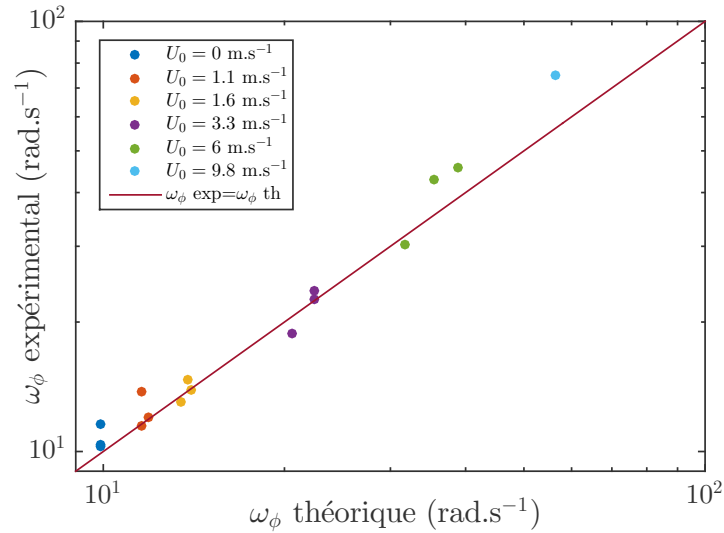


FIGURE 2.48 – Pulsation expérimentale en fonction de la pulsation théorique pour le cerf-volant de type 1 suspendu à l’envers pour $\Delta x = c$, $L_a = 10$ cm et $\Delta y = 4$ cm pour différentes vitesses d’écoulement. La pulsation théorique est calculée à partir de l’équation 2.71.

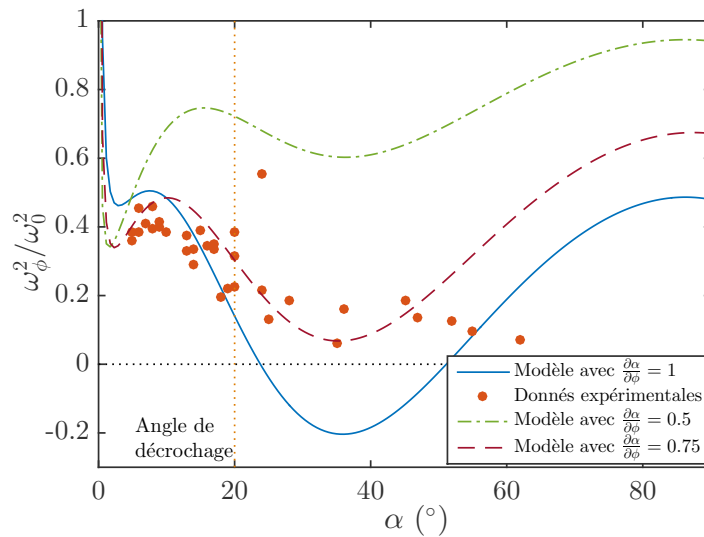


FIGURE 2.49 – ω_ϕ^2/ω_0^2 en fonction de l’angle d’incidence pour le cerf-volant de type 2 suspendu à l’envers pour $\Delta x = 0$, $L_a = 20$ cm et $\Delta y = 4$ cm pour $U_0 = 5$ m.s⁻¹. La pulsation théorique est calculée à partir de la formule 2.68. Les pulsations corrigées sont tracées pour des valeurs de $\partial\alpha/\partial\phi = 0.5$ et $\partial\alpha/\partial\phi = 0.75$

2.8.1.3.3 Suspentes fixées en un points $\Delta x = 0$

Intéressons nous maintenant au cas où $\Delta x = 0$. Dans ce cas, le système cerf-volant+suspentes se comporte comme un solide en rotation autour de l’axe Oy . On a donc $\frac{\partial\alpha}{\partial\phi} = 1$. Le modèle et les valeurs expérimentales sont présentés sur la figure 2.49. Pour les angles d’incidence inférieurs à l’angle de décrochage ($\alpha < 20^\circ$), les données sont proches du modèle. Pour les angles plus importants, la fréquence mesurée expérimentalement varie peu alors que le modèle prédit que cette fréquence s’annule et que le cerf-volant doit devenir instable.

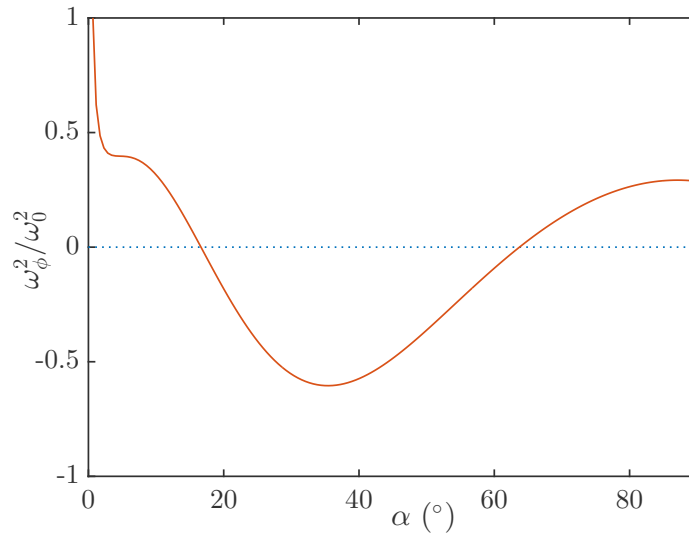


FIGURE 2.50 – ω_ϕ^2/ω_0^2 théorique en fonction de l'angle d'incidence pour $\Delta x/c = -0.25$. Dans ce cas, $\partial\alpha/\partial\phi = 1.25$.

L'explication la plus plausible est que notre prédiction sur $\partial\alpha/\partial\phi$ n'est pas bonne. En effet, le cerf-volant n'est pas rigide et il se déforme pendant ses oscillations. On peut voir sur la figure 2.43 que dans le cas où $\Delta x = 0$ qui devrait correspondre à $\partial\alpha/\partial\phi = 1$, l'amplitude de variation de α est de 7° alors que l'amplitude de variation de ϕ est de 14° , ce qui correspond à $\partial\alpha/\partial\phi \approx 0.5$. Si on modifie avec cette valeur de $\partial\alpha/\partial\phi$, la fréquence est surestimée, mais le modèle ne prévoit plus d'instabilité. Le modèle semble rendre bien compte de la réalité pour $\partial\alpha/\partial\phi \approx 0.75$ (pointillé rouge).

2.8.1.3.4 Suspentes croisées $\Delta x < 0$

Pour $\Delta x < 0$, on s'attend à ce que le cerf-volant soit instable pour presque tous les angles d'incidence comme prédit sur la figure 2.50 où les angles d'incidence sont compris entre 15° et 65° .

2.8.1.4 Remarque sur les vibrations induites par détachement tourbillonnaire

Les oscillations observées en grand tangage ont une fréquence régulière qui peut faire penser à un détachement tourbillonnaire ([76], [77]). Pour tester cette hypothèse, nous effectuons des mesures de sillage au fil chaud. Le montage expérimental est présenté sur la figure 2.51. Les résultats des mesures sont présentés sur la figure 2.52a. La première remarque que nous pouvons faire sur ces mesures est que les fréquences de détachements tourbillonnaires sont beaucoup plus élevées (entre 20 Hz et 100 Hz) que les fréquences d'oscillation observées (entre 4 Hz et 8 Hz). Les oscillations des cerf-volants ont donc une autre origine que le détachement tourbillonnaire.




FIGURE 2.51 – Montage expérimental de la mesure du sillage au fil chaud. Les fils maintenant le cerf-volant sont tendus par des masses baignant dans l'eau pour atténuer les oscillations du montage

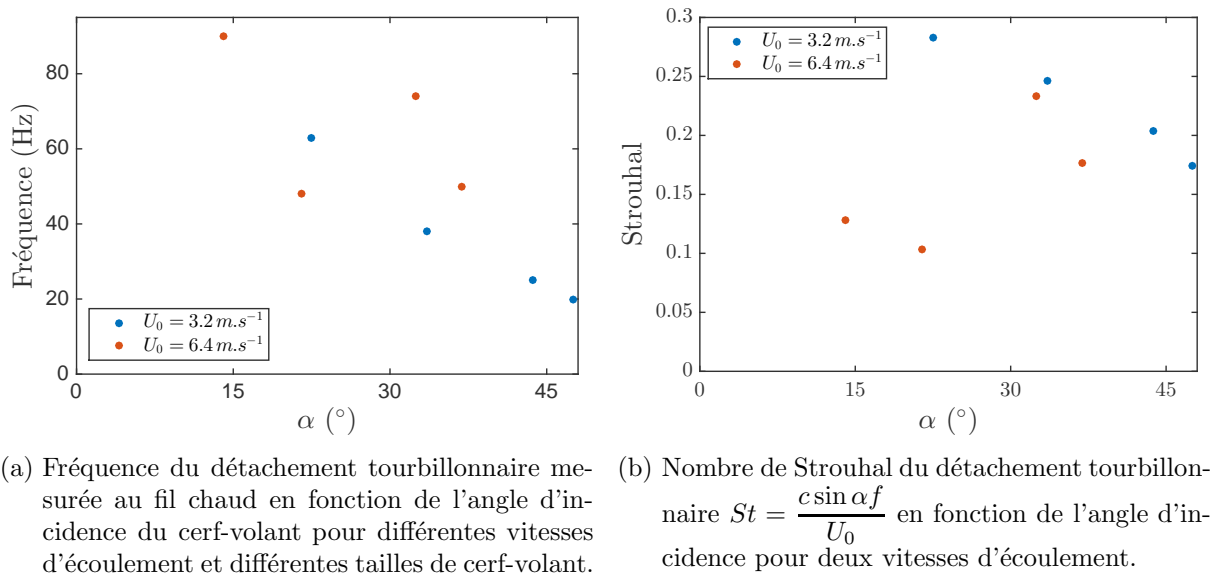


FIGURE 2.52 – Mesures du détachement tourbillonnaires en aval du cerf-volant de type 1 et 2 (tableau 2.2)

Il est tout de même intéressant de calculer le nombre de Strouhal caractéristique du détachement tourbillonnaire. Si nous prenons comme dimension caractéristique du cerf-volant la projection sur la verticale de la corde de l'aile [78] nous obtenons la figure 2.52b. Le nombre de Strouhal obtenu varie entre 0.17 et 0.27 pour des angles d'incidence supérieurs à l'angle de décrochage ($\alpha \approx 25^\circ$), ce qui est la gamme attendue pour les tourbillons de Karman [53].

2.8.1.5 Conclusion : retour sur le diagramme de stabilité

L'étude de la stabilité en grand tangage nous a permis de comprendre l'instabilité du cerf-volant lorsque Δx est négatif. De plus, nous avons observé des oscillations auto-entretenues

pour les grandes valeurs de Δx . Une explication de ce phénomène est donnée en annexe E. Ces oscillations ne génèrent, en général, pas de déstabilisation du cerf-volant. Pour rendre compte de la déstabilisation du cerf-volant pour les grandes valeurs de Δy nous devons étudier le mouvement de grand roulis qui semble être celui qui mène à l'instabilité.

2.8.2 Stabilité en grand roulis

Les observations préliminaires nous ont montré que certaines configurations de fixation au sol des cerf-volants avaient un effet important sur leur stabilité. Il apparait que lorsqu'ils tombent après avoir oscillé, l'oscillation a eu lieu principalement dans le plan du roulis (yOz) (schéma 2.23a).

2.8.2.1 Observation qualitative des mouvements du cerf-volant en grand roulis

Pour une configuration donnée (Δx , L_a , L_g et U_0 fixés), on obtient trois comportements différents pour le vol du cerf-volant en fonction de la valeur de Δy .

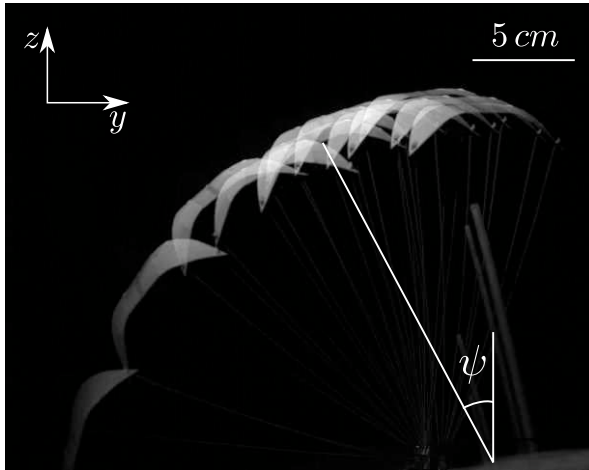
2.8.2.1.1 Régime non oscillant

Pour des valeurs de vitesse du vent suffisantes pour que la force de portance soit plus grande que le poids du cerf-volant ($U_0 > U_0^*$), il est possible que le cerf-volant ne reste pas en l'air si les fixations des suspentes arrières sont peu écartées 2.53. Nous allons nous intéresser à la vitesse critique (notée U^*) en dessous de laquelle, pour une configuration donnée Δy , le cerf-volant ne peut plus voler.

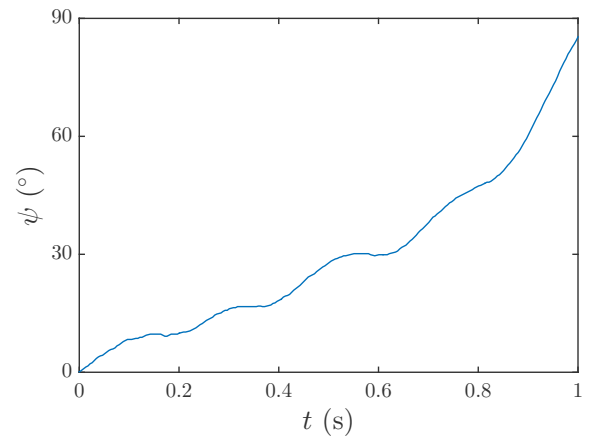
On peut voir sur la figure 2.53a une chronophotographie du vol du cerf-volant pour $U < U^*$ et figure 2.53b l'évolution temporelle correspondante de l'angle de roulis ψ . Le cerf-volant se couche sans osciller sur un temps caractéristique de l'ordre de la seconde et donc grand devant le temps caractéristique de l'écoulement $L/U_0 = 30$ ms.

2.8.2.1.2 Vol stable

Pour une vitesse d'écoulement supérieure à U^* et Δy suffisamment faible, le cerf-volant peut voler et osciller en roulis. La figure 2.54a montre le secteur angulaire couvert par le cerf-volant sur une durée de quelques secondes. La figure 2.54b montre l'évolution temporelle de ψ correspondante. On voit ici des fréquences d'oscillation de l'ordre de quelques Hertz et une amplitude angulaire pouvant aller jusqu'à 30° . Les oscillations apparaissent moins régulières que les oscillations en tangage.




(a) Chronophotographie de la chute du cerf-volant

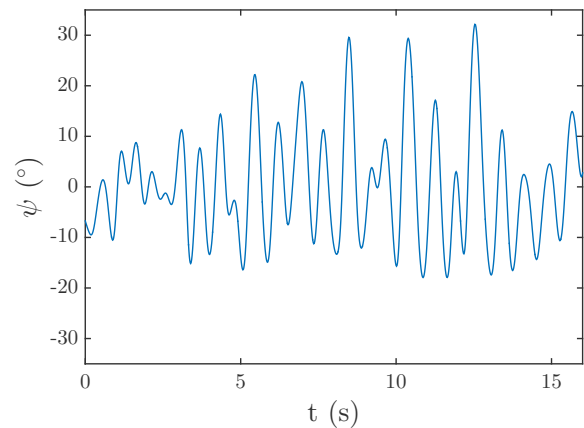


(b) Évolution temporelle de l'angle de roulis

FIGURE 2.53 – Chronophotographie et évolution temporelle de l'angle de grand roulis du cerf-volant de type 3 (tableau 2.2) pour une vitesse d'écoulement trop faible pour le maintenir en vol $U_0 = 5 \text{ m.s}^{-1} < U^*$. Les paramètres de fixation sont : $\Delta x = 2 \text{ cm}$, $\Delta y = 1 \text{ cm}$ et $L_a = 15 \text{ cm}$.



(a) Chronophotographie des oscillations du cerf-volant sur une durée de 5 s

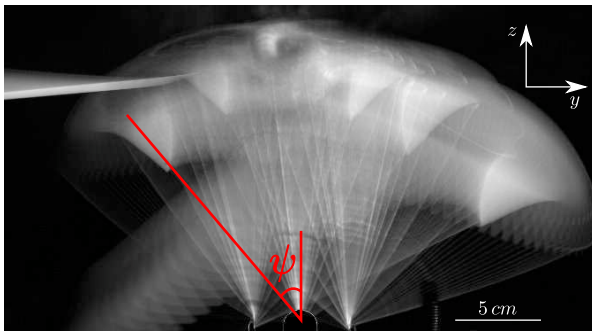


(b) Évolution temporelle de l'angle de roulis

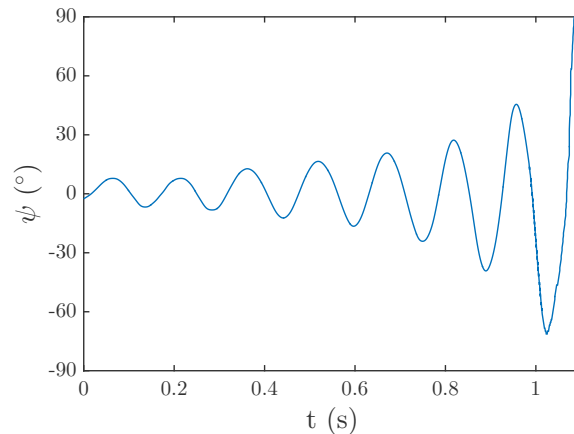
FIGURE 2.54 – Chronophotographie et évolution temporelle de l'angle de grand roulis du cerf-volant de type 3 (tableau 2.2) dans le cas où la vitesse de l'écoulement est telle que $U_0 = 8 \text{ m.s}^{-1} > U^*$. Les paramètres de fixation sont : $\Delta x = 2 \text{ cm}$, $\Delta y = 2 \text{ cm}$ et $L_a = 15 \text{ cm}$.

2.8.2.1.3 Vol instable

Pour des valeurs de l'écartement entre les suspentes arrières Δy plus grandes que Δx , le cerf-volant oscille violemment et finit par tomber. La figure 2.55a montre une chronophotographie de la trajectoire prise par le cerf-volant et la figure 2.55b montre l'évolution temporelle de ψ correspondante.



(a) Chronophotographie des oscillations puis du crash du cerf-volant



(b) Évolution temporelle de l'angle de roulis

FIGURE 2.55 – Chronophotographie et évolution temporelle de l'angle de grand roulis du cerf-volant de type 3 (tableau 2.2) dans le cas d'oscillations dont l'amplitude croît jusqu'à la chute du cerf-volant. La vitesse de l'écoulement est telle que $U_0 = 8 \text{ m.s}^{-1} > U^*$. Les paramètres de fixation sont : $\Delta x = 2 \text{ cm}$, $\Delta y = 3.5 \text{ cm}$ et $L_a = 15 \text{ cm}$

2.8.2.2 Étude quantitative des mouvements du cerf-volant en grand roulis

2.8.2.2.1 Pas d'oscillation : régime gravitaire

On s'intéresse ici à l'effet des différents paramètres sur U^* . Le graphe 2.56a montre la faible dépendance de U^* en l'écart Δx entre les suspentes avant et arrières. On voit par contre une très forte dépendance sur l'écart Δy entre les suspentes arrières dans le graphe 2.56b. On peut remarquer que la valeur de U^* semble diverger quand Δy tend vers 0 et atteindre un plateau quand Δy s'approche de l'envergure s du cerf-volant ($s = 8 \text{ cm}$ pour les cerf-volants de type 1 et 3 et $s = 11 \text{ cm}$ pour le cerf-volant de type 2).

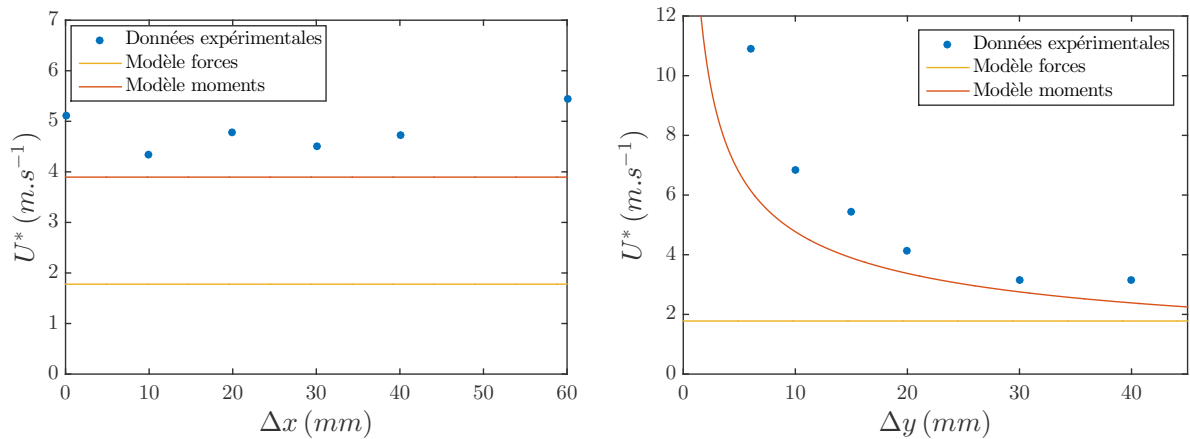
2.8.2.2.2 Régime oscillant

Pour une valeur suffisamment importante de Δy , le cerf-volant oscille 2.54. La figure 2.57 montre l'évolution de la pulsation ω_ψ du cerf-volant en fonction de l'écartement Δy pour différentes valeurs de Δx . Nous pouvons noter que Δx semble avoir un faible impact sur la fréquence d'oscillation. La fréquence d'oscillation semble tendre vers 0 quand Δy tend vers 0 et augmente de façon monotone avec Δy .

2.8.2.3 Modélisation

2.8.2.3.1 Notations spécifiques

Dans cette partie, nous nous intéressons à la projection du système sur le plan yOz . Nous allons ajouter des notations spécifiques détaillées sur la figure 2.58a.



(a) Dépendance de U^* en Δx pour $\Delta y = 15 mm$ (b) Dépendance de U^* en Δy pour $\Delta x = 30 mm$.

FIGURE 2.56 – Dépendance de la vitesse minimale de vol du cerf-volant 3 avec les paramètres de fixation du cerf-volant pour une même longueur de suspente avant $L_a = 150 mm$. Dans ces deux figures, la courbe pleine jaune représente la vitesse minimale U_0^* pour laquelle la force aérodynamique compense le poids ($(U_0^* = \sqrt{\frac{M_k g}{1/2 \rho c_L A}})$). La courbe pleine rouge est le modèle donnée dans l'équation 2.80 page 129 qui représente la vitesse minimale $U^* = \sqrt{\frac{2M_K g s}{\rho_{air} A c_L \Delta y}}$ pour laquelle le moment de la force aérodynamique compense le moment du poids.

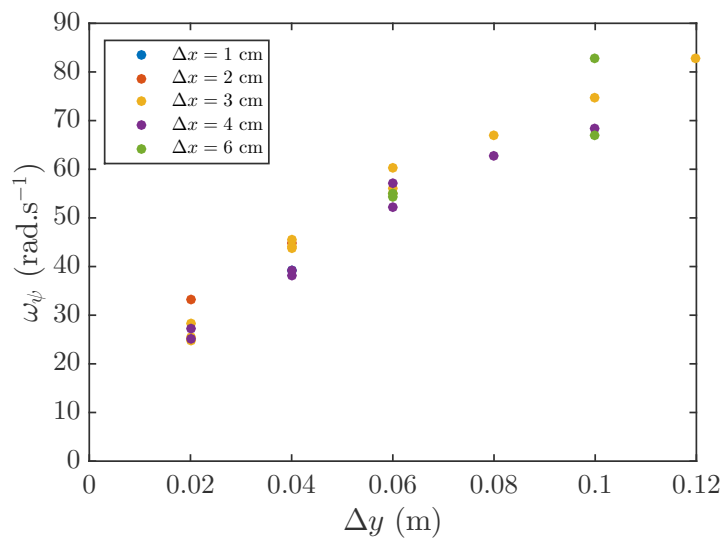


FIGURE 2.57 – Dépendance de ω_ψ en Δy pour différentes valeurs de Δx , $L_a = 150 mm$ et $U_0 = 8 m \cdot s^{-1}$

- o_{ar} milieu du segment $[O_g O_d]$
- k_{ar} milieu du bord de fuite
- l longueur de la projection du segment $[o_{ar} G]$ sur le plan yOz , $l = L \cos \phi$
- l_g longueur de la projection de la suspente gauche sur le plan yOz , $l_g = L_g \cos \phi_g$
- l_d longueur de la projection de la suspente droite sur le plan yOz , $l_d = L_d \cos \phi_d$
- s_c envergure effective du cerf-volant. Longueur du segment $[K_g K_d]$. Cette longueur est illustrée sur la figure 2.58b. l'évolution de s_c en fonction des paramètres du problème est faite dans l'annexe F.

2.8.2.3.2 La stabilité via un argument géométrique

La stabilité statique du cerf-volant peut être discutée qualitativement de manière géométrique. Pour cela on utilise les schémas du cerf-volant présentés sur la figure 2.58. On y voit le cerf-volant vu de derrière (dans le plan yOz). Seules les suspentes arrières sont représentées. Lorsqu'elles restent tendues, elles imposent l'angle de roulis β du cerf-volant (figure 2.58a). Cet angle de roulis donne la direction de la force de portance F_L qui reste perpendiculaire au plan du cerf-volant. Dans cette représentation simplifiée, le cerf-volant est en rotation autour du centre instantané de rotation I_ψ situé à l'intersection des suspentes arrières.

2.8.2.3.3 Suspentes croisées

Dans le cas où les suspentes sont croisées (figure 2.58c). Le poids du cerf-volant et la force de portance ont un moment qui tend à faire augmenter ψ , leur couple est déstabilisant. Le cerf-volant est donc instable quelle que soit la force de portance.

2.8.2.3.4 $0 < \Delta y \ll s_c$

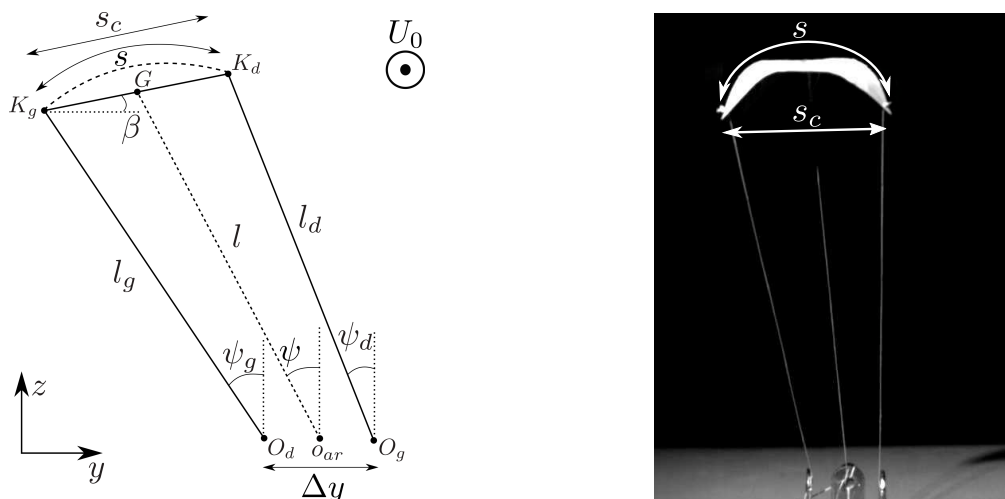
Dans ce cas (figure 2.58d), l'angle de roulis est très peu différent de l'angle de grand roulis. La force de portance a un très faible bras de levier comparé au poids. Le cerf-volant peut donc être instable même pour une force de portance très supérieure au poids.

2.8.2.3.5 $\Delta y \approx s_c$

Quand l'écart entre les suspentes arrières est du même ordre que l'envergure s_c du cerf-volant (figure 2.58e), l'angle de roulis varie peu avec l'angle de grand roulis. Le bras de levier de la force de portance est alors important. Le cerf-volant est statiquement stable quand la force de portance est supérieure au poids.

2.8.2.3.6 $\Delta y > s_c$

Quand les suspentes sont très écartées (figure 2.58f), le centre instantané de rotation est au dessus du cerf-volant. L'angle de roulis a un signe opposé à l'angle de grand roulis. Cela se



(a) Notations spécifiques à la projection du problème sur le plan yOz (b) Détail de la différence entre l'envergure du cerf-volant et son envergure effective

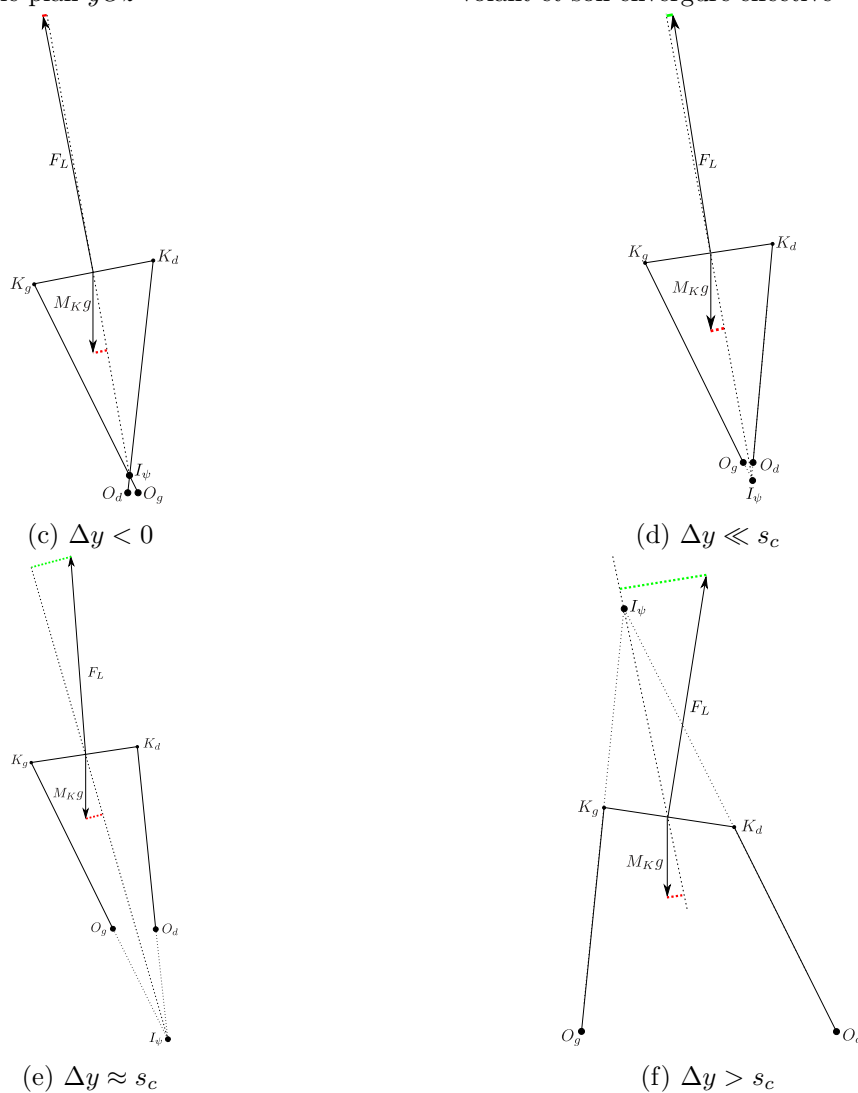
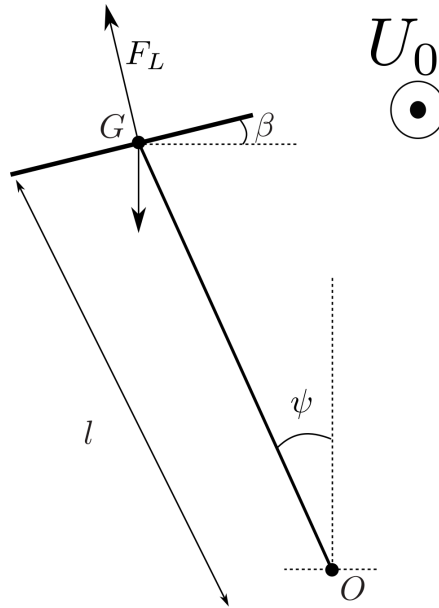


FIGURE 2.58 – Notations spécifiques pour l'étude du grand roulis (a). Définition des envergures (b). Schémas représentant les moments du poids et de la force de portance sur le cerf-volant en roulis pour différentes valeurs de Δy . Sont représentés en rouge les moments déstabilisants et en vert les moments stabilisants (c-f).

FIGURE 2.59 – Schéma simplifié du mouvement du cerf-volant autour de l'axe Ox

traduit par un bras de levier très important de la force de portance. Le cerf-volant est stable dès que la portance est supérieure au poids.

Nous allons maintenant compléter cette étude géométrique de manière quantitative.

2.8.2.3.7 Un peu de calcul

Dans cette approche, on néglige le moment cinétique du cerf-volant par rapport à son centre de gravité devant son moment cinétique par rapport au point O . Cela revient à dire que $\left(\frac{s_c}{L}\right)^2 \ll 1$. En utilisant la modélisation simplifiée présentée sur le schéma 2.59, on peut appliquer le théorème du moment cinétique au cerf-volant par rapport au point O .

$$M_K L^2 \ddot{\psi} + \left(\frac{1}{2} \rho A U_0^2 L (\mathbf{e}_\beta \wedge \mathbf{e}_\psi) - M_K g L (\mathbf{e}_z \wedge \mathbf{e}_\psi) \right) \cdot \mathbf{e}_x = 0 \quad (2.72)$$

En développant cela donne :

$$M_K L^2 \ddot{\psi} + \frac{1}{2} \rho A U_0^2 L (-\sin \beta \cos \psi + \cos \beta \sin \psi) - M_K g L \sin \psi = 0 \quad (2.73)$$

Dans la limite des petits angles, on obtient :

$$M_K L^2 \ddot{\psi} + \frac{1}{2} \rho A U_0^2 L (-\beta + \psi) - M_K g L \psi = 0 \quad (2.74)$$

Il s'agit de trouver la relation entre β et ψ . Dans la limite des petits angles, on a les relations suivantes :

$$\begin{cases} \frac{\psi_g + \psi_d}{2} = \psi \\ \sin \frac{\psi_g - \psi_d}{2} = \frac{s_c - \Delta y}{2L_g \cos \phi_g} \end{cases} \quad (2.75)$$

Le lien entre β et ψ se fait dans les relations :

$$\begin{cases} \Delta y = -L_g \cos \phi_g \sin \psi_g + s_c \cos \beta + L_d \cos \phi_d \sin \psi_d \\ 0 = L_g \cos \phi_g \cos \psi_g + s_c \sin \beta - L_d \cos \phi_d \cos \psi_d \end{cases} \quad (2.76)$$

Dans notre cas, $L_d = L_g$ et $\phi_d = \phi_g$. On peut alors écrire :

$$\tan \beta = \frac{\cos \psi_d - \cos \psi_g}{\frac{\Delta y}{L_g \cos \phi_g} + \sin \psi_g - \sin \psi_d} \quad (2.77)$$

Dans la limite des petits angles on obtient :

$$\beta = \left(1 - \frac{\Delta y}{s_c}\right) \psi \quad (2.78)$$

L'équation du mouvement selon ψ devient donc :

$$\ddot{\psi} + \omega_\psi^2 \psi = 0 \quad \text{avec} \quad \omega_\psi^2 = \frac{1}{2} \frac{\rho A c_L U_0^2}{M_K l} \frac{\Delta y}{s_c} - \frac{g}{l} \quad (2.79)$$

La première information que nous pouvons tirer de cette formule est l'existence d'une vitesse limite U^* au dessus de laquelle la pulsation ω_ψ est réelle et donc le cerf-volant stable. Cette valeur limite vaut :

$$U^* = \sqrt{\frac{2M_K g s_c}{\rho A c_L \Delta y}} \quad (2.80)$$

La vitesse critique est indépendante de Δx , ce qui est en accord avec les résultats présentés sur la figure 2.56a. La valeur de cette vitesse limite est reportée sur la figure 2.56b page 125. Cette valeur théorique présente un bon accord avec les données expérimentales.

Quand la vitesse est suffisante, l'effet de la gravité est négligeable devant celui de la force aérodynamique. La pulsation peut alors s'écrire :

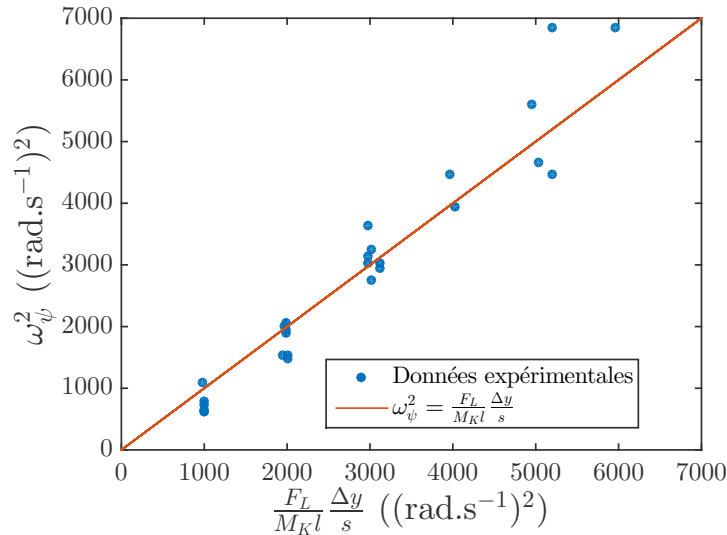


FIGURE 2.60 – Carré de la pulsation de l'oscillation en grand roulis en fonction de la valeur théorique pour le cerf-volant de type 3.

$$\omega_{\psi}^2 = \frac{1}{2} \frac{\rho A c_L U_0^2}{M_K l} \frac{\Delta y}{s_c} \quad (2.81)$$

Cette valeur est comparée aux valeurs expérimentales sur la figure 2.60. L'accord est satisfaisant. Ce modèle valide la faible dépendance de la fréquence d'oscillation en Δx ainsi que la dépendance linéaire en Δy .

2.8.2.4 Conclusion

Cette étude de l'équilibre du grand roulis montre que la position $\psi = 0$ est statiquement instable pour les faibles valeurs de Δy . Cela explique la zone instable où le cerf-volant tombe sans osciller dans le diagramme de stabilité 2.30. L'instabilité oscillante lorsque $\Delta y > \Delta x$ reste à expliquer.

2.8.3 Stabilité en lacet

Lorsqu'on observe les oscillations de grande amplitude en roulis, on peut remarquer que l'angle de lacet (schéma 2.23a) varie aussi. Nous étudions ici les oscillations de l'angle de lacet. Nous nous attachons ici à faire varier les paramètres Δx et Δy dont l'impact sur le lacet est le plus sensible.

2.8.3.1 Observations qualitatives des oscillations en lacet

En général, les oscillations en lacet suivent une dynamique très similaire aux oscillations en grand roulis. Pour de faibles valeurs de Δy , l'excitation initiale est amortie rapidement et l'amplitude

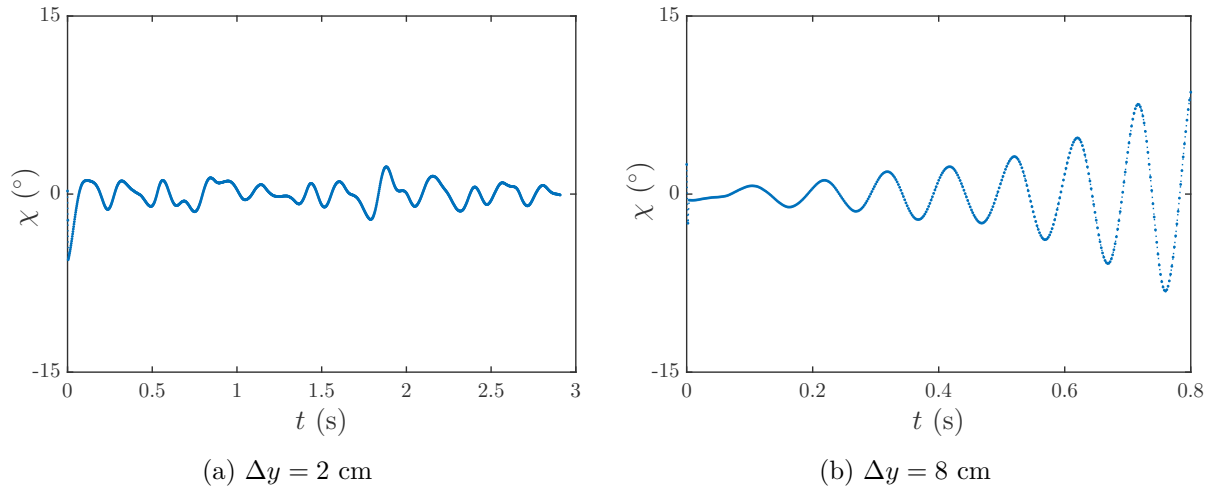


FIGURE 2.61 – Évolution de l'angle de lacet d'un cerf-volant de type 3 en fonction du temps pour $L_a = 15$ cm, $U_0 = 8$ m.s⁻¹, $\Delta x = 3$ cm et différentes valeurs de Δx .

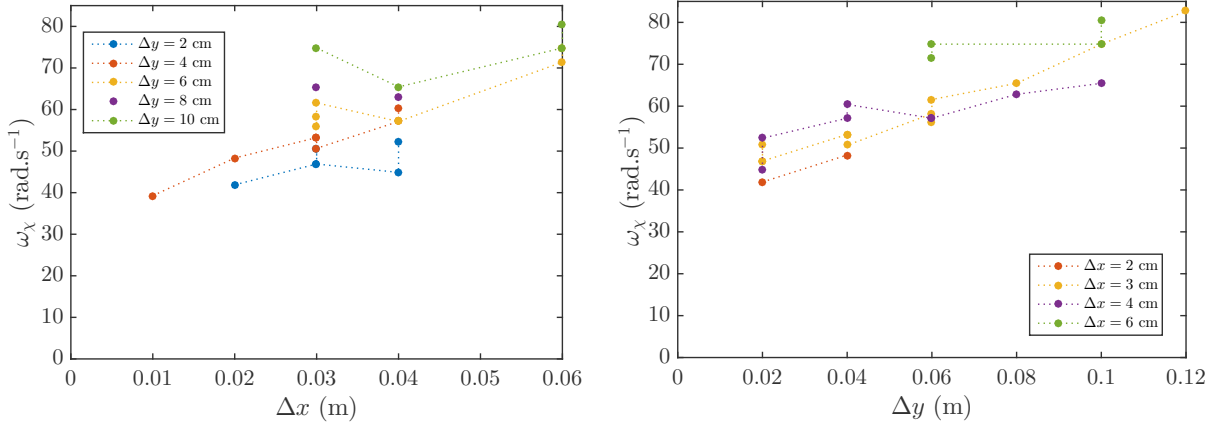
des oscillations est faible comme le montre la figure ???. Quand Δy est grand l'amplitude des oscillations en lacet augmente et peut diverger comme le montre la figure 2.61b.

2.8.3.2 Observations quantitatives des oscillations en lacet

Les paramètres qui paraissent les plus importants dans la fréquence d'oscillation en lacet sont les points de fixation des suspentes. La figure 2.62 donne l'effet de ces deux paramètres sur la fréquence d'oscillation en lacet. Il semble que la fréquence soit croissante en Δx et en Δy avec une loi à déterminer. Notons que la croissance en Δy de la fréquence d'oscillation en lacet est moins marquée que celle de l'oscillation en grand roulis. De même, Δx a une influence sur la fréquence d'oscillation en lacet mais n'en a pas pour l'oscillation en grand roulis. Cela rend possible des configurations où les oscillations en grand roulis et en lacet ont la même fréquence propre.

2.8.3.3 Modélisation

Du fait de la géométrie complexe du problème, nous n'avons pas accès directement à l'expression analytique de la fréquence d'oscillation en lacet. Nous allons d'abord nous intéresser à un cas simplifié présenté sur le schéma 2.63 que nous utiliserons dans un second temps pour nous rapprocher du cerf-volant réel. On choisit les points O_a , O_g et O_d sur un triangle équilatéral de côté $a\sqrt{3}$ et le point O au centre de gravité de ce triangle. De même K_a , K_g et K_d sont choisis sur un triangle équilatéral de côté $b\sqrt{3}$ et le point G au centre de gravité de ce triangle. Les trois suspentes sont choisies de la même longueur L_a . On se place à un angle $\phi = 0$ et $\psi = 0$, ce qui correspond à une force aérodynamique selon l'axe Oz .



(a) Pulsation de l'oscillation en lacet en fonction de Δx (b) Pulsation de l'oscillation en lacet en fonction de Δy

FIGURE 2.62 – Effet des paramètres de fixation au sol sur la fréquence d'oscillation en lacet du cerf-volant de type 3 pour $L_a = 15$ cm et $U_0 = 8$ m.s⁻¹.

Pour toutes les quantités étudiées, l'indice 0 correspond à la configuration non déformée ($\chi = 0$). Ainsi, L est la distance OG après déformation et L_0 est la distance OG pour $\chi = 0$.

Lorsqu'on impose un angle de lacet initial χ au cerf-volant dans cette configuration, la distance L diminue. On peut écrire l'énergie potentielle E_p associée à la force aérodynamique dans cette situation :

$$E_p = E_0 - \mathbf{F} \cdot \mathbf{OG} = F(L_0 - L) \quad (2.82)$$

Il s'agit de déterminer la longueur L en fonction de χ . Pour cela, écrivons les coordonnées du point K_a de deux manières différentes :


$$\mathbf{OK}_a = \mathbf{OG} + \mathbf{GK}_a = \mathbf{OO}_a + \mathbf{O}_a\mathbf{K}_a \quad (2.83)$$

A l'équilibre,

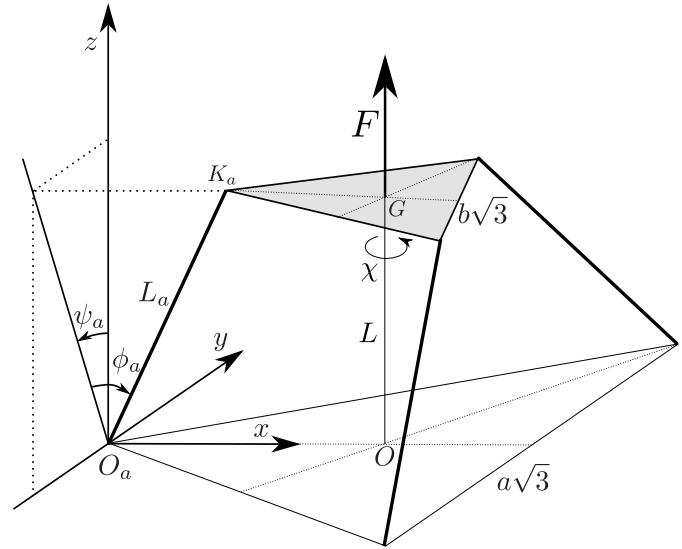
$$\mathbf{OK}_{a0} = \begin{pmatrix} -b \\ 0 \\ L_0 \end{pmatrix} = \begin{pmatrix} -a - L_a \sin \phi_{a0} \\ 0 \\ L_a \cos \phi_{a0} \end{pmatrix} \quad (2.84)$$

On en déduit deux relations importantes :

$$\sin \phi_{a0} = \frac{b - a}{L_a} \quad (2.85)$$



(a) Photo de l'expérience de mesure de ω_χ pour un cerf-volant soumis à la gravité.



(b) Schéma explicatif de l'expérience.

FIGURE 2.63 – Expérience simplifiée ainsi qu'un exemple utilisé pour valider le modèle.

Et :

$$L_0 = L_a \cos \phi_{a0} = L_a \sqrt{1 - \left(\frac{b-a}{L_a}\right)^2} \quad (2.86)$$

Pour un petit angle χ , la relation 2.84 devient :

$$K_a = \begin{pmatrix} -b \cos \chi \\ -b \sin \chi \\ L \end{pmatrix} = \begin{pmatrix} -a - L_a \sin \phi_a \cos \psi_a \\ -L_a \sin \phi_a \sin \psi_a \\ L_a \cos \phi_a \end{pmatrix} \quad (2.87)$$

En développant autour de l'équilibre on obtient :

$$\begin{cases} b \left(1 - \frac{\chi^2}{2}\right) = a + L_a \sin \phi_a + L_a \cos \phi_{a0} (\phi_a - \phi_{a0}) - L_a \sin \phi_{a0} \frac{\psi_a^2}{2} \\ \chi = \left(\frac{L_a}{b} \sin \phi_{a0}\right) \psi_a \\ L - L_0 = -L_a \sin \phi_{a0} (\phi_a - \phi_{a0}) \end{cases} \quad (2.88)$$

Les deux premières équations permettent d'écrire :

$$\phi_a - \phi_{a0} = \frac{ab}{L_0(b-a)} \frac{\chi^2}{2} \quad (2.89)$$

On obtient donc :

$$E_p = \frac{ab}{L_0} F \chi^2 = \frac{ab}{L_a \sqrt{1 - \left(\frac{b-a}{L_a}\right)^2}} F \chi^2 \quad (2.90)$$

Par ailleurs, l'énergie cinétique du cerf-volant vaut :

$$E_c = \frac{1}{2} J_z \dot{\chi}^2 \quad (2.91)$$

De la conservation de l'énergie ($E_c + E_p = E_0$), on déduit l'équation du mouvement :

$$\ddot{\chi} + \omega_\chi^2 \chi = 0 \quad \text{avec} \quad \omega_\chi^2 = \frac{ab}{J_z L_0} F = \frac{ab}{J_z L_a \sqrt{1 - \left(\frac{b-a}{L_a}\right)^2}} F \quad (2.92)$$

Pour valider ce modèle, on effectue l'expérience avec un disque suspendu soumis à son poids pour différentes valeurs de L_a , a et b . Une photo de l'expérience est montrée figure 2.63a. Dans ce cas, la fréquence théorique vaut :

$$\omega_\chi^2 = \frac{ab}{J_z L_0} M_K g \quad (2.93)$$

La comparaison entre la fréquence d'oscillation mesurée et la fréquence théorique est présentée sur la figure 2.64. Les données expérimentales sont proches des valeurs calculées ce qui valide ce modèle.

On peut se demander si ce modèle simplifié peut être appliqué au cas d'un cerf-volant. En effet, dans le cas du cerf-volant, les triangles $O_a O_g O_d$ et $K_a K_g K_d$ ne sont pas équilatéraux, et les suspentes ne sont pas de la même longueur. Dans le modèle, a réfère à la fois à Δx et Δy . Nous

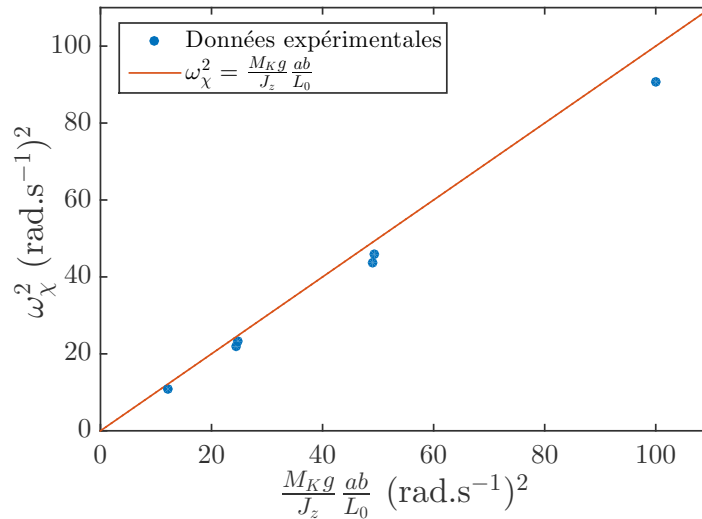
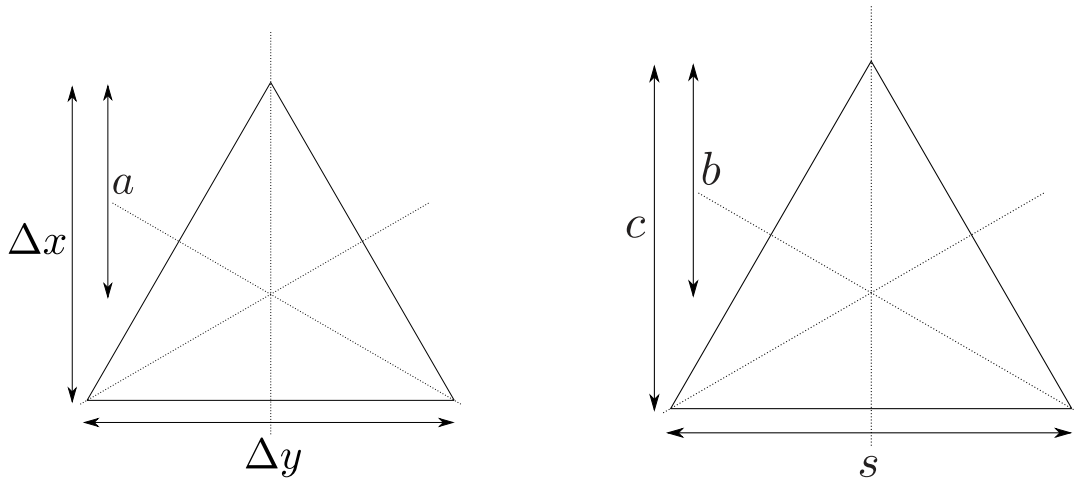


FIGURE 2.64 – Carré de la pulsation ω_χ en fonction de la valeur théorique $\frac{ab}{J_z L_0} M_K g$.



(a) Comparaisons des longueurs a , Δx et Δy sur un même triangle menant aux substitutions de l'équation 2.94. (b) Comparaisons des longueurs b , c et s sur un même triangle menant aux substitutions de l'équation 2.94.

FIGURE 2.65 – Schémas explicatifs des substitutions 2.94

devons donc l'adapter pour rendre compte du fait que Δx et Δy peuvent avoir un effet sur la fréquence d'oscillation en lacet. Nous faisons de même pour b qui joue à la fois le rôle de la corde c et de l'envergure s . Dans le problème simplifié, $a = \frac{2}{3}\Delta x = \frac{\sqrt{3}}{3}\Delta y$ et $b = \frac{2}{3}c = \frac{\sqrt{3}}{3}s$. Ces longueurs sont présentées sur la figure 2.65. Pour donner la même importance à Δx et Δy et à s et c , nous faisons les substitutions suivantes :

$$\begin{cases} a_{eq} \leftarrow \frac{1}{2} \left(\frac{2}{3}\Delta x + \frac{\sqrt{3}}{3}\Delta y \right) \\ b_{eq} \leftarrow \frac{1}{2} \left(\frac{2}{3}c + \frac{\sqrt{3}}{3}s \right) \end{cases} \quad (2.94)$$

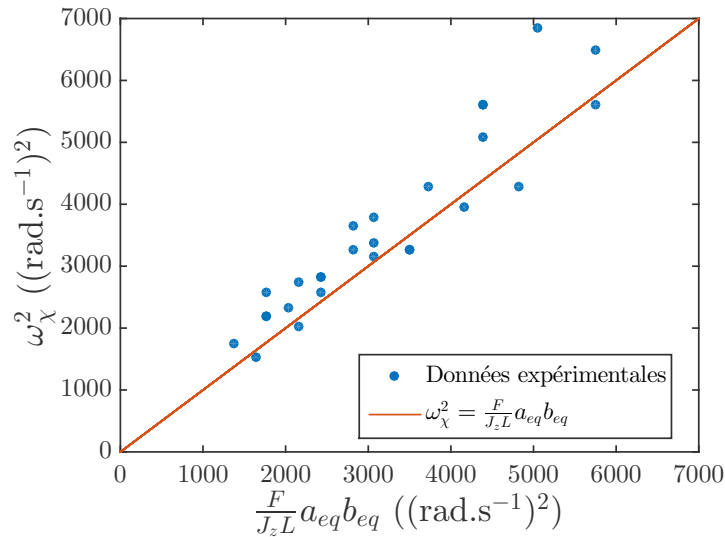


FIGURE 2.66 – Pulsation carrée de l'oscillation en lacet en fonction de la valeur théorique.

Nous testons la validité de ce modèle sur la figure 2.66 où nous reprenons les fréquences présentées sur la figure 2.62. Ce modèle semble bien correspondre à la réalité. L'observation en détail des oscillations en roulis et en lacet montre que ces deux mouvements semblent avoir un comportement similaires dans les cas où le cerf-volant est instable. Un couplage entre ces deux modes d'oscillation pourrait expliquer ces instabilités.

2.8.3.4 Conclusion

L'étude des oscillations en lacet montre que l'amplitude de ces oscillations semble très liée à celle des oscillations en grand roulis. Nous étudions maintenant le couplage qui peut exister entre ces deux oscillations.

2.9 Couplage et instabilité


Le couplage de mode présenté dans la partie 2.2.2.3 page 74 montre qu'un comportement instable peut apparaître dans une structure où deux degrés de liberté ont des fréquences propres proches.

2.9.1 Mise en évidence du couplage

Les expériences visant à mesurer les fréquences d'oscillation en grand roulis et en lacet montrent qu'il est difficile d'isoler ces deux directions d'oscillation. Cela peut s'expliquer par un couplage géométrique via les suspentes entre ces deux mouvements. Pour vérifier cela, nous mesurons simultanément l'évolution temporelle de l'angle de grand roulis ψ et de l'angle de lacet χ .

2.9.2 Dispositif expérimental

Pour mesurer simultanément les angles ϕ , ψ et χ , nous dessinons deux points noirs sur le cerf-volant blanc de type 3 (figure 2.67). Le cerf-volant est filmé par dessus. Par analyse d'image, nous mesurons la position de ces deux points noirs en fonction du temps. Cette mesure nous permet d'avoir accès à la position du cerf-volant qui nous donne les angles de grand roulis ϕ et de grand tangage ψ , et à l'angle de lacet χ .



(a) Condition -1 : $\psi < 0$ et $\chi > 0$ (b) Condition 0 : $\psi = 0$ et $\chi = 0$ (c) Condition 1 : $\psi > 0$ et $\chi > 0$

FIGURE 2.67 – Différentes conditions initiales pour l'excitation du cerf-volant.

L'expérience consiste à filmer les mouvements du cerf-volant avec trois conditions initiales différentes (figure 2.67) :

- Condition -1 : $\phi \approx \phi_{eq}$, $\psi < 0$ et $\chi > 0$ (figure 2.67a). Le cerf-volant est maintenu par un fil fin attaché à sa suspenste arrière gauche et coupée au départ de la mesure.
- Condition 0 : $\phi \approx \phi_{eq}$, $\psi = 0$ et $\chi = 0$ (figure 2.67b). Le cerf-volant est maintenu dans sa position d'équilibre puis lâché au début de l'expérience.

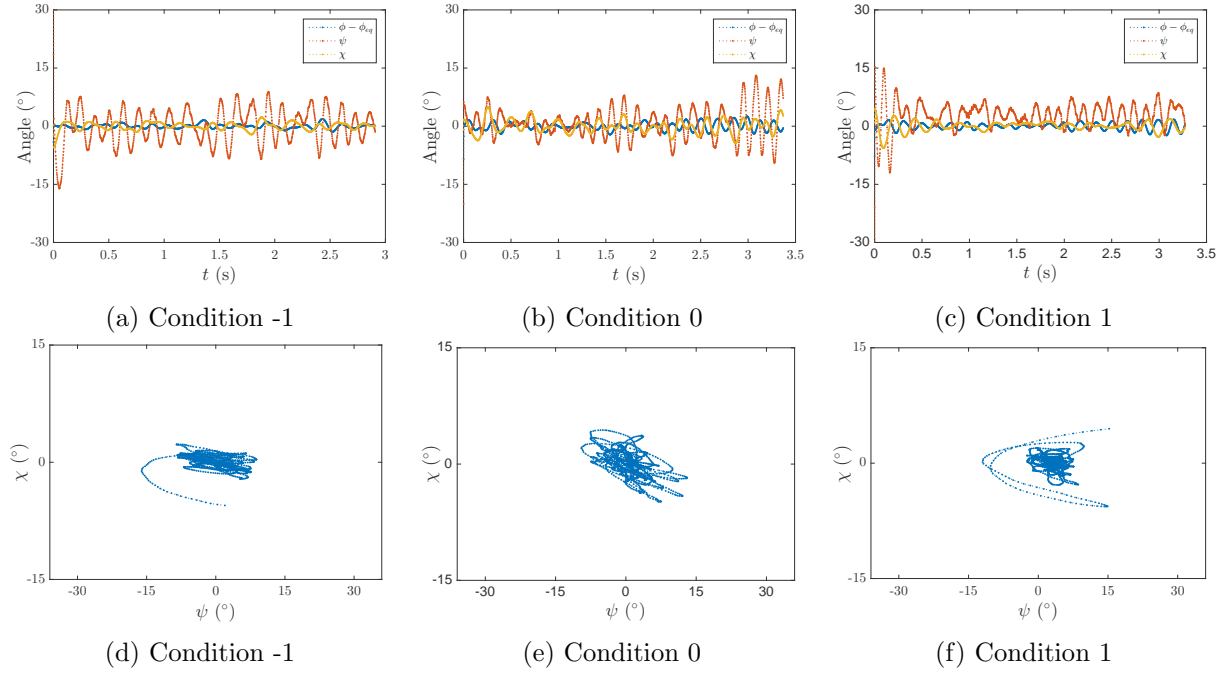


FIGURE 2.68 – Angle de grand tangage (bleu), grand roulis (rouge) et lacet (jaune) en fonction du temps pour le cerf-volant de type 3 et $L_a = 15$ cm, $U_0 = 8$ m.s⁻¹, $\Delta x = 3$ cm et $\Delta y = 2$ cm (a, b et c). L'angle de lacet en fonction de l'angle de grand roulis correspondant est donné sur les figures d, e et f.

- Condition 1 : $\phi \approx \phi_{eq}$, $\psi > 0$ et $\chi > 0$ (figure 2.67c). Le cerf-volant est maintenu par un fil fin attaché à sa suspente avant et coupée au départ de la mesure.

Remarque : nous nous placerons toujours dans le cas où $U_0 > U^*$ pour pouvoir observer des oscillations c'est à dire quand Δy est suffisamment grand.

2.9.2.1 Observations qualitatives

Comme nous l'avons déjà noté sur la figure 2.30 page 96, le comportement du cerf-volant dépend beaucoup des écarts entre les suspentes au sol Δx et Δy .

2.9.2.1.1 $\Delta y \ll \Delta x$ La figure 2.68 présente l'évolution temporelle des angles de grand tangage, grand roulis et lacet du cerf-volant dans une situation où il est stable. Nous pouvons remarquer que l'amplitude des oscillations est faible (environ 10° pour le grand roulis et moins de 5° pour le lacet et le grand tangage). La comparaison entre les différentes conditions initiales montre que celles-ci n'ont pas une grande importance. Le régime permanent est atteint après une ou deux oscillations. Il est à noter que les fréquences d'oscillation dans les trois directions sont différentes ($\omega_\phi = 39$ rad.s⁻¹, $\omega_\psi = 24$ rad.s⁻¹ et $\omega_\chi = 47$ rad.s⁻¹).

Les figures 2.68d, 2.68e et 2.68f montrent l'évolution de l'angle de lacet en fonction de l'angle de grand tangage. L'aspect chaotique de ces graphes permet de visualiser que les deux angles ont une fréquence d'oscillation différente et ne sont donc pas couplés.

2.9.2.1.2 $\Delta y \approx \Delta x$

La figure 2.69 présente l'évolution temporelle des angles de grand tangage, grand roulis et lacet du cerf-volant dans une situation limite entre la zone stable et la zone instable. Il apparaît ici que les conditions initiales sont importantes.

2.9.2.1.2.1 Condition initiale -1

La condition initiale -1 (figures 2.69a et 2.68d) mène à un comportement stable. L'oscillation en grand tangage garde une amplitude ($\approx 3^\circ$) et une pulsation ($\approx 45 \text{ rad.s}^{-1}$) constantes durant toute l'oscillation. Les comportements en grand roulis et en lacet suivent un schéma similaire : la perturbation initiale de grande amplitude est amortie après environ 0.5 s, les deux angles varient ensuite de manière erratique pendant 2 s. Un état d'oscillation stationnaire d'amplitude relativement constante ($\psi \approx 10^\circ$ et $\chi \approx 2^\circ$) est ensuite atteint. Les fréquences d'oscillation en grand roulis et en lacet semblent identiques. Cette observation est validée par la figure 2.69d.

2.9.2.1.2.2 Condition initiale 0

La condition initiale 0 (figures 2.69b et 2.68e) mène à un comportement stable. L'oscillation en grand tangage garde une amplitude ($\approx 3^\circ$) et une pulsation ($\approx 45 \text{ rad.s}^{-1}$) constantes durant toute l'oscillation. Le cerf-volant oscille en grand roulis et en lacet régulièrement avec une amplitude variant entre 10° et 20° pour le grand roulis et entre 3° et 5° pour le lacet. Le rapport d'aspect de l'ellipse formée par la figure 2.69e semble constant. Cela signifie que les fréquences d'oscillation en grand roulis et en lacet sont égales ($\approx 9 \text{ Hz}$) et que le déphasage est constant ($\approx \pi/3 \text{ rad}$).

2.9.2.1.2.3 Condition initiale 1

La condition initiale 1 (figures 2.69c et 2.68f) mène à un comportement instable. L'oscillation en grand tangage est erratique et de faible amplitude ($\approx 3^\circ$). Les oscillations en grand roulis et en lacet sont régulières avec un déphasage constant ($\approx \pi/2 \text{ rad}$). L'amplitude croît régulièrement et le cerf-volant tombe après environs 8 oscillations.

2.9.2.1.3 $\Delta y \gg \Delta x$

La figure 2.70b présente l'évolution temporelle des angles de grand tangage, grand roulis et lacet du cerf-volant dans une situation où il est instable. Le comportement est très similaire à celui observé pour les figures 2.69c et 2.69f. Le taux de croissance de l'amplitude des oscillations

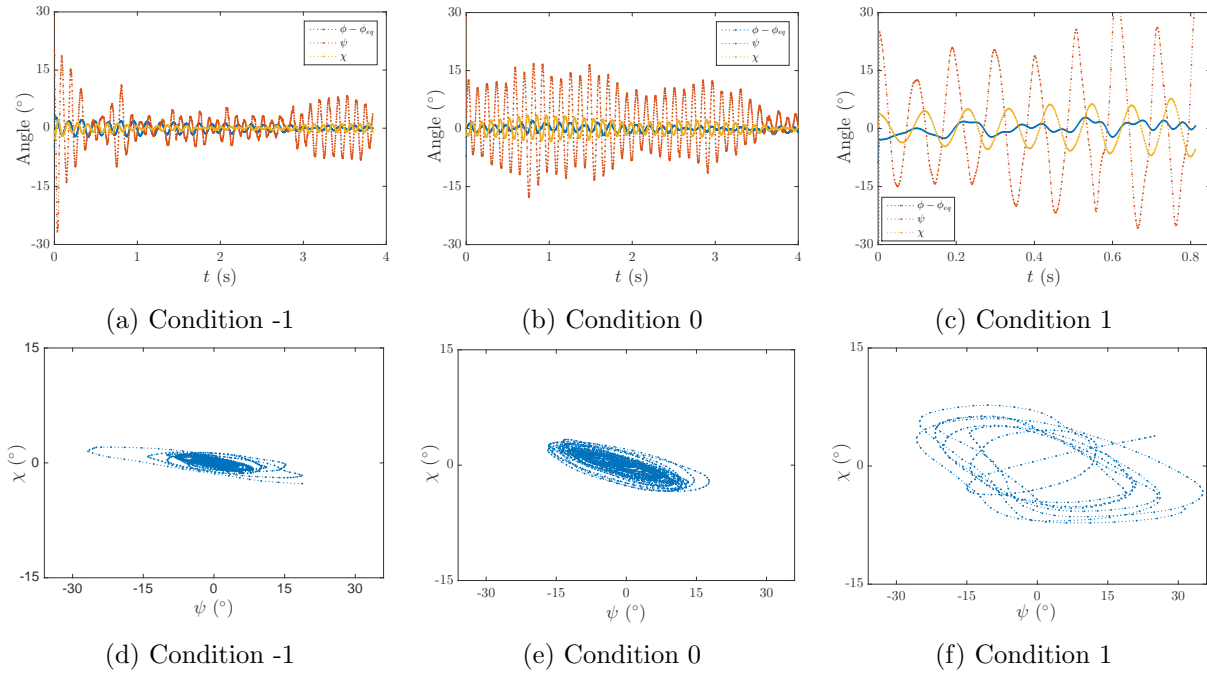



FIGURE 2.69 – Angle de grand tangage (bleu), grand roulis (rouge) et lacet (jaune) en fonction du temps pour $L_a = 15$ cm, $U_0 = 8 \text{ m.s}^{-1}$, $\Delta x = 3$ cm et $\Delta y = 6$ cm (a, b et c). L'angle de lacet en fonction de l'angle de grand roulis correspondant est donné sur les figures d, e et f.

en grand roulis et en lacet apparaît plus élevé : le cerf-volant tombe après 7 oscillations sans excitation initiale.

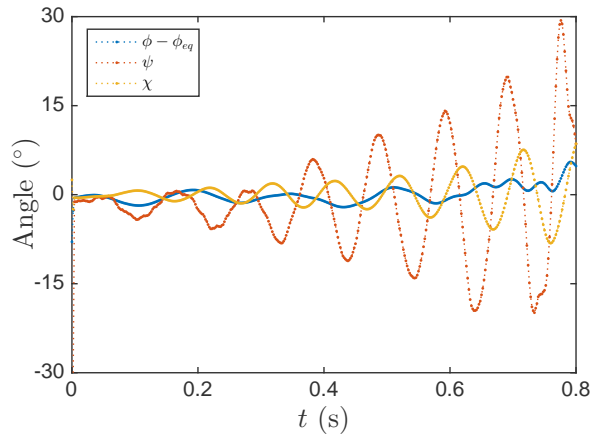
La figure 2.70a permet de visualiser l'oscillation du cerf-volant pour une configuration instable. Nous pouvons voir que le lacet est en avance d'environ $\pi/2$. Cette instabilité ressemble à une instabilité de flottement présentée dans la section 2.2.2.3. En effet, si le lacet a un effet sur la force de rappel en grand roulis, le cerf-volant peut prendre où donner de l'énergie à l'écoulement. Sur la figure 2.70a est représenté l'exemple où un lacet positif $\chi > 0$ a un effet positif $\mathbf{F}\chi$ sur le grand roulis. Dans ce cas, le cerf-volant prend de l'énergie à l'écoulement et doit être instable.

Ces observations laissent à penser que lorsque l'écart entre les suspentes arrières Δy est important, les fréquences d'oscillation du grand roulis et du lacet deviennent égales et un déphasage constant entre ces deux signaux se met en place. Dans cette situation, les oscillations sont régulières et de grande amplitude. Ce comportement est similaire au flottement des ailes d'avions : un système à deux degrés de liberté dont les fréquences propres sont proches voit apparaître un accrochage de fréquences entre ces deux degrés de liberté et des oscillations fortement amplifiées.

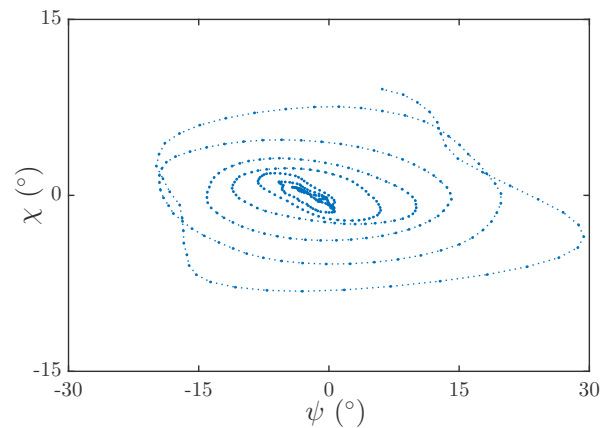
Remarque : dans cette configuration, le cerf-volant est trop instable pour avoir accès aux conditions initiales -1 et 1 . En effet, le cerf-volant tombe soit avant qu'on ait pu le lâcher, soit sans avoir oscillé.



(a) Chronophotographie d'une période d'oscillation et visualisation d'un effet déstabilisant de l'angle de lacet.



(b) Angles en fonction du temps



(c) Angle de lacet en fonction de l'angle de grand roulis

FIGURE 2.70 – Visualisation de l'instabilité du cerf-volant pour $L_a = 15$ cm, $U_0 = 8$ m.s $^{-1}$, $\Delta x = 3$ cm et $\Delta y = 8$ cm

2.9.2.2 Accrochage de fréquence

Nous traçons sur la figure 2.71 l'évolution des pulsations de lacet ω_χ et de grand roulis ω_ψ en fonction de Δy qui apparaît être le paramètre de contrôle le plus pertinent pour cette étude. Pour les faibles valeurs de ce paramètre ($\Delta y < 0.06$ m), les mouvements de grand roulis et de lacet ont des fréquences différentes et le cerf-volant est stable. Pour $\Delta y = 0.06$ m, les fréquences du grand roulis et du lacet sont très proches; les conditions initiales de type -1 et 0 mènent à un comportement stable et la condition initiale de type 1 mène à un comportement instable. Pour des suspentes plus écartées ($\Delta y > 0.06$ m), les fréquences du grand roulis et du lacet sont identiques et le mouvement est instable. Ce comportement ressemble donc à un accrochage de fréquence où la variation du paramètre Δy fait se rapprocher deux fréquences propres du système. Quand les fréquences deviennent trop proches, les deux modes adoptent une fréquence commune et l'amplitude des oscillations devient très importante.

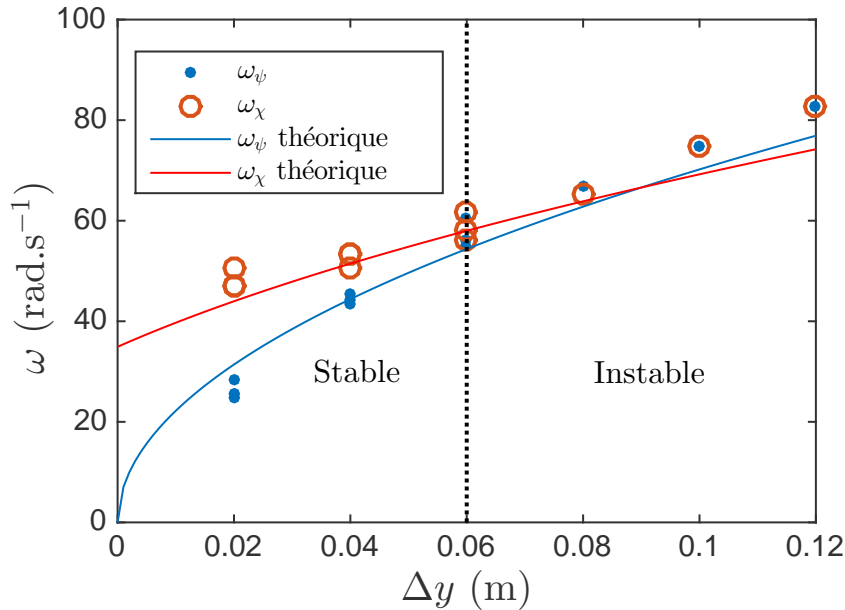


FIGURE 2.71 – Pulsation en grand roulis et en lacet en fonction de Δy pour $L_a = 0.15$ m, $U_0 = 8$ m.s⁻¹, $\Delta x = 3$ cm et $\alpha_{eq} \approx 20^\circ$. Les courbes pleines présentent les modèles théoriques calculés dans les parties 2.8.2 et 2.8.3. La ligne pointillée verticale sépare la zone d'oscillation stable de la zone d'oscillation instable.

2.9.3 Explication physique du couplage

Quand les fréquences propres du grand roulis et du lacet sont proches, un couplage apparaît entre ces deux directions. Nous tentons ici de donner une explication physique à ces couplages.

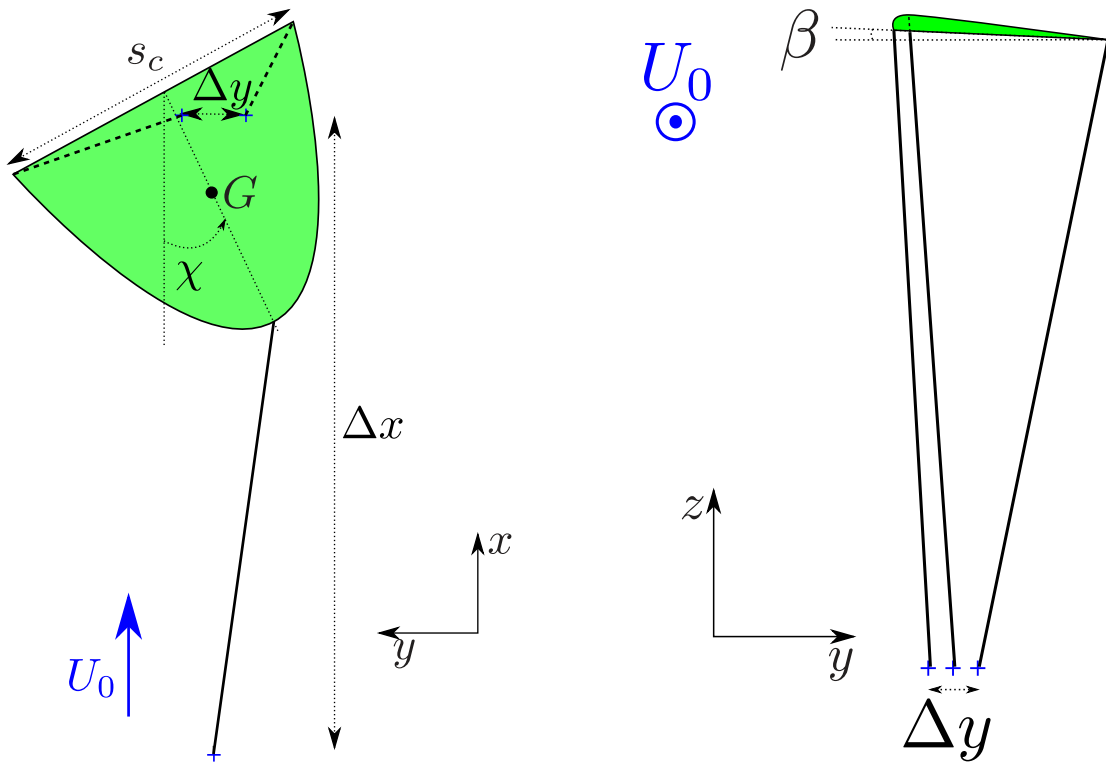
2.9.3.1 Effet du lacet sur le grand roulis

Si l'on considère que le point G d'application des forces aérodynamiques est fixe, une rotation du cerf-volant en lacet ($\chi \neq 0$) modifie les angles de tangage α et roulis β du cerf-volant. En effet, pour un angle χ positif, les extrémités arrières (K_g et K_d) se déplacent. Ce déplacement a un effet sur l'angle de roulis du cerf-volant β . Les schémas de la figure 2.72 montrent le cerf-volant dans le plan xOy (figures 2.72a et 2.72c) et yOz (figures 2.72b et 2.72d) pour un angle $\chi = 30^\circ$ et l'angle $\psi = 0$.

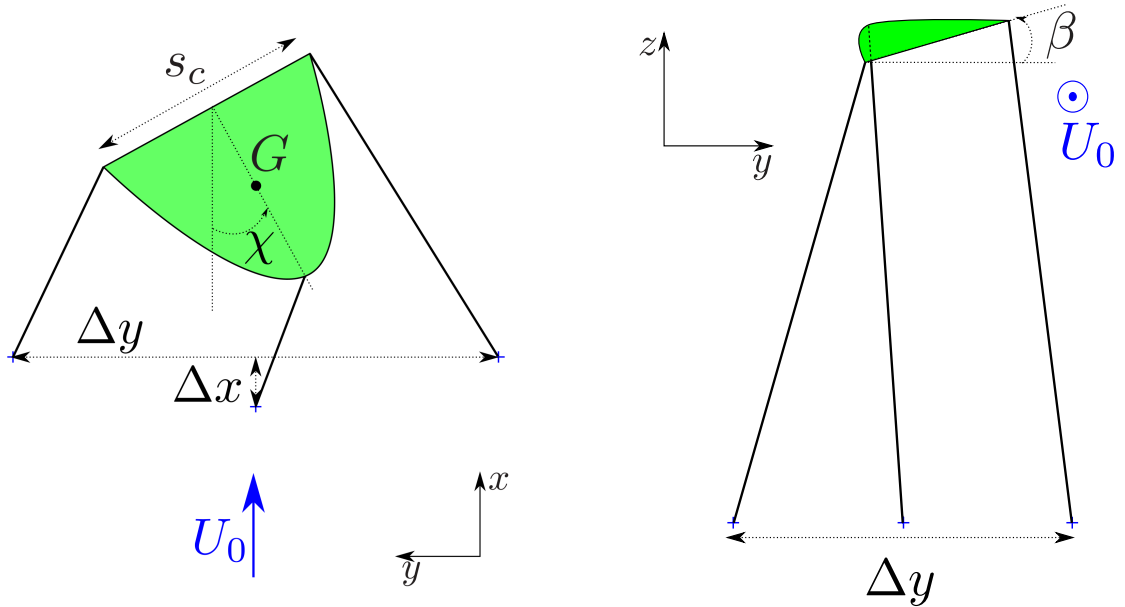
Les figures 2.72a et 2.72b montrent le cas où $\Delta x \gg \Delta y$. Dans ce cas, l'angle de roulis β est négatif quand le lacet χ est positif.

Les figures 2.72c et 2.72d montrent le cas où $\Delta x \ll \Delta y$. Dans ce cas, l'angle de roulis β est positif quand le lacet χ est positif.

Le cerf-volant est soumis à un couple de grand roulis dépendant de β selon la relation (voir section 2.8.2.3) :

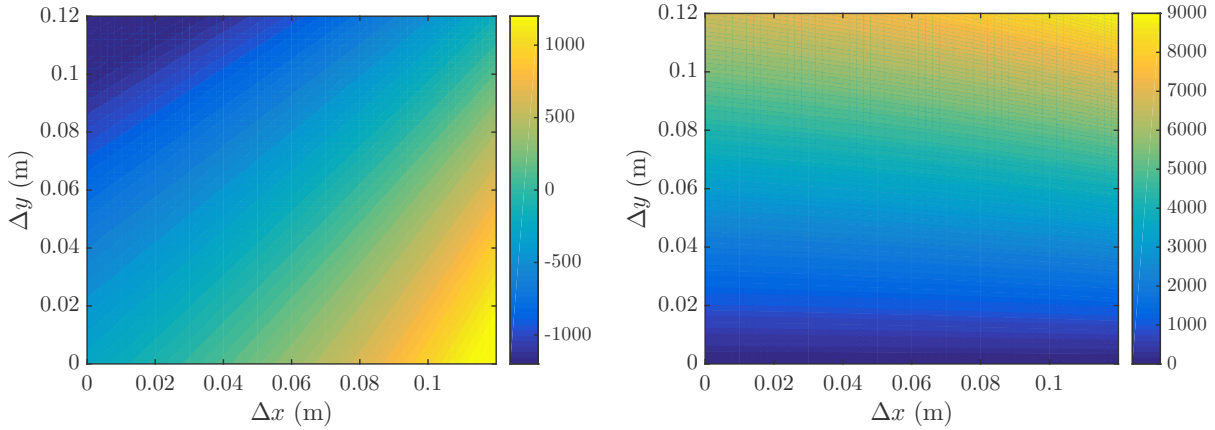


(a) Projection dans le plan xOy pour $\Delta x = 10$ cm et $\Delta y = 1$ cm. (b) Projection dans le plan yOz pour $\Delta x = 10$ cm et $\Delta y = 1$ cm.



(c) Projection dans le plan xOy pour $\Delta x = 1$ cm et $\Delta y = 10$ cm. (d) Projection dans le plan yOz pour $\Delta x = 1$ cm et $\Delta y = 10$ cm.

FIGURE 2.72 – Projection d'un cerf-volant dans les plans xOy et yOz du cerf-volant pour $L_a = 15$ cm, $s_c = 5$ cm, $c = 4$ cm, $\phi_{eq} = 15^\circ$, $\chi = 30^\circ$ et $\psi = 0$.



(a) Terme de couplage γ du lacet sur le grand roulis en $(\text{rad.s}^{-1})^2$. (b) Pulsation propre de l'oscillation en grand roulis au carré ω_ψ^2 en $(\text{rad.s}^{-1})^2$

FIGURE 2.73 – Terme de couplage γ et pulsation propre au carré ω_ψ^2 en fonction de Δx et Δy pour $L_a = 15 \text{ cm}$, $U_0 = 8 \text{ m.s}^{-1}$ et $\phi_{eq} = 30^\circ$.

$$\Gamma_\psi = \frac{1}{2} \rho c_L A U_0^2 l \beta \quad (2.95)$$

L'équation du mouvement en grand roulis peut donc s'écrire :

$$\ddot{\psi} + \omega_\psi^2 \psi + \gamma \chi = 0 \quad (2.96)$$

avec

$$\gamma = -\frac{1}{2} \frac{\rho c_L A U_0^2}{M_K l} \left. \frac{\partial \beta}{\partial \chi} \right|_{\chi=0} \quad (2.97)$$

Nous déterminons ce coefficient γ numériquement (voir annexe G). Sa valeur est présentée sur la figure 2.73a. Cette valeur est faible comparée à celle de ω_ψ^2 (figure 2.73b), ce qui confirme qu'il s'agit d'un terme correctif. γ augmente avec Δx et diminue avec Δy .

2.9.3.2 Effet du grand roulis sur le lacet

Les suspentes exercent chacune un moment sur le cerf-volant. Il n'y a pas de condition de symétrie qui justifierait que les moments exercés par les suspentes se compensent. Nous pouvons donc supposer qu'il existe un coefficient de couplage du grand roulis sur le lacet en général non nul. Les schéma de la figure 2.74 montre le cerf-volant dans le plan yOz (figures 2.72b et 2.74c) et xOy (figures 2.74b et 2.74d) pour un angle $\psi = 15^\circ$ et l'angle $\chi = 0$.

Les figures (2.72a et 2.72b) montrent le cas où $\Delta x \gg \Delta y$. Les tensions dans les suspentes sont responsables du couple en lacet. Dans ce cas, le couple est légèrement dans le sens du lacet négatif.

Les figures (2.72c et 2.72d) montrent le cas où $\Delta x \ll \Delta y$. Dans ce cas, le couple est dans le sens du lacet positif.

Nous pouvons alors corriger l'équation du mouvement en lacet :

$$\ddot{\chi} + \omega_{\chi}^2 \chi + \delta \psi = 0 \quad (2.98)$$

Nous déterminons ce coefficient δ numériquement (voir annexe G). Sa valeur est présentée sur la figure 2.75a. Cette valeur est faible comparée à celle de ω_{χ}^2 (figure 2.75b), ce qui confirme qu'il s'agit d'un terme correctif. δ est quasiment constant en Δx et parabolique en Δy avec un maximum pour $\Delta y \approx 3$ cm.

2.9.4 Étude du système d'équations

La dynamique de vol du cerf-volant en roulis et lacet se ramène donc à deux oscillateurs couplés :

$$\begin{cases} \ddot{\psi} + \omega_{\psi}^2 \psi + \gamma \chi = 0 \\ \ddot{\chi} + \omega_{\chi}^2 \chi + \delta \psi = 0 \end{cases} \quad (2.99)$$

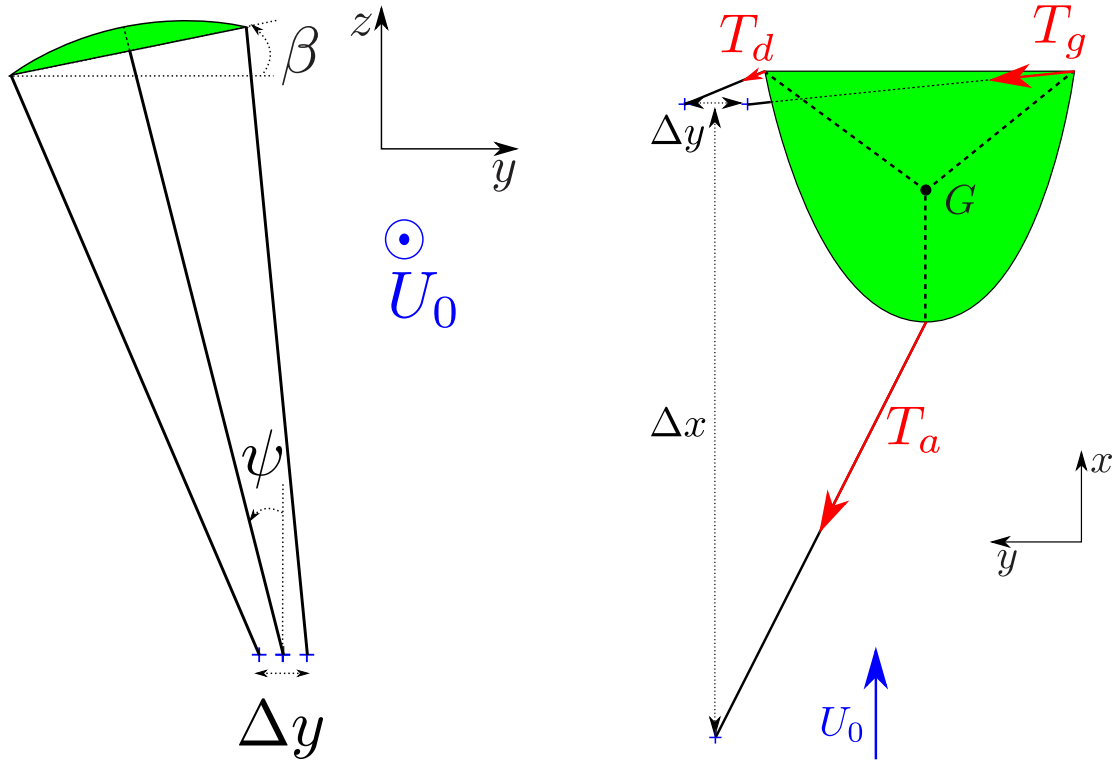
On peut réécrire ce système de la manière suivante :

$$\frac{d}{dt} \begin{pmatrix} \psi \\ \chi \\ \dot{\psi} \\ \dot{\chi} \end{pmatrix} + \begin{pmatrix} 0 & 0 & -1 & 0 \\ 0 & 0 & 0 & -1 \\ \omega_{\psi}^2 & \gamma & 0 & 0 \\ \delta & \omega_{\chi}^2 & 0 & 0 \end{pmatrix} \begin{pmatrix} \psi \\ \chi \\ \dot{\psi} \\ \dot{\chi} \end{pmatrix} = 0 \quad (2.100)$$

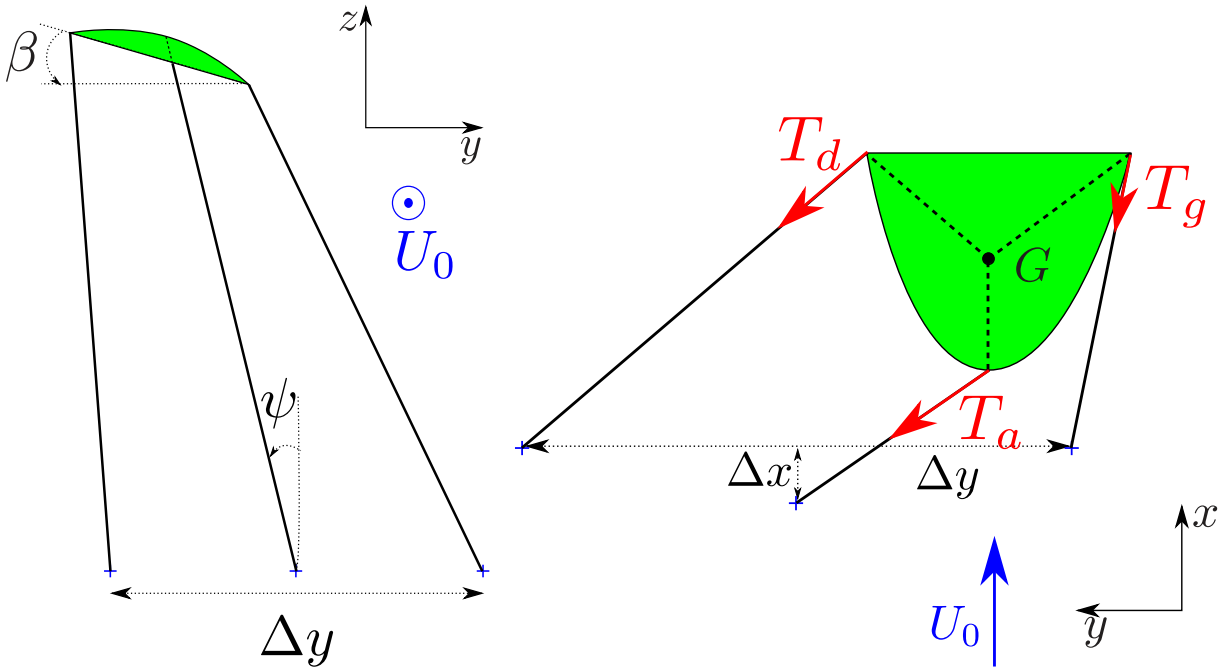
Les valeurs propres de ce système sont :

$$\lambda = \pm \sqrt{\frac{\pm \sqrt{(\omega_{\psi}^2 - \omega_{\chi}^2)^2 + 4\gamma\delta} - \omega_{\psi}^2 - \omega_{\chi}^2}{2}} \quad (2.101)$$

Le système n'est stable que si les valeurs propres ont toutes une partie réelle négative [79]. Si λ est une valeur propre, alors $-\lambda$ aussi. Donc la partie réelle de ces valeurs propres doit être nulle. Soit :

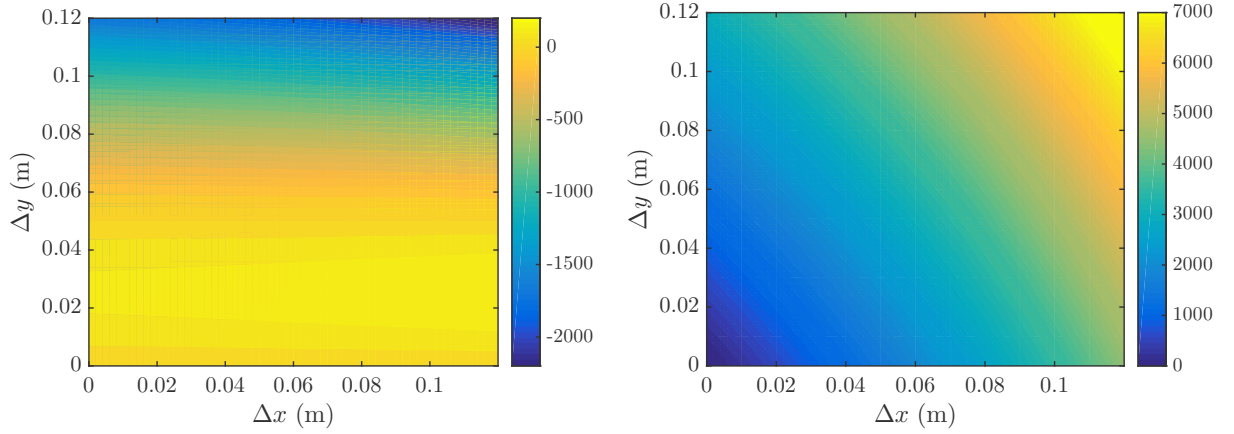


(a) Projection dans le plan yOz pour $\Delta x = 10$ cm et $\Delta y = 1$ cm. (b) Projection dans le plan xOy pour $\Delta x = 10$ cm et $\Delta y = 1$ cm.



(c) Projection dans le plan yOz pour $\Delta x = 1$ cm et $\Delta y = 10$ cm. (d) Projection dans le plan xOy pour $\Delta x = 1$ cm et $\Delta y = 10$ cm.

FIGURE 2.74 – Projection d'un cerf-volant dans les plans xOy et yOz du cerf-volant pour $L_a = 15$ cm, $s_c = 5$ cm, $c = 4$ cm, $\phi_{eq} = 15^\circ$, $\psi = 15^\circ$ et $\chi = 0$.



(a) Terme de couplage δ du grand roulis sur le lacet en $(\text{rad.s}^{-1})^2$. (b) Pulsation propre de l'oscillation en lacet au carré ω_χ^2 en $(\text{rad.s}^{-1})^2$

FIGURE 2.75 – Terme de couplage δ et pulsation propre au carré ω_χ^2 en fonction de Δx et Δy pour $L_a = 15 \text{ cm}$, $U_0 = 8 \text{ m.s}^{-1}$ et $\phi_{eq} = 30^\circ$.

$$\pm \sqrt{(\omega_\psi^2 - \omega_\chi^2)^2 + 4\gamma\delta} - \omega_\psi^2 - \omega_\chi^2 \in \mathbb{R}^- \quad (2.102)$$

La première condition est :

$$(\omega_\psi^2 - \omega_\chi^2)^2 + 4\gamma\delta > 0 \quad (2.103)$$

Cette condition est toujours satisfaite si γ et δ sont de même signe. Si γ et δ ne sont pas de même signe, cette condition est d'autant plus difficile à satisfaire que ω_ψ et ω_χ sont proches.

Une fois cette condition satisfaite il faut :

$$\sqrt{(\omega_\psi^2 - \omega_\chi^2)^2 + 4\gamma\delta} < \omega_\psi^2 + \omega_\chi^2 \quad (2.104)$$

En passant cette inégalité au carré et en simplifiant, on obtient :

$$\gamma\delta < \omega_\psi^2 \omega_\chi^2 \quad (2.105)$$

Les deux conditions pour que le cerf-volant reste stable sont donc :

$$\begin{cases} \gamma\delta - \omega_\psi^2 \omega_\chi^2 < 0 & (1) \\ (\omega_\psi^2 - \omega_\chi^2)^2 + 4\gamma\delta > 0 & (2) \end{cases} \quad (2.106)$$

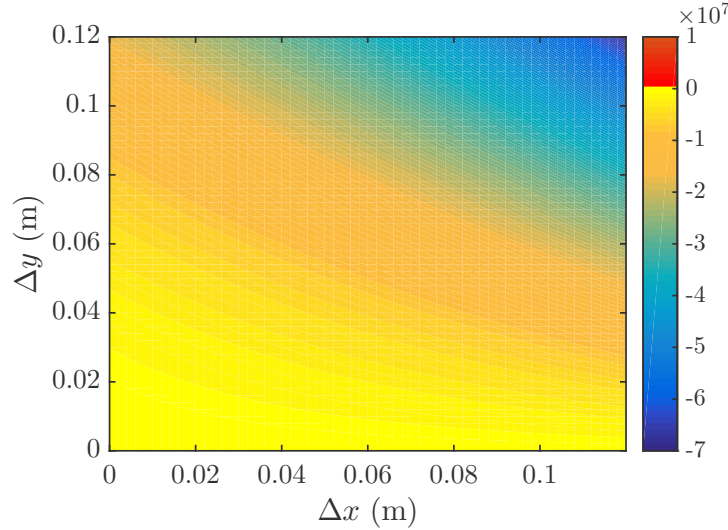


FIGURE 2.76 – Condition (1) de stabilité en fonction des paramètres Δx et Δy pour $L_a = 15$ cm, $s_c = 6$ cm, $c = 4$ cm et $\phi_{eq} = 30^\circ$. Pour toutes les valeurs de Δx et Δy , $\gamma\delta - \omega_\psi^2\omega_\chi^2 < 0$. La condition de stabilité est donc toujours satisfaite.

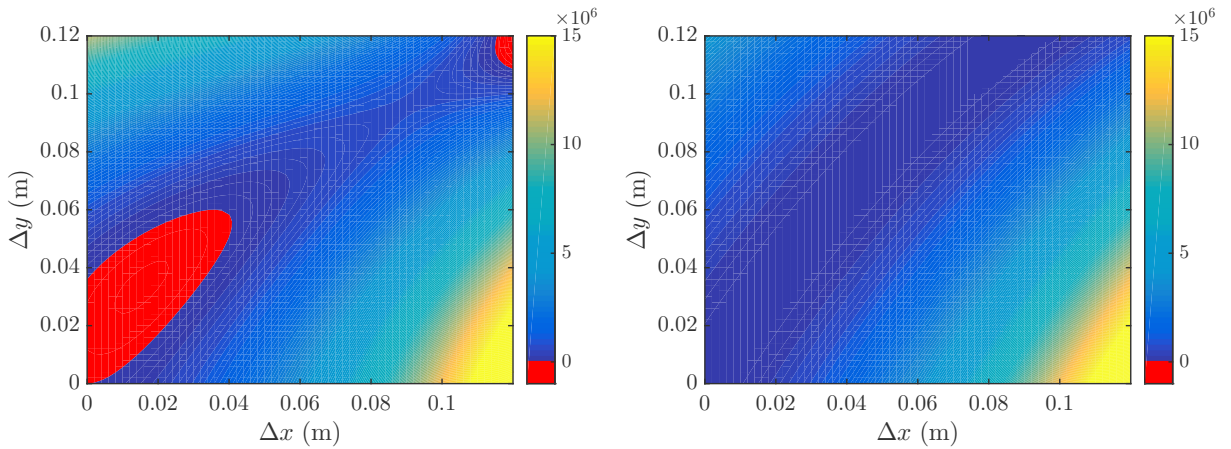
2.9.4.1 Condition de stabilité (1)

La valeur de $\gamma\delta - \omega_\psi^2\omega_\chi^2$ pour un set de paramètres ($L_a = 15$ cm, $s_c = 6$ cm, $c = 4$ cm et $\phi_{eq} = 30^\circ$) en fonction de Δx et Δy est tracée sur la figure 2.77a. Ce terme est toujours négatif, la condition de stabilité (1) est donc toujours satisfaite. Le fait que cette condition soit toujours satisfaite n'est pas surprenant car elle compare la valeur des termes perturbatifs γ et δ aux pulsations du système au carré.

2.9.4.2 Condition de stabilité (2)

La valeur de $(\omega_\psi^2 - \omega_\chi^2)^2 + 4\gamma\delta$ pour un set de paramètres ($L_a = 15$ cm, $s_c = 6$ cm, $c = 4$ cm et $\phi_{eq} = 30^\circ$) en fonction de Δx et Δy est tracée sur la figure 2.77a. Ce terme est négatif pour la plupart des couples $(\Delta x, \Delta y)$. Pour des valeurs de Δy proches de Δx deux zones d'instabilités apparaissent. Ces deux zones sont pour des valeurs où ω_ψ et ω_χ sont proches (figure 2.77b). Entre ces deux zones instables, la condition de stabilité est satisfaite mais reste faible.

Pour tester la validité de notre prédiction, nous plaçons les points stables et instables de la figure 2.30 sur la condition de stabilité (2) sur la figure 2.78. La simulation prédit qualitativement une partie de l'instabilité, mais la valeur de Δy de l'instabilité est sous estimée. Le modèle ne semble pas adapté pour les valeurs faibles de Δx et élevées de Δy . En effet, pour cette zone, la condition (2) de stabilité est satisfaite alors qu'elle est instable expérimentalement. On peut tout de fois remarquer que les valeurs de la condition (2) dans cette zone sont moins élevées que pour la zone $\Delta x \gg \Delta y$.



(a) Condition de stabilité (2). La zone rouge représente $(\omega_\psi^2 - \omega_\chi^2)^2 + 4\gamma\delta < 0$, soit la zone instable pour la condition (2).
 (b) Écart entre les pulsations au carré du grand roulis et du lacet : $(\omega_\psi^2 - \omega_\chi^2)^2$.

FIGURE 2.77 – Condition de stabilité (2) et visualisation de la proximité des pulsations propres en grand roulis et en lacet en fonction des paramètres Δx et Δy pour $L_a = 15$ cm, $s_c = 6$ cm, $c = 4$ cm et $\phi_{eq} = 30^\circ$.

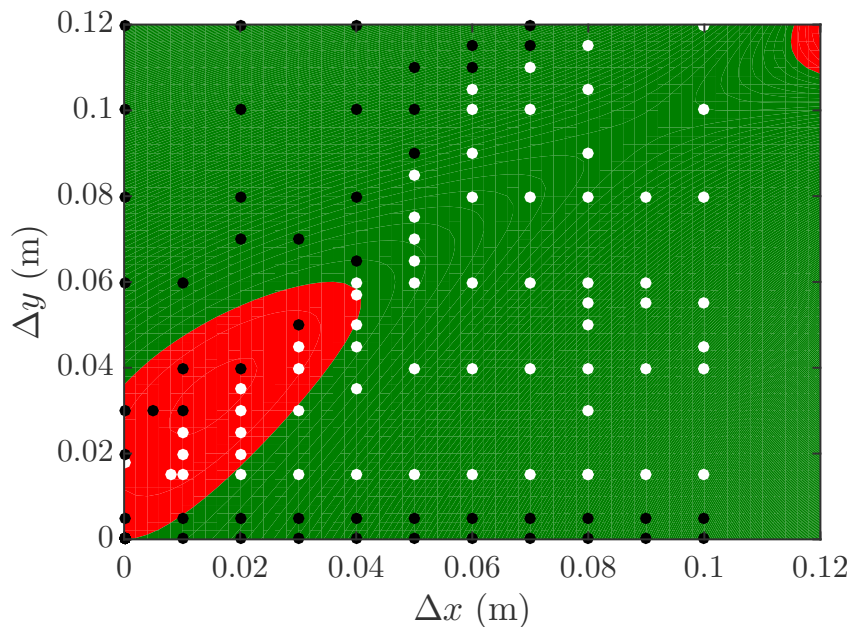


FIGURE 2.78 – Zones stables (en vert) et instables (en rouge) en fonction de Δx et Δy pour $L_a = 15$ cm, $s_c = 6$ cm, $c = 4$ cm et $\phi_{eq} = 30^\circ$. Les points blancs représentent les positions stables expérimentales et les points noirs les positions instables.

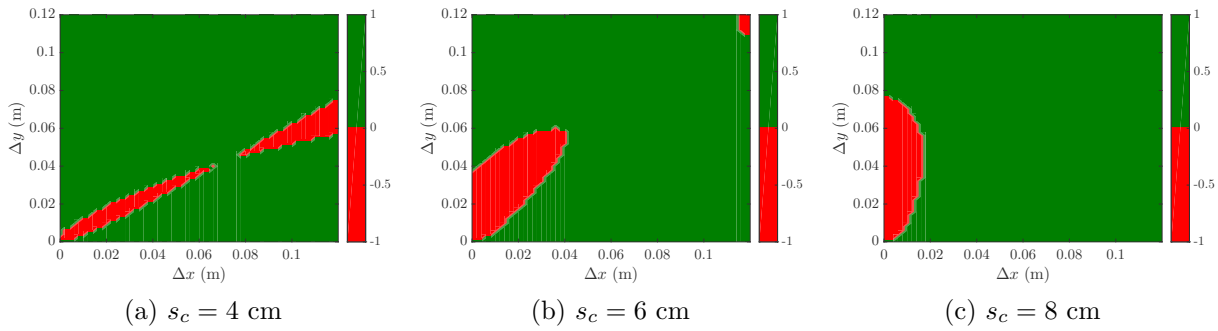


FIGURE 2.79 – Condition de stabilité (2) pour Δy pour $L_a = 15$ cm, $c = 4$ cm, $\phi_{eq} = 30^\circ$ et différentes valeurs de s_c .

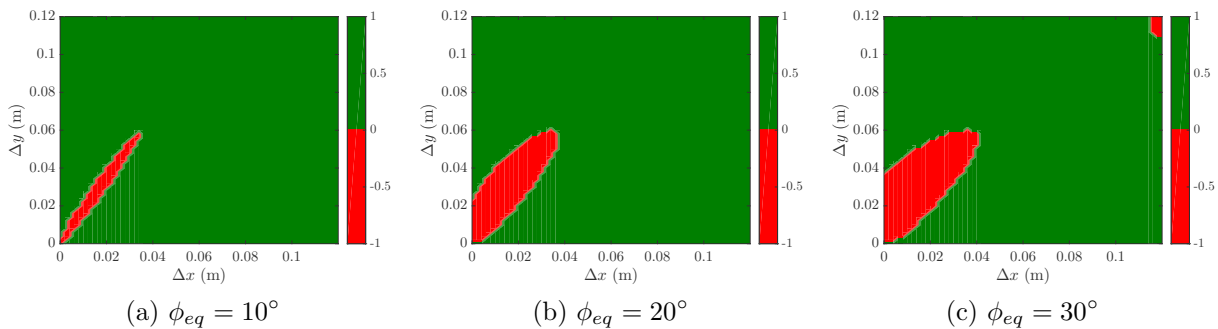


FIGURE 2.80 – Condition de stabilité (2) pour Δy pour $L_a = 15$ cm, $c = 4$ cm, $s_c = 6$ cm et différentes valeurs de ϕ_{eq} .

La zone d'instabilité est très sensible à la valeur de s_c comme on peut le voir sur la figure 2.79. Plus s_c est grand, plus l'instabilité est prévue pour une valeur élevée de Δy . Une augmentation de la vitesse courbe d'avantage le cerf-volant et mène donc à un comportement instable pour des plus petites valeurs de Δy .

Sur la figure 2.80, on montre l'effet de l'angle de grand tangage d'équilibre sur la stabilité. Il semble la zone d'instabilité s'élargisse quand on augmente l'angle de grand tangage et donc l'angle d'incidence.

2.9.5 Conclusion sur le couplage

Le couplage de modes nous a permis d'expliquer une partie du comportement instable du cerf-volant. Quand les fréquences propres du mouvement de grand roulis et de lacet sont proches, un comportement semblable au flottement des ailes d'avion apparaît et entraîne une croissance de l'amplitude des oscillations jusqu'à la chute au sol du cerf-volant. Nos simulations prédisent que cela a lieu pour $\Delta y \approx \Delta x$ ce qui est en accord correct avec nos mesures expérimentales. Les simulations ne rendent pas compte du comportement instable pour les grandes valeurs de Δy .

2.10 Conclusion

Dans ce chapitre, nous avons étudié le vol d'un cerf-volant fixé au sol par trois suspentes. Nous avons pu montrer que plusieurs conditions ne sont pas favorables au vol. Ainsi, le vol n'est pas possible lorsque la suspente avant est fixée en aval des suspentes arrières. Dans ce cas, le cerf-volant n'a pas de position d'équilibre en grand tangage et ne peut pas rester en l'air. Si les suspentes arrières sont trop proches l'une de l'autre, le cerf-volant ne peut pas voler car le couple de la force aérodynamique ne compense pas le couple du poids. Enfin, dans le cas où la fréquence propre de l'oscillation en grand roulis est proche de celle de l'oscillation en lacet, le cerf-volant peut être victime d'une instabilité de flottement par confusion de fréquences. Cette instabilité de flottement semble s'étendre au delà des cas prévus par les simulations et demanderait à être étudiée plus finement. Dans tous les autres cas, en particulier quand $\Delta x \gg \Delta y$, le cerf-volant vole de manière stable. Ces différents comportements sont résumés sur la figure 2.81.

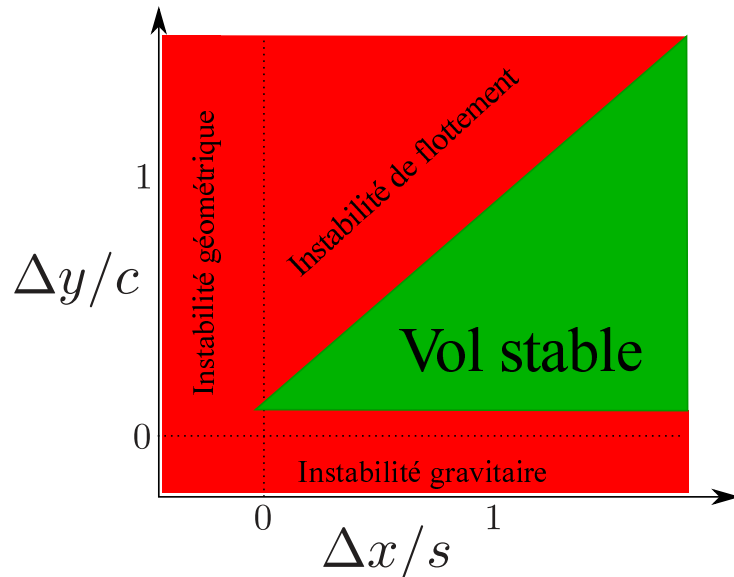


FIGURE 2.81 – Comportement du cerf-volant en fonction des paramètres de fixation au sol.

Pour comparer notre étude aux cerf-volants réels, nous devons comparer l'effet du fluide extérieur sur notre cerf-volant par rapport à des cerf-volants de grande taille. Comme dans l'étude de l'ouverture du cerf-volant, les deux nombres adimensionnés à considérer sont le nombre de masse M_{FK} et le nombre de Cauchy $C_y = \frac{\rho AU_0^2}{Ee^3 c/s^2}$. Notre étude s'est placée dans une gamme de nombre de masse entre 0.1 et 0.4 et une gamme de nombre de Cauchy variant entre 0 et 10^3 . Pour des cerf-volants de grande taille, le nombre de masse augmente. Il vaut environ 10 pour un cerf volant de 1000 m^2 pesant une tonne. Dans ce cas, contrairement à notre étude, l'inertie du fluide entourant le cerf-volant est prédominante devant l'inertie de la structure. L'effet sur la dynamique du vol est potentiellement important et mériterait d'être étudié. Pour les cerf-volants réels, la gamme de nombre de Cauchy peut être très large. En effet, les cerf-volants rigides ont un nombre de Cauchy proche de 0 alors que les cerf-volants souples avec peu de suspentes peuvent

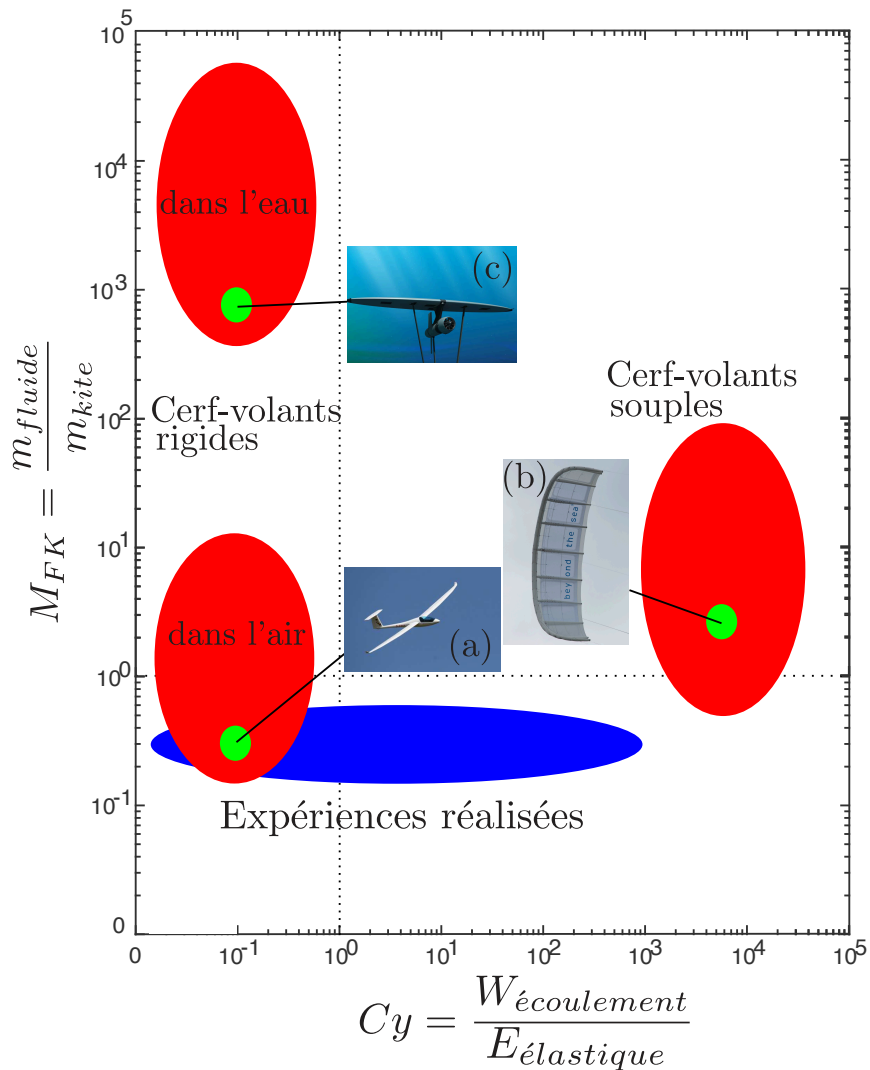


FIGURE 2.82 – Gamme de nombre de masse et de Cauchy étudiée (en bleu) et à étudier par la suite (en rouge). Les exemples présentés sont (a) un planeur, (b) un cerf-volant de 50 m^2 développé par Beyond the Sea et (c) un cerf-volant sous-marin développé par Deep Green.

avoir un nombre de Cauchy très élevé. Notre étude a montré que l'effet de l'écoulement sur l'envergure du cerf-volant avait un effet direct sur sa stabilité. Il sera donc intéressant d'étudier les limites des cerf-volants très souples et très rigides pour avoir une meilleure compréhension de la stabilité. La figure 2.82 résume les zones de nombre de masse et de Cauchy explorées et les zones qu'il sera intéressant d'explorer par la suite.

Conclusion

3.1 Contributions

Dans cette étude, nous avons abordé deux problèmes importants dans le développement à grande échelle de l'utilisation de cerf-volants pour exploiter l'énergie éolienne : leur déploiement et leur stabilité de vol.

Notre étude sur les structures gonflables visait à dimensionner les cerf-volants de grande taille en vue de leur ouverture. Pour cela, nous avons établi un diagramme des phases de la dynamique du déploiement des structures gonflables. Nous avons d'abord caractérisé l'élasticité des boudins sous pression : ceux-ci ont un comportement de poutre élastique indépendant de la pression pour de faibles chargements et un comportement plastique réversible pour des chargements plus importants. La limite entre les deux régimes dépend de la pression. Cette étude nous a permis de donner un critère pour que le cerf-volant puisse supporter son propre poids et donc puisse se déployer par vent faible.

Nous avons ensuite étudié la dynamique d'ouverture de structures gonflables pliées. Cette étude a permis de quantifier l'effet du fluide extérieur et d'avoir une idée du temps nécessaire au déploiement d'une structure sous pression. Nous avons placé ces structures gonflables dans un écoulement pour comparer l'apport respectif de l'inertie et de la masse ajoutée à la vitesse de déploiement. Il apparaît que pour l'utilisation dans des cerf-volants de grande taille, la rigidité de la structure est en général négligeable en comparaison des efforts du fluide environnant. Le critère le plus important pour dimensionner la structure gonflable des cerf-volants est alors leur capacité à soutenir leur propre poids.

Une fois le problème du déploiement résolu, nous nous sommes intéressés au vol d'un cerf-volant et à sa stabilité. Nous avons construit une soufflerie et étudié le vol de modèles réduits fixés en trois points au sol. Cela nous a permis d'établir un diagramme des phases qui montre que le vol stable n'est possible que pour certaines combinaisons spécifiques de l'écartement des lignes et de leur longueur.

Après une étude des caractéristiques aérodynamiques du cerf-volant, nous avons caractérisé son équilibre et les oscillations qu'il effectue autour de cette position. Cet équilibre peut être instable dans trois situations : la première a lieu quand la suspenste avant est fixée trop proche des suspentes arrières ; dans ce cas, le cerf-volant est géométriquement instable et tombe au sol sans osciller. Le deuxième cas d'instabilité apparait quand les suspentes arrières sont fixées trop proches l'une de l'autre. Dans ce cas, le moment de la force aérodynamique ne compense pas le moment du poids et le cerf-volant tombe sans osciller. La troisième instabilité apparait quand les suspentes arrières sont trop écartées l'une de l'autre. Dans ce cas, les fréquences propres de l'oscillation en grand roulis et de l'oscillation en lacet se rapprochent. L'instabilité est alors similaire à l'instabilité de flottement d'une aile d'avion : les modes de lacet et de grand roulis se couplent et l'amplitude de l'oscillation augmente exponentiellement jusqu'à la chute du cerf-volant.

Cette étude nous a permis d'avoir une meilleure compréhension des contraintes à prendre en compte dans la fabrication de cerf-volants de propulsion. En particulier le fait que la géométrie du cerf-volant n'est pas le seul paramètre à prendre en compte dans la conception. Il est nécessaire que la fixation sur le pont du navire soit adaptée pour que le cerf-volant reste stable. Les suspentes arrières ne doivent pas être fixées ni trop proches ni trop éloignées l'une de l'autre. Il semble tout de même que l'augmentation de taille et en particulier la réduction de l'inertie de l'aile aide à la stabilité. L'aile autostable présentée en dans la figure 11c page 20 oscille en vol dans un mouvement qui ressemble à du flottement, mais les amplitudes restent très faibles. Cette observation permet d'être très optimiste quant à l'utilisation de cerf-volants autostables comme moyen de propulsion d'appoint ou de sécurité sur les petites embarcations.

3.2 Perspectives

3.2.1 Repliement

Notre étude du comportement des structures gonflables s'est concentrée sur le déploiement de ces structures. Il est en effet important que les cerf-volants puissent décoller de manière autonome. Il est également important que ces cerf-volants puissent se replier et être stockés de manière automatisée.

Une solution potentiellement intéressante à étudier pour ce repliement serait la mise en place dans le boudin principal du cerf-volant d'une structure à double pré-courbure comme présentée sur le schéma 3.1a. Ce type de structure est aujourd'hui utilisé pour fabriquer ces bandes réfléchissantes qui s'enroulent autour de la cheville pour le vélo (figure 3.1b). Il s'agit d'une plaque allongée ayant une pré-courbure de rayon de courbure R_1 parallèle à la grande dimension de la tige. La plaque possède une deuxième pré-courbure, d'axe perpendiculaire à la première et de rayon R_2 . Ces deux courbures ne sont pas compatibles et la plaque a deux positions d'équilibre différentes visibles sur le schéma 3.1b.

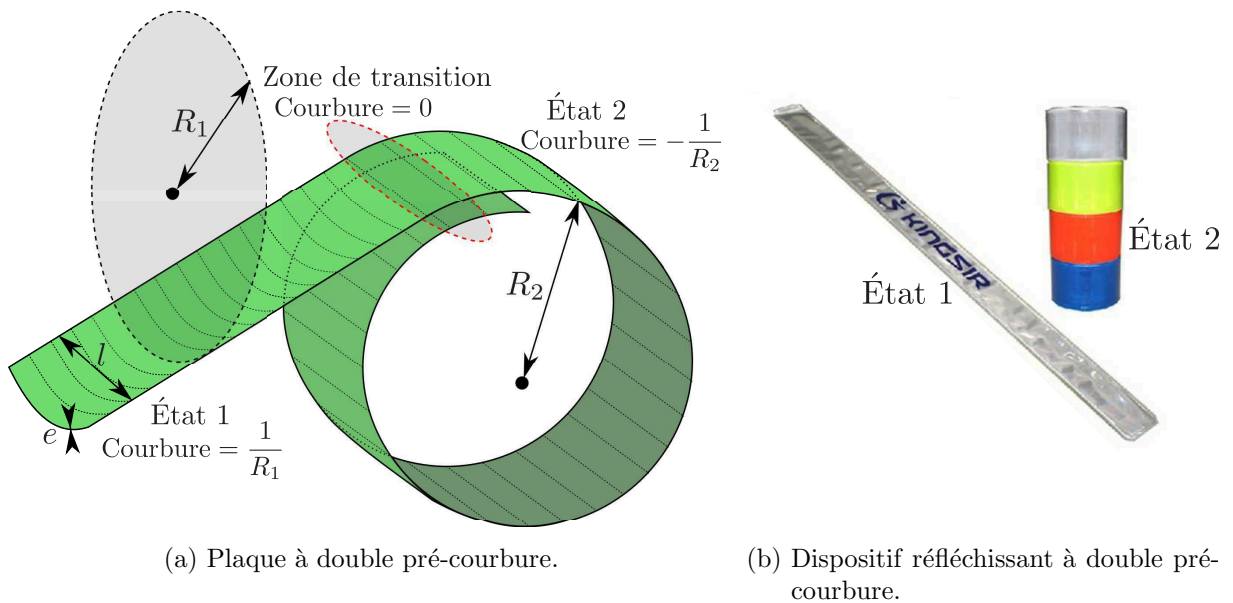


FIGURE 3.1 – Schéma et exemple de dispositif à double courbure

Le premier état d'équilibre est la partie gauche du schéma : la tige est droite et incurvée avec un rayon de courbure R_1 . Cet état contraint le matériau qui ne peut pas se plier dans l'autre direction. L'énergie de cet état par unité de longueur est donc :

$$\mathcal{E}_1 \approx \frac{Ee^3l}{R_1^2} \quad (3.1)$$

Le deuxième état d'équilibre est la tige enroulée avec un rayon de courbure R_2 visible sur la droite du schéma. Cet état contraint le matériau qui ne peut pas se plier dans l'autre direction. L'énergie de cet état par unité de longueur est donc :

$$\mathcal{E}_2 \approx \frac{Ee^3l}{R_1^2} \quad (3.2)$$

Si $R_2 > R_1$, le deuxième état est plus stable que le premier car $\mathcal{E}_2 > \mathcal{E}_1$. Si on impose à une partie de la plaque de n'avoir aucune courbure, la plaque va naturellement se courber dans la direction la plus stable et aller vers l'état 2, or le passage d'une zone de l'état 2 à l'état 1 impose une zone sans aucune courbure. C'est pourquoi, quand une partie de la plaque est dans l'état 2, cet état se propage à toute la plaque.

En incorporant une plaque de ce type au boudin principal d'un cerf-volant, la pression du gonflage permet de faire passer de l'état 2 à l'état 1. La plaque permet d'augmenter significativement la résistance du boudin au comportement fragile réversible en donnant à la membrane une résistance à la compression. Lorsqu'on veut replier le cerf-volant, il suffit d'enclencher le passage de l'état 1 à l'état 2 à l'extrémité de l'aile et celle-ci se replie intégralement seule. Pour dimensionner cette plaque, il faut que celle-ci puisse supporter le poids du cerf-volant sur la longueur d'un rayon de courbure. Les caractéristiques de la plaque doivent suivre la loi suivante :


$$\frac{Ee^3l}{R_2^2} \approx mgR_2 \quad (3.3)$$

Pour un cerf-volant de 100 m d'envergure pesant 10 kg.m^{-1} , une plaque de fibre de carbone ($E \approx 10^{11} \text{ Pa}$) ayant un rayon de courbure $R_2 = 1 \text{ m}$, une largeur $l = 10 \text{ cm}$ et une épaisseur $e = 2 \text{ mm}$ serait suffisante. Cela correspond à une plaque pesant moins de 100 kg, soit 10% de la masse de l'aile...

3.2.2 Vol des multi-kites

Une idée imaginée par Pockock en 1826 pour augmenter la traction d'un système utilisant des cerf-volants est simplement de les multiplier. L'idée est d'attacher plusieurs cerf-volants sur une même ligne de manière à augmenter la traction sans augmenter l'encombrement. Un tel système a aussi l'avantage d'être très versatile. En effet, dans le cas où le vent est trop fort, il est possible de n'utiliser qu'un faible nombre de cerf-volants. Cela permet d'avoir un seul dispositif pour toutes les conditions de vent.

Nous avons mené une étude sur ces structures comportant plusieurs cerf-volants dans cette optique d'amélioration de la traction. Nous avons découvert une propriété intéressante de ces



(a) Train de cinq cerf-volants de type 3 statique dans l'écoulement. (b) Train de deux cerf-volants de type 3 dans un mouvement de forte amplitude.

FIGURE 3.2 – Deux configurations de multi-kites

multi-kites : ajouter plusieurs cerf-volants sur les mêmes lignes semble beaucoup augmenter la stabilité du vol. En empilant entre deux et cinq cerf-volants identiques (figure 3.2a), l'instabilité de flottement observée pour le cerf-volant seul disparaît la plupart du temps. Il arrive cependant qu'on observe des comportements fortement couplés entre deux cerf-volants comme le montre la figure 3.2b.

La dynamique des trains de cerf-volants est complexe et nécessiterait une étude détaillée pour comprendre leurs comportements variés.

« The answer my friend, is blowing in the wind. »

Bob Dylan

Annexe A

Loi de Betz

Le vent, quand il traverse l'éolienne est ralenti. Par conservation de la masse, plus le flux d'air est ralenti, moins le débit est important dans l'éolienne. Au contraire, moins le flux d'air est ralenti, moins l'éolienne a récupéré d'énergie. Il existe donc un optimum d'extraction d'énergie. Celui-ci est donné par la loi de Betz et correspond à une extraction de l'ordre de 60% de la puissance incidente.

Pour prouver cela, on s'intéresse à la configuration présentée sur le schéma A.1. On effectuera plusieurs hypothèses :

- L'air est considéré incompressible ($Ma \ll 1$)
- L'écoulement est unidirectionnel ($U_y \ll U_x$ et $U_z \ll U_x$)

Une masse d'air arrive sur un dispositif de récupération d'énergie de section A avec une vitesse U_1 . On ne considère que le volume d'air passant par l'éolienne. L'air passant par l'éolienne sera

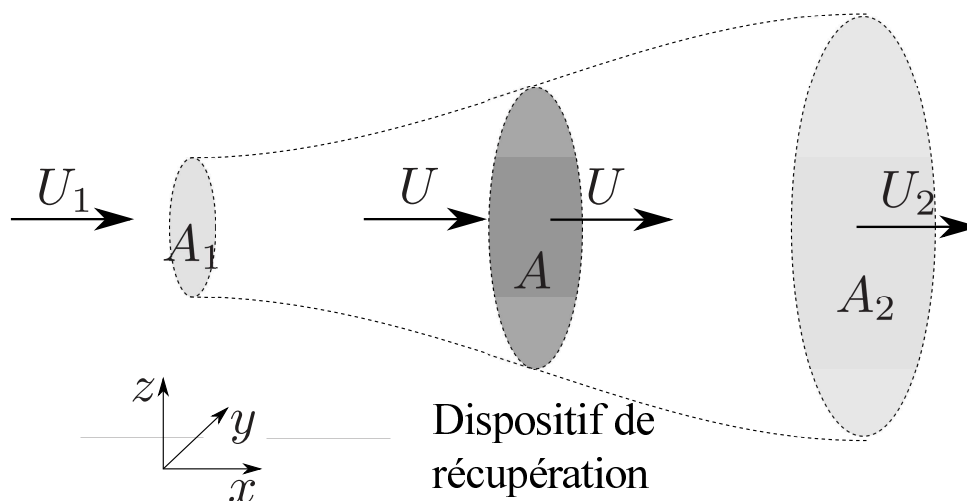


FIGURE A.1 – Schéma d'un tube de courant passant à travers un dispositif de récupération d'énergie.

ralenti par celle-ci. On note U la vitesse de l'écoulement en entrée et en sortie du dispositif. On note U_2 la vitesse à l'infini en aval du dispositif. La condition d'incompressibilité et la conservation du débit imposent ces conditions sur les sections traversées par l'écoulement en amont (A_1) et en aval (A_2) du dispositif :

$$\dot{m} = \rho A_1 U_1 = \rho A U = \rho A_2 U_2 \quad (\text{A.1})$$

Intéressons nous maintenant à la puissance donnée par l'écoulement au dispositif. La force exercée par l'écoulement sur le dispositif est donnée par l'opposé de la variation de quantité de mouvement de l'écoulement.

$$F = \dot{m}(U_1 - U_2) \quad (\text{A.2})$$

Cette force s'applique alors que l'écoulement se déplace à une vitesse U . La puissance maximale récupérée par le dispositif est donc :

$$P_{max} = \rho A U^2 (U_1 - U_2) \quad (\text{A.3})$$

Dans le même temps, la variation de la puissance de l'écoulement vaut :

$$P_1 - P_2 = P_{max} = \frac{1}{2} \rho (A_1 U_1^3 - A_2 U_2^3) \quad (\text{A.4})$$

On obtient donc :

$$\frac{1}{2} (A_1 U_1^3 - A_2 U_2^3) = A U^2 (U_1 - U_2) \quad (\text{A.5})$$

$$\frac{1}{2} (U_1^2 - U_2^2) = U (U_1 - U_2) \quad (\text{A.6})$$

Soit :

$$U = \frac{U_1 + U_2}{2} \quad (\text{A.7})$$

Il en résulte :

$$P_{max} = \frac{1}{2}\rho AU_1^3 \left(\frac{1}{2} \left(1 + \left(\frac{U_2}{U_1} \right) - \left(\frac{U_2}{U_1} \right)^2 - \left(\frac{U_2}{U_1} \right)^3 \right) \right) \quad (\text{A.8})$$

L'efficacité ζ du dispositif vaut :

$$\zeta = \frac{P}{\frac{1}{2}\rho AU_1^3} < \frac{P_{max}}{\frac{1}{2}\rho AU_1^3} = \frac{1}{2} \left(1 + \left(\frac{U_2}{U_1} \right) - \left(\frac{U_2}{U_1} \right)^2 - \left(\frac{U_2}{U_1} \right)^3 \right) \quad (\text{A.9})$$

La valeur maximale de ζ est atteinte pour $U_2/U_1 = 1/3$ et vaut :

$$\zeta_{max} = \frac{16}{27} \approx 0.6 \quad (\text{A.10})$$

Annexe B

Membranes fines

Énergie de compression pour un déplacement δ :

$$E_{compression} \approx ER e \frac{\delta^2}{L} \quad (\text{B.1})$$

Energie de flexion pour un déplacement δ

$$E_{flexion} \approx ER e^3 \frac{\delta}{L^2} \quad (\text{B.2})$$

Le rapport de ces deux énergies vaut :

$$\frac{E_{compression}}{E_{flexion}} = \frac{\delta L}{e^2} \quad (\text{B.3})$$

La compression est privilégiée pour les petits déplacements et la flexion pour les grands déplacements. Il est à noter que pour des membranes fines ($\frac{e}{L} \ll 1$), la flexion est privilégiée si $\frac{\delta}{e} > \frac{L}{e}$ et donc même dans des cas où $\frac{\delta}{e} \gg 1$. On peut par extension considérer que pour toutes les déformations significatives, la flexion est privilégiée et qu'une membrane fine flambe dès qu'elle est soumise à des contraintes de compression.

Annexe C

Justification du modèle à une ligne

Le système étudié est présenté dans le schéma C.1. Le segment de $[A_1A_2]$ de longueur b , de masse M est attaché au sol en O_1 et O_2 par des suspentes de longueur l_1 et l_2 qui restent tendues. L'angle formé par ce segment avec l'horizontale est noté α . Les angles des suspentes avec la verticale sont notés θ_1 et θ_2 . Le milieu de $[A_1A_2]$ est noté A et le milieu de $[O_1O_2]$ est noté O . Le segment $[OA]$ a une longueur l et forme un angle θ avec la verticale.

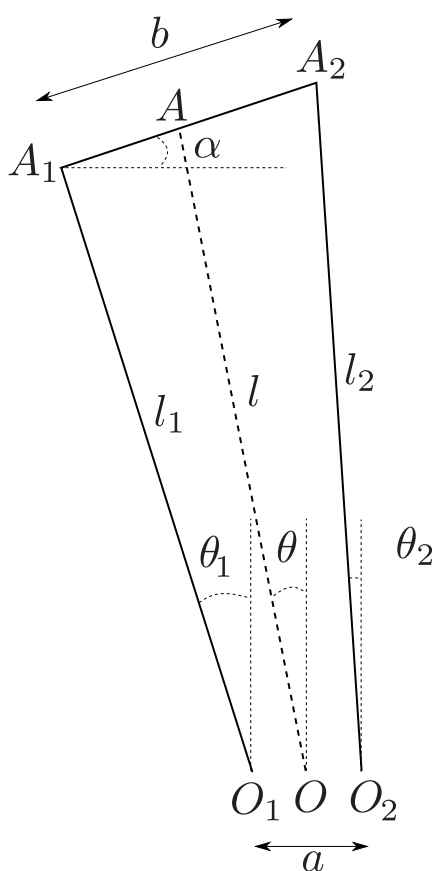


FIGURE C.1 – Schéma de la configuration décrite

On se place dans les conditions suivantes :

$$\left\{ \begin{array}{l} \alpha \ll 1 \\ l_1 \approx l_2 \\ l_1 \gg a \\ l_1 \gg b \end{array} \right. \quad (\text{C.1})$$

C.1 Faible variation de l

Le mouvement du point A peut s'écrire :

$$d\mathbf{OA} = \frac{1}{2} (d\mathbf{O}_1\mathbf{A}_1 + d\mathbf{O}_2\mathbf{A}_2) \quad (\text{C.2})$$

Soit :

$$d\mathbf{OA} = \frac{1}{2} (d\theta_1 l_1 \mathbf{e}_{\theta_1} + d\theta_2 l_2 \mathbf{e}_{\theta_2}) \quad (\text{C.3})$$

En projetant cette relation sur \mathbf{e}_1 , on obtient :

$$dl = -\frac{1}{2} (d\theta_1 l_1 \sin(\theta - \theta_1) + d\theta_2 l_2 \sin(\theta - \theta_2)) \quad (\text{C.4})$$

Les conditions C.1 permettent d'écrire :

$$\left\{ \begin{array}{l} \sin(\theta - \theta_1) \approx \sin(\theta_2 - \theta) \approx \frac{b-a}{2l} \\ d\theta_1 l_1 \approx d\theta_2 l_2 \approx d\theta l \end{array} \right. \quad (\text{C.5})$$

Cela donne donc :

$$\frac{1}{l} \frac{dl}{d\theta} \approx \frac{b-a}{2l} \ll 1 \quad (\text{C.6})$$

La variation relative de l est donc faible par rapport à la variation relative de θ . Le mouvement du point A est donc proche d'un mouvement de rotation.

Annexe D

Sensibilité de ϕ_{eq} à l_{ar}

L'équation 2.67 nous donne la relation entre l'angle d'incidence α et l'angle de grand tangage ϕ

$$\alpha \approx \alpha(0) + \left(1 - \frac{\Delta x}{c}\right) \phi \quad (\text{D.1})$$

Fixer la longueur des suspentes arrières l_g revient à fixer la valeur de $\alpha(0)$ ce qui donne :

$$\alpha \approx \frac{L_a - l_{ar}}{c} + \left(1 - \frac{\Delta x}{c}\right) \phi \quad (\text{D.2})$$

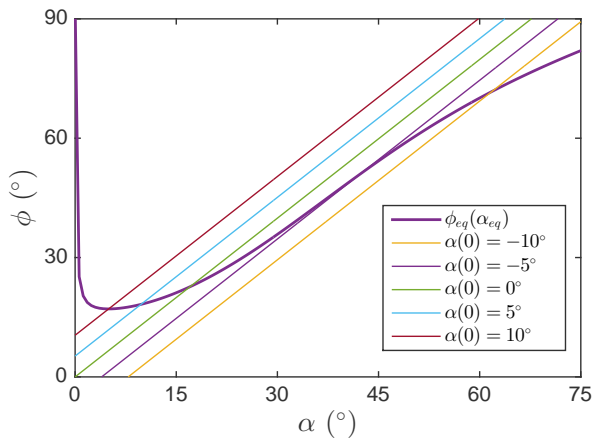
La position d'équilibre du cerf volant est l'intersection de la courbe $\alpha(\phi)$ qui est fixée par la géométrie et de la courbe $\alpha_{eq}(\phi_{eq})$ donnée par l'aérodynamique selon la relation :

$$\tan \phi_{eq} = \frac{c_D(\alpha_{eq})}{c_L(\alpha_{eq})} \quad (\text{D.3})$$

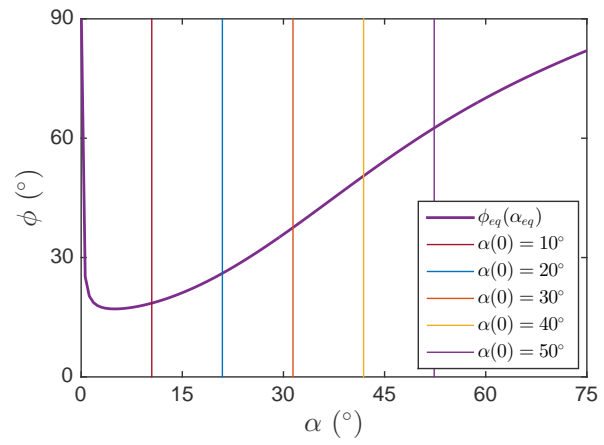
On trace sur la figure D.1 cette relation pour plusieurs valeurs de $\Delta x/c$.

Pour $\Delta x/c = 0.25$, une variation de $\alpha(0)$ de 10° (soit une variation de l_{ar} de $0.15c$) entraîne une variation de ϕ_{eq} de 50° . Cela confirme que le paramètre l_{ar} est très sensible pour les petites valeurs de Δx .

Pour $\Delta x/c = 1$, l'effet est moins sensible et pour une variation de 40° (soit une variation de l_{ar} de $0.6c$) entraîne une variation de ϕ_{eq} de 40° .



(a) Angle ϕ en fonction de α pour différentes valeurs de $\alpha(0)$ pour $\Delta x/c = 0.25$. La courbe en trait épais est $\phi_{eq}(\alpha_{eq})$.



(b) Angle ϕ en fonction de α pour différentes valeurs de $\alpha(0)$ pour $\Delta x/c = 1$. La courbe en trait épais est $\phi_{eq}(\alpha_{eq})$.

FIGURE D.1 – Effet de l_{ar} sur la position d'équilibre pour différentes valeurs de $\Delta x/c$

Annexe E

Remarque sur l'effet de la vitesse relative du cerf-volant

Dans toute notre étude, nous avons négligé l'effet de la vitesse relative du cerf-volant. Celle-ci doit avoir un effet sur l'amortissement du système. Si cette friction est positive, le mouvement du cerf-volant doit être amorti. Au contraire, si la friction est négative, les oscillations sont auto-entretenues et peuvent diverger.

La vitesse du cerf-volant s'écrit :

$$\mathbf{U}_{\text{kite}} = L\dot{\phi} \cos \phi \mathbf{e}_x - L\dot{\phi} \sin \phi \mathbf{e}_z \quad (\text{E.1})$$

Le vent apparent U pour le cerf-volant vaut $\mathbf{U}_0 - \mathbf{U}_{\text{kite}}$ soit :

$$\mathbf{U} = (U_0 - L\dot{\phi} \cos \phi) \mathbf{e}_x + L\dot{\phi} \sin \phi \mathbf{e}_z \quad (\text{E.2})$$

L'effet de la différence entre le vent réel \mathbf{U}_0 et le vent apparent \mathbf{U} se ressent à deux niveaux. Le premier effet est que la norme de la vitesse ressentie par le cerf-volant change et modifie donc la force aérodynamique. Le deuxième effet est que la direction du vent apparent est différente de celle du vent réel. L'angle d'incidence du cerf-volant est donc différent et la force aérodynamique varie.

$$\begin{cases} \mathbf{U}^2 = U_0^2 - 2U_0L\dot{\phi} \cos \phi_{eq} + O(\dot{\phi}^2) \\ \alpha = \alpha_0 + \frac{L\dot{\phi} \sin \phi_{eq}}{U_0} + O(\dot{\phi}^2) \end{cases} \quad (\text{E.3})$$

$$\begin{cases} \left. \frac{\partial F_L}{\partial \dot{\phi}} \right|_0 = \frac{1}{2} \rho A \left(c_L \frac{\partial U^2}{\partial \dot{\phi}} + U_0^2 \frac{\partial c_L}{\partial \alpha} \frac{\partial \alpha}{\partial \dot{\phi}} \right) \\ \left. \frac{\partial F_D}{\partial \dot{\phi}} \right|_0 = \frac{1}{2} \rho A \left(c_D \frac{\partial U^2}{\partial \dot{\phi}} + U_0^2 \frac{\partial c_D}{\partial \alpha} \frac{\partial \alpha}{\partial \dot{\phi}} \right) \end{cases} \quad (\text{E.4})$$

$$\begin{cases} \left. \frac{\partial F_L}{\partial \dot{\phi}} \right|_0 = \frac{1}{2} \rho A U_0 L \left(-2c_L \cos \phi_{eq} + \frac{\partial c_L}{\partial \alpha} \sin \phi_{eq} \right) \\ \left. \frac{\partial F_D}{\partial \dot{\phi}} \right|_0 = \frac{1}{2} \rho A U_0 L \left(-2c_d \cos \phi_{eq} + \frac{\partial c_d}{\partial \alpha} \sin \phi_{eq} \right) \end{cases} \quad (\text{E.5})$$

$$\begin{aligned} \left. \frac{\partial \Gamma}{\partial \dot{\phi}} \right|_0 &= \frac{1}{2} \rho A U_0 L^2 \left(2 \cos \phi_{eq} (c_L \sin \phi_{eq} - c_D \cos \phi_{eq}) \right. \\ &\quad \left. + \sin \phi_{eq} \left(\frac{\partial c_D}{\partial \alpha} \cos \phi_{eq} - \frac{\partial c_L}{\partial \alpha} \sin \phi_{eq} \right) \right) \end{aligned} \quad (\text{E.6})$$

$$\tan \phi_{eq} = \frac{F_D}{F_L - M_K g} \quad (\text{E.7})$$

$$\left. \frac{\partial \Gamma}{\partial \dot{\phi}} \right|_0 = \frac{M_K g}{2U_0} \sin 2\phi_{eq} \quad (\text{E.8})$$

Or $\tan \phi_{eq} \approx \frac{F_D}{F_L - M_K g}$. Dans la limite des grandes vitesses d'écoulement, $M_K g \ll F_L$, on a donc $\tan \phi_{eq} \approx \frac{c_D}{c_L}$. On peut écrire la valeur de λ_ϕ :

$$\lambda_\phi = -\frac{\rho A U_0}{4M_K} \sin 2\phi_{eq} \left(\frac{\partial c_D}{\partial \alpha} - \frac{c_D}{c_L} \frac{\partial c_L}{\partial \alpha} \right) \quad (\text{E.9})$$

Si l'on trace λ_ϕ en fonction de α , on obtient la figure [E.1](#). Le coefficient de friction de l'équation est négatif pour toutes les valeurs de α expérimentales. Cela peut expliquer qu'on observe des oscillations dans toutes les configurations de vol qui peuvent atteindre des amplitudes importantes. L'apparition d'un cycle limite est due à des termes d'ordre supérieur et n'est pas traitée ici.

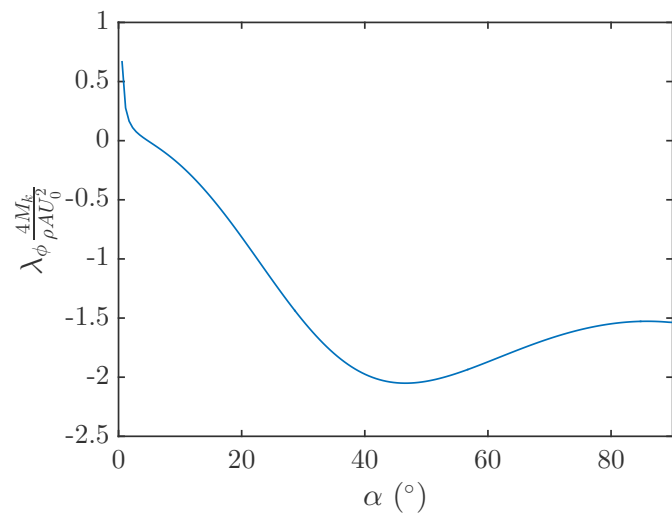


FIGURE E.1 – Coefficient de friction en fonction de l'angle d'incidence

Annexe F

Correction de l'envergure

Les forces aérodynamiques déforment le cerf-volant lorsqu'il est en vol, en particulier, les extrémités de celui-ci se rapprochent. Ainsi, l'envergure apparente s_c du cerf-volant est plus faible que l'envergure réelle s .

Pour avoir une bonne idée de la forme du cerf-volant et de la variation de l'envergure avec la vitesse de l'écoulement, nous modélisons le cerf-volant comme une poutre de section variable soumise à un chargement aérodynamique constant par unité de surface. Le schéma du problème résolu est donné sur la figure F.1.

L'équation de l'équilibre d'une portion de la poutre est

$$EI \frac{d\theta}{du} = \mathcal{M}_q + \mathcal{M}_t \quad (\text{F.1})$$

avec \mathcal{M}_q le moment dû au chargement aérodynamique et \mathcal{M}_t le moment dû au chargement de la suspente. Ce chargement est une inconnue du problème.

$$\mathcal{M}_t = t(y - y(s/2)) \quad (\text{F.2})$$

En dérivant deux fois l'équation F.1, on obtient :

$$\frac{d}{du^2} \left(EI \frac{d\theta}{du} \right) = q - t \frac{d\theta}{du} \sin \theta \quad (\text{F.3})$$

Le moment d'inertie I dépend de la corde de l'aile à l'abscisse u comme il suit :

$$I(u) = \frac{Ec^3}{12} c(u) \quad (\text{F.4})$$

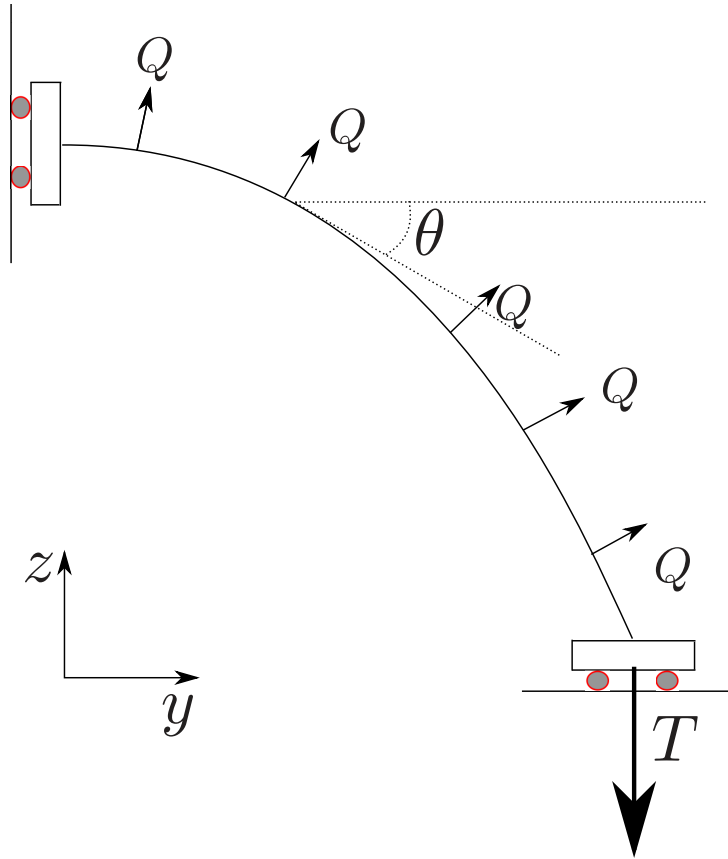


FIGURE F.1 – Schéma du problème résolu numériquement. Q est le chargement aérodynamique adimensionné et T est la tension due à la suspenste adimensionnée.


avec

$$c(u) = c \left(1.01 - 4 \frac{u^2}{s^2} \right) \quad (\text{F.5})$$

La valeur 1.01 au lieu de 1 évite la divergence du solveur d'équation différentiel utilisé. Le chargement aérodynamique q dépend de l'abscisse comme il suit :

$$q(u) = \frac{1}{2} \rho c_N U_0^2 c(u) \quad (\text{F.6})$$

Dans la résolution, on approximera $c_N = c_L^2 + c_D^2$ de l'aile à 1. Le centre de poussée aérodynamique du cerf-volant est proche du milieu de la corde. On approxime alors le chargement aérodynamique sur les suspenste arrières à la moitié du chargement sur l'aile. Pour la résolution du problème, le paramètre utilisé pour résoudre le système est donc $c_N = 0.5$. Le système d'équation que nous résolvons est le suivant :



(a) $U_0 = 5.5 \text{ m.s}^{-1}$



(b) $U_0 = 8 \text{ m.s}^{-1}$



(c) $U_0 = 11.5 \text{ m.s}^{-1}$

FIGURE F.2 – Photos du cerf-volant de type 3 vu de derrière (yOz) comparé à la forme prédite par la simulation

$$\begin{cases} \frac{d^3\theta}{du^3} = Q - \frac{1}{c(u)} \left(2 \frac{dc}{du} \frac{d^2\theta}{du^2} + \frac{d^2c}{du^2} \frac{d\theta}{du} + T \frac{d\theta}{du} \sin \theta \right) \\ \frac{dy}{du} = \cos \theta \\ \frac{dz}{du} = \sin \theta \end{cases} \quad (\text{F.7})$$

avec

$$Q = \frac{6\rho c_N U_0^2}{Ee^3} \quad (\text{F.8})$$

et

$$T = \frac{12t}{Ee^3} \quad (\text{F.9})$$

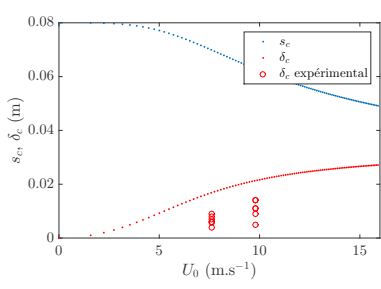
Avec les conditions aux limites suivantes :

$$\left. \begin{cases} \theta(0) = 0 \\ \frac{d^2\theta}{ds^2}(0) = 0 \\ y(0) = 0 \end{cases} \right\} \text{Condition de symétrie} \quad (\text{F.10})$$

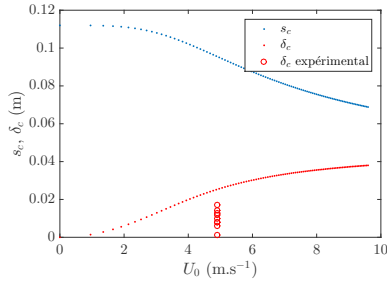
$$\left. \begin{cases} \frac{d\theta}{ds}(s/2) = 0 \\ \frac{dy}{ds}(s/2) = -\frac{T}{c(s/2)} \cos \theta(s/2) \\ z(s/2) = 0 \end{cases} \right\} \text{Force verticale à l'extrémité}$$

Nous utilisons le solveur bvp4c de matlab. La figure F.2 compare la forme obtenue à la forme d'un cerf-volant utilisé dans les mêmes conditions. Il semble que notre simulation surestime la déformation du cerf-volant en profondeur.

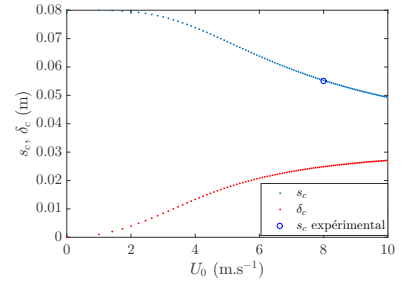
La figure F.3 montre l'évolution du creusement du cerf-volant δ_c et de l'envergure effective s_c en fonction de la vitesse du vent pour les cerf-volants de type 1 F.3a, 2 F.3b et 3 F.3c. Ces valeurs



(a) Cerf-volant de type 1



(b) Cerf-volant de type 2



(c) Cerf-volant de type 3

FIGURE F.3 – Valeurs simulées de s_c et δ_c en fonction de la vitesse de l'écoulement pour les différents cerf-volants utilisés

sont comparées à des valeurs expérimentales. Il semble que notre modèle surestime le creusement et prédit relativement bien la valeur de s_c .

Annexe G

Algorithme d'obtention de ω_ψ , ω_χ , γ et δ

G.1 Paramètres d'entrée

Les paramètres d'entrée du programme sont :

- Caractéristiques du cerf-volant : c , s , M_K , J
- Longueur de la suspente avant : L_a
- Paramètres de fixation : Δx et Δy
- Angle de grand tangage d'équilibre : ϕ_{eq}
- Vitesse du vent : U_0

G.2 Initialisation

On commence par initialiser les paramètres de la position d'équilibre

- À partir du modèle des polaires calculé dans la partie 2.6.2, on calcule l'angle d'incidence α_{eq} correspondant à l'angle de grand tangage ϕ_{eq} .
- L'angle α_{eq} ainsi calculé permet de déterminer la longueur L ainsi que la longueur des suspentes arrières L_g et L_d .
- La position du cerf-volant et la position des suspentes étant connues, nous calculons la tension dans chaque suspente t_a , t_g et t_d .

G.3 Calcul de ω_ψ et δ

G.3.1 Calcul de la configuration déformée

On impose un angle $\psi = 0.01$ rad au cerf-volant en gardant ϕ constant et $\chi = 0$. Puis on calcule les différents paramètres de la configuration déformée :

- Calcul de la longueur L , l'angle α et l'angle β correspondant à cette configuration.
- Calcul de la direction des trois suspentes.

G.3.2 Calcul du moment par rapport à Ox et par rapport à Oz

En considérant que la tension dans les suspentes n'a pas varié, on calcule les moments exercés sur le cerf-volant par rapport aux axes Ox (\mathcal{M}_x) et Oz (\mathcal{M}_z).

On déduit ω_ψ et δ à partir des formules :

$$\begin{cases} \omega_\psi^2 = -\frac{\mathcal{M}_x}{(m(L \cos \phi)^2 \psi)} \frac{1}{\psi} \\ \delta = -\frac{\mathcal{M}_z}{J_z} \frac{1}{\psi} \end{cases} \quad (\text{G.1})$$

G.4 Calcul de ω_χ et γ

G.4.1 Calcul de la configuration déformée

On impose un angle $\chi = 0.01$ rad au cerf-volant en gardant ϕ constant et $\psi = 0$. Puis on calcule les différents paramètres de la configuration déformée :

- Calcul de la longueur L , l'angle α et l'angle β correspondants à cette configuration.
- Calcul de la direction des trois suspentes.

G.4.2 Calcul du moment par rapport à Ox et par rapport à Oz

En considérant que la tension dans les suspentes n'a pas varié, on calcule les moments exercés sur le cerf-volant par rapport aux axes Ox \mathcal{M}_x et Oz \mathcal{M}_z .

On déduit ω_χ et γ à partir des formules :

$$\begin{cases} \omega_\chi^2 = -\frac{\mathcal{M}_z}{(m(L \cos \phi)^2)} \frac{1}{\chi} \\ \gamma = -\frac{\mathcal{M}_x}{J_z} \frac{1}{\chi} \end{cases} \quad (\text{G.2})$$

Bibliographie

- [1] Clive Hart. *Kites, an historical survey*. Paul P Appel Pub, 1982.
- [2] <http://archive.wikiwix.com/cache/?url=http%3A%2F%2Fwww.chine-informations.com%2Fguide>
- [3] Benjamin Franklin. A letter of benjamin franklin, esq ; to mr. peter collinson, frs concerning an electrical kite. *Philosophical Transactions (1683-1775)*, 47 :565–567, 1751.
- [4] Tom Tucker. *Bolt of fate : Benjamin Franklin and his electric kite hoax*. PublicAffairs, 2005.
- [5] George Pocock. *The Aeropleustic Art Or Navigation in the Air, by the Use of Kites Or Buoyant Sails*. Sherwood & Company, 1827.
- [6] Peter R Payne and Charles McCutchen. Self-erecting windmill, October 26 1976. US Patent 3,987,987.
- [7] <http://www.chronofhorse.com/article/world-endurance-record-broken>.
- [8] Adrian E Gill. *Atmosphere-ocean dynamics*, volume 30. Academic press, 1982.
- [9] <https://www.windyty.com>.
- [10] Cristina L Archer and Mark Z Jacobson. Evaluation of global wind power. *Journal of Geophysical Research : Atmospheres*, 110(D12), 2005.
- [11] Xi Lu, Michael B. McElroy, and Juha Kiviluoma. Global potential for wind-generated electricity. *Proceedings of the National Academy of Sciences*, 106(27) :10933–10938, 2009.
- [12] Alexander N Gorban, Alexander M Gorlov, and Valentin M Silantyev. Limits of the turbine efficiency for free fluid flow. *Journal of energy resources technology*, 123(4) :311–317, 2001.
- [13] N Jenkins T Burton, D Sharpe. *Wind energy : handbook*. Wiley Library, 2001.
- [14] SA Hsu, Eric A Meindl, and David B Gilhousen. Determining the power-law wind-profile exponent under near-neutral stability conditions at sea. *Journal of Applied Meteorology*, 33(6) :757–765, 1994.

- [15] Hans A Panofsky and John A Dutton. Atmospheric turbulence : models and methods for engineering applications. In *Atmospheric turbulence : models and methods for engineering applications*. John Wiley & Sons, 1984.
- [16] Uwe Fechner and Roland Schmehl. Model-based efficiency analysis of wind power conversion by a pumping kite power system. In *Airborne wind energy*, pages 249–269. Springer, 2013.
- [17] Damon Vander Lind. Analysis and flight test validation of high performance airbornewind turbines. In *Airborne Wind Energy*, pages 473–490. Springer, 2013.
- [18] <http://www.eagle.org>.
- [19] <http://www.intership-cyprus.com/laker-class>.
- [20] <http://www.socarenam.fr/navire-detail-PECHE-3-05-612.html>.
- [21] <http://www.marinetraffic.com/>.
- [22] <http://www.discover-earth.org>.
- [23] <http://www.fao.org/docrep/005/x0487f/x0487f04.htm>.
- [24] David J Acheson. *Elementary fluid dynamics*. Oxford University Press, 1990.
- [25] Frank Rizzo. The flettner rotor ship in the light of the kutta-joukowski theory and of experimental results. 1925.
- [26] Ludwig Prandtl. Application of the” magnus effect” to the wind propulsion of ships. 1926.
- [27] enercon. http://www.ship-efficiency.org/onTEAM/pdf/06-STG_Ship_Efficiency_2013_100913_Paper
- [28] BL Blackford. A push-me pull-you wind vehicle. *American Journal of Physics*, 49(3) :282–283, 1981.
- [29] M Gaunaa, S Øye, and R Mikkelsen. Theory and design of flow driven vehicles using streamwise-axis rotors for energy conversion. Technical report, Risø Technical Report. Risø.
- [30] Magnus Landberg. <http://minesto.com/deep-green/>.
- [31] Skysails. <http://www.skysails.info/>.
- [32] Moritz Diehl. Airborne wind energy : Basic concepts and physical foundations. In *Airborne Wind Energy*, pages 3–22. Springer, 2013.
- [33] Robert C Nelson. *Flight stability and automatic control*, volume 2. WCB/McGraw Hill, 1998.
- [34] <http://www.omegasails.net/>.

- [35] WB Fichter. *A theory for inflated thin-wall cylindrical beams*. National Aeronautics and Space Administration, 1966.
- [36] RE Freeland, GD Bilyeu, GR Veal, MD Steiner, and DE Carson. Large inflatable deployable antenna flight experiment results. *Acta Astronautica*, 41(4) :267–277, 1997.
- [37] RL Comer and Samuel Levy. Deflections of an inflated circular-cylindrical cantilever beam. *AIAA journal*, 1(7) :1652–1655, 1963.
- [38] Galileo Galilei. *Dialogues concerning two new sciences*. Dover, 1914.
- [39] Ivan Stephen Sokolnikoff, Robert Dickerson Specht, et al. *Mathematical theory of elasticity*, volume 83. McGraw-Hill New York, 1956.
- [40] GR Cowper. The shear coefficient in timoshenko’s beam theory. *Journal of applied mechanics*, 33(2) :335–340, 1966.
- [41] Jean-Jacques Marigo. *Plasticité et rupture*. 2012.
- [42] Rodney Hill. *The mathematical theory of plasticity*, volume 11. Oxford university press, 1998.
- [43] A Hi Cottrell. Theory of brittle fracture in steel and similar metals. *Trans. Met. Soc. AIME*, 212, 1958.
- [44] Ferdinand P Beer and E Russell Johnston Jr. *Mechanics of Materials*. McGraw-Hill, New York, 2009.
- [45] Christian Wielgosz and J-C Thomas. Deflections of inflatable fabric panels at high pressure. *Thin-walled structures*, 40(6) :523–536, 2002.
- [46] JA Main, SW Peterson, and AM Strauss. Load-deflection behavior of space-based inflatable fabric beams. *Journal of Aerospace Engineering*, 7(2) :225–238, 1994.
- [47] John A Main, Steven W Peterson, and Alvin M Strauss. Beam-type bending of space-based inflated membrane structures. *Journal of Aerospace Engineering*, 8(2) :120–125, 1995.
- [48] Raul Figueiro. *Fibrous and composite materials for civil engineering applications*. Elsevier, 2011.
- [49] Noel K Delany and Norman E Sorensen. Low-speed drag of cylinders of various shapes. 1953.
- [50] Johann Albert Euler. Des cerfs–volans. *Histoire de l’Académie Royale des Sciences et Belles Letters, année*, 1756 :322–64, 1758.

- [51] Georges Juan et al. *Examen maritime, théorique et pratique, ou traité de mécanique, appliqué a la construction et a la manœuvre des vaisseaux & autres bâtiments*, volume 2. Chez Malassis, 1783.
- [52] W Kutta. Lift forces in flowing fluids. *Aeronaut. Mitt*, 3 :133–135, 1902.
- [53] Oskar Karl Gustav Tietjens, Ludwig Prandtl, JP Den Hartog, et al. Applied hydro-and aeromechanics. 1934.
- [54] Milton Van Dyke and Milton Van Dyke. An album of fluid motion. 1982.
- [55] M Shur, PR Spalart, M Strelets, and A Travin. Detached-eddy simulation of an airfoil at high angle of attack. *Engineering turbulence modelling and experiments*, 4 :669–678, 1999.
- [56] Eastman N Jacobs and Albert Sherman. Airfoil section characteristics as affected by variations of the reynolds number. 1937.
- [57] Herrmann Schlichting and Klaus Gersten. *Boundary-layer theory*. Springer Science & Business Media, 2003.
- [58] Patrick Huerre. *Mécanique des fluides*. Édition de l'École Polytechnique, 1998.
- [59] HW Bradford. Study of the subsonic forces and moments on an inclined plate of infinite span. *NACA TN*, 3221, 1954.
- [60] CJ Pennycuik. Flight of auks (alcidae) and other northern seabirds compared with southern procellariiformes : ornithodolite observations. *Journal of Experimental Biology*, 128(1) :335–347, 1987.
- [61] Gottfried Sachs. Minimum shear wind strength required for dynamic soaring of albatrosses. *Ibis*, 147(1) :1–10, 2005.
- [62] Henri Weimerskirch, T Guionnet, J Martin, Scott A Shaffer, and DP Costa. Fast and fuel efficient ? optimal use of wind by flying albatrosses. *Proceedings of the Royal Society of London B : Biological Sciences*, 267(1455) :1869–1874, 2000.
- [63] Robert D Blevins. Flow-induced vibration. 1990.
- [64] Yasuharu Nakamura and Taketo Mizota. Torsional flutter of rectangular prisms. *Journal of the Engineering Mechanics Division*, 101(2) :125–142, 1975.
- [65] Earl Dowell. *A modern course in aeroelasticity*, volume 217. Springer, 2014.
- [66] Frank E Fish. Transitions from drag-based to lift-based propulsion in mammalian swimming. *American Zoologist*, 36(6) :628–641, 1996.

- [67] James Lighthill. *Mathematica biofluidynamics. Society for Industrial & Applied Mathematics, US*, 1975.
- [68] Falko Fritz. Application of an automated kite system for ship propulsion and power generation. In *Airborne Wind Energy*, pages 359–372. Springer, 2013.
- [69] Mario Milanese, Franco Taddei, and Stefano Milanese. Design and testing of a 60 kw yo-yo airborne wind energy generator. In *Airborne Wind Energy*, pages 373–386. Springer, 2013.
- [70] Alexander Bormann, Maximilian Ranneberg, Peter Kövesdi, Christian Gebhardt, and Stefan Skutnik. Development of a three-line ground-actuated airborne wind energy converter. In *Airborne Wind Energy*, pages 427–436. Springer, 2013.
- [71] Thomas Morel. Comprehensive design of axisymmetric wind tunnel contractions. *Journal of Fluids Engineering*, 97(2) :225–233, 1975.
- [72] Rabindra D Mehta and Peter Bradshaw. Design rules for small low-speed wind tunnels, 1979.
- [73] James H Bell and Rabindra D Mehta. Contraction design for small low-speed wind tunnels. 1988.
- [74] Genevieve Comte-Bellot. Hot-wire anemometry. *Annual review of fluid mechanics*, 8(1) :209–231, 1976.
- [75] Arnold Song, Xiaodong Tian, Emily Israeli, Ricardo Galvao, Kristin Bishop, Sharon Swartz, and Kenneth Breuer. Aeromechanics of membrane wings with implications for animal flight. *AIAA journal*, 46(8) :2096–2106, 2008.
- [76] T Sarpkaya. A critical review of the intrinsic nature of vortex-induced vibrations. *Journal of Fluids and Structures*, 19(4) :389–447, 2004.
- [77] CHK Williamson and R Govardhan. Vortex-induced vibrations. *Annu. Rev. Fluid Mech.*, 36 :413–455, 2004.
- [78] Emmanuel De Langre. *Fluides et solides*. Editions Ecole Polytechnique, 2001.
- [79] Aleksandr Mikhailovich Lyapunov. The general problem of the stability of motion. *International Journal of Control*, 55(3) :531–534, 1992.